

TAMILNADU PUBLIC SERVICE COMMISSION V.A.O. EXAMINATION - 2007

TES(T)

வினாத்தாள்
வரிசை

B

பதிவு
எண்

2007

பொது அறிவும் பொதுத் தமிழும்

அனுமதிக்கப்பட்டுள்ள நேரம் : 3 மணி]

[மொத்த மதிப்பெண்கள் : 300

வினாக்களுக்கு பதிலளிக்குமுன் கீழ்க்கண்ட அறிவுரைகளை கவனமாகப் படிக்கவும்

முக்கிய அறிவுரைகள்

- இந்த வினாத் தொகுப்பு ஒரு மேலுறையை (இந்த பக்கத்தை)க் கொண்டுள்ளது. தேர்வு தொடங்கும் நேரத்தில் வினாத்தொகுப்பைத் திறக்கும்படி கண்காணிப்பாளர் கூறும் வரையில் மேலுறையைத் திறக்கக் கூடாது. வினாத்தொகுப்பைத் திறக்கும்படியான செய்கை கண்காணிப்பாளரிடமிருந்து பெற்றவுடன் மேலுறையின் வலதுபுறத்தை கவனமாக கிழித்துத் திறக்க வேண்டும். அதன்பின் கேள்விகளுக்கு விடையளிக்கத் தொடங்கலாம்.
- இந்த வினாத் தொகுப்பு **200** வினாக்களைக் கொண்டுள்ளது.
- எல்லா வினாக்களுக்கும் விடையளிக்கவும். எல்லா வினாக்களும் சமமான மதிப்பெண்கள் கொண்டவை.
- வினாத் தொகுப்பு **A**, **B**, **C** அல்லது **D** என நான்கு வரிசைகளில் அச்சிடப்பட்டுள்ளது. (இந்தப் பக்கத்தின் இடது மேல் மூலையில் உள்ள கட்டத்தைப் பார்க்கவும்) விண்ணப்பதாரர் வினாத்தாள் வரிசையை விடைத்தாளில் அதற்கென அமைந்துள்ள இடத்தில் குறித்துக் காண்பிக்க வேண்டும்.
உதாரணமாக ஒரு விண்ணப்பதாரர் **A** என்னும் வினாத் தொகுப்பு பெற்றிருந்தால் அவர் அதை தன்னுடைய விடைத்தாளின் இரண்டாம் பக்கத்தில் கீழே காண்பித்துள்ளவாறு நீலம் அல்லது கருமை நிற மையுடைய பந்துமுனைப் பேனாவினால் குறித்துக் காட்ட வேண்டும்.

A **B** **C** **D**

- உங்களுடைய பதிவு எண்ணை இந்தப் பக்கத்தின் வலது மேல் மூலையில் அதற்கென அமைந்துள்ள இடத்தில் நீங்கள் எழுத வேண்டும். வேறு எதையும் வினாத் தொகுப்பில் எழுதக் கூடாது.
- விடைகளைக் குறித்துக் காட்ட என, விடைத்தாள் ஒன்று உங்களுக்கு கண்காணிப்பாளரால் தனியாகத் தரப்படும். விடைத்தாளின் முதல் பக்கத்தில் உங்களுடைய பதிவு எண், பெயர் மற்றும் கேட்டுள்ள விபரங்களை நீங்கள் எழுத வேண்டும்:- தவறினால் உங்களது விடைத்தாள் செல்லாததாகக்கப்படும்.
- உங்களுடைய பதிவு எண், தேர்வுத்தாள் எண் முதலியவற்றையும் விடைத்தாளின் இரண்டாம் பக்கத்தில் அவைகளுக்காக அமைந்துள்ள இடங்களில் நீலம் அல்லது கருமை நிற மையுடைய பந்துமுனைப் பேனாவினால் குறித்துக் காட்ட வேண்டும். மேற்கண்ட விபரங்களை விடைத்தாளில் நீங்கள் குறித்துக் காட்டத் தவறினால் உங்கள் விடைத்தாள் செல்லாததாகக்கப்படும்.
- ஒவ்வொரு வினாவும் (A), (B), (C) மற்றும் (D) என நான்கு விடைகளைக் கொண்டுள்ளது. நீங்கள் அவைகளில் ஒரே ஒரு சரியான விடையைத் தேர்வு செய்து விடைத்தாளில் குறித்துக் காட்ட வேண்டும். ஒன்றுக்கு மேற்பட்ட சரியான விடைகள் ஒரு கேள்விக்கு இருப்பதாகக் கருதினால் நீங்கள் மிகச் சரியானது என்று எதைக் கருதுகிறீர்களோ அந்த விடையை விடைத்தாளில் குறித்துக் காட்ட வேண்டும். எப்படியாயினும் ஒரு கேள்விக்கு ஒரே ஒரு விடையைத்தான் தேர்ந்தெடுக்க வேண்டும். உங்களுடைய மொத்த மதிப்பெண்கள் நீங்கள் விடைத்தாளில் குறித்துக் காட்டும் சரியான விடைகளின் எண்ணிக்கையைப் பொறுத்தது.
- விடைத்தாளில் ஒவ்வொரு கேள்வி எண்ணிற்கும் எதிரில் (A), (B), (C) மற்றும் (D) என நான்கு விடைக்கட்டங்கள் உள்ளன. ஒரு கேள்விக்கு விடையளிக்க நீங்கள் சரியென கருதும் விடையை ஒரே ஒரு விடைக்கட்டத்தில் மட்டும் பந்து முனைப் பேனாவினால் குறித்துக் காட்ட வேண்டும். ஒவ்வொரு கேள்விக்கும் ஒரு விடையைத் தேர்ந்தெடுத்து விடைத்தாளில் குறிக்க வேண்டும். ஒரு கேள்விக்கு ஒன்றுக்கு மேற்பட்ட விடையளித்தால் அந்த விடை தவறானதாக கருதப்படும். உதாரணமாக நீங்கள் (B) என்பதை சரியான விடையாகக் கருதினால் அதை பின்வருமாறு குறித்துக் காட்ட வேண்டும்.

A **B** **C** **D**

- நீங்கள் வினாத் தொகுப்பின் எந்தப் பக்கத்தையும் நீக்கவோ அல்லது கிழிக்கவோ கூடாது. தேர்வு நேரத்தில் இந்த வினாத் தொகுப்பினையோ அல்லது விடைத்தாளையோ தேர்வுக் கூடத்தை விட்டு வெளியில் எடுத்துச் செல்லக்கூடாது. தேர்வு முடிந்தபின் நீங்கள் உங்களுடைய விடைத்தாளைக் கண்காணிப்பாளரிடம் கொடுத்து விட வேண்டும். இவ்வினாத் தொகுப்பினைத் தேர்வு முடிந்தவுடன் நீங்கள் உங்களுடன் எடுத்துச் செல்லலாம்.
- குறிப்புகள் எழுதிப் பார்ப்பதற்கு வினாத் தொகுப்பின் கடைசி பக்கத்திற்கு முன்பக்கத்தை உபயோகித்துக் கொள்ளலாம்.
- மேற்கண்ட விதிகளில் எதையாவது மீறினால் தேர்வாணையம் முடிவெடுக்கும் நடவடிக்கைகளுக்கு உள்ளாக நேரிடும் என அறிவுறுத்தப்படுகிறது.
- 1 முதல் 100 வரையிலான வினாக்களில் ஆங்கில வடிவில் கொடுக்கப்பட்டுள்ள குறிப்புகள்தான் முடிவானதாகும்.
- வினாத் தொகுப்பில் விடையை குறியிடவோ, குறிப்பிட்டுக் காட்டவோ கூடாது.

ENGLISH VERSION OF INSTRUCTIONS IS PROVIDED ON THE BACK COVER OF THIS BOOKLET

1. $a : b = 5 : 9$, $b : c = 4 : 7$ எனில், $a : b : c$ -ன் மதிப்புகள் என்ன?

A) 5 : 9 : 7

B) 20 : 36 : 63

C) 10 : 18 : 14

D) 20 : 81 : 63.

If $a : b = 5 : 9$ and $b : c = 4 : 7$, find $a : b : c$.

A) 5 : 9 : 7

B) 20 : 36 : 63

C) 10 : 18 : 14

D) 20 : 81 : 63.

2. ஒரு வட்டத்தின் மையப்புள்ளியிலிருந்து, அதன் ஒரு நாணுக்கு வரையப்படும் செங்குத்துக் கோடு அதனை சம பகுதிகளாகப் பிரிக்கும்.

A) 2

B) 3

C) 4

D) இவற்றில் எதுவும் இல்லை.

The perpendicular drawn from the centre of a circle divides the chord into equal parts.

A) 2

B) 3

C) 4

D) none of these.

3. ஒரு வட்ட நாற்கரத்தின் ஒரு கோணம் 70° எனில் அதன் எதிர்க் கோணம் என்ன ?

A) 20°

B) 110°

C) 30°

D) 120° .

In a cyclic quadrilateral, the angle opposite to 70° is equal to

A) 20°

B) 110°

C) 30°

D) 120° .

10. $(-1, 2)$ மற்றும் $(4, -5)$ ஆகிய இரு புள்ளிகளை $2:3$ விகிதத்தில் பிரிக்கக்கூடிய புள்ளியின் ஆய்க்கூறுகளைக் காட்டுக. துண்டினை $2:3$ என்ற விகிதத்தில் உட்புறமாக பிரிக்கும் புள்ளி

- A) $(-1, 4)$ B) $(2, -5)$
C) $(1, -\frac{4}{5})$ D) $(-\frac{4}{5}, 1)$.

The point which divides the line segment joining the points $(-1, 2)$ and $(4, -5)$ internally in the ratio $2:3$ is

- A) $(-1, 4)$ B) $(2, -5)$
C) $(1, -\frac{4}{5})$ D) $(-\frac{4}{5}, 1)$.

11. 1950-ஆம் ஆண்டு முதல் நாடெங்கிலும் மரம் நடு விழா அல்லது 'வனமகா உற்சவம்' ஆகிய மாதங்களில் நடைபெற்று வருகின்றது.

- A) ஜூலை - ஆகஸ்ட் B) மே - ஜூன்
C) மார்ச் - ஜூன் D) செப்டம்பர் - அக்டோபர்.

Since 1950, Tree Planting Ceremonies or 'Vanamahotsav' have been celebrated during months of every year.

- A) July - August B) May - June
C) March - June D) September - October.

12. இந்தியாவின் கோதுமைக் களஞ்சியம் என்றழைக்கப்படுவது

- A) தமிழ்நாடு B) பஞ்சாப்
C) இராஜஸ்தான் D) மேற்கு வங்காளம்.

Wheat granary of India is

- A) Tamil Nadu B) Punjab
C) Rajasthan D) West Bengal.

17. தெற்காசிய பிராந்திய நாடுகளின் கூட்டமைப்பு (SAARC) மாநாடு முதன்முதலில் நடந்தது.

- A) காத்மாண்டு B) கொழும்பு
C) புது டில்லி D) டாக்கா.

The first Summit of SAARC was held at

- A) Kathmandu B) Colombo
C) New Delhi D) Dhaka.

18. ஹிந்தி மொழிக்கு அடுத்து மிகப் பெரிய அளவில் இந்தியாவில் உள்ள மொழி

- A) பெங்காலி B) உருது
C) தெலுங்கு D) மராத்தி.

Next to Hindi, the biggest linguistic unit in India is

- A) Bengali B) Urdu
C) Telugu D) Marathi.

19. இந்தியாவின் தேசிய விளையாட்டு

- A) கபடி B) ஹாக்கி
C) கிரிக்கெட் D) கால்பந்து.

The National Game of India is

- A) Kabaddi B) Hockey
C) Cricket D) Football.

20. தமிழகத்தில் கடைசியாக ஆரம்பிக்கப்பட்ட மாவட்டம் எது ?

- A) நீலகிரி B) கிருஷ்ணகிரி
C) விழுப்புரம் D) திருவாரூர்.

In Tamil Nadu, the district which was formed last is

- A) Nilgiris B) Krishnagiri
C) Villupuram D) Thiruvarur.

24. தேசிய ஆறிவியல் கினமாக கொண்டாடப்படும் நாள்.

- | | |
|-----------------|-----------------|
| A) பிப்ரவரி, 8 | B) பிப்ரவரி, 18 |
| C) பிப்ரவரி, 28 | D) மார்ச், 8. |

National Science Day is observed on the

- | | |
|------------------|------------------|
| A) 8th February | B) 18th February |
| C) 28th February | D) 8th March. |

25. ஹீமோபீலியா என்ற நோய் மனிதரில் எவ்வாறு ஏற்படுகிறது ?

- | | |
|------------------------------|---------------------------|
| A) பாக்டீரியல் தொற்றினால் | B) பூஞ்சைகளின் தொற்றினால் |
| C) தீர் மாற்றமடைந்த ஜீனினால் | D) வைரஸ் தொற்றினால். |

Haemophilia, a human disease is caused by

- | | |
|------------------------|---------------------|
| A) Bacterial infection | B) Fungal infection |
| C) Mutant gene | D) Viral infection. |

26. பட்டுப் புழு உணவாக உண்ணுவது

- | | |
|-------------------|-----------------|
| A) கறிவேப்பிலை | B) மா இலை |
| C) கொத்தமல்லி இலை | D) மல்பெரி இலை. |

Silkworm feeds on



- | | |
|---------------------|---------------------|
| A) Curry leaves | B) Mango leaves |
| C) Coriander leaves | D) Mulberry leaves. |

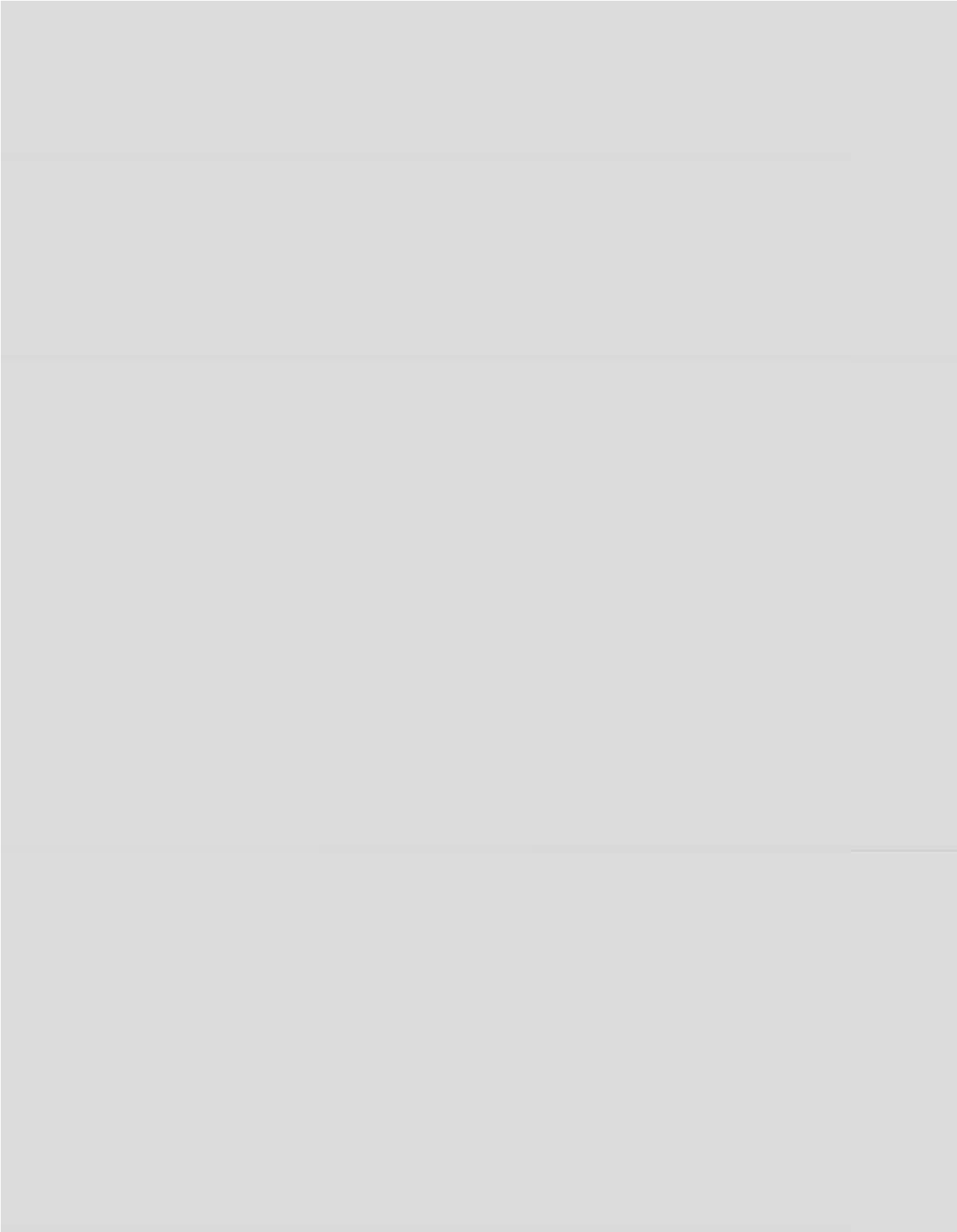
27. செரிகல்சர் என்பது

- | | |
|----------------------------|--------------------|
| A) பட்டுப்பூச்சி வளர்த்தல் | B) மீன் வளர்த்தல் |
| C) செடிகள் வளர்த்தல் | D) தேனீ வளர்த்தல். |

Sericulture is

- | | |
|---------------------|-----------------|
| A) Silkworm culture | B) Fish culture |
| C) Horticulture | D) Apiculture. |





35. ரெளலட் சட்டம் கிடைக்காததில் காரணமாக இருந்தது என்ன?

- A) மின்டோ
B) செம்ஸ்போர்டு
C) ஹார்டிங் II
D) இவர்களில் ஒருவரும் இல்லை.

The Rowlatt Act was passed during the vice-royalty of

- A) Minto
B) Chelmsford
C) Hardinge II
D) None of them.

36. கி.பி. 1946 இல் அமைச்சரவை தூதுக்குழுவை இந்தியாவிற்கு அனுப்பிய இங்கிலாந்தின் பிரதம அமைச்சரைக் குறிப்பிடு.

- A) சர்ச்சில்
B) அட்லி
C) மெளண்ட்பேட்டன்
D) இவர்களில் ஒருவரும் இல்லை.

Name the Prime Minister of England who sent the Cabinet Mission to India in 1946.

- A) Churchill
B) Attlee
C) Mountbatten
D) None of them.

37. கீழ்க்காண்பவர்களில் யார் தீவிரவாதி இல்லை ?

- A) பாலகங்காதர திலகர்
B) அரவிந்த கோஷ்
C) வ. உ. சிதம்பரம் பிள்ளை
D) சுரேந்திரநாத் பானர்ஜி.

Who among the following was not an extremist ?

- A) Bal Gangadhar Tilak
B) Aurobindo Ghosh
C) V. O. Chidambaram Pillai
D) Surendra Nath Banerjee.

38. தமிழ்நாட்டிலுள்ள வேதராணியத்தில் சட்டத்தை மீறிய உப்பு வசூலிப்பாளர்.

- A) குமரன்
B) இராஜாஜி
C) ஈ. வெ. இராமசாமி
D) இவர்களில் ஒருவரும் இல்லை.

Who violated the salt laws at Vedaranyam in Tamil Nadu ?

- A) Kumaran
B) Rajaji
C) E. V. Ramasamy
D) None of them.

39. இராபர்ட் வில்லியம் டி. இ. ஆஷ்டைஷ வாஞ்சிநாதன் சுட்டுக்கொன்ற இடம்

- A) தர்மபுரி
B) ஈரோடு
C) திருப்பூர்
D) மணியாச்சி.

Robert William D. E. Ash was shot dead by Vanchinathan at

- A) Dharmapuri
B) Erode
C) Tiruppur
D) Maniachi.

40. சுதேசி நீராவிக்கப்பல் என்ற நிறுவனம் தூத்துக்குடியில் யாரால் ஆரம்பிக்கப்பட்டது ?

- A) திருப்பூர் குமரன்
B) காமராசர்
C) வ. உ. சிதம்பரம் பிள்ளை
D) வாஞ்சிநாதன்.

Who started the Swadeshi Steam Navigation Company at Tuticorin ?

- A) Tiruppur Kumaran
B) Kamarajar
C) V. O. Chidambaram Pillai
D) Vanchinathan.

41. மக்களாட்சி என்பதற்கு பொருத்தமான விளக்கம் கூறியவர்

- A) வாஷிங்டன்
B) ஆபிரகாம் லிங்கன்
C) கென்னடி
D) உட்ரோ வில்சன்.

A suitable definition of Democracy was given by

- A) Washington
B) Abraham Lincoln
C) Kennedy
D) Woodrow Wilson.

42. கடற்படையின் தலைமை அலுவலர்

- A) கமாண்டர்
B) மேஜர்
C) அட்மிரல்
D) ஏர்சீப் மார்ஷல்.

The chief of the Naval staff is called

- A) Commander
B) Major
C) Admiral
D) Air Chief Marshall.

43. கல்பனா சாவ்லா இதனோடு தொடர்புடையவர்.

- A) பொருளாதாரம்
B) விண்வெளிப் பயணம்
C) அறிவியல்
D) அணு ஆராய்ச்சி.

Kalpana Chawla was associated with

- A) Economics
B) Astronaut
C) Science
D) Atomic research.

44. பல கட்சி ஆட்சி நடைபெறும் நாட்டிற்கு ஒர் உதாரணம்

- A) இங்கிலாந்து
B) அமெரிக்க ஐக்கிய நாடுகள்
C) இந்தியா
D) ஆஸ்திரேலியா.

Multiparty system is in vogue at

- A) England
B) U.S.A.
C) India
D) Australia.

45. இதன் அடிப்படையில் இந்திய மாநிலங்கள் பிரிக்கப்பட்டன.

- A) மொழி B) இலக்கியங்கள்
C) பாரம்பரியம் D) கட்டடக்கலை.

The states of India are divided on the basis of

- A) Language B) Literature
C) Heritage D) Architecture.

46. இந்தியாவின் மிக உயர்ந்த நீதித்துறை அங்கம்

- A) மாவட்ட நீதிமன்றம் B) உயர் நீதிமன்றம்
C) நடுவர் மன்றம் D) உச்ச நீதிமன்றம்.

The highest judicial body in India is the

- A) District Court B) High Court
C) Tribunal D) Supreme Court.

47. ஒரு நற்குடிமகன் / நற்குடிமகள் பெற்றிருக்க வேண்டியது

- A) தேசபக்தி B) நற்கல்வி
C) சகிப்புத்தன்மை D) இவை அனைத்தும்.

A good citizen must have

- A) Patriotism B) Good education
C) Tolerance D) all of these.

48. குடியரசு தினம் கடைப்பிடிக்கப்படும் நாள்

- A) டிசம்பர், 26 B) பிப்ரவரி, 26
C) ஜனவரி, 26 D) நவம்பர், 26.

Republic Day is observed on

- A) 26th December B) 26th February
C) 26th January D) 26th November.

53. வீட்டு வசதியினை ஊழியர்கள் மையப்படுத்தி உதவுகிற நிறுவனம்

- | | |
|------------------------------------|--------------------------|
| A) மாநில வீட்டு வசதி வாரியம் | B) குடிசை மாற்று வாரியம் |
| C) மத்திய அரசு வீட்டு வசதி வாரியம் | D) இவை மூன்றும். |

The organisation which helped to promote the housing is

- | | |
|--------------------------------|-------------------------|
| A) State Housing Board | B) Slum Clearance Board |
| C) Central Govt. Housing Board | D) All the three. |

54. கீழ்வரும் எந்த மாநில மக்கள்தொகையில் பெண்களின் விகிதாச்சாரம் அதிகமாக உள்ளது ?

- | | |
|--------------|---------------------|
| A) தமிழ்நாடு | B) கேரளா |
| C) பீகார் | D) மேற்கு வங்காளம். |

Which of the following States is having highest women sex ratio ?

- | | |
|---------------|-----------------|
| A) Tamil Nadu | B) Kerala |
| C) Bihar | D) West Bengal. |

55. 'உலகின் சர்க்கரைக் கிண்ணம்' என அழைக்கப்படும் நாடு

- | | |
|-------------|------------|
| A) கியூபா | B) இந்தியா |
| C) பிரேசில் | D) கனடா. |

Which country is called the sugarbowl of the world ?

- | | |
|-----------|------------|
| A) Cuba | B) India |
| C) Brazil | D) Canada. |

56. "என்ட்ரிபோட்" வாணிகம் என்பது

- A) ஏற்றுமதி வாணிகம்
- B) இறக்குமதி வாணிகம்
- C) மறு-ஏற்றுமதி வாணிகம்
- D) பன்னாட்டு வாணிகம்.

Entrepot Trade is

- A) Export Trade
- B) Import Trade
- C) Re-export Trade
- D) International Trade.

57. இந்தியாவின் மான்செஸ்டர் மற்றும் தென் இந்தியாவின் மான்செஸ்டர் யாவை ?

- A) டில்லி மற்றும் சென்னை
- B) கொல்கத்தா மற்றும் சென்னை
- C) பெங்களூர் மற்றும் கோயம்புத்தூர்
- D) மும்பை மற்றும் கோயம்புத்தூர்.

Manchester of India and Manchester of South India are

- A) Delhi and Chennai
- B) Kolkata and Chennai
- C) Bangalore and Coimbatore
- D) Mumbai and Coimbatore.

58. ரிசர்வ் பாங்க் ஆப் இந்தியா எப்போது தேசியமயமாக்கப்பட்டது ?

- A) 1949
- B) 1955
- C) 1969
- D) 1980.

When was the Reserve Bank of India nationalised ?

- A) 1949
- B) 1955
- C) 1969
- D) 1980.

59. 2001-ல் ஆந்திர மாநிலத்தின் மக்கள்தொகை கணக்கெடுப்பின்படி, ஜூந்தாயாவின் மக்கள்தொகை

- A) 0.01027 பில்லியன்
B) 0.1027 பில்லியன்
C) 1.027 பில்லியன்
D) 10.27 பில்லியன்.

According to 2001 census our population was

- A) 0.01027 billion
B) 0.1027 billion
C) 1.027 billion
D) 10.27 billion.

60. சாரக் (SAARC) அமைப்பின் தலைமையிடம்

- A) டாக்கா
B) காத்மண்டு
C) மாலே
D) புது டில்லி.

The headquarters of SAARC is

- A) Dhaka
B) Kathmandu
C) Male
D) New Delhi.

61. தமிழ் நாட்டில் காணப்படும் மொத்த மாவட்டங்கள்

- A) 29
B) 28
C) 26
D) 30.

Total number of districts in Tamil Nadu is

- A) 29
B) 28
C) 26
D) 30.

62. கரிசல் மண் பின்வரும் பயிருக்கு மிக பொருத்தமானது

- A) நெல்
B) கரும்பு
C) பருத்தி
D) கோதுமை.

Black soil is suitable for the cultivation of

- A) Paddy
B) Sugarcane
C) Cotton
D) Wheat.

66. 'பருட்டபுலகைகள்' அதிகமாக பயிரிடும் மாநிலம்

- | | |
|---------------|----------------------|
| A) தமிழ்நாடு | B) கேரளா |
| C) இராஜஸ்தான் | D) மத்தியப் பிரதேசம் |

Pulses are cultivated more in

- | | |
|---------------|--------------------|
| A) Tamil Nadu | B) Kerala |
| C) Rajasthan | D) Madhya Pradesh. |

67. அதிக அளவில் செம்மண் இங்கு காணப்படுகிறது.

- | | |
|----------------------|---------------|
| A) மத்தியப் பிரதேசம் | B) குஜராத் |
| C) மகாராஷ்டிரம் | D) தமிழ்நாடு. |

The red soil is found more in

- | | |
|-------------------|----------------|
| A) Madhya Pradesh | B) Gujarat |
| C) Maharashtra | D) Tamil Nadu. |

68. 'ஹரித்வார்' எந்த ஆற்றின் கரையோரமாக அமைந்து காணப்படுகிறது ?

- | | |
|----------|-----------------|
| A) யமுனா | B) பிரம்மபுத்ரா |
| C) கங்கை | D) மகாநதி. |

Hardwar is located along the bank of the river

- | | |
|-----------|----------------|
| A) Jamuna | B) Brahmaputra |
| C) Ganga | D) Mahanadi. |

69. அடர்ந்த காடுகள் எந்த மாநிலத்தில் அதிகமாக காணப்படுகிறது ?

- | | |
|-------------------------|---------------------|
| A) அருணாச்சலப் பிரதேசம் | B) அஸ்ஸாம் |
| C) மத்தியப் பிரதேசம் | D) மேற்கு வங்காளம். |

The state having the maximum area under dense forest is

- | | |
|----------------------|-----------------|
| A) Arunachal Pradesh | B) Assam |
| C) Madhya Pradesh | D) West Bengal. |

70. அதிக மழை பெறும் மாநிலம்

- | | |
|--------------------|-----------------------|
| A) அஸ்ஸாம் | B) இராஜஸ்தான் |
| C) மேற்கு வங்காளம் | D) உத்திரப் பிரதேசம். |

The state of heavy rainfall in India is

- | | |
|----------------|-------------------|
| A) Assam | B) Rajasthan |
| C) West Bengal | D) Uttar Pradesh. |

71. மகாவீரர் பிறந்த இடம்

- | | |
|-------------------|-------------|
| A) பாடலிபுத்திரம் | B) வைசாலி |
| C) லும்பினி | D) சாரநாத். |

Mahavira was born at

- | | |
|----------------|-------------|
| A) Pataliputra | B) Vaishali |
| C) Lumbini | D) Sarnath. |

76. கீழ்க்கண்டவற்றில் எது சரியாக பொருந்துகிறது .

- A) ஒழுங்குமுறைச் சட்டம் — இராபர்ட் கிளைவ்
 B) துணைப்படைத் திட்டம் — வெல்லெஸ்லி பிரபு
 C) வாரிசு இழப்புக் கொள்கை — வாரன் ஹேஸ்டிங்ஸ்
 D) இரட்டை ஆட்சி — டல்ஹௌசி பிரபு.

Which one of the following is correctly matched ?

- A) Regulating Act — Robert Clive
 B) Subsidiary Alliance — Lord Wellesley
 C) Doctrine of Lapse — Warren Hastings
 D) Dual Government — Lord Dalhousie.

77. ரிப்பன் பிரபு மிகச் சிறந்த அரசப்பிரதிநிதியாகக் கருதப்படக் காரணம்

- A) அவர் பத்திரிகை சுதந்திரத்திற்கு மதிப்பளித்தார்
 B) தல சுய ஆட்சி நிறுவனங்களுக்கு அடிக்கல் நாட்டினார்
 C) சிறார்கள் தொழிற்சாலையில் பணியமர்த்துதலைத் தடை செய்தார்.
 D) அவர் அரசப் பிரதிநிதியாக இருந்த போது இந்திய மக்கள்தொகையின் முழுக் கணக்கெடுப்பு நடைபெற்றது.

Lord Ripon is considered to be a great Viceroy because

- A) he showed regard for the freedom of press
 B) he laid the foundation for the Local Self-Government
 C) he prohibited the employment of children in factories
 D) complete census was taken of the population of India during his Viceroyalty.

78. ஐராவா, சமத்திரா அடிகியவற்றை வென்றியகரண்ட... டூறிய... டூறர்..

- A) முதலாம் இராஜேந்திர சோழன் B) முதலாம் இராஜராஜ சோழன்
C) குலோத்துங்க சோழன் D) முதலாம் பராந்தகன்.

Which Indian Ruler conquered Java and Sumatra ?

- A) Rajendra Chola I B) Rajaraja Chola I
C) Kulottunga Chola D) Parantaka I.

79. கிராம நிர்வாகத்திற்கு அதிக அதிகாரம் கிடைத்த ஆட்சிக் காலம்

- A) சோழர்கள் B) முகலாயர்கள்
C) பாலர்கள் D) ஆங்கிலேயர்கள்.

The village community got a lot of power during the reign of

- A) Cholas B) Mughals
C) Palas D) British.

80. முடத்திருமாறன் மதுரை நகரை உருவாக்கிய ஆற்றின் கரை

- A) காவேரி B) வைகை
C) பாலாறு D) தாமிரபரணி.

Mudathirumaran founded the city of Madurai in the banks of the river

- A) Kaveri B) Vaigai
C) Palar D) Tamirabarani.

81. தமக்கு வேண்டிய உணவைத் தானே தயாரித்துக் கொள்ளும் பாக்டீரியங்கள்

- A) தற்சார்பு பாக்டீரியங்கள் B) பிறசார்பு பாக்டீரியங்கள்
C) ஒட்டுண்ணி பாக்டீரியங்கள் D) சாறுண்ணிகள்.

Bacteria that synthesise their food are called

- A) Autotrophic bacteria B) Heterotrophic bacteria
C) Parasitic Bacteria D) Saprophytes.

86. பரவும் தன்மையற்ற நோய் எது ?

- B) மலேரியா
D) எய்ட்ஸ்.

Case is

- B) Malaria
D) AIDS.

றன ?

- B) வாயு பரிமாற்றம்
D) அமில கார சமன்பாடு.

- B) gaseous exchange
D) acid base balance.

ன காரணி

- B) பாக்டீரியா
D) பிளாஸ்மோடியம்.

- B) Bacteria
D) Plasmodium.

த்துடன் தொடர்புடையது ?

- B) கழிவு நீக்க மண்டலம்
D) சுவாச மண்டலம்.

with

- B) Excretory system
D) Respiratory system.

- A) காலரா
C) கரோனரி இதயநோய்

Example of a non-communicable disease

- A) Cholera
C) Coronary Heart Disease

87. இரத்தத்தட்டுகள் எவ்விதத்தில் உதவுகின்

- A) நோய் எதிர்ப்புத் தன்மை
C) இரத்தம் உறைதல்

Blood platelets help in

- A) immunity
C) blood clotting

88. பிலேரியாஸிஸ் நோய் உருவாக காரணமா

- A) வைரஸ்
C) ஊச்சரேரியா பாங்கராப்டி

Filariasis is caused by

- A) Virus
C) Wuchereria bancrofti

89. பாலூட்டியின் உதரவிதானம் எந்த மண்டல

- A) நரம்பு மண்டலம்
C) ஜீரண மண்டலம்

In mammals diaphragm is concerned with

- A) Nervous system
C) Digestive system

90. ஒலியை அளவிடும் அலகு

- A) ஆம்பியர்
B) டெசிபல்
C) ஒளி ஆண்டு
D) பாஸ்கல்.

Sound is measured in

- A) ampere
B) decibel
C) light year
D) pascal.

91. இரு மின்னூட்டங்களுக்கு இடைப்பட்ட விசையானது கீழ்க்கண்டவற்றில் எதற்கு நேர்த்தகவில் உள்ளது ?

- A) r
B) r^{-1}
C) r^2
D) r^{-2} .

The force between the two charges is directly proportional to

- A) r
B) r^{-1}
C) r^2
D) r^{-2} .

92. ஒரு மெல்லிய லென்சின் குவியத் தொலைவு 25 செ.மீ. ஆனால் அதன் திறன்

- A) 4D
B) 0.04 D
C) 0.4 D
D) 2.5 D.

The power of a thin lens having a focal length 25 cm is

- A) 4D
B) 0.04 D
C) 0.4 D
D) 2.5 D.

93. அழுத்தம் அதிகரிப்பதால் ஒரு திரவத்தின் கொதிநிலை

- A) குறையும்
B) அதிகரிக்கும்
C) முதலில் அதிகரிக்கும், பிறகு குறையும்
D) முதலில் குறைந்து பிறகு அதிகரிக்கும்.

When the pressure increases the boiling point of liquid

- A) decreases
B) increases
C) first increases, then decreases
D) first decreases, then increases.

94. பின்வரும் அணுக்கூட்டு வினையில் வெளிப்படும் ஆற்றல் Q -யின் மதிப்பு



- A) 2.793 MeV
B) 0.931 MeV
C) 0.310 MeV
D) 1.862 MeV.

In the following nuclear reaction the amount of energy Q released is



- A) 2.793 MeV
B) 0.931 MeV
C) 0.310 MeV
D) 1.862 MeV.

95. எறிபொருளின் பறக்கும் காலம் t_f என்பது

- A) $\frac{2u \sin \theta}{g}$
B) $\frac{u^2 \sin^2 \theta}{2g}$
C) $\frac{u \sin \theta}{g}$
D) $\frac{u^2 \sin 2\theta}{g}$.

The time of flight t_f of a projectile is

- A) $\frac{2u \sin \theta}{g}$
B) $\frac{u^2 \sin^2 \theta}{2g}$
C) $\frac{u \sin \theta}{g}$
D) $\frac{u^2 \sin 2\theta}{g}$.

96. கார்பாக்ஸிலிக் அமிலத்தின் முக்கிய வினைச்செயல் தொகுதி

- A) -COOH
B) -COOCH₃
C) -OH
D) -CHO.

The functional group of carboxylic acid is

- A) -COOH
B) -COOCH₃
C) -OH
D) -CHO.

97. சிமெண்ட் கட்டிகள் (திறன்கள்) என்பது எந்தெந்த பொருட்களின் கலவை
- A) கால்சியம் சல்பேட், கால்சியம் சிலிகேட், டிரை கால்சியம் அலுமினேட்
- B) டை கால்சியம் சிலிகேட், டிரை கால்சியம் அலுமினேட்
- C) டை கால்சியம் சிலிகேட், டிரை கால்சியம் சிலிகேட்
- D) டை கால்சியம் சிலிகேட், டிரை கால்சியம் சிலிகேட், டிரை கால்சியம் அலுமினேட்.

Clinker is the mixture of

- A) calcium sulphate, calcium silicate, tricalcium aluminate
- B) dicalcium silicate, tricalcium aluminate
- C) dicalcium silicate, tricalcium silicate
- D) dicalcium silicate, tricalcium silicate and tricalcium aluminate.
98. கீழ்வரும் அமிலங்களில் எது சிகப்பு எறும்பின் கொடுக்கில் உள்ளது ?
- A) லாக்டிக் அமிலம்
- B) ப்யூட்ரிக் அமிலம்
- C) அசிட்டிக் அமிலம்
- D) பார்மிக் அமிலம்.

Which one of the following acids is present in the sting of red ant ?

- A) Lactic acid
- B) Butyric acid
- C) Acetic acid
- D) Formic acid.
99. 40% பார்மால்டிஹைடு என்பது எவ்வாறு அழைக்கப்படுகிறது ?
- A) பார்மிக்கா
- B) பார்மலின்
- C) பார்மிக் அமிலம்
- D) ஆல்டிஹைடு.

40% formaldehyde is called

- A) Formica
- B) Formalin
- C) Formic acid
- D) Aldehyde.
100. நியூட்ரானைக் கண்டறிந்தவர் யார் ?
- A) ரூதர்ஃபோர்டு
- B) கோல்ட்ஸ்டைன்
- C) போர்-பரி
- D) சாட்விக்.

Who discovered neutrons ?

- A) Rutherford
- B) Goldstein
- C) Bohr-Bury
- D) Chadwick.

101. "தாயைக் கண்டி சேய்ப்பீடாள்" - இவ்வவமையால் போள் கப்பட்டுயிபா ருத்தமான பொருளைத் தேர்ந்தெடுத்து எழுதுக :

- | | |
|--------------|-------------|
| A) மகிழ்ச்சி | B) துன்பம் |
| C) கலக்கம் | D) மயக்கம். |

102. 'இலைமறை காய் போல்' - இவ்வவமையால் அறியப்படும் பொருள் யாது ?

- | | |
|--------------|---------------|
| A) வேதம் | B) நெருக்கம் |
| C) மறைபொருள் | D) வெளிப்படை. |

103. "மழைமுகம் காணாப் பயிர் போல" - இவ்வவமையால் அறியப்படும் பொருள் யாது ?

- | | |
|--------------|-------------|
| A) மகிழ்ச்சி | B) பெருமை |
| C) வீழ்ச்சி | D) வாட்டம். |

104. "விழலுக்கு இறைத்த நீர் போல்" - உவமைப் பொருளைக் கூறுக :

- | | |
|--------------|---------------|
| A) சரியானது | B) பயனற்றது |
| C) பயனுள்ளது | D) போதுமானது. |

105. 'சர்க்கரைப் பந்தலில் தேன்மழை பொழிந்தது போல" - உவமைப் பொருளைக் கூறுக :

- | | |
|------------------|-------------|
| A) மிக்க மகிழ்வு | B) மகிழ்வு |
| C) ஆர்வம் | D) புன்னகை. |

106. "இடும்பைக்கு இடும்பை படுப்பர் இடும்பைக்கு

இடும்பை படாஅ தவர்" - இதில் அமைந்துள்ள மோனையை எழுதுக.

- | | |
|---------------------------|------------------------|
| A) இடும்பைக்கு - படுப்பர் | B) இடும்பைக்கு - படாஅ |
| C) இடும்பைக்கு - இடும்பை | D) இடும்பைக்கு - தவர். |

107. 'தன்னைத்தான் காக்கின் சினுக்காக்க காடாக்கால்'

நாணகல் கொல்லும் சினம்" - இதில் அமைந்துள்ள போனையை எடுத்துக்.

- A) தன்னைத்தான் - காக்கின்
- B) தன்னையே - காக்கின்
- C) சினம் காக்க - காடாக்கால்
- D) தன்னைத்தான் - தன்னையே.

108. "நிறிகல்லைப் பேணுங்கால் நாணலும் பேணார்

நிறன்வேறு கூறிய பொறையும் அறவினை" - இதில் அமைந்துள்ள சீர்எதுகைடைத் தேர்க :

- A) நிறிகல்லை - நிறன்வேறு
- B) பேணுங்கால் - பேணார்
- C) நிறன்வேறு - பொறையும்
- D) நிறன்வேறு - அறவினை.

109. நாணகத் தில்லார் இடக்கம் மரப்பாவை

நாணகல் சீர் மரபிடி உற்று" - இதில் அமைந்துள்ள எதுகையினைக் கண்டறிக :

- A) நாணகத் - இடக்கம்
- B) இடக்கம் - மரப்பாவை
- C) சீர் - மரபிடி
- D) நாணகத் - நாணால்.

110. பின்வரும் தொடரில் உள்ள இடைபந்த தொடையை எடுத்துக்காட்டுக :

"மடுக்கும் குழர்களே தேந்தும்ள வஞ்சிக் கொடியே வருகவே !

மடைத் துவசன் பெற்றபெரு வாழ்வே வருக ! வருகவே !

- A) மடுக்கும் - வஞ்சிக்கொடியே
- B) வருகவே - வருகவே.
- C) மடைத் துவசன் - பெற்றபெரு வாழ்வே
- D) குழர்காடேந்தம் - இளவஞ்சி.

118. "கயல்விழி திருக்குறள் பயின்றாள்" - எவ்வினை வாக்கியம் ?

- | | |
|---------------------|------------|
| A) பிறவினை | B) தன்வினை |
| C) செயப்பாட்டு வினை | D) கட்டளை. |

119. "உழவனால் நெற்பயிர் வளர்க்கப்பட்டது" - எவ்வினை வாக்கியம் ?

- | | |
|-------------|---------------------|
| A) செய்வினை | B) செயப்பாட்டு வினை |
| C) பிறவினை | D) தொடர் வாக்கியம். |

120. "மூவர் தேவாரத்தை இயற்றினர்" - வாக்கிய அமைப்பு சுட்டுக :

- | | |
|---------------------|----------------------|
| A) செயப்பாட்டு வினை | B) பிறவினை |
| C) செய்வினை | D) விழைவு வாக்கியம். |

121. "பாலும் பழமும்" - இலக்கணக் குறிப்பு அறிக :

- | | |
|----------------|-------------------|
| A) பண்புத்தொகை | B) உவமைத்தொகை |
| C) எண்ணும்மை | D) அன்மொழித்தொகை. |

122. "இராப்பகல்" - இலக்கணக் குறிப்பு அறிக :

- | | |
|----------------|-----------------|
| A) பண்புத்தொகை | B) வினைத்தொகை |
| C) உம்மைத்தொகை | D) வினையெச்சம். |

123. "உவகைத்தேன்" - இலக்கணக் குறிப்பு அறிக :

- | | |
|---------------|-------------------|
| A) உவமைத்தொகை | B) வேற்றுமைத்தொகை |
| C) உருவகம் | D) பண்புப்பெயர். |

124. "வினைப்பயன்" - இலக்கணக் குறிப்பு அறிக :

- | | |
|-------------------------|-----------------|
| A) ஆறாம் வேற்றுமைத்தொகை | B) வினைத்தொகை |
| C) எண்ணும்மை | D) தொழிற்பெயர். |

125. 'செவ்வேள்' - இலக்கணக் குறிப்பு அறிக :

- | | |
|----------------|----------------|
| A) வினைத்தொகை | B) தொழிற்பெயர் |
| C) பண்புத்தொகை | D) உவமைத்தொகை. |

126. "பாரதிதாசனின் இயற்பெயர் கனக சுப்புரத்தினம் என்பதால்" - விடைக்கேற்ற வினாவைத் தேர்ச :

- A) கனக சுப்புரத்தினம் யார் ?
- B) பாரதிதாசனின் இயற்பெயர் யாது ?
- C) பாரதிதாசனை எவ்வாறு அழைத்தனர் ?
- D) சுப்புரத்தினத்தை எவ்வாறு அழைத்தனர் ?

127. 'திருக்குறள் சிறந்த நீதி நூல்' - விடைக்கேற்ற வினாவைத் தேர்ச :

- A) திருக்குறள் நீதி நூலா ?
- B) திருக்குறள் எந்நூல் ?
- C) திருக்குறள் சிறந்த நூலா ?
- D) எது சிறந்த நீதி நூல் ?

128. 'முயற்சி திருவினையாக்கும்' - விடைக்கேற்ற வினாவைத் தேர்ச :

- A) முயற்சியால் என்ன கிடைக்கும் ?
- B) முயற்சி ஏன் செய்ய வேண்டும் ?
- C) முயற்சி செய்தது ஏன் ?
- D) முயற்சியின் பயன் யாது ?

129. "ஆலும் வேலும் பல்லுக்குறுதி" - விடைக்கேற்ற வினாவைத் தேர்ச :

- A) எது பல்லுக்குறுதி ?
- B) பல்லுக்குறுதி எது ?
- C) ஆலும் வேலும் பல்லுக்குறுதியா ?
- D) எவை பல்லுக்குறுதி ?

130. "கடும் உழைப்பும் ஊக்கமும் இருந்தால் அனைவரும் வாழ்வில் உயரலாம்" - விடைக்கேற்ற வினா தேர்ச :

- A) வாழ்வில் எவர் உயர்வர் ?
- B) வாழ்வில் உயர எவை தேவை ?
- C) ஊக்கம் மட்டும் உயர்வதற்குப் போதுமா ?
- D) அனைவரும் வாழ்வில் உயர எவை வேண்டும் ?

131. சொற்களை ஒழுங்குபடுத்திய சொற்றொடரை எழுது :

- A) அறம் வாழ்விற்குச் சிறப்பையும் செல்வத்தையும் தரும்
- B) வாழ்வுக்குச் செல்வத்தையும் அறம் சிறப்பையும் தரும்
- C) அறம் செல்வத்தையும் வாழ்வுக்குச் சிறப்பையும் தரும்
- D) அறம் சிறப்பையும் வாழ்வுக்குச் செல்வத்தையும் தரும்.

132. சொற்களை ஒழுங்குபடுத்திய சொற்றொடரை எழுதுக :

- A) வீதிவரை உறவு வீடுவரை மனைவி
- B) வீடுவரை உறவு வீதிவரை மனைவி
- C) உறவு வீதிவரை மனைவி வீடுவரை
- D) மனைவி வீடுவரை உறவு வீதிவரை.

133. சொற்களை ஒழுங்குபடுத்திய சொற்றொடரை எழுதுக :

- A) கட்டினான் கல்லணையைக் கரிகாலன்
- B) கல்லணையைக் கரிகாலன் கட்டினான்
- C) கல்லணை கரிகாலனால் கட்டப்பட்டது
- D) கரிகாலன் கல்லணையைக் கட்டினான்.

134. சொற்களை ஒழுங்குபடுத்திய சொற்றொடரை எழுதுக :

- A) தீதும் பிறர்தர வாரா நன்றும்
- B) நன்றும் பிறர்தர வாரா தீது
- C) தீதும் நன்றும் பிறர்தர வாரா
- D) பிறர்தர வாரா தீதும் நன்றும்.

135. சொற்களை ஒழுங்குபடுத்திய சொற்றொடரை எழுதுக :

- A) நாலும் சொல்லுக்கு இரண்டும் உறுதி
- B) இரண்டும் நாலும் சொல்லுக்கு உறுதி
- C) சொல்லுக்கு உறுதி இரண்டும் நாலும்
- D) நாலும் இரண்டும் சொல்லுக்கு உறுதி.

136. 'மறைமலை நகர்' - பெயர்ச்சொல்லின் வகையறிக :

- A) காலப்பெயர்
- B) இடப்பெயர்
- C) குணப்பெயர்
- D) பொருட்பெயர்.

137. 'சித்திரை' - பெயர்ச்சொல்லின் வகையறிக :
 A) பொருட்பெயர்
 B) தொழிற்பெயர்
 C) பண்புப்பெயர்
 D) காலப்பெயர்.
138. 'இனிமை' - பெயர்ச்சொல்லின் வகையறிக :
 A) தொழிற்பெயர்
 B) பண்புப்பெயர்
 C) இடப்பெயர்
 D) பொருட்பெயர்.
139. "பாடுதல்" - பெயர்ச்சொல்லின் வகையறிக :
 A) தொழிற்பெயர்
 B) சினைப்பெயர்
 C) காலப்பெயர்
 D) பண்புப்பெயர்.
140. "கை" - பெயர்ச்சொல்லின் வகையறிக :
 A) பொருட்பெயர்
 B) காலப்பெயர்
 C) சினைப்பெயர்
 D) பண்புப்பெயர்.
141. 'உண்' என்னும் வேர்ச்சொல்லை வினைமுற்றாக மாற்றுக :
 A) உண்ண
 B) உண்ணு
 C) உண்டான்
 D) உண்ணல்.
142. 'பார்' என்னும் வேர்ச்சொல்லை வினைமுற்றாக மாற்றுக :
 A) பார்த்த
 B) பார்த்தான்
 C) பார்க்கும்
 D) பார்க்க.
143. 'கடி' என்னும் வேர்ச்சொல்லை வினையெச்சமாக மாற்றுக :
 A) கடி
 B) கடித்து
 C) கடித்த
 D) கடித்தல்.
144. 'வெல்' என்னும் வேர்ச்சொல்லை வினையாலணையும் பெயராக மாற்றுக :
 A) வென்று
 B) வென்ற
 C) வெல்பவர்
 D) வென்றல்.
145. 'கொடு' என்னும் வேர்ச்சொல்லைத் தொழிற்பெயராக மாற்றுக :
 A) கொடுத்தல்
 B) கொடுத்து
 C) கொடுத்த
 D) கொடுத்தான்.

146. அகர வரிசைப்படுத்திய வரிசையைக் கண்டறிக :

- A) கீற்று, கூடை, கிளி, குட்டு, காற்று B) காற்று, கிளி, கீற்று, குட்டு, கூடை
C) காற்று, குட்டு, கீற்று, கிளி, கூடை D) குட்டு, கிளி, காற்று, கூடை, கீற்று.

147. அகர வரிசைப்படுத்திய சொற்களைக் கண்டறிக :

- A) மீன், மாங்காய், முத்து, மச்சம், மூதூர் B) மச்சம், மாங்காய், மீன், முத்து, மூதூர்
C) முத்து, மாங்காய், மச்சம், மூதூர், மீன் D) மாங்காய், மச்சம், முத்து, மீன், மூதூர்.

148. அகர வரிசைப்படுத்திய சொற்களைக் கண்டறிக :

- A) சீற்றம், சிறப்பு, சாலை, சனி B) சனி, சாலை, சிறப்பு, சீற்றம்
C) சிறப்பு, சனி, சாலை, சீற்றம் D) சாலை, சீற்றம், சனி, சிறப்பு.

149. அகர வரிசைப்படுத்திய சொற்களைத் தேர்க :

- A) தெய்வம், காட்சி, உழைப்பு, பேறு B) காட்சி, உழைப்பு, தெய்வம், பேறு
C) உழைப்பு, பேறு, காட்சி, தெய்வம் D) பேறு, காட்சி, உழைப்பு, தெய்வம்.

150. அகர வரிசைப்படுத்திய சொற்களைத் தேர்க :

- A) ஊதியம், உழைப்பு, கடமை, வெற்றி B) கடமை, உழைப்பு, ஊதியம், வெற்றி
C) ஊதியம், கடமை, வெற்றி, உழைப்பு D) உழைப்பு, ஊதியம், கடமை, வெற்றி.

151. "கோ" - ஒரெழுத்து ஒரு மொழிக்குரிய பொருள் தேர்க :

- A) போனான் B) அரசன்
C) எழுத்து D) கோவில்.

152. "ஏ" - ஒரெழுத்து ஒரு மொழிக்குரிய பொருள் தேர்க :

- A) வாள் B) வேல்
C) அம்பு D) கம்பு.

153. "வீ" - ஒரெழுத்து ஒரு மொழிக்குரிய பொருள் தேர்க :

- A) மணம் B) வாசனை
C) மலர் D) வாடுதல்.

177. ஒருமை - பன்மை பிழை நீக்கிய சொல்லை எழுதுக :

- A) கார்க்கில் போரில் பல வீரர்கள் மடிந்தன
- B) கார்கில் போரில் பல வீரர் மடிந்தது
- C) கார்கில் போரில் பல வீரர் மடிந்தனர்
- D) கார்க்கில் போரில் வீரர்கள் பலர் மடிந்தனர்.

178. வழுஉச் சொல் திருத்தம் பெற்ற சொல்லைத் தேர்க :

- A) தலகாணி
- B) சீயக்காய்
- C) தாழ்ப்பால்
- D) கயிறு.

179. மரபுப் பிழை நீக்கிய சொல்லை எழுதுக :

- A) காட்டில் உள்ள யானை பிளிறியது
- B) காட்டில் உள்ள யானை கத்தியது
- C) காட்டில் உள்ள யானை கழறியது
- D) காட்டில் உள்ள யானை கூவும்.

180. பிறமொழிச் சொற்கள் நீக்கிய சொல்லை எழுதுக :

- A) பெரியவர் கூறிய சங்கதியைக் கூறு
- B) பெரியவர் கூறிய சொற்களைக் கூறு
- C) பெரியவர் கூறிய சமாச்சாரத்தைக் கூறு
- D) பெரியவர் கூறிய செய்தியைக் கூறு.

181. "கரை மீதேறி" - பிரித்தெழுதுக :

- A) கரை + மீதேறி.
- B) கரை + மீதேறி
- C) கரை + மீது + ஏறி
- D) கரைமீது + ஏறி.

182. "நண்ணுவதில்லை" - பிரித்து எழுதுக :

- A) நண்ணு + வதில்லை
- B) நண்ணுவது + இல்லை
- C) நாணு + இல்லை
- D) நன்னு + இல்லை.

- பிரித்து எழுதுக :

ட + நானூறு

+ நானூறு

ம்' - பிரித்து எழுதுக :

க்கா + லம்

+ காலம்

' - பிரித்தெழுதுக :

+ அடியார்

அடியார்

- எதிர்ச்சொல் தருக :

கு மலை

ல மலை

- எதிர்ச்சொல் தருக :

ல்

தல்

- எதிர்ச்சொல் தருக :

லா

லாதீர்

' - எதிர்ச்சொல் தருக :

வன்

- எதிர்ச்சொல் அறிக :

மை

மை

B) புறம் + நான்கு + நூறு

D) புற + நான்கு + நூறு.

B) மழைக் + காலம்

D) ம + மழைக்காலம்.

B) நான்கு + அடியார்

D) நான் + அடியார்.

B) மேற்கு மலை

D) தென்மலை.

B) அலைதல்

D) ஒடுதல்.

B) செல்லு

D) செல்லுக.

B) நண்பன்

D) வல்லவன்.

B) சிறுமை

D) பொய்மை.

183. 'புறநானூறு'

A) புறமை

C) புறம்

184. 'மழைக்காலம்'

A) மழை

C) மழை

185. 'நாலடியார்'

A) நால்

C) நா +

186. 'வடமலை'

A) கிழக்கு

C) கயிலை

187. 'அலைதல்'

A) நிற்பது

C) பறித்தல்

188. 'செல்வீரன்'

A) செல்வன்

C) செல்வன்

189. 'பகைவன்'

A) நல்லவன்

C) எதிர்

190. 'பெருமை'

A) உண்மை

C) வண்மை

191. பொருத்தமான பொருளைத் தேர்வு செய்க :

- | | |
|------------|-------------|
| 1. தொன்மை | அ. பல்லக்கு |
| 2. வேய் | ஆ. உறவினர் |
| 3. கிளைஞர் | இ. மூங்கில் |
| 4. சிவிகை | ஈ. பழமை. |

குறியீடுகள் :

	1	2	3	4
A)	இ	ஈ	அ	ஆ
B)	ஈ	இ	ஆ	அ
C)	இ	ஆ	ஈ	அ
D)	ஈ	அ	இ	ஆ.

192. பொருத்தமான பொருளைத் தேர்வு செய்க :

- | | |
|--------------|-------------|
| 1. தொழும்பர் | அ. உலகம் |
| 2. பொருப்பு | ஆ. அரசன் |
| 3. புவனம் | இ. மலை |
| 4. வேந்தர் | ஈ. தொண்டர். |

குறியீடுகள் :

	1	2	3	4
A)	ஈ	இ	ஆ	அ
B)	ஈ	இ	அ	ஆ
C)	இ	ஈ	அ	ஆ
D)	ஆ	இ	ஈ	அ.



AN