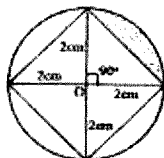


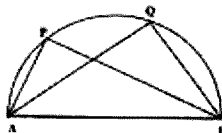
भाग A

1. छायाित क्षेत्र का क्षेत्रफल सेमी^2 में है



1. $(\pi - \sqrt{2})$ 2. $(\pi - 2)$
 3. $(\frac{\pi - \sqrt{2}}{4 - 2})$ 4. $(\pi + 2)$
2. एक समकोण त्रिभुजिय आकृति के बाग के कोण समान्तर श्रेणी में हैं और सबसे छोटी भुजा 10-00 मीटर है। बाग की बाड़ की कुल लम्बाई मीटर में है

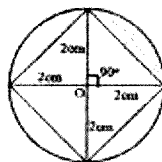
1. 60.00 2. 47.32
 3. 12.68 4. 22.68
3. चित्र में दर्शाये अनुसार किसी अर्धवृत्त का व्यास AB है। यदि $AQ = 2AP$ हो तब निम्न में से कौनसा विकल्प सही है ?



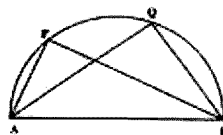
1. $\angle APB = \frac{1}{2} \angle AQB$
 2. $\angle APB = 2 \angle AQB$
 3. $\angle APB = \angle AQB$
 4. $\angle APB = \frac{1}{4} \angle AQB$
4. खरगोशों के एक समूह A की जनसंख्या 25% प्रतिवर्ष की दर से बढ़ती है जबकि समूह B की वृद्धि दर 50% प्रतिवर्ष है। यदि समूह A और B की वर्तमान जनसंख्याएँ समान हैं तो दो वर्ष पश्चात् समूह B और समूह A के खरगोशों की संख्या का अनुपात होगा :
1. 1.44 2. 1.72
 3. 1.90 4. 1.25

PART A

1. The area of the shaded region in cm^2 is



1. $(\pi - \sqrt{2})$ 2. $(\pi - 2)$
 3. $(\frac{\pi - \sqrt{2}}{4 - 2})$ 4. $(\pi + 2)$
2. The angles of a right-angled triangle shaped garden are in arithmetic progression and the smallest side is 10.00 m. The total length of the fencing of the garden in m is
1. 60.00 2. 47.32
 3. 12.68 4. 22.68
3. AB is the diameter of the semicircle as shown in the diagram. If $AQ = 2AP$ then which of the following is correct?



1. $\angle APB = \frac{1}{2} \angle AQB$
 2. $\angle APB = 2 \angle AQB$
 3. $\angle APB = \angle AQB$
 4. $\angle APB = \frac{1}{4} \angle AQB$
4. The rabbit population in community A increases at 25% per year while that in B increases at 50% per year. If the present populations of A and B are equal, the ratio of the number of the rabbits in B to that in A after 2 years will be
1. 1.44 2. 1.72
 3. 1.90 4. 1.25

5. O_2 व H_2 प्रत्येक की दो मोल मात्रा समान आयतन वाले दो पात्रों में 150°C से और 1 जघुमकशील दाब पर हैं। ये दोनों गैस एक तीसरे पात्र में मिला कर तब तक वाष्प बनाते हैं जब तक कि H_2 पूर्ण रूप से सूक नहीं जाती। जब तीसरे पात्र को मिश्रण का तापमान 150°C पर लाया जाता है तो उसका दाब 1 जघुमकदाब हो जाता है। तीसरे पात्र का आयतन होना चाहिए

1. V_0 2. $5V_0/4$
3. $3V_0/2$ 4. $2V_0$

6. हीलियम व आर्गन गैसों के अलग पात्रों में समान तापमान पर हैं। अतः इसकी र्ग-माध्य-मूल वेग का मान भी विभिन्न है। ये दोनों गैस एक तीसरे पात्र में उन्हीं तापमान पर मिलाई जाती हैं। मिश्रण के हीलियम परमाणुओं का र्ग-माध्य-मूल वेग होगा

1. मिश्रण बनाने के पूर्व जितना था उससे ज्यादा
2. मिश्रण बनाने के पूर्व जितना था उससे कम
3. मिश्रण बनाने के पूर्व जितना था उसको समान
4. मिश्रण के आर्गन परमाणुओं के वेग के समान

7. सल्फर के उत्पादन में गिलखड़ी खनिज का उपयोग किया जाता है क्योंकि यह

- (a) उत्पाद का परिमाण बढ़ाता है
(b) जीवणुओं को मारता है
(c) सुगंध देता है
(d) मुल्यवान है और त्वचा का खरोंचा नहीं है

उपरोक्त में से कौनसा/कौनसे कथन सही है/हैं ?

1. (d) 2. (a) और (c)
3. (a) और (b) 4. (a) और (d)

8. 100 ग्राम अकार्बनिक यौगिक $X \cdot 5H_2O$ को जिसमें एक ज्वलशील अशुद्धि है, एक भट्टी में 150°C पर 60 मिनट तक रखा गया। गर्म करने के पश्चात् अवशेष का भार 8 ग्राम रहता है। X में अशुद्धि की प्रतिशतता थी

1. 10 2. 8
3. 20 4. 80

9. एक विशेष राशि में चुम्बकीय बल एक अर्ध-चंद्र था। उस बल राशि को बंद

1. पूर्वी क्षितिज पर होगा
2. पूर्वी क्षितिज की 45° कोणीय ऊँचाई पर होगा
3. अक्षांश के मितोबिंदु पर होगा
4. पश्चिमी क्षितिज पर होगा

5. Two moles each of O_2 and H_2 are in two separate containers, each of volume V_0 and at 150°C and 1 atmosphere. The two are made to react in a third container to form water vapour until H_2 is exhausted. When the temperature of the mixture in the third container was restored to 150°C , its pressure became 1 atmosphere. The volume of the third container must be

1. V_0 2. $5V_0/4$
3. $3V_0/2$ 4. $2V_0$

6. Helium and argon gases in two separate containers are at the same temperature and so have different root-mean-square (r.m.s.) velocities. The two are mixed in a third container keeping the same temperature. The r.m.s. velocity of the helium atoms in the mixture is

1. more than what it was before mixing.
2. less than what it was before mixing.
3. equal to what it was before mixing.
4. equal to that of argon atoms in the mixture.

7. The mineral talc is used in the manufacture of soap because it

- (a) gives bulk to the product
(b) kills bacteria
(c) gives fragrance
(d) is soft and does not scratch the skin

Which of the above statements is/are correct?

1. (d) 2. (a) and (c)
3. (a) and (b) 4. (a) and (d)

8. 100 g of an inorganic compound $X \cdot 5H_2O$ containing a volatile impurity was kept in an oven at 150°C for 60 minutes. The weight of the residue after heating is 8 g. The percentage of impurity in X was

1. 10 2. 8
3. 20 4. 80

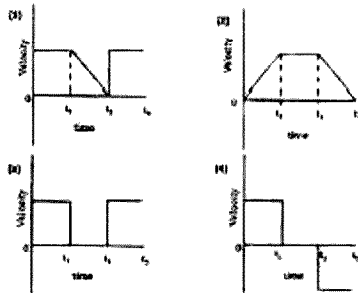
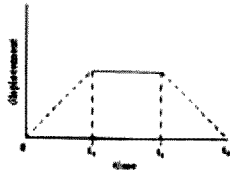
9. On a certain night the moon in its waning phase was a half-moon. At midnight the moon will be

1. on the eastern horizon.
2. at 45° angular height above the eastern horizon.
3. at the zenith.
4. on the western horizon.

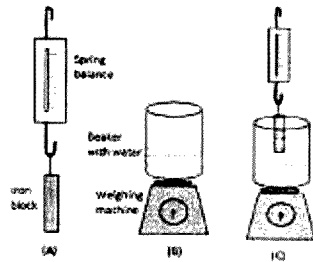
10. नाभिकीय रिएक्टर में एक रत्न को 5 दिन तक विकिरणित किया जाता है। विकिरण के 10 दिन बाद रत्न के रेडियो समस्थानिक क्रोमियम की सक्रियता 600 विघटन प्रति घंटे है। विकिरण के 5 दिन बाद रेडियोक्रोमियम की सक्रियता कितनी होगी यदि इसकी अर्धायु 5 दिन है ?

1. 300 2. 150
3. 2400 4. 1200

11. एक पिण्ड के सरलान विरुद्ध समय का चक्र चित्र में दर्शाये अनुसार है। उस चक्र को चुनिये जो कि इस पिण्ड के वेग का समय के साथ परिवर्तन सही सही दर्शाता है



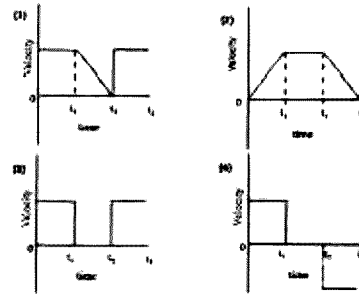
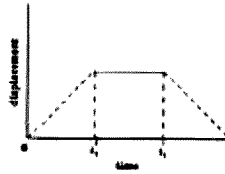
12.



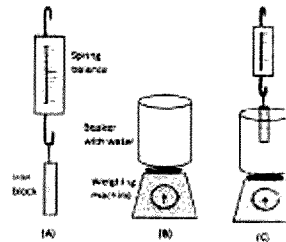
10. A gemstone is irradiated in a nuclear reactor for 5 days. Ten days after irradiation, the activity of the chromium radioisotope in the gemstone is 600 disintegrations per hour. What is the activity of chromium radioisotope 5 days after irradiation if its half life is 5 days?

1. 300 2. 150
3. 2400 4. 1200

11. Displacement versus time curve for a body is shown in the figure. Select the graph that correctly shows the variation of the velocity with time



12.



चित्र A की कमनीदार तुला 0.5 कि.ग्रा दर्शाती है तथा चित्र B की बलखंडदार तुला 3.0 कि.ग्रा दर्शाती है। कमनीदार तुला से लटकाना लौह खण्ड चित्र C के बीकर के पानी में आंशिक रूप से डुबाया जाता है। कमनीदार तुला अब 0.4 कि.ग्रा दर्शाती है। चित्र में बलखंडदार तुला दर्शाएगी

- | | |
|----------------|----------------|
| 1. 3.0 कि.ग्रा | 2. 2.9 कि.ग्रा |
| 3. 3.1 कि.ग्रा | 4. 3.5 कि.ग्रा |

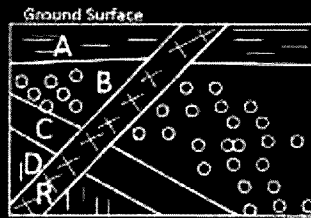
13. एक रस्सी के दोनों सिरे दो अलग-अलग छुट्टों में इस तरह बंधे जाते हैं कि रस्सी पर्याप्त ढीली रहती है। एक पेंसिल इस रस्सी से इस तरह सटा कर चूमई जाती है कि रस्सी हमेशा तनी रहे। पेंसिल को घुमाने से बने वाली आकृति किसकी अंश होगी ?

- | | |
|-------------|-----------------|
| 1. एक वृत्त | 2. एक लम्बवृत्त |
| 3. एक वर्ग | 4. एक त्रिभुज |

14. बर्फ पर स्कोटिंग के दौरान बर्फ स्केटर के जूतों की गतिशील बर्फ पर दबाव डालती है। बर्फ स्केटर नियुग्नापूर्वक स्केट कर सकता है क्योंकि

1. लगने वाले दबाव के बढ़ने से बर्फ पानी में परिवर्तित हो जाता है।
2. लगने वाले दबाव के घटने से बर्फ पानी में परिवर्तित हो जाता है।
3. पेंसिलों के समर्थक वाले बर्फ का घनत्व घट जाता है।
4. पेंसिलों बर्फ को भेद नहीं पाती।

15. अप्रसंस्कृत चित्र में दर्शाये अनुसार चार तलछटी रेत A, B, C और D में एक आग्नेय रेत R चुली है। इनकी उम्र के संबंध में निम्न में से कौनसा कथन सही है ?



1. A तलछटा है उसके बाद क्रमशः B, C, D और R है।
2. R तलछटा है उसके बाद क्रमशः A, B, C और D है।
3. D तलछटा है उसके बाद क्रमशः C, B, A और R है।
4. A तलछटा है उसके बाद क्रमशः R, B, C और D है।

The spring balance in Fig. A reads 0.5 kg and the pan balance in Fig. B reads 3.0 kg. The iron block suspended from the spring balance is partially immersed in the water in the beaker (Fig. C). The spring balance now reads 0.4 kg. The reading on the pan balance in Fig. C is

- | | |
|-----------|-----------|
| 1. 3.0 kg | 2. 2.9 kg |
| 3. 3.1 kg | 4. 3.5 kg |

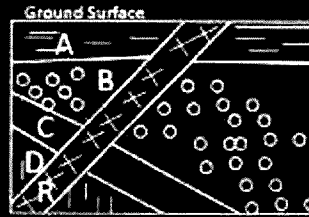
13. The ends of a rope are fixed to two pegs, such that the rope remains slack. A pencil is placed against the rope and moved, such that the rope always remains taut. The shape of the curve traced by the pencil would be a part of

- | | |
|-------------|---------------|
| 1. a circle | 2. an ellipse |
| 3. a square | 4. a triangle |

14. During ice skating, the blades of the ice skater's shoes exert pressure on the ice. Ice skater can efficiently skate because

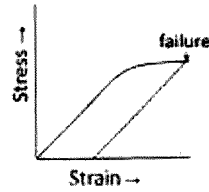
1. ice gets converted to water as the pressure exerted on it increases.
2. ice gets converted to water as the pressure exerted on it decreases.
3. the density of ice in contact with the blades decreases.
4. blades do not penetrate into ice.

15. Four sedimentary rocks A, B, C and D are intruded by an igneous rock R as shown in the cross-section diagram. Which of the following is correct about their ages?



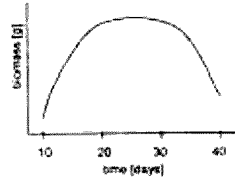
1. A is the youngest followed by B, C, D and R.
2. R is the youngest followed by A, B, C and D.
3. D is the youngest followed by C, B, A and R.
4. A is the youngest followed by R, B, C and D.

16. एक ठोस पदार्थ जो कि लगातार तनाव में है उसकी टान सलमन चित्र में आंकित की गई है।



निम्न में से कौनसा कथन सत्य है ?

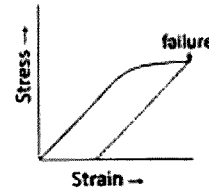
1. विकृतता बिन्दु तक ठोस प्रत्यास्थतापूर्वक विकृत होता है।
 2. विकृतता बिन्दु तक ठोस प्लास्टिकता पूर्वक विकृत होता है।
 3. विकृतता होने पर ठोस अपने मूल आकार व त्थल्य में आ जाता है।
 4. विकृतता होने पर ठोस हमेशा के लिये विकृत हो जाता है।
17. एक जीव की वृद्धि जितो कि समय के नियत अन्तरालों पर जागा गया था नीचे दिये गये ग्राफ में दर्शाया गया है। किस समय के दौरान वृद्धि दर शून्य है ?



1. दसवें दिन के आसपास
 2. 20 वें दिन
 3. 20 से 30 दिनों के बीच
 4. 30 से 40 दिनों के बीच
18. लाल (R) बीजों वाले एक लंबे (T) पौधे (दोनों प्रमुख विशेषताएँ) को एक सफेद (r) बीजों वाले बौने (t) पौधे से संकरित किया गया था। यदि वृधनकारी संतति में समान संख्या में लंबे लाल व बौने सफेद पौधे पैदा किये तो उनके जनकों का जीन प्रकृत होगा ?

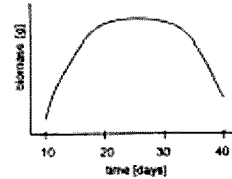
1. $TtRr \times TtRr$
2. $TtRr \times ttrr$
3. $TTRR \times ttrr$
4. $TTRR \times TtRr$

16. The strain in a solid subjected to continuous stress is plotted.



Which of the following statements is true?

1. The solid deforms elastically till the point of failure.
 2. The solid deforms plastically till the point of failure.
 3. The solid comes back to original shape and size on failure.
 4. The solid is permanently deformed on failure.
17. Growth of an organism was monitored at regular intervals of time, and is shown in the graph below. Around which time is the rate of growth zero?



1. Close to day 10.
 2. On day 20.
 3. Between days 20 and 30
 4. Between days 30 and 40.
18. A Tall plant with Red seeds (both dominant traits) was crossed with a dwarf plant with white seeds. If the segregating progeny produced equal number of tall red and dwarf white plants, what would be the genotype of the parents?

1. $TtRr \times TtRr$
2. $TtRr \times ttrr$
3. $TTRR \times ttrr$
4. $TTRR \times TtRr$

19. तीन सूर्यमुखी पौधों को नीचे दत्तर्तरी तर्की परिस्थितियों में रखा गया था

पौधा A : निरक्षत हवा में


पौधा B : समतल रूप से धुंधला हवा में

पौधा C : अंधेरे व निरक्षत हवा में

निम्न में से कौनसा कथन सही है ?

1. पौधा B की पारसपशन दर > पौधा A की दर से
2. पौधा A की पारसपशन दर > पौधा B की दर से
3. पौधा C की पारसपशन दर = पौधा A की पारसपशन दर
4. पौधा C की पारसपशन दर > पौधा A की पारसपशन दर > पौधा B की पारसपशन दर

20. तल्लत तिल के द्वारा निम्न में से कौनसा उचित होता है



1. $a + ab + ab^2 + \dots = a/(1-b)$ for $|b| < 1$
2. $a > b$ से तल्लत $a^3 > b^3$
3. $(a+b)^2 = a^2 + 2ab + b^2$
4. $a > b$ से तल्लत $-a < -b$

19. Three sunflower plants were placed in conditions as indicated below.

Plant A : still air

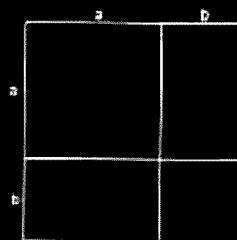
Plant B : moderately turbulent air

Plant C : still air in the dark

Which of the following statements is correct?

1. Transpiration rate of plant B > that of plant A.
2. Transpiration rate of plant A > that of plant B.
3. Transpiration rate of plant C = that of plant A.
4. Transpiration rate of plant C > that of plant A > that of plant B.

20. Which of the following is indicated by the accompanying diagram?



1. $a + ab + ab^2 + \dots = a/(1-b)$ for $|b| < 1$
2. $a > b$ implies $a^3 > b^3$
3. $(a+b)^2 = a^2 + 2ab + b^2$
4. $a > b$ implies $-a < -b$

भाग B

21. यदि न्युक्लिओसाइड के pH को 7 से 3 तक घटा दिया जाए तो एडिनोसिन की कौन-सी हाइड्रोजन प्रोटोनेट हो जाएगी ?
- | | |
|-------|-------|
| 1. N1 | 2. N3 |
| 3. N7 | 4. N9 |
22. ओलिगोपेटाइड F-A-R-P-M-T-S-R-P-G-F को ट्रिप्सिन, च्यमोट्रिप्सिन और कार्बोक्सीपेप्टिडेज-B द्वारा उपवासित किया गया। मूल पेटाइड के अतिरिक्त, प्राप्त खंडों की संख्या होगी :
- | | |
|------|------|
| 1. 4 | 2. 3 |
| 3. 2 | 4. 0 |
23. B-डीएनए के स्थायीकरण में निम्न में से कौन-सी अन्वेष-क्रिया प्रमुख भूमिका निर्वहन करती है
1. हाइड्रोजन आबंध
 2. जलमौल अन्वेष-क्रिया
 3. वान डर वाल की अन्वेष-क्रिया
 4. आयनी अन्वेष-क्रिया
24. जैव-झिल्लियों का एक महत्वपूर्ण अणु, फॉस्फेटाइडिल सीरीन स्थित होता है
1. बाह्यपर्णक में परन्तु विशिष्ट परिस्थितियों में अंतःपर्णक में अदला-बदली करता है।
 2. दोनों ही पर्णकों में।
 3. द्विपरत के मध्य में।
 4. अंतःपर्णक में परन्तु विशिष्ट परिस्थितियों में बाह्यपर्णक में अदला-बदली करता है।
25. लियोसोम को एक लक्ष निर्दिष्ट औषधीय वितरण वाहक के रूप में उपयोग किए जाने पर प्रमुख अयुक्ति इसलिये है कि
1. यह लक्षितोत्तमों में भ्रमकणु क्रिया द्वारा आतरीकृत हो जाता है।
 2. यह अत्यंत अस्थायी है और इसकी स्वरूप-जीवन अवधि न्यून होती है।
 3. यह कोशिकीय झिल्लियों के बीच अंतर्स्तरित हो जाता है।
 4. इसकी औषधि संहारण दक्षता अत्यंत न्यून होती है।

PART B

21. Which nitrogen of adenosine gets protonated if the pH of the nucleoside is lowered from 7 to 3?
- | | |
|-------|-------|
| 1. N1 | 2. N3 |
| 3. N7 | 4. N9 |
22. The oligopeptide, F-A-R-P-M-T-S-R-P-G-F, is treated with trypsin, chymotrypsin and carboxypeptidase-B. Apart from the original peptide, the number of fragments obtained will be:
- | | |
|------|------|
| 1. 4 | 2. 3 |
| 3. 2 | 4. 0 |
23. Which one of the following interaction plays a major role in stabilizing B-DNA?
1. Hydrogen bond
 2. Hydrophobic interaction
 3. Van der Waal's interaction
 4. Ionic interaction
24. Phosphatidyl serine, an important component of biological membrane, is located in
1. the outer leaflet but flipflops to inner leaflet under specific conditions.
 2. both the leaflets.
 3. the middle of the bilayer.
 4. the inner leaflet but flipflops to outer leaflet under specific conditions.
25. Major disadvantage of using liposome as a targeted drug delivery vehicle is that
1. it gets internalized by phagocytosis inside lysosomes.
 2. it is very unstable and has low shelf-life.
 3. it gets intercalated in cell membranes.
 4. its drug entrapment efficiency is very low.

26. जीवजन्तुओं में बीजाणु निर्माण हेतु प्रमुख उद्दीपन प्रदान किया जाता है

1. पोषण के निरन्धन द्वारा
2. ताप तनाव द्वारा
3. ऑक्सीजन तनाव द्वारा
4. pH तनाव द्वारा

27. ATP-बन्धन कॅसेट (ABC) वाहक

1. सभी के सभी P-ग्लाइकोप्रोटीन होते हैं।
2. मात्र यूकैरियोटों में ही पाए जाते हैं।
3. दोनों ही हैं किशायर की पहचान करने वाले सिग्नल-जनक प्रोटीन और ATP-आधारण प्रोटीन।
4. प्रणाली का निर्माण कर स्थानांतरण को प्रभावित करते हैं।

28. सभी ट्रांसक्रिप्टिवेसी प्रोटीन ऐसे कोन्डकोस निर्माण सूचक धारण करती हैं जो प्रोसेस केन्द्रक में उस अवधि में बाहर निकालना संभव करती हैं, जब यह

1. अर्धसूत्रण के उपरान्त पुनः संयोजित होता है।
2. सूत्रण के उपरान्त पुनः संयोजित होता है।
3. अर्धसूत्रण एवं सूत्रण दोनों ही के उपरान्त पुनः संयोजित होता है।
4. डीएनए प्रतिकृतिकरण के उपरान्त पुनः संयोजित होता है।

29. स्वतन्त्र-विशिष्ट पुनर्संयोजन के फलस्वरूप सुरूपण डी एन ए पुनर्व्यवस्थाएं निर्मित होती हैं लेकिन यह विशिष्ट अनुक्रमों तक ही सीमित होती है। इस क्रिया को सम्पन्न करने के लिए आवश्यक एन्जाइम हैं

1. रेस्ट्रिक्शन एन्डोन्यूक्लियरेज और डीएनए पॉलीमरेज
2. न्यूक्लियेज और लाइगेज
3. डीएनए पॉलीमरेज और लाइगेज
4. डीएनए पॉलीमरेज और डीएनए गायरेज

30. लघु हस्तक्षेपकारी आरएनए (siRNA) के सन्दर्भ में निम्न में से कौन-सा कथन सत्य नहीं है ?

1. siRNA में 21-25 न्यूक्लियोटाइड अनुक्रम विद्यमान होते हैं जिनमें से दो 3' सीधों पर प्रलम्बित (लटकती) रहते हैं।
2. siRNA आर एन ए-प्रोटीन जटिल (RISC) द्वारा संशोधित किया जाता है।
3. siRNA प्रायः विषाणुओं द्वारा अभिप्रेरित होता है।
4. siRNA सामान्यतः अनुलेखन के स्तर पर कार्य नहीं करता है।

26. Major stimulus for spore formation in bacteria is

1. nutrition limitation.
2. heat stress.
3. cold stress.
4. pH stress.

27. A TP-binding cassette (ABC) transporters

1. are all P-glycoproteins.
2. are found only in eukaryotes.
3. are both: a membrane-spanning domain that recognizes the substrate and an ATP-binding domain.
4. affect translocation by forming channels.

28. All cytosolic proteins have nuclear export signals that allow them to be removed from the nucleus when it reassembles after

1. meiosis.
2. mitosis.
3. both meiosis and mitosis.
4. DNA replication

29. Site-specific recombination results in precise DNA rearrangements, which is limited to specific sequences. The enzymes that are important to carry out the process are

1. restriction endonuclease and DNA polymerase.
2. nuclease and ligase.
3. DNA polymerase and ligase.
4. DNA polymerase and DNA gyrase.

30. Which of the following statements is NOT true about small interfering RNA (siRNA)?

1. siRNA has a 21-25 nucleotide sequence with 2 nucleotides overhanging at the 3' end.
2. siRNA is processed by the RNA-protein complex RISC.
3. siRNA is often induced by viruses.
4. siRNA does not generally act at the level of transcription.

31. **Pre-B** कोशिकाओं का फॉस्फोल ऐस्टर को सक्रिय करने के संदर्भ में निम्न में से कौन-सा कथन असत्य है ?

1. फॉस्फोल ऐस्टर NF κ B को केन्द्रक में स्थानांतरण के लिए सक्रिय करते हैं ।
2. फॉस्फोल ऐस्टर प्रोटीन काइनेज C को सक्रिय करते हैं ।
3. फॉस्फोल ऐस्टर NF κ B का फॉस्फोरिलीकरण सम्मान करते हैं ।
4. फॉस्फोल ऐस्टर कोशिकाद्रव्य में विद्यमान क्रियाविहीन NF κ B में से सक्रियक बनाते हैं ।

32. mRNA में एक आंतरिक राइबोसोम प्रवेश स्थल (IRES) की उपस्थिति

1. इसके अनुवाद को संदमित करती है ।
2. इसके अनुलेखनोपचार संसाधन को अयसरित करती है ।
3. इसके अनुवाद पर कोई प्रभाव नहीं डालती ।
4. विपरीत परिस्थितियों में इसके अनुवाद को अयसरित करती है ।

33. राइबोसोमी आरएनए जीनों की अभिव्यक्ति को नियंत्रक तत्व पाए जाते हैं

1. अनुलेखित अंतरक क्षेत्र में ।
2. अनुलेखन-विहीन अंतरक क्षेत्र में ।
3. प्रथम राइबोसोमी आरएनए जीनों के 5' पारिविक क्षेत्र में ।
4. जीनों में विद्यमान आंतरिक क्षेत्रों में ।

34. माइकोबैक्टीरियम ट्यूबरकुलोसिस एक आंतरकोशिकी जीवाणु है जो बरीयतः संक्रमित करता है

1. बृहत् शशिकाणुओं को
2. B-कोशिकाओं को
3. T-कोशिकाओं को
4. न्यूट्रोफिलों को

35. इंटेग्रिन अनु कोशिका के एक्टिन साइटोपेजिज के साथ कोशिका बाह्य आवरण (ECM) की सहलग्न करते हैं । इस अभिक्रिया में इंटेग्रिन निम्न में से किस E.M. बृहदअणु के साथ आबंधित हो जाता है ।

1. लेमिनिन के साथ
2. कोलेजिन के साथ
3. फाइब्रोनेक्टिन के साथ
4. विट्रोनेक्टिन के साथ

31. Which of the following statements is **INCORRECT** in relation to treatment of pre-B cells with phorbol esters ?

1. Phorbol esters activate NF κ B for translocation into the nucleus.
2. Phorbol esters activate protein kinase C.
3. Phorbol esters lead to phosphorylation of NF κ B.
4. Phorbol esters remove the inhibitor from inactive NF κ B complex in the cytoplasm.

32. Presence of an internal ribosome entry site (IRES) in mRNA

1. inhibits its translation.
2. promotes its post-transcriptional processing.
3. has no impact on its translation.
4. promotes its translation under adverse conditions.

33. Regulatory elements for expression of ribosomal RNA genes reside in the

1. transcribed spacer region.
2. non-transcribed spacer region.
3. 5' flanking region of individual ribosomal RNA genes.
4. internal regions within the genes.

34. *Mycobacterium tuberculosis* is an intra-cellular bacterium. It prefers to infect

1. macrophages.
2. B-cells.
3. T-cells.
4. neutrophils.

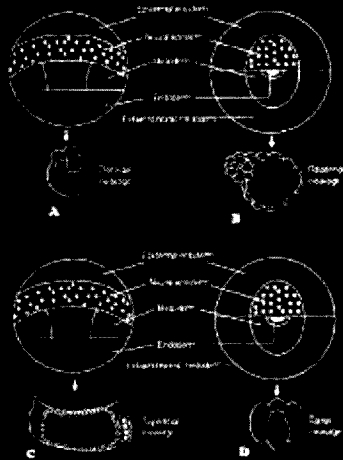
35. Integrin molecules link extracellular matrix (ECM) to the actin cytoskeleton of cell. Integrin binds to which of the following ECM macromolecules?

1. Laminin
2. Collagen
3. Fibronectin
4. Vitronectin

36. CD19 चिह्नक होता है

1. B-कोशिकाओं का ।
2. T-कोशिकाओं का ।
3. वृद्ध भटिकाणुओं का ।
4. NK कोशिकाओं का ।

37. नीचे दो जीवों के नियति मानचित्र और वे बदलियाँ दिखाई गई हैं जिनसे उनके भ्रूण विकसित होते हैं । निम्न में से कौन-सा संयोजन सही है ?



1. A एवं B
2. B एवं A
3. A एवं C
4. B एवं D

38. ओन्कोजीन-प्रोटीन उत्पाद का निम्न में से कौन-सा सुमेलन सही नहीं है ।

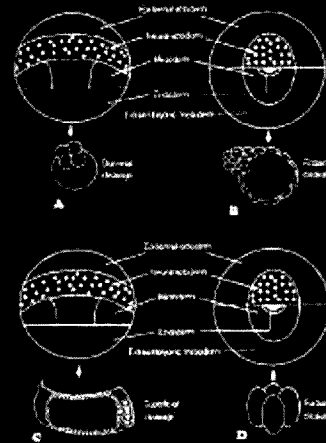
1. *erbA* - थायरॉइड हार्मोन प्राप्ति ।
2. *erbB* - कर्करोग वृद्धि कारक प्राप्ति ।
3. *ras* - प्लासीन-सुविनिलोटाइड GTPएज सक्रियता के साथ आवेधन ।
4. *fos* - विन्यास-सुरक्षण वृद्धि कारक प्राप्ति ।

39. शुक्राणुजननीय भ्रूण कोशिकाएँ शुक्राणु में परिवर्तित होने से पूर्व विभक्ता कायंतरण अनुभव करती हैं । अर्धसूत्रण के फलस्वरूप बनने वाले शुक्राणु में 22 अखिण सूत्र और एक सिंग गुणसूत्र विद्यमान अणु सन्तदाय में एक ऐसा पुलिंग सूत्रक भी पाया गया जो सम्मगम के उपरान्त मात्र पुलिंग शिशु ही उत्पन्न करता था । इस स्थिति का संभावित कारण निम्न में से कौन-सा हो सकता है ?

36. CD19 is a marker for

1. B-cells.
2. T-cells.
3. macrophages.
4. NK cells.

37. Given below are fate maps of two organisms and the patterns by which embryos undergo cleavage. Which of the following is/are the right combination(s)?



1. B only
2. B and A
3. A and C
4. B and D

38. Which one of the following matches of oncogene-protein product is NOT correct?

1. *erbA* - thyroid hormone receptor.
2. *erbB* - epidermal growth factor receptor.
3. *ras* - guanine nucleotide binding protein with GTPase activity.
4. *fos* - platelet-derived growth factor receptor.

39. Spermatogonial stem cell undergoes extensive metamorphosis to become a spermatozoan. Meiosis leads to the formation of spermatid containing 22 autosomes and one sex chromosome. A male mouse was found in a colony which always produced only female pups upon mating. Which one of following is a possible reason?

1. शुक्राणुजनन नुटिपूर्ण था।
 2. सभी शुक्राणुजननीय भ्रूण कोशिकाओं में मात्र X गुणसूत्र विद्यमान थे, Y नहीं।
 3. Y गुणसूत्र सहलग्न अर्धसूत्रण उपरत मृत्यु संकीर्ण जीन सक्रियण के फलस्वरूप यह स्थिति उत्पन्न हुई होगी।
 4. X गुणसूत्र सहलग्न अर्धसूत्रण उपरत मृत्यु संकीर्ण जीन सक्रियण के फलस्वरूप यह स्थिति उत्पन्न हुई होगी।
40. *Xenopus laevis* में न्यूकोप केन्द्र और स्पेमान के संगठक का निर्माण करने वाली कोशिकाएँ कौन-सी होती हैं ?
1. अंतर्जनस्तर एवं मध्यजनस्तर क्रमशः
 2. मध्यजनस्तर एवं अंतर्जनस्तर क्रमशः
 3. अंतर्जनस्तर एवं बाह्यजनस्तर क्रमशः
 4. बाह्यजनस्तर एवं अंतर्जनस्तर क्रमशः
41. *ced-9* जीन ऐसा द्विकर्मी स्विच प्रतीत होता है जो सूत्रीक्रियों में कोशिकीय उत्तारजीवित्ता और एपोप्टोसिस दोनों ही को नियंत्रित करती है। यह संज्ञान में लाते हुए कि *CED-9* प्रोटीन, *CED-4* प्रोटीन के साथ आबंधन और इसका निष्क्रियण दोनों ही कर सकती है, निम्न में से किस के कारण एपोप्टोसिस संभव होगा ?
1. *ced-9* जीन का सक्रियण।
 2. *CED-3* की कार्यशीलता का ह्रास।
 3. *ced-9* की कार्यशीलता का ह्रास।
 4. *CED-4* की कार्यशीलता का ह्रास।
42. प्रकाशतंत्र II, एक प्रकाशाभिर, जल-प्लास्टोक्विनोन ऑक्सिडोरेडिक्टैज के रूप में कार्य करता है। ऐसी दशा में उन दो अभिक्रिया केन्द्र प्रोटीनों के नाम कौन-कौन से होंगे जो P680, फेओफाइटिन और प्लास्टोक्विनोन जैसे इलेक्ट्रॉन स्थानांतरण प्रोत्सेडी समूहों का आबंधन करते हैं ?
1. CP43 और CP47
 2. D1 और D2
 3. 33 kDa और 23 kDa
 4. F_A और F_B
43. पादपों का विकास कई ऐसे प्रकाशाभिरों के साथ हुआ है जो प्रकाश के विशिष्ट तरंग-दैर्घ्य का अवशोषण कर सकते हैं। सुगित कीजिए कि प्रकाशाभिरों के सदर्भ में निम्न में से कौन-सा कथन सही है ?
1. प्रकाशाभिरक A, सुदूर लाल एवं नीले प्रकाश का अवशोषण कर सकता है।
 2. प्रकाशाभिरक C, सुदूर लाल प्रकाश का अवशोषण कर सकता है।
1. Spermogenesis was defective.
 2. All spermatogonial stem cells contained only X and no Y chromosome.
 3. activation of Y chromosome linked post-meiotic death related gene may lead to such a situation.
 4. activation of X chromosome linked post-meiotic death related gene may lead to such a situation.
40. In case of *Xenopus laevis*, which cells make up the Nieuwkoop centre and Spemann's organizer?
1. endodermal and mesodermal, respectively.
 2. mesodermal and endodermal, respectively.
 3. endodermal and ectodermal, respectively.
 4. ectodermal and endodermal, respectively.
41. The *ced-9* gene appears to be a binary switch that regulates cellular survival and apoptosis in nematodes. Considering that CED-9 protein can bind to and inactivate CED-4, which of the following would lead to apoptosis?
1. activation of *ced-9* gene.
 2. loss of function of CED-3.
 3. loss of function of *ced-9* gene.
 4. loss of function of CED-4.
42. Photosystem II functions as a light-dependent water-plastoquinone oxidoreductase. What are the names of two reaction center proteins that bind electron transfer prosthetic groups, such as P680, pheophytin and plastoquinone?
1. CP43 and CP47
 2. D1 and D2
 3. 33 kDa and 23 kDa
 4. F_A and F_B
43. Plants have evolved with multiple photoreceptors, which can perceive specific wavelength of light. Which one of the following statements is correct about the photoreceptors?
1. Phytochrome A can perceive far red and blue light.
 2. Phytochrome C can perceive far red light.

3. क्रिप्टोक्रोम I और फिटोक्रोम B नीले प्रकाश के अवशोषण के लिए उत्तरदायी होते हैं ।
4. फिटोक्रोम B मुख्यतः लाल प्रकाश का प्रमुखतापूर्वक अवशोषण कर सकता है ।
44. क्लोरोफिल भाग्य की प्रक्रिया की व्यष्टि निम्न में से कौन-सा कथन करता है ?
1. ट्रायोज फॉस्फेट का परिवहन हरितलवक से कोशिका विलेय की ओर होता है ।
 2. शर्कराओं का परिवहन आसानी से कोशिकाओं और सखी कोशिकाओं में होती है ।
 3. शर्कराओं का परिवहन मजबूत की उत्पादी कोशिकाओं से आसानी से कोशिकाओं की समीपवर्ती कोशिकाओं में होता है ।
 4. विलेयों का परिवहन जड़ों से प्रसंगों में होता है ।
45. टर्पेन का संश्लेषण निम्न में से कौन से द्वितीयक बायोसंश्लेषण रास्ता-सहलेदी पथिकाओं के संश्लेषण द्वारा सम्पन्न किया जाता है ?
1. मेवालोनिनिक अम्ल और MEP पथिकाएँ ।
 2. मालोनिनिक अम्ल और MEP पथिकाएँ ।
 3. शिकिमिक अम्ल और मेवालोनिनिक अम्ल पथिकाएँ ।
 4. शिकिमिक अम्ल और मेवालोनिनिक अम्ल पथिकाएँ ।
46. यदि अनुक्रमी तंत्रिकाओं के उत्प्रेरण से हृदय की स्थिति दर बढ़ जाए तो हृदय के मोटीय ऊतक की कोशिका झिल्ली में निम्न परिवर्तनों में से कौन-सा हो जाएगा ?
1. सोडियम प्रवाहों का खुलना सरल हो जाता है ।
 2. पोटैशियम संवहन बढ़ जाता है ।
 3. L-कैल्शियम प्रवाहों का खुलना सरल हो जाता है ।
 4. 'h' प्रवाह संदमित हो जाते हैं ।
47. कोई व्यक्ति प्रातः 8.00 बजे (8.00 A.M.) पर 1.0 मिली अंतःश्लेषण इंसुलिन ग्रहण करता है । उसके पुत्र ने यह ध्यान रखते हुए कि पिता दोपहर में भोजन में जाएंगे और अधिक मात्रा में भोजन ग्रहण करेंगे, उसे 1.5 मिली इंसुलिन का इन्जेक्शन प्रातः 8.00 बजे लगा दिया । पिता ने यह सोचते हुए कि दोपहर भोजन में तो अधिक खाया ही होगा, नाराज़ा ग्रहण ही नहीं किया । ऐसे में निम्न में से कौन-सी स्थिति उत्पन्न हो जाएगी ?
1. पिता नॉर्मोग्लाइसेमिक हो जाएगा ।
 2. पिता दोपहर भोजन से पूर्व निम्न ग्लाइसेमिक स्थिति में होगा ।
47. Cryptochrome I and phytochrome B are responsible for perceiving blue light.
47. Phytochrome B can predominantly perceive far red light.
44. Which one of the following statement describes the process of photo loading?
1. Triose phosphate is transported from the chloroplast to cytosol.
 2. Sugars are transported into the sieve elements and companion cells.
 3. Sugars are transported from producing cells in the mesophyll to cells in the vicinity of the sieve elements.
 4. Solutes are transported from roots to the shoots.
45. Which one of the following combinations of secondary metabolite biosynthetic pathways result in the biosynthesis of terpenes?
1. Mevalonic acid and MEP pathways.
 2. Malonic acid and MEP pathways.
 3. Shikimic acid and Malonic acid pathways.
 4. Shikimic acid and Mevalonic acid pathways.
46. Which one of the following changes will occur in the cell membrane of nodal tissue of heart, which results in an increased heart rate due to stimulation of sympathetic nerves?
1. Opening of sodium channels is facilitated.
 2. Potassium conductance is increased.
 3. Opening of L-calcium channels are facilitated.
 4. 'h' channels are inhibited.
47. A person takes 1.0 ml of insulin injection daily at 8.00 AM. His son gave him 1.5 ml insulin at 8.00 AM considering the father will go to party and eat more during lunch. The father also avoided breakfast, as he planned to eat more during lunch. Which one of the following events will occur?
1. Father will be normoglycemic.
 2. Father will be in hypoglycemic condition before lunch.

3. पिता दोपहर भोजन से पूर्व उच्च ग्लाइसेमिक स्थिति में होगा ।
4. पिता का रक्त शर्करा स्तर दोपहर का भोजन ग्रहण करने के उपरांत निम्न होगा ।
48. यह कल्पना करते हुए कि उनका स्वतंत्र अपव्यूहन हो रहा है तो किसी AaBbccDDEe जीन-प्रकृति द्वारा कितने आनुवंशिक अलग-अलग शुभ्रक बनाए जा सकते हैं ?
1. 3 2. 5
3. 8 4. 32
49. किसी एक ही जीन के दो अलग-अलग विस्वर्ती पर उत्परिवर्तन के फलस्वरूप कार्यात्मकताओं में परिवर्तन हो जाते हैं । जीन X के ऐसे दो उत्परिवर्ती स्थावर कहलाएंगे
1. एल्लेल् ।
2. पूरकीय समूह ।
3. व्यवधानित जीन ।
4. सहलग्न समूह ।
50. tRNA का कूटन करने वाली किसी जीन के विकृत क्षेत्र में ऐसी उत्परिवर्ती घटना होती है जिसके फलस्वरूप वह एक उत्परिवर्ती निरर्थक कूटक (कोडोन) की पहचान करने लगती है और अनुवाद की पूर्णता संभव हो जाती है । ऐसा उत्परिवर्तन कहलाता है
1. मौन उत्परिवर्तन ।
2. उदासीन उत्परिवर्तन ।
3. प्रत्यावर्तन ।
4. निरर्थक सदात्मन ।
51. मक्के की दो शुद्ध बनावटियों में भुट्टों की लम्बाई का क्रमशः 9 और 3 इंच है । इस लक्षण से सम्बद्ध सभी 'पॉलीजीन' योगात्मक जीन क्रियात्मकता दर्शाती हैं । यदि इन दोनों बनावटियों का संकरण किया जाय तो इस प्रकार प्राप्त संतति में बने वाले भुट्टों की औसत लम्बाई (इंचों में) होगी ?
1. 12.0 2. 7.5
3. 6.0 4. 2.75
52. जैविक कृषि में निम्न में से कौन-सा जीव, व्यापक रूप से जीव नियंत्रक कारक के रूप में उपयोग किया जाता है ?
1. *राइजोबियम टॉपिकाई*
2. *ट्राइकोडर्मा विरिडिस*
3. *फ्यूजैरियम ऑक्स्योसोरम*
4. *नोस्टोक मस्कोरियम*

3. Father will be in hyperglycemic condition before lunch.
4. Blood glucose of father will be low after taking lunch.
48. How many genetically different gametes can be made by an individual of genotype AaBbccDDEe, assuming they are independently assorting?
1. 3 2. 5
3. 8 4. 32
49. Mutation at two different loci of the same gene X results in altered functions. These two mutated versions of the gene X are called
1. alleles.
2. complementation groups.
3. interrupted genes.
4. linkage groups.
50. A gene encoding tRNA undergoes a mutational event in its anticodon region that enables it to recognize a mutant nonsense codon and permit completion of translation. Such a mutation is known as
1. silent mutation.
2. neutral mutation.
3. reversion.
4. nonsense suppressor.
51. Two pure lines of corn have mean cob length of 9 and 3 inches, respectively. The polygenes involved in this trait exhibit additive gene action. Crossing these two lines is expected to produce a progeny population with mean cob length (in inches) of:
1. 12.0 2. 7.5
3. 6.0 4. 2.75
52. Which of the following organism is widely used as a biocontrol agent in organic farming?
1. *Rhizobium tropici*
2. *Trichoderma viridis*
3. *Fusarium oxysporum*
4. *Nostoc muscorum*

53. किसी परजातिवृत्तीय समूह में

1. असम्बन्धित जीव विद्यमान होते हैं ।
2. अपने हास के निकटवर्ती सामान्य पूर्वज तो विद्यमान होते हैं लेकिन इसके सभी वंशज नहीं ।
3. वृक्ष के सभी सम्बन्धी प्रतिनिधि तो विद्यमान होते हैं लेकिन हास के निकटवर्ती सामान्य पूर्वज नहीं ।
4. वृक्ष के सभी सम्बन्धी प्रतिनिधि और हास के निकटवर्ती पूर्वज विद्यमान होते हैं ।

54. किसी मरुद्विहीन पादप का निम्न में से जिन-वा अनुकूलन लक्षण नहीं है ।

1. भारीभारी परिवर्धित दृवोत्तक ।
2. गहरीबीज (घसे हुए) रंध ।
3. दूर-दूर विस्तारित रंध ।
4. अवकाशिकाओं-युक्त ऊतकों का विद्यमान होना ।

55. यदि दूध को खुला छोड़ दिया जाय, तो लैक्टोस प्रथमतः किण्वित होकर अम्ल में परिवर्तित हो जाती है । इसके बाद होने वाली जीवाणविक्रियाशीलता के फलस्वरूप pH बढ़ जाता है । अतः दूध की वक्ताएँ अपघटित होकर विश्वरामधिता उत्पन्न करती हैं । यह उदाहरण है

1. पारिस्थितिक अनुक्रमण का ।
2. सूक्ष्मजीविक विरोध का ।
3. व्यतिकरण प्रतिद्वंद्वता का ।
4. सूक्ष्मपिका का ।

56. लक्ष्मीजीव जैविक नाइट्रोजन स्वाधीकरण नीचे की तालिका में दर्शाए नामों के अनुसार एक पादप एवं नाइट्रोजन स्वाधीकर प्राक्कैरियोट के बीच सम्बन्ध से ही सम्भव होता है :

पादपों के नाम	नाइट्रोजन बंधक
A. सोयबीन	(i) फ्रान्किया
B. कॅजुअरिया	(ii) ब्रेडीराइजोबियम
C. गुनेरा	(iii) एनाबाेना
D. ऐजोला	(iv) नोस्टोक

सही संयोजन है :

1. A-i, B-ii, C-iii, D-iv
2. A-ii, B-i, C-iv, D-iii
3. A-iii, B-ii, C-i, D-iv
4. A-iv, B-iii, C-ii, D-i

53. A paraphyletic group

1. contains unrelated organisms.
2. includes the most recent common ancestor but not all of its descendants.
3. includes all the representatives of a clade but not the most recent common ancestor.
4. contains all the representatives of a clade and the most recent common ancestor.

54. Which of the following is NOT an adaptive modification in a xerophytic plant?

1. Strongly developed sclerenchyma.
2. Sunken stomata.
3. Sparse stomata.
4. Presence of lacunar tissues.

55. If milk is left open, lactose is fermented first to produce acid. This is followed by proteolytic bacterial activity which increases the pH. Ultimately milk fats are degraded to produce rancidity. This is an example of

1. ecological succession.
2. microbial antagonism.
3. interference competition.
4. microevolution.

56. Symbiotic biological nitrogen fixation takes place with the association between a plant and a nitrogen fixing prokaryote as shown in the following table:

I. list of plants	Nitrogen fixing
A. Soybean	(i) Frankia
B. Casuarina	(ii) Bradyrhizobium
C. Gunnera	(iii) Anabaena
D. Azolla	(iv) Nostoc

The correct combination is:

1. A-i, B-ii, C-iii, D-iv
2. A-ii, B-i, C-iv, D-iii
3. A-iii, B-ii, C-i, D-iv
4. A-iv, B-iii, C-ii, D-i

57. द्वितीयक बाहिमल उपचार से सम्बद्ध प्रक्रियाएँ हैं

1. प्रदूषित जल में से छानन एवं अवसादन द्वारा ठोस पदार्थों को शारीरिक रूप से हटाना ।
2. रासायनिक अवशेषों का अवक्षेपण कर हटाना ।
3. विलेयित जैविक यौगिकों को सक्रियित अवपक (कीचड़) अथवा टपकन छानन द्वारा हटाना ।
4. सूक्ष्मजीविक रोगजनकों को क्लोरीनन अथवा ओजोनन द्वारा हटाना ।

58. प्रति अणु की दर से निम्न गैसों में से कौन-सी 'हरित गृह प्रभाव' उत्पन्न करने के लिए सबसे अधिक शक्तिशाली है ?

1. CO₂
2. CH₄
3. N₂O
4. CFCs

59. लैंगिक चयन के फलस्वरूप पुंजातियों की जनन सफलता में विविधता उत्पन्न होती है जिसका कारण है विशिष्ट लक्षणप्ररूपी स्त्री-जातियों का चयन। इस प्रकार का लैंगिक चयन होता है क्योंकि

1. पुंजाति अन्य पुंजातियों के साथ प्रतिद्वन्द्वता नहीं कर सकते ।
2. स्त्रीजातियों के प्रजनन की लागत पुंजातियों से कहीं अधिक होती है ।
3. अनुपयुक्त समग्रम के फलस्वरूप स्त्रीजातियों एवं पुंजातियों की समता में समान छान होता है ।
4. पुंजाति, स्त्रीजातियों के लिए सीमकारी स्रोत होते हैं ।

60. जीवन के इतिहास में सम्मान हुए निम्न घटनाक्रमों

- a - प्रोकैरियोटी कोशिका
- b - यूकैरियोटी कोशिका
- c - प्राकृतिक चयन
- d - जैविक अणु
- e - स्वतः-प्रतिकृतिकरण अणु

का सही कालानुक्रम है ?

1. d, c, e, a, b
2. d, e, a, b, c
3. e, d, a, c, b
4. d, e, a, c, b

61. हार्डी-वाइनबर्ग सिद्धांत तब लागू होता है जब मेन्डेलियन जीन किसी जनसंख्या में कार्य सम्पन्न कर रहे हों। यह प्रतिरूप (मॉडल) ऐसी भविष्यवाणी करता है कि ऐतल बाह्यकारकों में कोई परिवर्तन नहीं होगा जब

57. Secondary sewage treatment involves

1. physical removal of solids from polluted water by filtration and sedimentation.
2. removal of chemical remains by precipitation.
3. removal of dissolved organic compounds by activated sludge or trickling filter.
4. removal of microbial pathogens by chlorination or ozonization.

58. Based on per molecule, which of the following gas has the most powerful greenhouse effect?

1. CO₂
2. CH₄
3. N₂O
4. CFCs

59. Sexual selection results in variation in the reproductive success of males, often due to female choice with particular phenotypes. This type of sexual selection occurs because

1. males cannot compete with other males.
2. cost of breeding is higher for females as compared to males.
3. inappropriate mating results in a similar reduction in fitness of females and males.
4. males are a limiting resource for females.

60. Among the following events in the history of life

- a - prokaryotic cell
- b - eukaryotic cell
- c - natural selection
- d - organic molecules
- e - self-replicating molecules

which is the correct chronological order?

1. d, c, e, a, b
2. d, e, a, b, c
3. e, d, a, c, b
4. d, e, a, c, b

61. The Hardy-Weinberg principle comes from considering what happens when Mendelian genes act in a population. The model predicts that there will be no change in allele frequencies when

1. जनसंख्या में एकलन स्थायी दर से हो रहा है।
 2. जनसंख्या में व्यक्तान् जनन हो गया है।
 3. किसी विश्व आनुवंशिकी में फलस्वरूप बहुत अस्वाभाविक हो।
 4. कोई विकास-सम्बन्धी प्रक्रिया चलाने में हो रहा है।
62. निम्न में से कौन-सी स्थिति प्रथम बार पर्यवेक्षण करने वाले मूषकों में प्रसव के उपरान्त मातृत्व व्यवहार का प्रारम्भ करने के लिए उत्तरदायी है ?
1. रक्त में उच्च प्रोलेक्टिन स्तर।
 2. प्रसव के मध्य लम्बी श्वासात्मक अवधि।
 3. गर्भाशय के आयतन में परिवर्तन।
 4. मूषकों की उपस्थिति।
63. किसी आर्थ्रोपोड की प्रकृत पर आनुवंशिकता की परख के लिए जिसको जन्तुओं का उपयोग एक जगह निम्न में से कौन-से कोशिका समूह का उपयोग "छात्र" किया जा सकता है, जो "जीव" के विद्युत् संचित हो ?
1. प्रकृत की कोशिकाएँ।
 2. प्रकृत की वशावली की कोशिकाएँ।
 3. प्रकृत की फल/अणु।
 4. प्रकृत की प्रकृत की जीव कुचक कोशिकाओं का तंतु-संयोजन।
64. निम्न में से कौन-सा पादप-उपचारी युक्ति नहीं है ?
1. पादप-अवशोषण।
 2. पादप-सूत्रण।
 3. अधि संश्लेषण की सहायता से सदा छाया प्राप्त।
 4. प्रदूषकों का वीर्य-माध्यमिक निष्कर्षण।
65. "फिक्शन" शब्द जीव-रासायनिकी एवं सूक्ष्मजीवी तकनीक में अत्यन्त-अव्यक्त प्रक्रियाओं के लिए उपयोग किया जाता है। यदि उनमें से पूर्वपक्षी को C और नरकक्षी को T कहा जाय तो निम्न में से कौन-सा कथन सत्य है ?
1. सभी C, T होते हैं लेकिन सभी T, C नहीं होते।
 2. सभी T, C होते हैं, परन्तु सभी C, T नहीं होते।
 3. T सर्वत्र आनुवंशिक अभिव्यक्ति के फलस्वरूप उत्पन्न होता है जबकि C नहीं।
 4. C सर्वत्र वायुजीवी प्रक्रिया होती है जबकि T वायुजीवी एवं अवायुजीवी दोनों ही प्रकार की हो सकती है।
66. ऐगोरोबैक्टीरियम (*Agrobacterium*) द्वारा पादप कोशिका के संक्रमण के लक्षण में निम्न में से कौन-सा कथन सत्य नहीं है ?
1. migration into the population occurs at a steady rate
 2. the population suffers a bottleneck
 3. a rare new mutation is associated with a sharp increase in fitness.
 4. no evolutionary process is at work.
62. Which of the following is responsible for initiation of maternal behaviour in the first-time pregnant rats after parturition?
1. Higher prolactin levels in blood.
 2. Stimulation of sensory receptors during delivery.
 3. Changes of uterine volume.
 4. Presence of male rats.
63. To replace animal use in testing hepatic toxicity of a drug on trial, which one of the following would be used *in vitro* to be closest to the *in vivo* scenario?
1. Liver cells.
 2. Hepatic cell lines.
 3. Liver slices.
 4. Co-culture of liver parenchymal cells and Kupfer cells.
64. Which of the following does not represent a strategy for phytoremediation?
1. Phytodegradation.
 2. Phytomining.
 3. Continuous removal through hyperaccumulators.
 4. Chelate-mediated extraction of pollutants.
65. The word "fermentation" is used in biochemistry and microbial technology to denote different phenomena. If the former is called C and latter is called T, which of the following statements is true?
1. All C is T but all T is not C.
 2. All T is C but all C is not T.
 3. T is always a product of genetic engineering while C is not.
 4. C is always an aerobic process, while T can be aerobic or anaerobic.
66. Which of the following statements is NOT true during the infection of plant cells with *Agrobacterium*?

1. उग्रता जीनों *virA* एवं *virG* के प्रोटीन उत्पाद ऐसिटोसिरींगोन का बोधन कर लेते हैं ।
 2. VirB प्रोटीन ऐग्रोबैक्टीरियम और पादप कोशिका के मध्य संबंध स्थापित कर पादप में T-DNA के स्थानांतरण में सहयोग करता है ।
 3. T-DNA कट कर VirD2 प्रोटीन से आवद्ध हो जाता है ।
 4. T-DNA, VirF से आसंघित होकर फॉस्फोरिलीकृत VIP1 से आवद्ध हो जाता है, और इस प्रकार निर्मित जटिल को पादप केन्द्रक में प्रवेश करने देता है ।
67. वर्तमान में उपलब्ध तकनीकों में से आप उचित रूप में निवेश के आकार और स्थायित्व का ध्यान रखते हुए 140 kb यूकैरियोटी जीनोमी डीएनए खंडों के पुस्तकालय का निर्माण करने के लिए निम्न में से कौन-से तकनीक-तंत्र को प्रयोग करेंगे ?
1. डिनोजी
 2. कॉस्मिड
 3. जीवाण्विक कृत्रिम गुणसूत्र (BAC)
 4. यीस्ट कृत्रिम गुणसूत्र (YAC)
68. यदि r सहसंबंध गुणांक और प्रतिक्रमण पंक्ति के ढलान को इंगित करता हो, तो X एवं Y अक्षों का आपस में बदलने से
1. m तो परिवर्तित हो जाएगा, लेकिन r नहीं ।
 2. r तो परिवर्तित हो जाएगा, लेकिन m नहीं ।
 3. r और m दोनों ही परिवर्तित हो जाएंगे ।
 4. दोनों r एवं m अपरिवर्तित रहेंगे ।
69. ELISA में बायोटिनायलेटीकृत प्रतिविड के उपयोग के फलस्वरूप
1. आभाषन की संवेदनशीलता तो बढ़ जाती है लेकिन विशिष्टता संकेत में घट/घट जाती है ।
 2. आभाषन की संवेदनशीलता बढ़ जाती है लेकिन विशिष्टता पर कोई प्रभाव नहीं पड़ता ।
 3. न तो संवेदनशीलता और न विशिष्टता ही प्रभावित होती है ।
 4. संवेदनशीलता और विशिष्टता दोनों ही घट जाती हैं ।
70. किसी स्तनपायी कोशिका वंशावली में माइकोप्लाज्मा संक्रमण के परीक्षण की सर्वोत्तम विधि कौन-सी है ?
1. सदर्न संकरण
 2. एलिसा (ELISA)
 3. पी सी आर (PCR)
 4. वेस्टर्न संकरण
1. The protein products of virulence genes *virA* and *virG* perceive acetosyringone.
 2. The VirB protein forms a connection between *Agrobacterium* and the plant cell and facilitates T-DNA transfer into the plant.
 3. The T-DNA is excised and bound to VirD2 protein.
 4. The T-DNA, after becoming coated with VirF binds to phosphorylated VIP1, which allows the complex to enter the plant's nucleus.
67. Among existing technologies, which of the following vector systems would you prefer to use for generating a library for 140 kb eukaryotic genomic DNA fragments, while giving due consideration to size as well as stability of the insert?
1. Phage
 2. Cosmid
 3. Bacterial artificial chromosome (BAC)
 4. Yeast artificial chromosome (YAC)
68. If r denotes the correlation coefficient and m denotes the slope of regression line, interchanging X and Y axes would
1. change m but not r
 2. change r but not m
 3. change both r and m
 4. not change r or m
69. The use of biotinylated secondary antibody in ELISA
1. increases the sensitivity of the assay but compromises the specificity
 2. increases the sensitivity of the assay without compromising the specificity
 3. does not alter either sensitivity or specificity
 4. decreases both sensitivity and specificity
70. Which is the best method for checking mycoplasma contamination in a mammalian cell line?
1. Southern hybridization
 2. ELISA
 3. PCR
 4. Western hybridization

भाग / PART C

71. एडीपी से एटीपी का कोम्पॉरिलीकरण कक्षा में नापेपेपस के माध्यम से होता है जिसमें ऑक्सीकारक कोम्पॉरिलीकरण अथवा माध्यम वाली कोम्पॉरिलीकरण अथवा अकार-कोम्पॉरिलीकरण (जानवों में) सम्निहित होते हैं। एटीपी का निर्माण एडीपी से एडीनायलेट काएनोज क्रियाशीलता के माध्यम से भी सम्भव है। एडीनायलेट काएनोज की रका-रका संरचना का विवरण दर्शाता है कि इसमें C-सिरीय क्षेत्र का क्रम होता है

- Val - Asp - Asp - Val - Phe - Ser - Gln - Val - Cys - Thr - His - Leu - Asp - Thr - Leu - Lys.

इस क्रम का सम्भावित सम्मुख्यन गिना में कौन सा हो सकता है ?

1. एक ऐसी कुडली-जो उभय संधेदी नहीं होती है
 2. उभय संधेदी कुडली
 3. ल्यूसीन जिप्पर कुडली
 4. बीटा हेयर गिन
71. Phosphorylation of ADP to ATP occurs through energy metabolism, comprising oxidative phosphorylation or substrate-level phosphorylation or photo-phosphorylation (in plants). ATP can also be formed from ADP through the action of adenylate kinase. Crystal structure determination of adenylate kinase shows that the C-terminal region has the sequence

- Val - Asp - Asp - Val - Phe - Ser - Gln - Val - Cys - Thr - His - Leu - Asp - Thr - Leu - Lys.

What can be a possible conformation of the sequence?

1. A helix that is not amphipathic
 2. Amphipathic helix
 3. Leucine zipper helix
 4. Beta hairpin
72. मात्र 100 ऐसे बंधको युक्त खिचके बागों और ठकण हो सकता है किरी 51-अवशिष्ट लम्बी प्रोटीन की कल्पना कीजिए। मात्र तीनजिए कि प्रति आकर में मात्र तीन अभिविगणस सम्भव हैं। इन पूर्वानुमानों के अन्तार पर इस प्रोटीन के कितने अभिविगणस सम्भव होंगे ?

1. 3^{100} 2. 100^3 3. 3^{51} 4. $51 \times 100 \times 3$

72. Consider a 51-residue long protein containing only 100 bonds about which rotation can occur. Assume that 3 orientations per bond are possible. Based on these assumptions, how many conformations will be possible for this protein?

1. 3^{100} 2. 100^3 3. 3^{51} 4. $51 \times 100 \times 3$

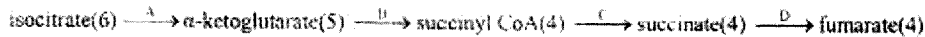
73. जब किरी एजाइम उद्येतिा अभिक्रिया के लिए V/V_{max} विपरीत $1/[S]$ के आलेख उरचना किया जाता है तो एक सीधी रेखा प्राप्त होती है। इस आलेख से K_m एवं V_{max} दोनों सुरुवा इगित कीजिए

1. मात्र V_{max} और ऐर-फेर सख्या K_m $1/V$ विपरीत $1/[S]$ के आलेख से ही प्राप्त किया जा सकता है
2. उलाय में K_m/V_{max}
3. V_{max} , K_m एर ऐर-फेर सख्या
4. मात्र K_m एर ऐर-फेर सख्या

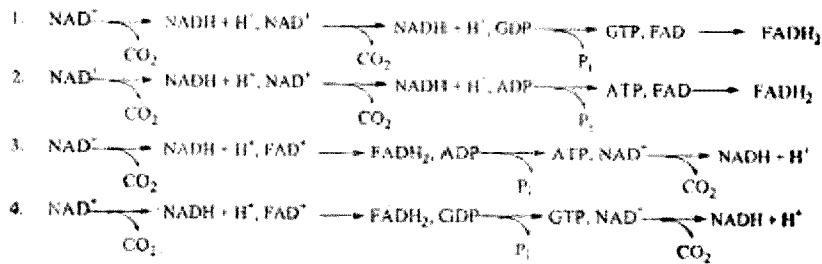
73. A plot of $V/[S]$ versus V is generated for an enzyme catalyzed reaction, and a straight line is obtained. Indicate the information that can be obtained from the plot.

1. V_{max} and turnover number K_m can be obtained only from a plot of $1/V$ versus $1/[S]$.
2. K_m/V_{max} from the slope.
3. V_{max} , K_m and turnover number.
4. Only K_m and turnover number.

74. सिट्रिक अम्ल चक्र में निम्न प्रतिक्रियाएं अंतर्निहित होती हैं। तयुकोलकों से दी गई संख्याएं प्रत्येक अणु में विद्यमान कार्बन के परमाणुओं की संख्या को दर्शाते हैं।



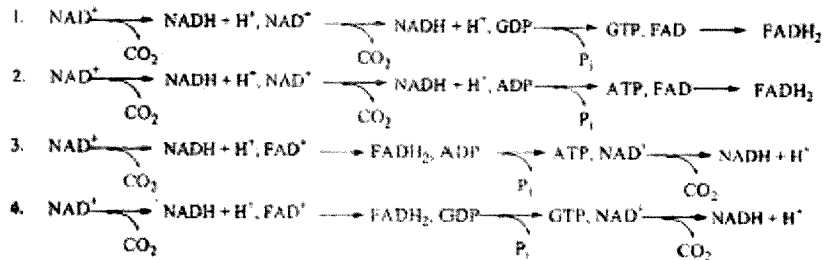
ऐसी स्थिति में प्रतिक्रिया तंत्रों A→D का निम्न में से कौन-सा कम सही है ?



74. The following reactions are part of the citric acid cycle. The numbers in parenthesis indicate the number of carbon atoms in each molecule.



Which one of the following sequences of reaction systems A→D is correct?



75. 0.1 M ग्लूकोज-1 फॉस्फेट (G-6-P) में फॉस्फोग्लूकोम्यूटेज मिलाया जाता है। $G-6-P \rightleftharpoons G-1-P$ का 25°C पर अभिक्रिया संबंधी स्तरीय अवमुक्त ऊर्जा परिवर्तन 1.8 kcal/mole है। इस अवस्था में G-6-P एवं G-1-P की संतुलन सांद्रताएं क्रमशः होंगी

1. 96 mM, 45 mM
2. 100 mM, 0 mM
3. 45 mM, 96 mM
4. 0 mM, 100 mM

75. Phosphoglucumutase is added to 0.1 M glucose-1-phosphate (G-6-P). The standard free energy change of the reaction, $G-6-P \rightleftharpoons G-1-P$ is 1.8 kcal/mole at 25°C. The equilibrium concentrations of G-6-P and G-1-P, respectively, are:

1. 96 mM, 45 mM
2. 100 mM, 0 mM
3. 45 mM, 96 mM
4. 0 mM, 100 mM

76. बछड़े के थाइमस की डीएनए का विशेषीकरण कैलोरीमेट्री अध्ययन तापीय विकृतीकरण (T_m), ΔH_m (T_m पर पूर्णतः परिवर्तन) और ΔC_p (सिंथेट-दान ताप धमता परिवर्तन) का मध्य बिन्दु मापन के लिए किया गया तो पाया गया कि $\Delta C_p = 0$, $T_m = 75.5^\circ\text{C}$ और $\Delta H_m = 50.4$ kcal/mole होते हैं। इस अवस्था में 37°C पर गिब्स (Gibbs) का अवमुक्त ऊर्जा परिवर्तन होता है।

1. 25.5 kcal/mole
2. 2.6 kcal/mole
3. 0.6 kcal/mole
4. 5.6 kcal/mole

76. Differential scanning calorimetric study of calf thymus DNA was carried out to measure midpoint of thermal denaturation (T_m), ΔH_m (enthalphy change at T_m) and ΔC_p (constant - pressure heat capacity change). It has been observed that $\Delta C_p = 0$, $T_m = 75.5^\circ\text{C}$ and $\Delta H_m = 50.4$ kcal/mole. The Gibbs free energy change at 37°C is

1. 25.5 kcal/mole
2. 2.6 kcal/mole
3. 0.6 kcal/mole
4. 5.6 kcal/mole

77. पृथीय सन्तुल्य (CF) घरा-झिल्लीय चालकता नियंत्रक प्रोटीन (CFTR) एक cAMP-अव्यती CI धारा होती है। इससे उच्च लेगियो (जिनमें CFTR उत्पत्ति होती है) घटी हुई CI परमायता और परिणामतः फलीने में उच्च CI स्तर दर्शाते हैं। इसे सिद्ध करने के लिए CFTR (बिना एन उत्पत्तिवाती दोनों ही प्रकार की) प्रोटीनों को एक प्रतिद्वंद्वी झिल्ली (लाइपोसॉम) में प्रविष्ट कराया गया और CI के परिवहन का निरूपण-सक्रिय CI से अनुकरण किया गया। यह भ्रू-भ्रूति जात है कि कला में CFTR का संस्थिति-विधान इसकी कार्यशीलता के लिए परमावश्यक होता है। साथ ही CFTR प्रोटीनों के बिना प्रोटीन अव्यतीक विघटन अथवा विकृतीकरण के बन्ध CFTR लिपोसॉम में CI परिवहन करने में असफल रहा।

इस प्रस्तावना के समर्थन के लिए निम्न में से कौन सा कथन सही है ?

1. लिपोसॉमों में अव्यतीकरण के साथ CFTR प्रोटीन उत्पत्तिवाती हो जाती है।
2. CFTR प्रोटीन के CI अव्यती के साथ अव्यतीकरण का दास हो जाता है।
3. लिपोसॉमों में CFTR प्रोटीन का सुदृश्य अव्यतीकरण होता है।
4. लिपोसॉमों में CFTR प्रोटीन के प्रभाव निमात्री गुण का दास हो जाता है।

77. Cystic fibrosis (CF) transmembrane conductance regulator (CFTR) protein is known to be a cAMP-dependent Cl^- channel. CF patients (with mutant CFTR proteins) show reduced Cl^- permeability and as a result exhibit elevated Cl^- level in sweat. To prove this, CFTR proteins (both wild type and mutant) are inserted in a model membrane (liposome) and Cl^- transport is followed with radioactive Cl^- . It is known that topology of CFTR in membrane is very important for its function. Despite no proteolytic degradation or denaturation of CFTR proteins, wild type CFTR failed to transport Cl^- in liposome.

Which of the following is the correct explanation of this?

1. CFTR protein gets mutated during insertion in liposomes.
 2. CFTR protein loses affinity with Cl^- ions.
 3. CFTR protein gets wrongly inserted in liposomes.
 4. CFTR protein loses channel forming property in liposomes.
78. अक्षा माइटोकॉन्ड्रिया में रबसन अंशला का प्रयोगात्मक परिचालन अपेक्षाकृत अगम्य होता है। इसके विपरीत यदि पराध्वनि द्वारा माइटोकॉन्ड्रिया को विखंडित कर दिया जाए तो ऐसे कार्यशील उपमाइटोकॉन्ड्रियाई खंडों को विलगित करना सम्भव होता है जिनके दूरे-दूरे पर इस प्रकार के क्रिस्टी होते हैं जिनमें उलटी-पुलटी लघु बंद पुनःमुद्रित पुटिकाएँ विद्यमान होती हैं। इन पुटिकाओं में ग सघटक जो पूर्व में आन्तरी के सम्मुख स्थित में उपस्थित थे अब चारों ओर विद्यमान माध्यम की दिशा में अन्तगुत हो जाते हैं। ऐसा प्रबन्ध इलेक्ट्रॉन परिवहन और ATP संश्लेषण के अध्ययन में सहायक होता है क्योंकि :
1. अक्षा माइटोकॉन्ड्रिया की आन्तरी में सूक्ष्म अणुओं (NADH, ATP, ADP, P_i) का परिचालन कठिन होता है।
 2. क्षत क्रिस्टी में एंजायम और इलेक्ट्रॉन परिवहन के लिए उत्तरदायी अन्य अणु कहीं अधिक सक्रिय होते हैं।
 3. अक्षा माइटोकॉन्ड्रिया, क्षत क्रिस्टी की तुलना में अधिक अस्थायी होते हैं।
 4. अक्षा माइटोकॉन्ड्रिया का शुद्धीकरण सम्भव नहीं है।

78. The respiratory chain is relatively inaccessible to experimental manipulation in intact mitochondria. Upon disrupting mitochondria with ultrasound, however, it is possible to isolate functional submitochondrial particles, which consist of broken cristae that have resealed inside out into small closed vesicles. In these vesicles the components that originally faced the matrix are now exposed to the surrounding medium. This arrangement helps in studying of electron transport and ATP synthesis because:

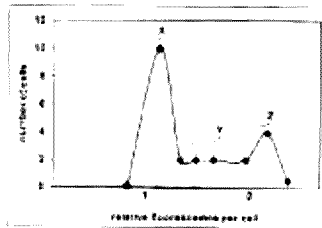
1. it is difficult to manipulate the concentration of small molecules (NADH, ATP, ADP, P_i) in the matrix of intact mitochondria.
 2. in broken cristae, the enzymes and other molecules responsible for electron transport are more active.
 3. intact mitochondria are more unstable than broken cristae.
 4. purification of intact mitochondria is not possible
79. ऐसी कल्पना करते हुए कि हिस्टोन का अष्टगामी (ऑक्टामर) एक ऐसे बेलन का निर्माण करता है जिसका व्यास 9 nm एवं ऊँचाई 5 nm होती है और मानवीय जीनोम 32 लाख न्यूक्लियोसोमों का निर्माण करता है, 6 μm व्यासधारी केंद्रक के कितने अक्ष (लगभग) में हिस्टोन अष्टगामी समाहित होंगे ?

1. 1/21
2. 1/11
3. 10/21
4. 10/11

79. Assuming that the histone octamer forms a cylinder 9 nm in diameter and 5 nm in height and that the human genome forms 32 million nucleosomes, what fraction (approximately) of the volume of nucleus (6 μm diameter) is occupied by histone octamers?

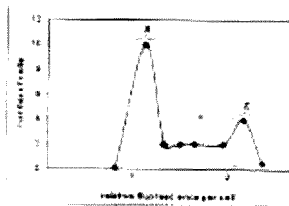
1. 1/21 2. 1/11 3. 10/21 4. 10/11

80. होइचस्ट 33342 झिल्ली-पारगम्य एक ऐसा वर्णक है जो अशर्नियमान प्रक्रिया से गुजरते समय जब डीएनए से अबाद्ध होता है तो प्रतिदीप्ति दर्शाता है। यदि कोशिकाओं की किसी जनसंख्या को सूक्ष्म अवधि के लिए होइचस्ट जघाकित किया जाए और प्रवाह कोशिकागणी में छटाई की जाए, कोशिकाएं कोशिका चक्रण की विभिन्न दशाओं में प्रतिदीप्ति के विविध स्तर दर्शाती हैं जैसा कि नीचे के चित्र में दर्शाया गया है (चिन्हें X, Y एवं Z से चिह्नित किया गया है)।



निम्न में से कौन-सा सही है ?

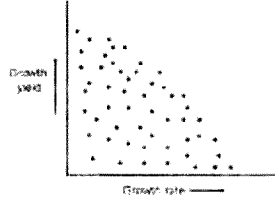
1. X is G_1 , Y is $G_2 + M$ and Z is S 2. X is G_1 , Y is S and Z is $G_2 + M$
 3. X is S, Y is $G_2 + M$ and Z is G_1 4. X is S, Y is G_1 and Z is $G_2 + M$
80. Hoechst 33342 is a membrane-permeant dye that fluoresces when it binds to DNA through a intercalating process. If a population of cells is incubated briefly with Hoechst dye and sorted in a flow cytometer, the cells display various levels of fluorescence in different phases of cell cycles as shown in figure below (marked as X, Y and Z).



Which of the following is correct?

1. X is G_1 , Y is $G_2 + M$ and Z is S 2. X is G_1 , Y is S and Z is $G_2 + M$
 3. X is S, Y is $G_2 + M$ and Z is G_1 4. X is S, Y is G_1 and Z is $G_2 + M$

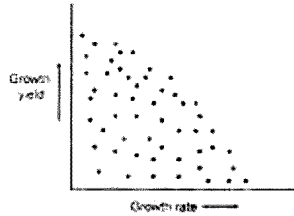
81. नीचे जीवाणुओं के 100 यादृच्छिक यातावरणीय पियुक्तों की वृद्धि दर एवं वृद्धि उत्पाद के प्रकीर्णन आलेख को दर्शाया गया है :



इन आंकड़ों से निम्न में से कौन-सा परिणाम निकाला जा सकता है ?

1. दोनों प्राचल आपस में सम्बद्ध नहीं हैं ।
2. वृद्धि दर वृद्धि उत्पाद के व्युत्क्रम आनुपातिक होती है ।
3. वृद्धि उत्पाद, वृद्धि दर से ऋणात्मक रूप में सहसम्बद्ध होता है ।
4. उच्च वृद्धि दर, उच्च वृद्धि उत्पाद के साथ-साथ नहीं हो सकती ।

81. The scatter plot of growth rate and growth yield for 100 random environmental isolates of bacteria is shown below:

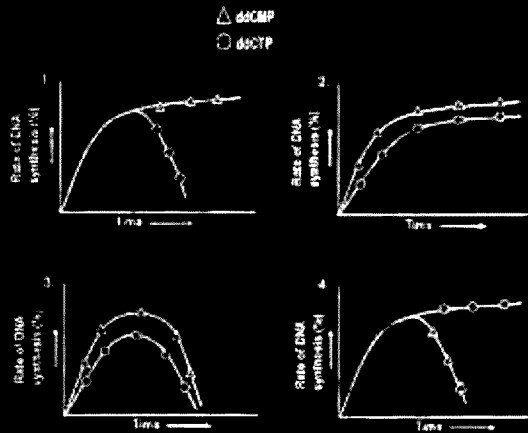


Which of the following can be inferred from the data?

1. The two parameters are not related.
2. Growth rate is inversely proportional to growth yield.
3. Growth yield is negatively correlated with growth rate.
4. High growth rate cannot be accompanied by high growth yield.

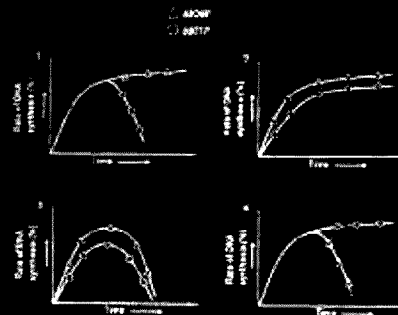
82. डिब्रूडी डीएनए अर्ब-संरक्षणी विधि से प्रतिकृति करता है । एक पाये डीएनए संश्लेषण अभिक्रिया में थाईडिऑक्सी CTP और थाईडिऑक्सी CMP को dNTPs और अन्य आवश्यक अभिकर्मकों के अतिरिक्त एक-एक करके (अलग-अलग प्रतिक्रिया नलियों में) अधिस्थ में मिलाया गया । डीएनए संश्लेषण की दर ^3H -थायमिडीन के समावेशन से मापी गई । नीचे खींचे गए चार ग्राफ दो अलग-अलग अभिक्रिया नलियों में डीएनए संश्लेषण की दर दर्शाते हैं

निम्न में से कौन-सा ग्राफ अपेक्षित आंकड़ों को दर्शाता है ?



82. Double stranded DNA replicates in a semi-conservative manner. In an *in vitro* DNA synthesis reaction, deoxy CTP and deoxy CMP were individually added in excess (in separate reaction tubes) in addition to dNTPs and other necessary reagents. Rate of DNA synthesis was measured by incorporation of ^3H -thymidine. The four graphs drawn below represent the rate of DNA synthesis in two separate reaction tubes.

Which of the following graphs represents the expected data?



83. डीएनए की अर्ध-संरक्षणी प्रतिकृतिकरण विधि में, दो जनकीय सूत्र खुलते हैं और इनका उपयोग नए सूत्रों के संश्लेषण के लिए पूरक द्वार युग्मन के नियमानुसार होता है। पूरक सूत्रों के संश्लेषण के लिए यह आवश्यक है कि डीएनए संश्लेषण विपरीत दिशा में हो, जबकि द्विकूंडली उत्सरोत्तर एक ही दिशा में खुलती और प्रतिकृतिकरण करती है। इनमें से एक डीएनए सूत्र साफा रूप से उसी दिशा में संश्लेषित होता रहता है जिसमें अक्सर होती हुई गड़बड़ा अतः यह अग्रगामी सूत्र कहलाता है इसके विपरीत दूसरा सूत्र खंडों में रूक-रूक कर संश्लेषित होता है और पश्चगामी सूत्र कहलाता है। यह असतत रूप में बने सूक्ष्म खंड ओकाजाकी खंड कहलाते हैं। इन ओकाजाकी खंडों का सतत डीएनए सूत्र में परिवर्तन विन्ना में से कौन-से एंजाइमों के संयोग से होता है ?

- डीएनए पोल III और डीएनए लाइगेज
- डीएनए पोल I और डीएनए लाइमेज
- डीएनए पोल II और डीएनए लाइमेज
- डीएनए गार्डेज और डीएनए लाइमेज

83. In semi-conservative mode of DNA replication, two parental strands unwind and are used for synthesis of new strands following the rule of complementary base pairing. Synthesis of complementary strands require that DNA synthesis proceeds in opposite direction, while the double helix is progressively unwinding and replicating in only one direction. One of the DNA strands is continuously synthesized in the same direction as the advancing replication fork and is called leading strand whereas the other strand is synthesized discontinuously in segments and is referred to as lagging strand. These short fragments made discontinuously are labeled as Okazaki fragments. These Okazaki fragments need to be matured into continuous DNA strand by which one of the following combination of enzymes?

1. DNA Pol III and DNA ligase.
2. DNA Pol I and DNA ligase.
3. DNA Pol II and DNA ligase.
4. DNA gyrase and DNA ligase.

84. स्थायीरूप से समाकलित प्रत्याशयी वाइरल वर्धक-ल्यूसीफरेज निर्माण-धारी एक संवाददाता कोशिका वशावली को एक कोशिकीय प्रोटीन के लिए अभिव्यक्ति संयोजक के साथ स्थानांतरित किया गया था। इस काम में जैसा कि ल्यूसीफरेज सक्रियता आमापन से पता चला प्रोटीन प्रत्याशयी-वाइरल वर्धक की क्रियाशीलता को नियंत्रित करती प्रतीत होती है। आप निम्न में से कितने तकनीक को समाकलित प्रत्याशयी-वाइरल वर्धक के ऊपर कोशिकीय-प्रोटीन के पात्रे मरण के लिए उपयोग करेंगे ?

1. वैद्युतिककणसंचलन यमीशीलता स्थानान्तरण का आमापन।
2. आरएनएज सुरक्षा आमापन।
3. डीएनएज राज्य संवेदनशीलता आमापन।
4. क्रोमेटिन प्रतिस्वी अख्येपण आमापन।

84. A reporter cell line with stably integrated retroviral promoter-luciferase construct was transfected with an expression vector for a cellular protein. The protein seems to regulate the activation of the retroviral promoter as analyzed by luciferase activity assay. Which one of the following techniques will you use to show "in vivo" recruitment of the cellular protein on the integrated retroviral promoter?

1. Electrophoretic mobility shift assay.
2. RNase protection assay.
3. DNase hypersensitivity assay.
4. Chromatin immunoprecipitation assay.

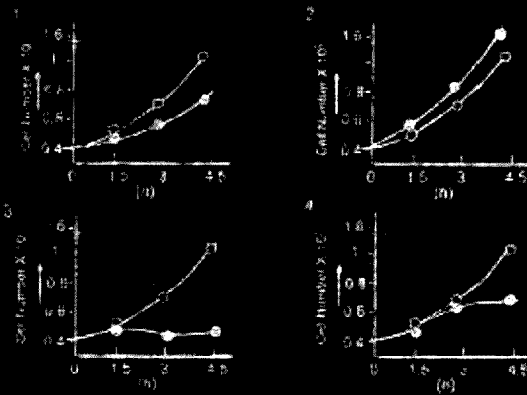
85. एक संश्लेषण के फलस्वरूप निर्मित mRNA में पुनरावर्ती AU अनुक्रम विद्यमान होते हैं। इस mRNA को ऐसे रतनयोमी कोशिका निष्कर्ष के साथ ऊष्मांकित किया गया जिसमें, राइबोसोम, tRNAs और प्रोटीन संश्लेषण के लिए आवश्यक सभी कारक उपस्थित थे। यह मानते हुए कि प्रोटीन संश्लेषण के लिए किसी प्रारम्भण कूट की आवश्यकता नहीं होती, निम्न में से कितने पेटाइडों के संश्लेषण की सर्वाधिक सम्भावना है ?

1. मात्र एक पेटाइड जो एकसमान अमीनो अम्ल अनुक्रम से बना होता है।
2. मात्र एक पेटाइड जो दो अमीनो अम्लों के एकतरी अनुक्रम से बना होता है।
3. मात्र एक पेटाइड जो तीन अमीनो अम्लों के एकतरी अनुक्रम से बना होता है।
4. तीन अलग-अलग पेटाइड जिनका प्रत्येक अनुक्रम मात्र एक अमीनो अम्ल का बना होता है।

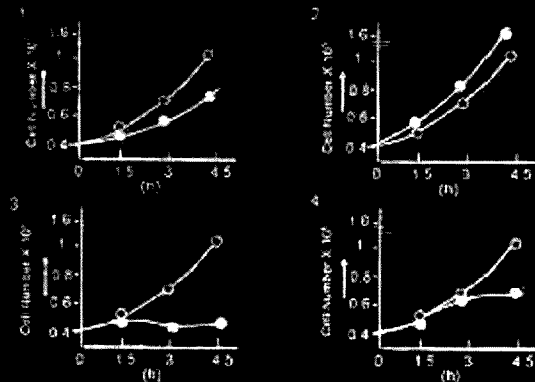
85. A synthetically prepared mRNA contains repetitive AU sequences. The mRNA was incubated with mammalian cell extract which contains ribosomes, tRNAs and all the factors required for protein synthesis. Assuming no initiation codon is required for protein synthesis, which of the following peptides will most likely be synthesized?

1. A single peptide composed of the same amino acid sequence.
2. A single peptide with alternating sequence of two amino acids.
3. A single peptide with alternating sequence of three amino acids.
4. Three different peptides each sequence composed of a single amino acid.

86. यूकेरियोटों में कोशिका-चक्र नियंत्रण के मध्य प्रोटीन कारकों को परा-स्थानांतरीय रूपान्तरण होते हैं, जो कोशिका-चक्र की विभिन्न अवस्थाओं के लिए रिवॉल्यू के रूप में कार्य करते हैं। यीस्ट की एक कोशिकीय जनसंख्या का Wee1 काइनेज (जो Cdc2 प्रोटीन को निरवरोध करता है) जोन के साथ अंतरण किया गया। यह कल्पना करते हुए कि अंतरण बसता मात्र 50% थी निम्न में से कौन-सा लेखाचित्रिक निरूपण सबसे अधिक उपयुक्त है ?



86. During cell cycle regulation in eukaryotes, there are post-translational modifications of protein factors, which act as switches for different phases of cell cycle. A cell population of yeast was transfected with gene for Wee1 kinase (modifies Cdc2 protein). Assuming that the transfection efficiency was 50% only, which of the following graphical representation of the results is most appropriate?



87. डी.कोलाज़ में lac ऑपरेटॉन का नियंत्रण दोनों lac सचमक और अवयवी सक्रियण प्रोटीन CAP द्वारा होता है। lac ऑपरेटॉन के साथ सम्बन्ध किए गए एक जीवै प्रयोग में निम्न प्रेरण पाए गए :

- (A) cAMP के स्तर उच्च होते हैं।
 (B) सचमक एन्डोलेक्टोज से आधक्य होता है।

(C) CAP, RNA पॉलीमरेज से अन्योन्य क्रिया सम्पन्न करता है ।

ऊपर उचित प्रेरणों के आधार पर निम्न में से कौन-सा परिणाम सर्वाधिक सही है ?

1. ग्लूकोज और लेक्टोज दोनों ही विद्यमान हैं
2. ग्लूकोस तो उपस्थित है लेकिन लेक्टोज नहीं
3. दोनों ही अनुपस्थित हैं
4. ग्लूकोज अनुपस्थित है और लेक्टोज उपस्थित

87. The *lac* operon in *E. coli*, is controlled by both the *lac* repressor and the catabolite activation protein CAP. In an *in vivo* experiment with *lac* operon, the following observations were made:

- (A) cAMP levels are high.
- (B) Repressor is bound with allolactose.
- (C) CAP is interacting with RNA polymerase.

Which one of the following conclusions is most appropriate based on the above observations?

1. Glucose and lactose are present.
2. Glucose is present and lactose is absent.
3. Both are absent.
4. Glucose is absent and lactose is present.

88. लिगेन्ड अवधान के फलस्वरूप, कोशिका की सतह पर विद्यमान ग्राही पार्श्व दिशा में गति करते हैं ताकि उन पर छत्रक निर्माण और आंतरकरण हो सके । लाइशमेनिया नामक प्रोटोजोआयी परजीवी वृहदभोजियों पर कई ग्राहियों का आंतरकरण के लिए उपयोग कर सकता है । इनमें से एक टॉल-समग्राही 2 (TLR2) है जो लाइपोफोस्फोग्लाइकॉन को लाइशमेनिया के ऊपर आबधि करता है । आंतरकरण के उपरान्त परजीवी भोजीलाइसोसोम के रूप में नष्ट हो जाता है । लाइशमेनिया-संक्रमित वृहदभोजियों का निम्न में से कौन-सा उपचार इनमें निम्नतम परजीवियों की न्यूनतम संख्या के लिए उत्तरदायी होगा ?

1. झिल्ली कोलेस्टेरॉल-रिक्तीकरण औषधि, β -मिथाइल साइक्लो-डेक्सट्रिन (β -MCD) ।
2. लायसोसोमी pH को बढ़ाने वाला अमोनियम क्लोराइड ।
3. β -MCD एवं अमोनियम क्लोराइड दोनों ही ।
4. प्रति-TLR2 प्रतिविंद ।

88. Upon ligand binding, cell surface receptors move laterally to be capped and internalized. *Leishmania*, a protozoan parasite, can use several receptors on macrophages to get internalized. One of them is Toll-like receptor 2 (TLR2) that binds lipophosphoglycan on *Leishmania*. Once internalized, the parasite is destroyed in the phagolysosome. Which of the following treatments of *Leishmania*-infected macrophages will result in lowest parasite number in macrophages?

1. membrane cholesterol-depleting drug, β -methyl cyclodextrin (β -MCD).
2. ammonium chloride that increases lysosomal pH.
3. both β -MCD and ammonium chloride.
4. anti-TLR2 antibody.

89. बालासन एवं युवायस्था में घुटकोददीपक हार्मोन (FSH) का स्तर एकसमान होता है परंतु शुक्राणुजनन मात्र युवायस्था में ही होता है । साथ ही mRNA के स्तर भी, जो ग्राही का कूटन करते हैं, दोनों आयु समूहों के वृषणों में एक-जैसे होते हैं । इस विरोधाभास का और अधिक स्पष्टीकरण करने में निम्न में से कौन-से अनुसंधान सहायक होंगे ?

1. वृषणीय कोशिकाओं का संवर्धन करते हुए LH मिलाइए ताकि टेस्टोस्टीरोन उत्पादन परखा जा सके।
2. वृषणीय कोशिकाओं का संवर्धन कीजिए इसमें टेस्टोस्टीरोन मिलाइए ताकि cAMP दोनों ही आयु समूहों में FSH mRNA की तुलनात्मक बढ़त का आकलन किया जा सके।
3. वृषणीय कोशिकाओं का संवर्धन कीजिए और इनमें FSH मिलाइए ताकि उत्पादन का दोनों आयु समूहों में तुलनात्मक आकलन किया जा सके।
4. वृषणीय कोशिकाओं में दोनों LH और FSH मिलाइए तथा cAMP उत्पादन का आकलन कीजिए।

89. Level of follicle stimulating hormone (FSH) during infancy and adulthood is the same but spermatogenesis is seen only during adulthood. mRNA levels coding for FSH receptor are also found to be the same in testis of both age groups. Which of the following investigations will clarify this paradox a little more?

1. Culture testicular cells and add LH to see testosterone production.
2. Culture testicular cells and add testosterone to see comparative rise in FSH mRNA from both age groups.
3. Culture testicular cells and add FSH to see comparative rise in cAMP production by both age groups.
4. Add both LH and FSH to testicular cells and evaluate cAMP production.

90. किसी ऊतक में कोशिकाएं आपस में कोशिका के कोशिका के साथ शारीरिक आसजन अथवा कोशिका के कोशिका-बाह्य आवरण से संबंधित रहती हैं। कोशिका संधियों की लक्षणिक पहचानों में से कुछ निम्नवत् हैं :

- (A) अदेरेन्स संधियां कोशिका से कोशिका स्थितक ऐसी संधियां हैं जो एक कोशिका के एक्टिन तन्तुओं को अगली कोशिका के एक्टिन तन्तुओं से जोड़ती हैं।
- (B) डेस्मोसोम ऐसी कोशिका-आधारी स्थितक संधियां होती हैं जो एक कोशिका के एक्टिन तन्तु को उसकी कोशिका-बाह्य आवरण से जोड़ती हैं।
- (C) आसजन संधियां ऐसी प्रणाल-निर्मात्री संधियां हैं जो एक कोशिका से दूसरी में सूक्ष्म जल विलेय अणुओं का आसजन सम्भव करती हैं।
- (D) सुबंधत संधियां ऐसी आसजन संधियां हैं जो दो कोशिकाओं के बीच के अंतराल को बन्द करती हैं।
- (E) एनीडेस्मोसोम ऐसी कोशिका-आधारी स्थितक संधियां होती हैं जो एक कोशिका के माध्यमिक तन्तु को कोशिका-बाह्य आवरण से जोड़ती हैं।

उपरोक्त के आधार पर कथनों के निम्न में से कौन-सा सत्योक्त सही नहीं है

1. (A) एवं (B)
2. (A) एवं (C)
3. (C) एवं (D)
4. (D) एवं (E)

90. In a tissue, cells are bound together by physical attachment between cell to cell or between cell to extracellular matrix. Following are some of the characteristics of cell junctions:

- (A) Adherens junctions are cell-cell anchoring junctions connecting actin filament in one cell with that in the next cell.
- (B) Desmosomes are cell-matrix anchoring junctions connecting actin filament in one cell to extracellular matrix.
- (C) Gap junctions are channel forming junctions allowing passage of small water soluble molecules from cell to cell.
- (D) Tight junctions are occluding junctions, which seal gap between two cells.

(E) Hemidesmosomes are cell-matrix anchoring junctions connecting intermediate filament in one cell to extracellular matrix.

Which of the following combination of statements is NOT correct?

1. (A) and (B)
2. (A) and (C)
3. (C) and (D)
4. (D) and (E)

91. ओंकोजीन एवं अर्बुद संदमक जीन दोनों ही कैंसर-क्रांतिक जीन कहलाती हैं। अब हमें ऐसे शक्तिशाली उपकरण उपलब्ध हैं जिनके द्वारा कैंसर-कारक कोशिकाओं के डीएनए अथवा mRNA का महत्वपूर्ण उत्पत्तिवर्तन अथवा परिवर्तित अभिव्यक्ति के क्रम में योजनाबद्ध खोज की जा सके। इंगित कीजिए कि निम्न में से कौन-सा परीक्षण सर्वाधिक विश्वसनीय होगा जिसके द्वारा एक ओंकोजीन अथवा एक अर्बुद संदमक जीन की पहचान की जा सके?

1. ऐसे पराजीवी मूषकों का निर्माण जो प्रत्याशी ओंकोजीन की अधि-अभिव्यक्ति करते हैं और ऐसे अर्बुद मूषकों का निर्माण जिनमें प्रत्याशी अर्बुद संदमक जीन विद्यमान नहीं होता।
2. ऐसे पराजीवी मूषकों का निर्माण जो प्रत्याशी ओंकोजीन और अर्बुद संदमक जीन की अधि-अभिव्यक्त करते हैं।
3. ऐसे पराजीवी मूषकों का निर्माण जिनमें प्रत्याशी ओंकोजीन और संदमक जीन की अधि-अभिव्यक्ति करते हैं।
4. ऐसे अर्बुद मूषकों का निर्माण जिनमें प्रत्याशी ओंकोजीन और अर्बुद संदमक जीन दोनों ही विद्यमान नहीं होते हैं।

91. Oncogenes and tumor suppressor genes are termed as cancer-critical genes. Increasingly powerful tools are now available for systematically searching the DNA or mRNAs of cancer cells for either significant mutations or altered expression. To identify independently an oncogene or a tumor suppressor gene, which of the following would be the most convincing tests to use?

1. Transgenic mice that overexpress the candidate oncogene and knockout mice that lack candidate tumor suppressor gene.
2. Transgenic mice that overexpress the candidate tumor suppressor gene and knockout mice that lack candidate oncogene.
3. Transgenic mice that overexpress the candidate oncogene and tumor suppressor gene.
4. Knockout mice that lack the candidate oncogene and tumor suppressor gene.

92. किसी रोगजनक जीवाणु की एक विशाल प्रोटीन को एजायमी विधि से इस प्रकार क्रमबद्ध संक्षेपित किया गया कि इससे 3-8 अमीनों अम्ल आकार के पेप्टाइडों का मिश्रण उत्पन्न हो गया। फिर इन पेप्टाइड मिश्रणों को प्रयोगात्मक जंतुओं में पेप्टाइड-विशिष्ट प्रतिपिंडों के उत्पादन हेतु प्रविष्ट कराया गया। जीवाणुओं के लिए निदान परिवर्धन के क्रम में प्रतिसेरमों का उपयोग वेस्टर्न ब्लॉटिंग के लिए जीवाणिक प्रतिजन की पहचान के लिए किया गया। प्रतिसेरम सादरणों के एक विस्तृत परास का उपयोग करते हुए भी वेस्टर्न ब्लॉटिंग असफल रहा। इस समस्या का सबसे सम्भावित कारण क्या हो सकता है?

1. पेप्टाइड-विशिष्ट प्रतिपिंड मिश्रण अस्थायी है।
2. पेप्टाइड-विशिष्ट प्रतिपिंडों का उत्पादन ही नहीं हुआ क्योंकि संदर्शक नहीं प्रदान की गयी थी।
3. पेप्टाइड-विशिष्ट प्रतिपिंडों का उत्पादन ही नहीं हुआ क्योंकि वे किसी प्रोटीन-संवाहक से युग्मित नहीं थे।
4. पेप्टाइड-विशिष्ट प्रतिपिंड, जीवाणिक प्रतिजन की पहचान नहीं कर सके।

92. A large protein of a pathogenic bacterium has been enzymatically digested to generate a mixture of peptides ranging in size from 3 to 8 amino acids in length. Peptide mixtures were then administered in experimental animals to generate peptide-specific antibodies. In order to develop diagnostics for the bacteria, the antisera were used for Western blotting to detect bacterial antigen. Western blotting failed

despite the use of a wide range of antisera concentrations. What is the most probable cause of the problem?

1. Peptide-specific antibody mixture is unstable.
 2. Peptide-specific antibodies were not generated as adjuvant was not administered.
 3. Peptide-specific antibodies were not generated as they were not coupled to a protein carrier.
 4. Peptide-specific antibodies could not recognize the bacterial antigen.
93. एक मूषक पर ट्राइनाइट्रोफिनायल-लिपोपोलीसैकराइड (TNP-LPS) अस्तर बढ़ाया गया और इसके विपरीत दूरे पर TNP-कीहोल लिम्पेट हेमोसायनिन (TNP-KLH) का / तीन सप्ताह के उपरान्त इन मूषकों को मार दिया गया और इनकी स्प्लीन कोशिकाओं को B कोशिकाओं और T कोशिकाओं में प्रभाजित किया गया। TNP-LPS-अस्तरित मूषकों की B कोशिकाओं को TNP-LPS-अथवा TNP-KLH-अस्तरित मूषकों की T कोशिकाओं के साथ सह-संघर्षित किया गया। इसी प्रकार TNP-KLH अस्तरित मूषकों की B कोशिकाओं को TNP-LPS- अथवा TNP-KLH-अस्तरित मूषकों की T कोशिकाओं के साथ सह-संघर्षित किया गया। इस प्रकार हमें चार सह-संघर्षण प्राप्त हुए।

- (A) $B^{TNP-LPS} \times T^{TNP-LPS}$ (B) $B^{TNP-LPS} \times T^{TNP-KLH}$
 (C) $B^{TNP-KLH} \times T^{TNP-LPS}$ (D) $B^{TNP-KLH} \times T^{TNP-KLH}$

इन सह-संघर्षणों में आप अधिकतम IgG उत्पादन की अपेक्षा कहाँ करते हैं ?

1. (A) में
 2. (B) में
 3. (C) में
 4. (D) में
93. A mouse was primed with trinitrophenyl-lipopolysaccharide (TNP-LPS) whereas another mouse was primed with TNP-Keyhole limpet hemocyanin (TNP-KLH). After three weeks, these mice were sacrificed and splenic cells were fractionated to B cells and T cells. B cells from TNP-LPS primed mice were co-cultured with T cells from TNP-LPS- or TNP-KLH-primed mice. Similarly, B cells from TNP-KLH primed mice were co-cultured with the T cells from TNP-LPS- or TNP-KLH-primed mice. So, we have four co-cultures:

- (A) $B^{TNP-LPS} \times T^{TNP-LPS}$ (B) $B^{TNP-LPS} \times T^{TNP-KLH}$
 (C) $B^{TNP-KLH} \times T^{TNP-LPS}$ (D) $B^{TNP-KLH} \times T^{TNP-KLH}$

Among these co-cultures, where do you expect the highest IgG production?

1. (A)
 2. (B)
 3. (C)
 4. (D)
94. नेत्रीय एवं नासिक संरचनाओं के निर्माण में *pax6* जीन की क्रियाशीलता निम्न परिस्थितियों के कारण हो सकती है।

- (A) *Pax6* नेत्रीय पुटिका को सक्षम बनाता है और लेंस का निर्माण सम्भव करता है।
- (B) नेत्रीय पुटिका सिर की बाह्यचर्म के किसी भाग को नासिक एवं नेत्रीय संरचनाओं के निर्माण के लिए *Pax6* की उपस्थिति के कारण उद्दीपित कर सकता है।
- (C) *Pax6* सिर की बाह्यचर्म को नेत्रीय पुटिका से संकेत ग्रहण हेतु सक्षम बना देता है।
- (D) नेत्रीय पुटिका के अतिरिक्त, सिर की बाह्यचर्म BMP4 एवं FGFS द्वारा भी उद्दीपित हो सकती है, अतः लेंस निर्माण हेतु *Pax6* अनव्यव नहीं है।

उपरोक्त में से जीन-से गुण सही है ?

1. (A) एवं (D)
2. (C) एवं (D)
3. (B) एवं (C)
4. मात्र (C)

94. The functionality of the *pax6* gene in the formation of optic and nasal structures may be attributed to the following:

- Pax6 makes the optic vesicle competent and allows lens formation.
- The optic vesicle can induce any part of the head ectoderm to form the nasal and optic structures, due to the presence of Pax6.
- Pax6 renders the head ectoderm competent to receive signals from the optic vesicle.
- Apart from the optic vesicle, the head ectoderm may also be induced by BMP4 and FGF8, so Pax6 is not exclusive for lens formation.

Which of the above attributions are true?

- (A) and (D)
- (C) and (D)
- (B) and (C)
- (C) only

95. एक प्रयोग में प्लिग मूक के अधिवृषण से निकाले हुए शुक्राणुओं को ऐसे पात्र में रखा गया जिसमें उपयुक्त माध्यम एवं अंडक विद्यमान थे। इनमें निषेचन नहीं हुआ। लेकिन जब शुक्राणुओं को अधिवृषण में से सीधे-सीधे अण्डोत्सर्गी स्त्रीलिङ्ग मूक के गर्भाशय पर रखा गया तो वह गर्भवती हो गई। यह अनुवीक्षण दर्शाते हैं कि :

- शुक्राणुओं को निषेचन क्षमता धारण करने के लिए कुछ दूरी तक यात्रा करनी होती है।
- अंडक कुछ ऐसे जीवरसायनों अथवा कारकों का स्रवण करता है जो शुक्राणु की निषेचन में सहायता करते हैं।
- शरीर में विद्यमान हार्मोन शुक्राणु की निषेचन क्षमता धारण करने में सहायता पहुँचाते हैं।
- स्त्रीजनन क्षेत्र में विद्यमान अन्तर्वस्तु शुक्राणु के साथ परस्पर क्रिया कर इसे निषेचन हेतु सक्रिय कर देते हैं।

95. In an experiment, sperm removed from epididymis of a male mouse was added in a dish containing appropriate media and oocyte. No fertilization was seen. However, when sperm from epididymis were directly placed in uterus of an ovulated female, she became pregnant. These observations suggest that:

- the sperm needs to travel some distance to attain fertilizing ability.
- the oocyte secretes some biochemicals or factors which help sperm to fertilize.
- the hormones in body help sperm to attain fertilizing ability.
- the contents of female reproductive tract interact with sperm and activate it for fertilization.

96. पादप कायिक परिचर्चन के संदर्भ में निम्न कथन प्रस्तावित किए गए हैं।

- पार्श्व जड़े बाह्यस्थीय कोशिकाओं से परिवर्धित होती हैं।
- प्ररोह अक्षीय विभज्योतक, प्ररोह शीर्ष विभज्योतक से पर्ण आलकों के विभेदन के मध्य परिवर्धित होता है।
- मूल गोप मूल कोशिकाओं की बनी होती हैं।
- जड़ों और प्ररोहों में विद्यमान पार्श्व विभज्योतक एवं शैलनाकार विभज्योतक द्वारा द्वितीयक वृद्धि होती है।

उपरोक्त में से कौन-से कथन सही हैं :

- (A) एवं (B)
- (B) एवं (D)
- (A), (B) एवं (D)
- (C) एवं (D)

96. The following statements have been proposed for plant vegetative development:

- (A) Lateral roots develop from epidermal cells.
- (B) Shoot axillary meristem develops from shoot apical meristem during differentiation of leaf primordia.
- (C) Root cap is made up of dead cells.
- (D) Lateral meristems and cylindrical meristems found in roots and shoots result in secondary growth.

Which of the above statements are true?

- 1. (A) and (B)
- 2. (B) and (D)
- 3. (A), (B) and (D)
- 4. (C) and (D)

97. किसी जाति में भ्रूणीय विदलन की विशिष्ट पद्धति दो प्रमुख प्राचलों पर निर्भर होती है :

- (A) कोशिकाद्वय में विद्यमान पीतक प्रोटीन की मात्रा और वितरण ।
- (B) अंड कोशिकाद्वय के दो कारक जो समसूत्री तर्क के कोण एवं इसके निर्माण की अवधि को प्रभावित करते हैं ।

इस क्रम में निम्न में से कौन-सा कथन सही है ?

- 1. मोलघ्न पीतकी अंड-धारी जातियों में पूर्णमंडी विदलन होता है ।
- 2. समास्थिक पीतकी अंड-धारी जातियों में पूर्णमंडी विदलन होता है ।
- 3. केंद्र पीतकी अंड-धारी जातियों में पूर्णमंडी विदलन होता है ।
- 4. समास्थिक पीतकी अंड-धारी जातियों में अशमजी विदलन होता है ।

97. The pattern of embryonic cleavage specific to a species is determined by two major parameters.

- (A) The amount and distribution of yolk protein within the cytoplasm.
- (B) The factors in the egg cytoplasm that influence the angle of mitotic spindles and the timing of its formation.

Which of the following statements is true?

- 1. Species having telolecithal egg follow a holoblastic cleavage.
- 2. Species having isolecithal egg follow a holoblastic cleavage.
- 3. Species having centrolecithal egg follow a holoblastic cleavage.
- 4. Species having isolecithal egg follow a meroblastic cleavage.

98. किसी कोशिका अथवा ऊतक के प्रारूप का विशिष्टीकरण तब होता है जब किसी परिवर्धनीय पथिका की दृष्टि से उदासीन माध्यम में रखे जाने पर भी यह स्वतः-विभेदन की क्षमता दर्शाए । फलतः एक भ्रूण विशिष्टीकरण प्ररूप के आधार पर परिवर्धन पद्धति दर्शाएगा ।

उपर्युक्त तथ्यों के आधार पर यह इंगित किया जा सकता है कि किसी कोशिका की शक्तिमत्ता

- (A) नियमनकारी परिवर्धन में इसके सामान्य प्रारूप के समान होती है ।
- (B) नियमनकारी परिवर्धन में इसके सामान्य प्रारूप से अधिक होती है ।

- (C) मोजेक परिवर्धन में इसके सामान्य प्रारम्भ के समान होती है ।
 (D) मोजेक परिवर्धन में इसके सामान्य प्रारम्भ से अधिक होती है ।

उपरोक्त में से कौन-से कथन सही हैं ?

1. (B) एवं (C) 2. (A) एवं (D) 3. (A) एवं (C) 4. (B) एवं (D)

98. The fate of a cell or a tissue is "specified" when it is capable of differentiating autonomously on being placed in a neutral environment with respect to the developmental pathway. An embryo will show a developmental pattern based on its type of specification:

Based on the above facts it can be said that the potency of a cell is :

- (A) equal to its normal fate in regulative development.
 (B) greater than its normal fate in regulative development.
 (C) equal to its normal fate in mosaic development.
 (D) greater than its normal fate in mosaic development.

Which of the above statements are true?

1. (B) and (C) 2. (A) and (D) 3. (A) and (C) 4. (B) and (D)

99. एक चतुष्पाद अंग की निकटस्थ-दूरस्थ वृद्धि और विभेदन के क्रम में निम्न प्रयोगों की सजीव कल्पना की गई :

- (A) यदि शीर्ष बाह्यचर्म कटक (AER) को अंग परिवर्धन की किसी अवधि में अलग हटा दिया जाए तो दूरस्थ अंग कंकाल के अययनों का आगे परिवर्धन रुक जाता है ।
 (B) यदि पाद मध्योत्क को सीधे ही पक्ष शीर्ष बाह्यचर्म कटक के नीचे रख दिया जाए तो दूरस्थ पक्ष अंग रचनाएं अंग के सिरे पर परिवर्धित होती हैं ।
 (C) यदि पूर्व में विद्यमान अंग मुकुल पर एक अतिरिक्त बाह्यचर्म कटक का आरोपण कर दिया जाय तो अंग के सिरे पर अधिसंख्य संरचनाएं बनती हैं ।
 (D) यदि पाद मध्योत्क को सीधे ही पक्ष शीर्ष मध्योत्की कटक के नीचे रख दिया जाय तो निकटस्थ पक्ष अंग संरचनाएं अंग के सिरे पर परिवर्धित होती हैं ।

इंगित कीजिए कि ऊपर वर्णित प्रयोगों में से कौन-से अंग परिवर्धन के मध्य शीर्ष मध्योत्की कटक (AER) और अंग मुकुल मध्योत्क, जो इसके एकदम नीचे स्थित है, के बीच होने वाली सम्भावित परस्पर क्रियाओं को दर्शाएँ ?

1. मात्र (A) एवं (B) 2. मात्र (B) एवं (C)
 3. मात्र (C) एवं (D) 4. (A), (B) एवं (C)

99. In the context of the proximal-distal growth and differentiation of a tetrapod limb following experiments were visualized:

- (A) If the apical ectodermal ridge (AER) is removed at any time during the limb development, further development of distal limb skeletal elements ceases.
 (B) If leg mesenchyme is placed directly beneath the wing AER, distal hindlimb structures develop at the end of the limb.

- (C) If an extra AER is grafted onto an existing limb bud, supernumerary structures are formed usually at the distal end of the limb.
- (D) If leg mesenchyme is placed directly beneath the wing AER, proximal hindlimb structures develop at the end of the limb.

Which of the above experiments would show the possible interactions between the AER and the limb bud mesenchyme directly beneath it during limb development?

1. (A) and (B) only 2. (B) and (C) only
3. (C) and (D) only 4. (A), (B) and (C)

100. लघुक पटलिकाओं पर प्रकाश-संश्लेषण से सम्बद्ध अति-आण्विक जटिलों की स्थिति के संदर्भ में कुछ तथ्य नीचे दिए गए हैं :

- (A) PSII वरीयतः ग्रैनीय पटलिकाओं पर स्थित होता है ।
- (B) ATP सिंथेज और PSI वरीयतः पीठिकीय पटलिकाओं पर स्थित होते हैं ।
- (C) PSI और PSII एक दूसरे के निकट पीठिकीय पटलिकाओं पर स्थित होते हैं ।
- (D) Cyt b6/f जटिल एक झिल्ली-आवधित जटिल नहीं है ।

उपरोक्त जगहों के कौन-से नौचे दिए गए संयोजन सही हैं ?

1. (A) एवं (B) 2. (C) एवं (D) 3. (B) एवं (D) 4. (B) एवं (C)

100. Following are some facts regarding localization of photosynthetic supramolecular complexes on plastid lamellae:

- (A) PSII is preferentially located on granal lamellae.
- (B) ATP synthase and PSI are preferentially located on stromal lamellae.
- (C) PSI and PSII are located adjacent to each other on stromal lamellae.
- (D) Cyt b6/f complex is not a membrane-bound complex.

Which one of the following combinations of the above statements is true?

1. (A) and (B) 2. (C) and (D) 3. (B) and (D) 4. (B) and (C)

101. एक फोटॉन के अवशोषण के उपरान्त वर्णहरित का अणु उत्तेजित अवस्था में तब परिवर्तित होता है जब इसकी ऊर्जा

1. वर्णक अणु की तल-अवस्था से अधिक होती है ।
2. वर्णक अणु की उत्तेजित अवस्था की ऊर्जा के समान होती है ।
3. तल-अवस्था से तो अधिक किन्तु वर्णक अणु की उत्तेजित अवस्था से कम होती है ।
4. तल-अवस्था ऊर्जा और उत्तेजित अवस्था ऊर्जा के ऊर्जा अंतर के समान होती है ।

101. Upon absorption of a photon, a chlorophyll molecule gets converted to its excited state when the energy of the photon is

1. more than that of the ground state of the pigment molecule.
2. equal to that of the pigment molecule's excited state.

3. more than that of the ground state but less than that of the excited state of the pigment molecule.
4. equal to the energy gap between ground state energy and the excited state energy.

102. ऐंमिसरिक अन्ल (ABA) के पादपों पर परिकर्षण और पनरिणी सम्बन्धी प्रभावों के संदर्भ में कुछ तथ्य नीचे दिए गए हैं।

- (A) ABA एथिलीन से स्वतंत्र रूप में पर्ण जीर्णता को अग्रसरित करता है।
- (B) ABA निम्न जल विभवों पर प्ररोह वृद्धि को तो अग्रसरित करता है लेकिन जड़ों की वृद्धि को निरोधित करता है।
- (C) ABA जिबबेरेलिन-उद्दीपित एंजाइम उत्पादन को संदमित करता है।
- (D) बीजों की प्रसुप्ति ABA और जिबबेरेलिन के अनुपात द्वारा नियंत्रित होती है।

उपर्युक्त कथनों के कौन-से नीचे दिए संयोजन सही हैं ?

1. (A), (B) एवं (C)
2. (B), (C) एवं (D)
3. (A), (B) एवं (D)
4. (A), (C) एवं (D)

102. Following are certain facts about the effect of abscisic acid (ABA) on the development and physiology effect of plants:

- (A) ABA promotes leaf senescence independent of ethylene.
- (B) ABA promotes shoot growth and inhibits root growth at low water potentials.
- (C) ABA inhibits gibberellin induced enzyme production.
- (D) Seed dormancy is controlled by the ratio of ABA and gibberellin.

Which one of the following combinations of the above statements is true?

1. (A), (B) and (C)
2. (B), (C) and (D)
3. (A), (B) and (D)
4. (A), (C) and (D)

103. पादप लाल एवं सुदूर-लाल रंगों के प्रकाश की अनुभूति पादपवर्णकों (फाइटोक्रोमों) सहित विविध प्रकाश संज्ञाहियों द्वारा करते हैं। पादपवर्णक का सक्रियण होता है :

1. लाल प्रकाश के प्रभाव से Pr के Pfr रूप में परिवर्तन द्वारा।
2. सुदूर-लाल प्रकाश के प्रभाव से Pr रूप के दमन द्वारा।
3. एक-जैसी प्रवाह दरों पर लाल और सुदूर-लाल प्रकाशों के समान अनुपात द्वारा।
4. लाल और सुदूर-लाल प्रकाशों की बिल्व-बिल्व प्रवाह दरों द्वारा।

103. Red and far-red lights are perceived by plants through various photoreceptors including phytochromes. The activation of phytochrome is caused by:

1. conversion of Pr to Pfr form through the effect of red light.
2. repression of Pr form through the effect of far-red light.
3. equal proportion of red and far-red lights at same fluence rates.
4. presence of red and far-red light at different fluence rates.

104. पादपों पर विभिन्न अजीविक प्रतिबलों को प्राथमिक प्रभावों का अध्ययन करते समय एक शोधार्थी ने जल विभव (ψ_p) का ह्रास और कोशिकीय निर्जलनों का अवलोकन किया। इस प्रेषित प्रभाव के लिए निम्न में से कौन-से अजीविक प्रतिबलों का संयोजन कारण हो सकते हैं ?

1. जल की कमी, लवणता और द्रुतशीतन
2. लवणता, उच्च-तापक्रम और आप्लावन
3. हिमीभवन, लवणता और जल की कमी
4. हिमीभवन, द्रुतशीतन और आप्लावन

104. While studying the primary effects of different abiotic stresses on plants, a researcher observed water potential (ψ_p) reduction and cellular dehydrations. Which of the following combination of abiotic stresses may cause the observed effect?

1. Water deficit, salinity and chilling.
2. Salinity, high-temperature and flooding.
3. Freezing, salinity and water deficit.
4. Freezing, chilling and flooding.

105. फेनिलएलेनीन अमोनिया-लाएज (PAL) और चाल्कोन सिन्थेज (CHS) पादपों में फीनोल गौणिकों के जैव-संश्लेषण से सम्बद्ध हैं। नीचे PAL और CHS के प्रभावों के संदर्भ में कुछ कथन दिए गए हैं।

- (A) PAL और CHS के लिए कार्यरत क्रमशः फेनिलएलेनीन और चाल्कोन हैं।
- (B) PAL फेनिलएलेनीन को ट्रांस-सिन्थेटिक अम्ल में परिवर्तित कर देता है।
- (C) PAL फेनिलएलेनीन को *p*-क्यूमेरिक अम्ल में परिवर्तित कर देता है।
- (D) *p*-क्यूमरोयल-CoA CHS द्वारा चाल्कोनों में परिवर्तित कर दिया जाता है।

उपर्युक्त कथनों का कौन-सा नीचे दिया गया संयोजन सही है ?

1. (A) एवं (B)
2. (A) एवं (C)
3. (B) एवं (C)
4. (B) एवं (D)

105. Phenylalanine ammonia-lyase (PAL) and chalcone synthase (CHS) are involved in biosynthesis of phenolic compounds in plants. Following are some statements regarding the actions of PAL and CHS:

- (A) Substrates for PAL and CHS are phenylalanine and chalcone, respectively.
- (B) PAL converts phenylalanine to trans-cinnamic acid.
- (C) PAL converts phenylalanine to *p*-coumaric acid.
- (D) *p*-coumaroyl-CoA is converted to chalcones by CHS.

Which one of the following combinations of the above statements is true?

1. (A) and (B)
2. (A) and (C)
3. (B) and (C)
4. (B) and (D)

106. न्यूक्लियस का आविर्क अवरोधन ऊष्मण, जो Na^+/K^+ ATPase का संदयक है, से अवरोधित हो जाता है। इस स्थिति की सही व्याख्या कीजिए।

1. संदयक ने आविर्क अवरोधन से एन्थीपैलिपमी कोशिकाओं को Na^+ का परिवहन बाधित कर दिया है।
2. संदयक ने एन्थीपैलिपमी कोशिकाओं से आविर्क अवरोधन को Na^+ का परिवहन बाधित कर दिया है।

3. संदमक ने एपिथीलियमी कोशिकाओं से अंतराली अयकाश को Na^+ का परिवहन बाधित कर दिया है।
4. संदमक ने अंतराली अयकाश से एपिथीलियमी कोशिकाओं को Na^+ का परिवहन बाधित कर दिया है।

106. The intestinal absorption of glucose is impaired by the use of ouabain, an inhibitor of Na^+/K^+ ATPase. Indicate the correct explanation.

1. The inhibitor has blocked the transport of Na^+ from intestinal lumen to epithelial cells.
2. The inhibitor has blocked the transport of Na^+ from epithelial cells to the intestinal lumen.
3. The inhibitor has blocked Na^+ transport from epithelial cells to the interstitial space.
4. The inhibitor has blocked Na^+ transport from the interstitial space to epithelial cells.

107. अचण रोम कोशिकाओं के दृढपक्षाम पंक्तियों में तो व्यवस्थित होते हैं परन्तु सभी पंक्तियों में उनकी ऊँचाई एकसमान नहीं होती। यद्यपि एक विशेष पंक्ति में तो दृढपक्षाम एक ही ऊँचाई के होते हैं, बाद वाली पंक्तियों में उनकी ऊँचाईयाँ बढ़ती जाती हैं। जब अपेक्षाकृत लघु पंक्तियों के दृढपक्षामों को अपेक्षाकृत लम्बी पंक्तियों की ओर यांत्रिक रूप में धकेला जाता है, तो रोम कोशिकाएँ विधुवित हो जाती हैं लेकिन विपरीत दिशा में दिया गया धक्का उन्हें अतिधुवित कर देता है। दृढपक्षामों की इस श्रेणीबद्ध ऊँचाई का महत्व है :

- (A) कार्यात्मक परिस्थितियों में दृढपक्षामों की प्रत्येक पंक्ति अन्य पंक्तियों से स्वतंत्र रूप में विस्थापित की जा सकती है।
- (B) जब सभी पंक्तियाँ एक ही अक्ष में गति कर रही हों तो ऊँची दृढपक्षामों के शीर्ष, लघु दृढपक्षामों के शीर्ष की तुलना में अपेक्षाकृत अधिक विस्थापन दर्शाएंगे।
- (C) यदि विस्थापन की अक्ष परिवर्तित हो जाए तो रोम कोशिकाएँ विभिन्न श्रेणियों तक विधुवित एवं अतिविधुवित होंगी।
- (D) लम्बे दृढपक्षाम तो विधुवण से सम्बद्ध होते हैं लेकिन लघु अतिविधुवण से।

निम्न में से कौन-सा सही है ?

1. मात्र (A)
2. मात्र (B)
3. (B) एवं (C)
4. (A) एवं (D)

107. The stereocilia of auditory hair cells are arranged in rows but the heights of stereocilia are not the same in all the rows. Though the height of stereocilia is the same within a particular row, the heights increase in subsequent rows. When the stereocilia of shorter rows are mechanically pushed towards the taller rows, the hair cells are depolarized but a push on opposite direction hyperpolarizes them. The significance of this graded height of stereocilia is:

- (A) Each row of stereocilia may be displaced independent of other rows in physiological conditions.
- (B) The tip of the taller stereocilia will show greater displacement as compared to shorter ones when all the rows are moving in the same axis.
- (C) The hair cells will be depolarized or hyperpolarized in different grades when the axis of displacement is changed.
- (D) The taller stereocilia are involved with depolarization and shorter ones are responsible for hyperpolarization.

Which one of the following is correct?

1. (A) only
2. (B) only
3. (B) and (C)
4. (A) and (D)

108. बंदरों में GnRH शैशव (0-6 माह की आयु तक) और तारुण्य से आगे (4 वर्ष और अधिक की आयु तक) संचित होता है। लेकिन यदि पूर्व-तारुण्य काल (लगभग 2 वर्ष की आयु पर) GnRH का अंतःक्षेपण कर दिया जाए, तो रक्त में LH और FSH का स्तर अनौपचारिक 2 वर्ष की आयु के बंदर के रक्त की तुलना में बढ़ जाता है। यह इंगित करता है कि :

- (A) पूर्व-तारुण्य काल में हाइपोथैलेमस सक्रिय होता है।
 (B) यौवृष पर GnRH का प्रभाव आयु अर्थात् होता है।
 (C) यौवृष यौवनावस्था में विकसित होती है।
 (D) यौवृष बंदर के परिवर्तन की सभी अवस्थाओं में सक्रिय होती है।

निम्न में से कौन-सा सही है ?

1. (A) एवं (B) 2. (B) एवं (C) 3. मात्र (C) 4. मात्र (D)

108. GnRH is secreted during infancy (0-6 months) and puberty onwards (4 years and above) in monkeys. However, i.v. injection of GnRH during pre-pubertal period (about 2 years of age) led to elevated LH and FSH in blood compared to untreated 2 years old monkey. This suggests that:

- (A) hypothalamus is active during pre-pubertal period.
 (B) GnRH action on pituitary is age dependent.
 (C) pituitary matures during adulthood.
 (D) pituitary is active in all the stages of development in monkey.

Which one of the following is true?

1. (A) and (B) 2. (B) and (C) 3. (C) only 4. (D) only

109. एक व्यक्ति रातोंराती से पीड़ित रहा है। परामर्श के दौरान डॉक्टर ने उसे गाजर और /अथवा स्मॉक मीन का तेल खाने की सलाह दी। कुछ अवधि के उपरांत, कोई सुधार न होने की स्थिति में डॉक्टर ने मरीज को विटामिन A का अंतःक्षेपण लगाया, फिर भी मरीज की स्थिति में कोई विशेष सुधार नहीं हुआ। डॉक्टर ने अब कई प्रकार के सुझावों पर उस असफलता के क्रम में सोच-विचार निम्न संभावनाओं की कमी इंगित करते हुए किया :

- (A) रेटिनोल डिहाइड्रोजिनेज (B) रेटिनोल रिडक्टैज
 (C) रेटिनोल आइसोमरेज (D) रेटिनोल सिन्थेज

निम्न में से कौन-सा सही है ?

1. मात्र (A) 2. मात्र (B) 3. (B) एवं (C) 4. (C) एवं (D)

109. A person has been suffering from night blindness. On consultation, the doctor advised the person to eat carrots and/or cod fish oil. After some time having seen no improvement, the doctor gave the person Vitamin A injection. Still no marked improvement was seen. The doctor mooted several suggestions indicating lack of the following enzymes for the failure of treatment:

- (A) Retinol dehydrogenase (B) Retinal reductase
 (C) Retinal isomerase (D) Retinal synthase

Which one of the following is correct?

1. (A) only 2. (B) only 3. (B) and (C) 4. (C) and (D)

110. थाइरोट्रोपिककोरिस से पीड़ित मरीज के रक्त में थाइरोइड का अत्यंत उच्च स्तर होता है। इसका कारण हाइपोथैलेमिक-पीयूज-थाइरोइड अक्ष में पुनर्निवेशन नियंत्रण की असफलता है। जब रक्त की विस्तृत जांच की गई तो निम्न का उच्च स्तर पाया गया :

- (A) थाइरोइड उद्दीपक हार्मोन (TSH), (B) थाइरोइड उद्दीपक (TSI).
(C) थाइरोट्रोपिन अवरोधक हार्मोन (TRH), (D) पैराथाइरोइड हार्मोन (PTH).

आपकी सहाय में ऐसी थाइरोट्रोपिककोरिस के लिए निम्न में से कौन-सा उत्तरदायी है ?

1. मात्र (A) 2. मात्र (B) 3. (A) एवं (C) 4. (C) एवं (D)

110. A person suffering from thyrotoxicosis has extremely high level of thyroid hormone in blood. There is a failure of feed back regulation in hypothalamic-pituitary-thyroid axis. The detailed blood investigation exhibited high level of the following:

- (A) Thyroid stimulating hormone (TSH).
(B) Thyroid stimulating immunoglobulin (TSI).
(C) Thyrotropin releasing hormone (TRH).
(D) Parathyroid hormone (PTH).

In your opinion, which one of the following is the reason for such thyrotoxicosis?

1. (A) only 2. (B) only 3. (A) and (C) 4. (C) and (D)

111. एक्वापोरिन अथवा जलप्रणालों के संदर्भ में निम्न में से कौन-सा कथन सत्य नहीं है ?

1. एक्वापोरिन पादप एवं जन्तु झिल्लियों में पाए जाते हैं।
2. एक्वापोरिन NH_3 जैसे अपरिवर्तित अणुओं का परिवहन नहीं कर सकते।
3. कोरकोरिलीकरण और डीलिथियम की सादता एक्वापोरिन की क्रियाशीलता का नियंत्रण करती है।
4. एक्वापोरिन की क्रियाशीलता pH एवं अभिक्रियाशील ऑक्सीजन जातियों पर निर्भर होती है।

111. Which of the following statements regarding aquaporins or water channel is NOT correct?

1. Aquaporins are found in both plant and animal membranes.
2. Aquaporins cannot transport unchanged molecules like NH_3 .
3. Phosphorylation and calcium concentration regulate aquaporin activity.
4. Activity of aquaporin is regulated by pH and reactive oxygen species.

112. जय गटर की दो श्वेत पुष्पधारी स्वतंत्र शुद्ध वंशक्रमों का संकरण किया गया तो पाया गया कि F_2 संतति जामुनी पुष्प धारण करती है। साथ ही स्पनिबेवन से प्राप्त F_2 संतति में जामुनी एवं श्वेत पुष्प 9:7 के अनुपात में पाए गए। इन क्रियाकलापों से निम्न निष्कर्ष निकाले गए :

- (A) इससे दो जीन सम्बद्ध हैं, जिनमें होने वाले उत्परिवर्तन श्वेत पुष्पों के निर्माण के लिए उत्तरदायी हैं।
(B) यह दोनों जीन स्वतंत्र अपव्यूहन दर्शाती हैं।
(C) यह पूरक जीन प्रभाव का एक उदाहरण है।
(D) यह द्विक जीनों का एक उदाहरण है।

ऊपर दिए गए निष्कर्षों में से कौन-से सही है।

1. मात्र (A) एवं (C)
2. मात्र (A) एवं (D)
3. (A), (B) एवं (D)
4. (A), (B) एवं (C)

112. When two independent pure lines of pea with white flowers are crossed, the F_1 progeny has purple flowers. The F_2 progeny obtained from selfing shows both purple and white flower in a ratio of 9: 7. The following conclusions were made:

- (A) Two different genes are involved, mutations in which lead to formation of white flowers.
- (B) These two genes show independent assortment.
- (C) This is an example of complementary gene action.
- (D) This is an example of duplicate genes.

Which of the above conclusions are correct?

1. (A) and (C) only
2. (A) and (D) only
3. (A), (B) and (D)
4. (A), (B) and (C)

113. अर्धसूत्रीय बनने वाली एक कोशिका ऐसी चार पुत्री कोशिकाओं का उत्पादन करती है, जिनमें से दो तो अनुपलब्ध हैं और दो अनुचित। ऐसा संभव होता है क्योंकि :

1. मात्र प्रथम अर्धसूत्रीय विभाजन के मध्य अविभाजन के कारण।
2. मात्र द्वितीय अर्धसूत्रीय विभाजन के मध्य अविभाजन के कारण।
3. प्रथम अथवा द्वितीय अर्धसूत्रीय विभाजन के मध्य अविभाजन के कारण।
4. प्रथम और द्वितीय दोनों ही अर्धसूत्रीय विभाजनों के मध्य अविभाजन के कारण।

113. A cell undergoing meiosis produces four daughter cells, two of which are aneuploids, while two are haploid. This can occur due to:

1. non-disjunction during first meiotic division only.
2. non-disjunction during second meiotic division only.
3. non-disjunction during either first or second meiotic divisions.
4. non-disjunction during both first and second meiotic divisions.

114. डॉ. अलेक्सैंडर को तीन ऐसे उपरिपरिर्मों को विकसित किया गया किन्हें अपनी वृद्धि के लिये 'A' यौगिक की आवश्यकता है। यह ज्ञात है कि यौगिक 'A' की जैविक-संश्लेषण पथिका से यौगिक B, C और D संबद्ध हैं। पथिका का निर्धारण करने के लिए इन उपरिपरिर्मों को यौगिक A से D में से एक-एक सम्पूरित करतों हुए उगाया गया। प्रत्येक परिणाम को नीचे संक्षेप से दर्शाया गया है।

Mutant	Medium supplemented with compound			
	A	B	C	D
1	+	0	0	0
2	+	0	0	+
3	+	0	+	+

'+' वृद्धि दर्शाता है और '0' वृद्धि विहीनता
निम्न में से कौन-सा (सभीकरण) 'A' की जैविक-संश्लेषण पथिका दर्शाता है ?

1. $B \rightarrow C \rightarrow D \rightarrow A$
2. $C \rightarrow D \rightarrow B \rightarrow A$
3. $B \rightarrow D \rightarrow C \rightarrow A$
4. $A \rightarrow C \rightarrow D \rightarrow B$

114. Three *E. coli* mutants are isolated which require compound 'A' for their growth. The compounds B, C and D are known to be involved in the biosynthetic pathway to A. In order to determine the pathway, the mutants were grown in a medium supplemented with **ONE OF THE COMPOUNDS, A TO D**. The results obtained are summarized below:

Mutant	Medium supplemented with compound			
	A	B	C	D
1	+	0	0	0
2	+	0	0	+
3	+	0	+	+

'+' indicates growth; '0' indicates lack of growth

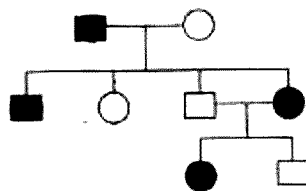
Which of the following equations represents the biosynthetic pathway of A?

1. $B \rightarrow C \rightarrow D \rightarrow A$
2. $C \rightarrow D \rightarrow B \rightarrow A$
3. $B \rightarrow D \rightarrow C \rightarrow A$
4. $A \rightarrow C \rightarrow D \rightarrow B$

115. वंशागति की चार विधियां निम्नवत् हैं

- (A) X- सहलग्न अप्रभावी
- (B) X- सहलग्न प्रभावी
- (C) अलिंगसूत्री अप्रभावी
- (D) अलिंगसूत्री प्रभावी

उपर्युक्त विधियों में से कौन-सी नीचे दी गई वंशावली की वंशागति की व्याख्या कर सकती है ?

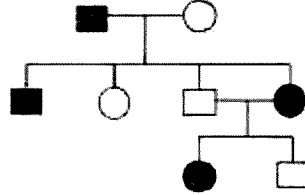


1. (A) एवं (C)
2. (B) एवं (C)
3. (C) एवं (D)
4. मात्र (D)

115. Following are four modes of inheritance

- (A) X-linked recessive (B) X-linked dominant
(C) Autosomal recessive (D) Autosomal dominant

Which of the above modes of inheritance can explain the pedigree shown below?



1. (A) and (C) 2. (B) and (C) 3. (C) and (D) 4. (D) only

116. *E. coli* के दो अवशररहित विभेदों A ($met^- bio^- thr^- leu^- thi^-$) और B ($met^+ bio^+ thr^+ leu^+ thi^+$) को 18 घंटों तक एक तरल संपूर्ण माध्यम में ऊष्मायित किया गया और तब इनकी $\sim 10^8$ कोशिकाओं को न्यूनतम माध्यम में प्लेटित किया गया जो सर्वशरित 1×10^7 की आवृत्ति में पाए गए। ऐसा दोनों विभेदों में आनुवंशिक पुनर्योजन की प्रक्रिया अथवा विभेदों के उत्परिवर्तन के कारण हुआ होगा। दृष्टि के लिए कि निम्न में से कौन-सा नियंत्रण प्रयोग उत्परिवर्तन की सम्भावना को पूरी तरह समाप्त कर देगा ?

1. A और B विभेदों को सीधे-सीधे न्यूनतम माध्यम पर प्लेटित करना।
2. A और B विभेदों के मिश्रण की 18 घंटे तक वृद्धि कराना और तत्पश्चात् संपूर्ण माध्यम पर प्लेटित करना।
3. A और B विभेदों को अलग-अलग 18 घंटे तक एक तरल संपूर्ण माध्यम में वृद्धि कराना और तब उन्हें न्यूनतम माध्यम पर प्लेटित करना।
4. प्राप्त सर्वशरितों की एक तरल संपूर्ण माध्यम में 18 घंटे तक वृद्धि कराना और तत्पश्चात् इन्हें न्यूनतम माध्यम पर प्लेटित करना।

116. The auxotrophic strains of *E. coli*: A ($met^- bio^- thr^- leu^- thi^-$) and B ($met^+ bio^+ thr^+ leu^+ thi^+$) were incubated together for 18 hours in a liquid complete medium and then $\sim 10^8$ cells were plated on a minimal medium. Prototrophs were observed at a frequency of 1×10^7 cells. This may have happened by a process of genetic recombination between the two strains or by mutation of the strains. Which of the following control experiments would help rule out the possibility of mutation?

1. Plating strains A and B directly on minimal medium.
2. Growing the mixture of strains A and B for 18 hours and then plating on complete medium.
3. Growing strains A and B individually in a liquid complete medium for 18 hours and then plating them on a minimal medium.
4. Growing the obtained prototrophs in a liquid complete medium for 18 hours and then plating them on a minimal medium.

117. एक आनुवंशिक आवरण से एकसमान लक्षणप्ररूप दर्शाते हुए चार अलग-अलग उत्परिवर्ती वंशक्रमों की पहचान की गई । जब इन उत्परिवर्तियों में आनुवंशिक संकरण सम्पन्न किए गए, तो पाया गया कि प्रथम उत्परिवर्ती दूसरे तीसरे और चौथे के उत्परिवर्ती वंशक्रमों को पूर्ण कर देता है लेकिन कोई अन्य पूरकता नहीं पायी गई । इंगित कीजिए कि यह चार उत्परिवर्ती वंशक्रम कितने पूरकता समूहों से सम्बद्ध हैं ?

1. एक 2. दो 3. तीन 4. चार

117. Four different mutant lines showing similar phenotype were identified from a genetic screen. When genetic crosses among these mutants were carried out, the first mutant was found to complement the second, third and fourth mutant lines. However, no other complementation was observed. How many complementation groups do the four mutant lines belong to ?

1. One 2. Two 3. Three 4. Four

118. एक जाति जनसंख्या सम्बन्धी निम्न लक्षण दर्शाती है :

- (A) गत 10 वर्षों अथवा 3 पीढ़ियों में जनसंख्या की गणना में $\geq 90\%$ का ह्रास ।
 (B) भौगोलिक परास : वितरण प्रसार : $< 100 \text{ km}^2$ और अभिग्रहण क्षेत्र : $< 10 \text{ km}^2$ ।
 (C) जनसंख्या आकार के 50 से कम व्यक्ति प्रौढ़ हैं ।
 (D) वन्य स्थिति में विलोपन की संभावना अगले 10 वर्षों अथवा 3 पीढ़ियों में कम से कम 50% है ।

इस जाति को IUCN द्वारा प्रस्तावित संकटापन्न जातियों के वर्गीकरण (वृत्तान्त 3.1) की किस श्रेणी में रखा जाएगा ?

1. संकटाग्रस्त 2. असुरक्षित
 3. क्रान्तिक संकटाग्रस्त 4. वन्य अवस्था में विलुप्त

118. A species has the following population characteristics:

- (A) Reduction in population size $\geq 90\%$ over the last 10 years or 3 generations
 (B) Geographic range: Extent of occurrence: $< 100 \text{ km}^2$ and Area of occupancy : $< 10 \text{ km}^2$
 (C) Population size less than 50 matured individuals
 (D) Probability of extinction in the wild is at least 50% within the next 10 years or 3 generations

To which of the following categories the species will be assigned according to IUCN categorization of threatened species (version 3.1)?

1. Endangered 2. Vulnerable
 3. Critically endangered 4. Extinct in the wild

119. भारत के पश्चिमी घाटों में हिमालयी वनस्पति-समूह के अवयवों का वितरण निम्न में से किस परिकल्पना द्वारा सबसे अधिक तर्कसंगत रूप में समझाया जा सकता है ?

1. महाद्वीपीय विचलन सिद्धांत 2. डेक्कन विपाश सिद्धांत
 3. हिमालयी हिमनदभवन सिद्धांत 4. कोरोमंडल टाट परिकल्पना

119. Which of the following hypothesis best explains the occurrence of Himalayan floral elements in Western Ghats of India?

1. Continental drift theory
2. Deccan trap theory
3. Himalayan glaciation theory
4. Coromandel coast hypothesis

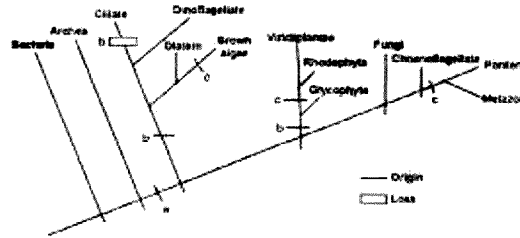
120. कुछ परिस्थितियों में एक विषाणु के लिए लयजनक चक्र लयन चक्र की तुलना में क्योंकि अधिक लाभप्रद होता है ?

1. लयजनक चक्र विषाणु की संक्रमण अन्त-शक्ति को बनाए रखते हुए भी आतिथेय के स्थानीय फिलोपन को रोकता है ।
2. द्विविभाजन के मध्य, एक अथवा अधिक पुनरावृत्ति घटनाओं के उपरांत, जीवाणविक गुणसूत्रों से समाकलन के फलस्वरूप विषाणु के लिए अनुवांशिक अनुदेश नष्ट हो जाते हैं ।
3. चूंकि लयजनक संक्रमण तब अपनी आतिथेय कोशिकाओं को हानि नहीं पहुंचाते आ. ये विषाणु कणों का अनिश्चित काल तक उत्पादन करते रह सकते हैं ।
4. लयजनकता विषाणुओं में कहीं अधिक उत्परिवर्तनों की उत्पत्ति करती है, जिसके फलस्वरूप अधिक लपंत्तरी निर्मित होते हैं जिन पर प्राकृतिक वरण परिचालित हो सकता है ।

120. Why lysogenic cycle is more beneficial to a virus than lytic cycle under certain circumstances?

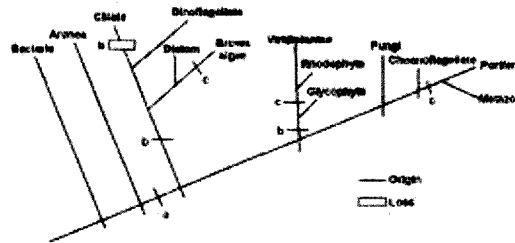
1. The lysogenic cycle prevents local extinction of the host while still retaining its infection potential.
2. By integrating with the bacterial chromosomes, the genetic instructions for the virus become refreshed after one or more replication events during binary fission.
3. Lysogenic infection cycles do not harm their host cells, so they can produce virus particles indefinitely.
4. Lysogeny causes more mutations to occur in the virus, creating more variants upon which natural selection can operate.

121 नीचे दिए गए चित्र में a, b और c की पहचान कीजिए :



- 1 a = माइटोकॉन्ड्रिया ; b = बहुकोशिकता ; c = हरितलवक
- 2 a = माइटोकॉन्ड्रिया ; b = हरितलवक, c = बहुकोशिकता
- 3 a = हरितलवक ; h = बहुकोशिकता, c = माइटोकॉन्ड्रिया
- 4 a = हरितलवक ; b = केंद्रक ; c = बहुकोशिकता

121 Identify a, b and c in the figure:



1. a = mitochondria; b = multicellularity; c = chloroplast
2. a = mitochondria; b = chloroplast; c = multicellularity
3. a = chloroplast; b = multicellularity; c = mitochondria
4. a = chloroplast; b = nucleus; c = multicellularity

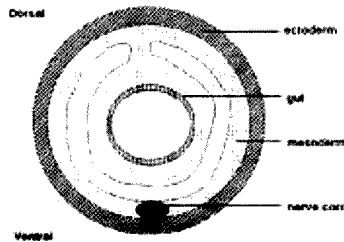
122. कशेरुकी प्राणियों के निम्न में से कौन-से वर्गों में ऐसे समूह हैं जिनमें जन्तु बिना पादों (अंगों) के होते हैं ?

1. मत्स्य, सरीसृप और स्तनप्राणी
2. मात्र सरीसृप
3. सरीसृप और उभयचर
4. मात्र उभयचर

122. In which of the following classes of vertebrates there are groups of animals without limbs?

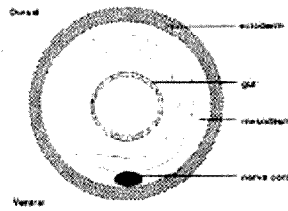
1. Fish, reptiles and mammals
2. Reptiles only
3. Reptiles and amphibians
4. Amphibians only

123. नीचे प्रस्तुत एक जन्तु की व्यवस्थित काट इंगित करती है कि यह प्राणी :



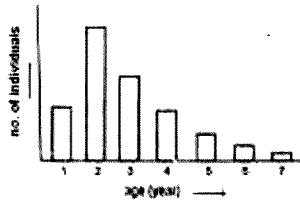
1. त्रिकोणकी, प्रगुही, अकशेरुकी है ।
2. त्रिकोणकी, अप्रगुही, अकशेरुकी है ।
3. द्विकोणकी, प्रगुही, अकशेरुकी है ।
4. त्रिकोणकी, प्रगुही, कशेरुकी है ।

123. The schematic section given below of an animal indicates that the animal is:



1. triploblastic, coelomic, invertebrate.
2. triploblastic, acoelomic, invertebrate.
3. diploblastic, coelomic, invertebrate.
4. triploblastic, coelomic, vertebrate.

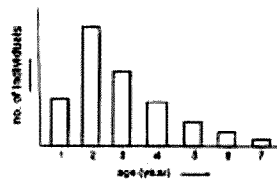
124. किसी निर्दिष्ट समय पर एक जनसंख्या का आयु वर्ग वितरण नीचे दर्शाए गए चित्र के अनुरूप था :



इस चित्र से निम्न में से कौन-सा निष्कर्ष निकाला जा सकता है ?

1. आयु वर्ग 2 की जननक्षमता सर्वाधिक है ।
2. आयु वर्ग 2 की उत्तरजीविता सर्वाधिक है ।
3. आयु वर्ग का वितरण संतुलित है ।
4. आयु वर्ग का वितरण संतुलित नहीं है ।

124. At a given time, the age class distribution of a population was as shown in the figure:



Which of the following can be inferred from the figure?

1. Age class 2 has maximum fecundity.
2. Age class 2 has maximum survival.
3. Age class distribution is at equilibrium.
4. Age class distribution is not at equilibrium.

125. चार (A) समुदायों की विविधता का अध्ययन करते समय, प्रत्येक समुदाय में से 5 जातियाँ और 50 व्यष्टियों का अभिलेख किया गया। प्रत्येक जाति के अंतर्गत रखी गई व्यष्टियों की सूची नीचे दी गई सारणी में उल्लिखित अंकों के अनुरूप बनाई गई। इंगित कीजिए कि निम्न में से कौन-से समुदाय में 'जीलों का समता सूचक' 1 (एक) होगा ?

	Community	Species				
		1	2	3	4	5
1.	A	20	8	7	5	10
2.	B	10	10	10	10	10
3.	C	10	12	10	8	10
4.	D	1	1	1	1	46

125. While studying the diversity of 4 communities, 5 species and 50 individuals were recorded from each community. The number of individuals under each species was listed as mentioned in the following Table. In which of the following communities Pielou's Evenness Index (e) will be 1 ?

	Community	Species				
		1	2	3	4	5
1.	A	20	8	7	5	10
2.	B	10	10	10	10	10
3.	C	10	12	10	8	10
4.	D	1	1	1	1	46

126. औसत वार्षिक अवक्षेपण और तापक्रम विश्व के प्रमुख जीवमों के क्रम में दो महत्वपूर्ण निर्धारक हैं। इंगित कीजिए कि निम्न में से कौन-सा संयोजन सही है ?

	तापक्रम और अवक्षेपण		जीवम
(A)	25° से तापक्रम और 255 सेमी अवक्षेपण	i	शीतोष्ण वन
(B)	15° से तापक्रम और 300 सेमी अवक्षेपण	ii	सवाना
(C)	15° से तापक्रम और 100 सेमी अवक्षेपण	iii	शीतोष्ण वर्षा वन
(D)	25° से तापक्रम और 255 सेमी अवक्षेपण	iv	उष्णकटिबंधी वर्षा वन

1. (A)-iv, (B)-iii, (C)-i, (D)-ii
2. (A)-iii, (B)-ii, (C)-iv, (D)-i
3. (A)-ii, (B)-i, (C)-iii, (D)-iv
4. (A)-i, (B)-iv, (C)-ii, (D)-iii
126. Average annual precipitation and temperature are two important determinants of world's major biomes. Which of the following combinations is correct?

	Temperature and precipitation		Biome
(A)	25°C temperature and 255 cm precipitation	i	Temperate forest
(B)	15°C temperature and 300 cm precipitation	ii	Savannah
(C)	15°C temperature and 100 cm precipitation	iii	Temperate rain forest
(D)	25°C temperature and 255 cm precipitation	iv	Tropical rain forest

1. (A)-iv, (B)-iii, (C)-i, (D)-ii
2. (A)-iii, (B)-ii, (C)-iv, (D)-i
3. (A)-ii, (B)-i, (C)-iii, (D)-iv
4. (A)-i, (B)-iv, (C)-ii, (D)-iii

127. निम्नलिखित तालिका में प्रत्येक वन के प्रकार का औसत स्पेक्ट्रल मान देखा गया है। निम्नलिखित तालिका में प्रत्येक वन के लिए प्राप्ता औसत स्पेक्ट्रल मान दिए गए हैं :

वन	स्पेक्ट्रल मान	
	NIR	VIS
A	0.50	0.08
B	0.40	0.30
C	0.50	0.20
D	0.60	0.20

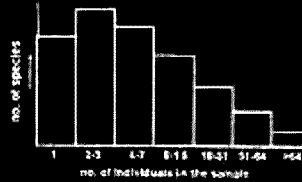
इनके आधार पर उच्चतम से निम्नतम के क्रम में वन हरित आवरण है ।

1. $A > C > B > D$
 2. $A > D > C > B$
 3. $B > C > D > A$
 4. $D > A > B > C$
127. A researcher collected information from four forest areas using a sensor to assess their green cover. Observed average spectral values for each of the forests are given in the table below:

Forest	Spectral value	
	NIR	VIS
A	0.50	0.08
B	0.40	0.30
C	0.50	0.20
D	0.60	0.20

The forest green cover in the order of highest to lowest is

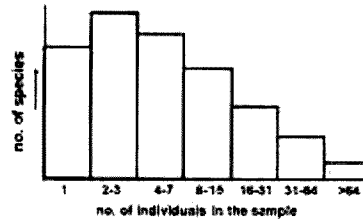
1. $A > C > B > D$
 2. $A > D > C > B$
 3. $B > C > D > A$
 4. $D > A > B > C$
128. जीवविज्ञानियों ने एक नए खोजे गए द्वीप से यादृच्छिक रूप में लगभग 3000 कीटों के नमूनों का परीक्षण किया । नमूने में उनके आकार का वितरण नीचे दिए गए चित्र के अनुरूप था ।



च्राक के आधार पर निम्न में से कौन-सा निष्कर्ष सही है ?

1. कई जातियों की द्वीप पर मात्र एक व्यक्ति ही विद्यमान है ।
2. वरम सजीवी और खीटा तथा थंड अनेक जातियों में से प्रत्येक की थोड़ी-सी व्यष्टियों को दर्शाता है ।
3. यदि सभी कोशकों की जैन्सिटी को जोड़ा जाए तो यह द्वीप पर विद्यमान कुल जातियों की संख्या के समान होगा ।
4. नमूने में द्वीप पर विद्यमान सभी जातियों का प्रतिनिधित्व होना आवश्यक नहीं है ।

128. Biologists randomly sampled about 3000 insects from a newly found island. The distribution of their abundance in the sample was as in the figure given below.



Which of the following can be correctly inferred from the graph?

- Many species have only one individual each on the island.
 - The bar on the extreme right represents a large number of species with very few individuals.
 - Summation of the heights of all columns will be exactly equal to the total number of species present on the island.
 - All species from the island may not be represented in the sample.
129. लोटका एवं वोल्टेरा के दो जातियों के बीच प्रतिद्वंदता के मॉडल में :

$$\frac{dN_1}{dt} = r_1 N_1 \left(\frac{K_1 - N_1 - N_2 \alpha_{12}}{K_1} \right) \text{ और}$$

$$\frac{dN_2}{dt} = r_2 N_2 \left(\frac{K_2 - N_2 - \alpha_{21} N_1}{K_2} \right).$$

जहाँ N जातियों 1 और 2 के लिए आकार, r वृद्धि दर और K उच्चतम पोषण क्षमता इंगित करते हैं। इस क्रम में अंतर्जातीय प्रतिद्वंदता गुणांक $\alpha_{12} < 1$ से अभिप्राय होगा :

- जाति 2 की व्यष्टियाँ जाति 1 की व्यष्टियों पर, जाति 1 की व्यष्टियों के अपनी ही जाति के अन्य सदस्यों पर प्रदत्त संदमन प्रभाव की तुलना में न्यून निरोधक असर डालती हैं।
- जाति 2 की व्यष्टियाँ जाति 1 की व्यष्टियों पर, जाति 1 की व्यष्टियों के अपनी ही जाति के अन्य सदस्यों पर प्रदत्त संदमन प्रभाव की तुलना में अधिक निरोधक असर डालती हैं।
- जाति 1 की व्यष्टियाँ जाति 2 की व्यष्टियों पर, जाति 2 की व्यष्टियों के अपनी ही जाति के अन्य सदस्यों पर प्रदत्त संदमन प्रभाव की तुलना में न्यून निरोधक असर डालती हैं।
- जाति 1 की व्यष्टियाँ जाति 2 की व्यष्टियों पर, जाति 2 की व्यष्टियों के अपनी ही जाति के अन्य सदस्यों पर प्रदत्त संदमन प्रभाव की तुलना में अधिक निरोधक असर डालती हैं।

129. In Lotka and Volterra's two species competition model :

$$\frac{dN_1}{dt} = r_1 N_1 \left(\frac{K_1 - N_1 - N_2 \alpha_{12}}{K_1} \right) \text{ and}$$

$$\frac{dN_2}{dt} = r_2 N_2 \left(\frac{K_2 - N_2 - \alpha_{21} N_1}{K_2} \right)$$

Where N represents population size, r growth rate and K maximum carrying capacity for species 1 and 2. The inter specific competition coefficient $\alpha_{12} < 1$ will mean:

1. individuals of species 2 have less inhibiting effect on individuals of species 1 than individuals of species 1 on others of their own species.
2. individuals of species 2 have a greater inhibiting effect on individuals of species 1 than individuals of species 1 on others of their own-species.
3. individuals of species 1 have less inhibiting effect on individual members of species 2 than individual of species 2 on others of their own species.
4. individuals of species 1 have a greater inhibiting effect on individuals of species 2 than individuals of species 2 on others of their own species.

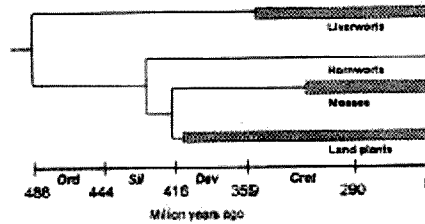
130. ई. कोलाई में lac^- से lac^+ उत्परिवर्तन की दरों का विचारण, मात्र लेक्टोस को ऊर्जा का स्रोतघारी माध्यम का उपयोग कर किया गया। इस स्थिति में उत्परिवर्तनों में स्वतः प्रकृति के सिद्धांत का उल्लंघन माना जाएगा यदि :

1. भूराजसी के कृत्र उत्परिवर्तन की दर बढ़ जाती है।
2. लेक्टोस की उपस्थिति में यद्यपि lac^- से lac^+ की ओर उत्परिवर्तन की दर बढ़ जाती है, उत्परिवर्तन की समग्र दर नहीं बढ़ती।
3. lac जीन में उत्परिवर्तन की दर अन्य जीनों की तुलना में सदैव अधिक होती है।
4. lac जीन में उत्परिवर्तन की दर अन्य जीनों की तुलना में सदैव कम होती है।

130. The rates of mutation in *E. coli* from lac^- to lac^+ are determined using a medium containing lactose, as the only source of energy. The principle of spontaneity of mutations can be said to be violated if :

1. the rate of mutation increases during starvation.
2. in the presence of lactose, the rate of mutation from lac^- to lac^+ is increased but overall rate of mutation is not.
3. the rate of mutation in lac gene is always greater than that in other genes.
4. the rate of mutation in lac gene is always less than that in other genes.

131. जीवाणुओं के अभिलेखों के अनुसार लिक्वर्बर्ट के सबसे पहले जीवाणु उत्तर डियोनियन में, मौसों के पूर्व क्रिटेशियस में और गंधकनी पादपों के उत्तर सिलूरियन/पूर्व डियोनियन में पाए गए हैं जब कि एन्थ्रोसिरोस (होर्नवर्ट) के जीवाणु खोजों में मिले ही नहीं हैं। जीवाणुओं के अभिलेखों या अध्ययन करने पर हम इस निर्णय पर पहुंचेंगे कि प्रथमतः पृथ्वी पर संवहनों पादप अस्तित्व हुए, फिर मौस और बाद में लिक्वर्बर्ट।



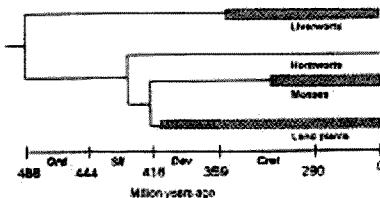
लेकिन जातिवृत्तीय संबंध (जैसे कि चित्र में दिखाए गए हैं) इसके विपरीत स्थिति इंगित करते हैं। ऐसा सम्भव है कि

- (A) विकासीय इतिहास का अध्ययन सीधे-सीधे जीवाश्म अभिलेख से हो सके।
 (B) मोसों की वंशावली कम-से-कम पूर्व सिल्यूरियन/पूर्व डिवोनियन तक पायी जाती है।
 (C) जीवाश्म किसी वंशावली की मात्र अधिकतम आयु ही इंगित कर सकते हैं।
 (D) जीवाश्म किसी वंशावली की मात्र न्यूनतम आयु ही इंगित कर सकते हैं।
 (E) लिवरवर्टों और अन्य सभी स्थली पादपों में विचलन कम-से-कम पूर्व ओर्डोविसियन में ही प्रारम्भ हो गया था।

निम्न कथनों में से कौन-सा सही है ?

1. (A), (B), (C), (E) 2. (B), (D), (E)
 3. (A), (B), (D), (E) 4. (B), (C), (E)

131. According to fossil records, the earliest fossils of liverworts are found in the late Devonian; of mosses in the early Cretaceous, and vascular plants in the late Silurian/early Devonian. *Anthoceros* (hornworts) fossils have not been discovered. Reading fossil records we would say that vascular plants appeared first, then mosses and then liverworts.



However, phylogenetic relationships (shown in the figure) suggest otherwise. It may be that

- (A) evolutionary history can be read directly from the fossil record.
 (B) the moss lineage goes back to at least early Silurian/early Devonian.
 (C) fossils can only set a maximum age for a lineage.
 (D) fossils can only set a minimum age for a lineage.
 (E) the divergence between liverworts and the rest of land plants goes back to at least the early Ordovician.

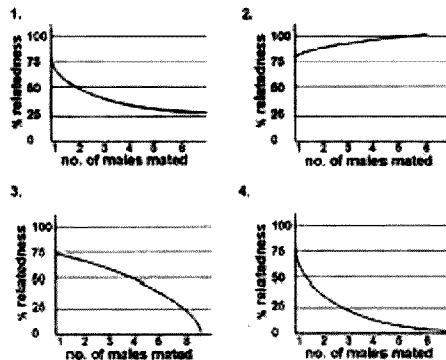
Which of the following statements is correct?

1. (A), (B), (C), (E)
 2. (B), (D), (E)
 3. (A), (B), (D), (E)
 4. (B), (C), (E)
132. उत्तरीय गज सील माछलियों की संख्या वर्ष 1800 तक मात्र 20 व्यष्टियों तक घटकर सीमित रह गई थी। जीवविज्ञानियों ने इस जाति में विद्यमान प्रोटीनों की विविधता का अध्ययन किया, लेकिन उन्हें अलग-अलग व्यष्टियों के प्रोटीन में कोई आनुवंशिक भेद स्पष्ट नहीं प्रतीत हुआ। ऐसी विविधता-हीनता का कारण रहा होगा:
1. गज सील माछलियों का ऐसे स्थिर वातावरण में आवास जहाँ आनुवंशिक विविधता की कोई आवश्यकता नहीं है।
 2. जनसंख्या संबंधी अवरोध और आनुवंशिक विचलन।
 3. प्राकृतिक चरण के फलस्वरूप मात्र एक सर्वोत्तम जीनप्ररूप ही उत्पन्न हुआ।
 4. उत्परिवर्तन की अत्यंत न्यून दर।
132. Northern Elephant seals had been reduced to about 20 individuals in the 1800s. Biologists studied variation in proteins in the species. They found no genetic differences in the protein among different individuals. This lack of variation is due to:
1. the fact that elephant seals live in a constant environment where there is no need for genetic variation.
 2. population bottleneck and genetic drift.
 3. natural selection resulting in a single best genotype.
 4. a very low rate of mutation.
133. किसी द्विगुणित जनसंख्या में निर्दिष्ट विस्थल पर विद्यमान ऐलीलों की संख्या 'n' है। इस जनसंख्या में (i) यदि सभी ऐलीलों का बाहुल्य समान हो (ii) यदि सभी ऐलीलों का बाहुल्य असमान हो, तो सभी समयुग्मजों का अनुपात होगा
1. (i) $1/n$ (ii) $< 1/n$
 2. (i) $1/n$ (ii) $> 1/n$
 3. (i) $1/n^2$ (ii) $< 1/n^2$
 4. (i) $1/n^2$ (ii) $> 1/n^2$
133. There are 'n' number of alleles for a given locus in a diploid population. The proportion of all homozygotes in the population (i) if all alleles are equally abundant and (ii) if all alleles are not equally abundant, will be:
1. (i) $1/n$ (ii) $< 1/n$
 2. (i) $1/n$ (ii) $> 1/n$
 3. (i) $1/n^2$ (ii) $< 1/n^2$
 4. (i) $1/n^2$ (ii) $> 1/n^2$
134. आंकड़ों द्वारा समर्थित आण्विक विकास के उदासीन सिद्धांत की भविष्यवाणी निम्न में से कौन-सा कथन करता है ?
1. मानव और वनमानुष (चिंपेजी) में आभासी जीनों के कार्यशील जीनों के डीएनए अनुक्रमों के संकेतकी क्षेत्रों की तुलना में कहीं अधिक भेद विद्यमान होता है।
 2. मानव और वनमानुष आभासी जीनों के संकेतकी क्षेत्रों की तुलना में कार्यशील जीनों के संकेतकी क्षेत्रों के डीएनए अनुक्रमों में कहीं अधिक भेद विद्यमान होता है।
 3. मानवों में वनमानुषों की तुलना में अधिकांश डीएनए अनुक्रमों के विकास की दर अधिक तेज होती है।
 4. अधिक अग्रगामी जातियों में कार्यशील जीनों की संख्या कहीं अधिक होती है।

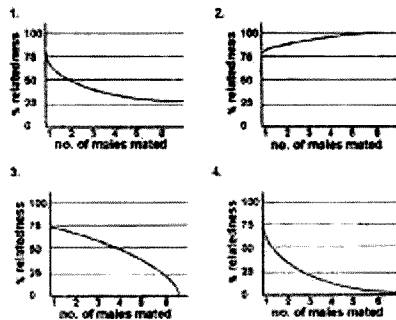
134. Which of the following is a prediction of the neutral theory of molecular evolution that is supported by data?

1. Humans and chimps differ more in DNA sequences of pseudogenes than in coding regions of functional genes.
2. Humans and chimps differ more in DNA sequences of coding regions of functional genes than of pseudogenes.
3. Humans have a faster evolution of most of their DNA sequences than chimps.
4. The more advanced species have more number of functional genes.

135. हाइमनोप्टेरा समूह के कीटों में, जहाँ नर जीव अगुणित होते हैं, स्त्रीलिंग द्विगुणित नियोजन के फलस्वरूप जहाँ सभी निषेचित अंड स्त्रीलिंग व्यष्टियों को जन्म देते हैं वही अनिषेचित अंडों से पुलिंग सदस्य बनते हैं। परिणामतः यदि कोई स्त्री कीट मात्र एक पुलिंग कीट के साथ करती है, तो संतति में बनने वाले सभी स्त्री कीट एक-दूसरे से 75% तक सम्बंधित होते हैं। वस्तु यदि मातृ कीट का सम्भोग कई पुलिंग कीटों से हो गया, तो स्त्रीलिंग संतति का सही-सही औसत आनुवंशिक सम्बंध इंगित होगा।



135. In hymenopteran insects, males are haploid and females are diploid. All fertilized eggs give rise to females and unfertilised eggs give rise to males. As a result, if a female mates with a single male, the females in the progeny are related to each other by 75%. But if the mother had mated with many males, the mean genetic relatedness of female progeny is correctly represented by:



130. किसी ग्लूकोकोर्टिकॉयड हार्मोन के राडियो-प्रोत्सवी विश्लेषण (RIA) करते समय RIA कॉकटेल में रेडियो सक्रिय ग्लूकोकोर्टिकॉयड (ट्रिटियम) मिलाया गया। जब आबंधित हार्मोन की मात्रा की जांच की गई तो इनकी संख्या नगण्य थी। इस क्रम में निम्न व्याख्याएं प्रस्तावित की गईं :

- (A) रेडियोसक्रिय हार्मोन अमूर्तता मात्रा में विद्यमान था।
 (B) भंडारण की अवधि में हार्मोन का रेडियोसक्रिय लेबल (टैग) पूर्णतः विघटित हो गया था।
 (C) कॉकटेल में प्रतिपिंड नहीं मिलाया गया था।
 (D) ट्रिटियम की सक्रियता निम्न थी।

सही विकल्प/विकल्पों का चयन कीजिए :

1. मात्र (A) 2. मात्र (C) 3. (B) एवं (C) 4. (A) एवं (D)

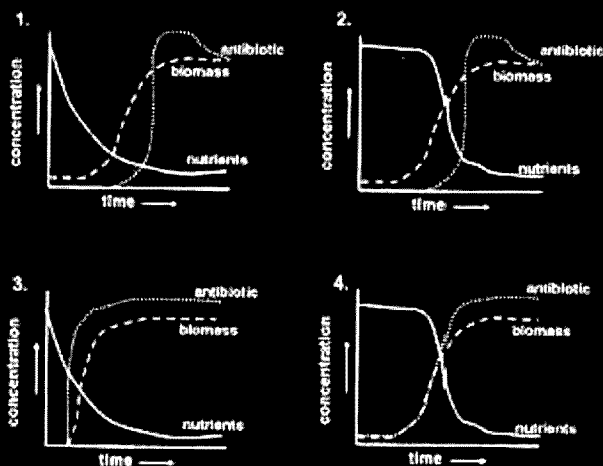
136. In a Radio-immunoassay (RIA) for glucocorticoid hormone, radioactive glucocorticoid (tritiated) is added to the RIA cocktail. When the amount of bound hormone was measured no counts were observed. The following explanation(s) were proposed:

- A The radioactive hormone was insufficient.
 B The radioactive tag to the hormone completely dissociated during storage.
 C Antibody was not added to the cocktail.
 D The specific activity of the tritium was low.

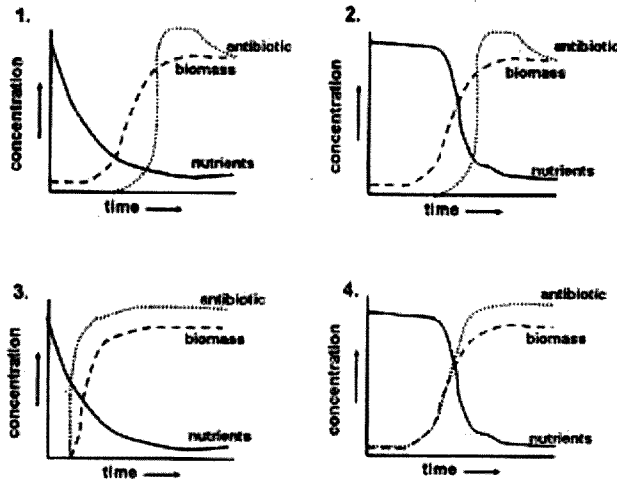
Choose the correct option(s):

1. (A) only 2. (C) only 3. (B) and (C) 4. (A) and (D)

137. स्ट्रेप्टोमाइसीस जातियों से प्रतिजैविक उत्पादन की प्रक्रिया को निम्न में से कौन-सा वक्र सही रूप में दर्शाता है ?



137. Which of the following curves correctly represents the process of antibiotic production by *Streptomyces* sp.



138. मस्य उन्नत करने के क्रम में पराजीनी पाद्यों का उत्पादन करने के लिए किसी फसल की एक नियंत्रिक जीन X की अधिव्यक्ति की गई। इस प्रकार उत्पादित, 30 पराजीनी धान के पाद्यों में से, 22 जीन X की अधिव्यक्ति के उच्च स्तर को दर्शाते हैं, जब कि शेष 8 वंशक्रम अधिव्यक्ति के नीचे स्तर प्रकट करते हैं। इस प्रेक्षण की एक सम्भावित व्याख्या हो सकती है :

1. पराजीन का निरोधक प्रभाव ।
2. जीन X का अभिव्यक्तकारी प्रभाव ।
3. जीन मौनकारी प्रभाव ।
4. पराजीन का सह-निरोधन प्रभाव ।

138. For the generation of transgenic plants in crop improvement, one important regulatory gene X was overexpressed in a crop plant. Out of 30 transgenic rice plants generated, 22 showed high levels of gene X expression. However, rest 8 lines displayed low levels of expression. One explanation of such observation may be:

1. suppression effect of the transgene.
2. knock-down effect of the gene X.
3. gene silencing effect.
4. co-suppression effect of the transgene.

139. दस अलग-अलग मूषक विभेदों को संपूर्ण कीहोल लिम्फेट हीमोसाएनिन (KLH) द्वारा रंजित किया गया। KLH को पात्रे उददीपन के लिए 10 पेप्टाइडों में खंडित किया गया। तत्परथात् इन दस अलग-अलग रंजित मूषक विभेदों की प्लीहा कोशिकाओं को इन दसों में से प्रत्येक पेप्टाइड द्वारा पुनः उददीपित किया गया और इन पेप्टाइडों के प्रति अनुक्रियाशीलता का पात्रे मापन किया गया तो पाया गया कि इन मूषक विभेदों में से प्रत्येक ने किसी भी एक पेप्टाइड के क्रम में अनुक्रिया की थी। जब पेप्टाइड 3 अनुक्रियाशील विभेद का समागम अनुक्रियाशील विभेद 4 से सम्पन्न कराया गया, तो F₁ संतति की प्लीहा कोशिकाओं ने दोनों ही पेप्टाइडों के प्रति अनुक्रिया दर्शाई। ऐसी स्थिति में निम्न में से कौन-सा कथन सबसे उपयुक्त है ?

1. पेप्टाइड 3 अथवा पेप्टाइड 4 के प्रति अनुक्रिया दर्शाने वाले मूषक विभेदों में अलग-अलग MHC अणुजित प्ररूप होते हैं ।
 2. पेप्टाइड 4 अथवा पेप्टाइड 4 के प्रति अनुक्रिया दर्शाने वाले मूषक विभेदों में दोनों में से कोई एक T कोशिका ग्राही विद्यमान होता है ।
 3. पेप्टाइड 3 अथवा पेप्टाइड 4 के प्रति अनुक्रिया दर्शाने वाले मूषक विभेद KLH का संसादन नहीं कर सकते ।
 4. पेप्टाइड 3 अथवा पेप्टाइड 4 के प्रति अनुक्रिया दर्शाने वाले मूषक विभेदों ने MHC वर्ग-I अणु की अभिव्यक्ति नहीं की ।
139. Ten different mouse strains were primed with whole Keyhole limpet hemocyanin (KLH). KLH was broken into ten peptides for *in vitro* stimulation. The splenocytes from ten different primed mouse strains were restimulated with each of these ten peptides and the responsiveness to these peptides were measured *in vitro*. It was found that each of these mouse strains had responded to one of the peptides. When the peptide 3 responder was mated with peptide 4 responder, the splenocytes of F₁ offspring responded to both the peptides. Which of the following is most appropriate?
1. Mouse strains responding to peptide 3 or peptide 4 have different MHC haplotypes.
 2. Mouse strains responding to peptide 3 or peptide 4 have either of these T cell receptor.
 3. Mouse strains responding to peptide 3 or peptide 4 cannot process KLH.
 4. Mouse strains responding to peptide 3 or peptide 4 did not express MHC class-I molecule.
140. आद्य कोशिकाओं (stem cell) को व्यापक रूप में उनके पुनर्जनन गुण और विभिन्न वंशक्रमों में विभेदन की क्षमता के लिए उपयोग किया जाता है । कोई क्षत यकृत-धारी व्यक्ति एक आद्य-कोशिका चिकित्सक के पास पहुंचता है । ऐसे में उपचार के लिए निम्न में से कौन-सी चिकित्सीय युक्ति सर्वाधिक सुरक्षित ठहरावी जायेगी ?
1. किसी स्वस्थ दाता से यकृत यकृत कोशिकाएं प्राप्त करना और इनका रोगी में प्रत्यारोपण ।
 2. रोगी की त्वरीय कोशिकाओं को iPS कोशिकाओं में बदलना और इन्हें आने विभेदन एवं यकृत में प्रत्यारोपण करना ।
 3. क्षत यकृत में भ्रूणीय आद्य कोशिकाओं का अंतर्क्षेपण ।
 4. यकृत में सीधे-सीधे मेरुरज्जु कौली रक्त कोशिकाओं का अंतर्क्षेपण ।
140. Stem cells are widely used for their regenerative property and capacity to differentiate into different lineages. A person with a damaged liver approaches a stem cell therapist. Which of the following therapeutic strategies would be the safest?
1. Procuring adult liver cells from a healthy donor and grafting them into the patient.
 2. Transforming skin cells from the patient into iPS cells and using them for further differentiation and grafting in liver.
 3. Injecting embryonic stem cells into the damaged liver
 4. Injecting cord blood cells into the liver directly.
141. यदि कोई एक यूकेरियोटी तंत्र के संपूर्ण जीनोम अभिव्यक्ति विश्लेषण सम्बन्धी सूक्ष्मप्रमविन्दास चिप को स्मरण तैयार करना चाहता है तो उसे अनुपम रक्षण अनुक्रमों के घयन के लिए जीन के किन क्षेत्रों को परीक्षा देनी चाहिए ?
1. संकेतन डीएनए अनुक्रम (CDS)के किसी भी क्षेत्र की ।
 2. 3' क्षेत्र CDS और 3' अनुवाद-विहीन क्षेत्र (UTR)की ।
 3. 5' क्षेत्र CDS और 5' UTR की ।
 4. मात्र 1^म इन्ट्रॉन की ।

141. If one wishes to design a microarray chip for whole genome expression analysis of an eukaryotic system, which region of the gene should be preferred for selection of unique target sequences?

1. Any region of the coding DNA sequence (CDS).
2. 3' region of the CDS and 3' untranslated region (UTR).
3. 5' region of the CDS and 5' UTR.
4. 1st intron only.

142. डीएनए के 5' शीर्ष संकेतन के लिए क्रमशः निम्न अभिक्रियाओं में दर्शाई गई दिशानुसार संपन्न की जाती हैं ।

5'-dephosphorylated DNA + [$\gamma^{32}\text{P}$]dATP + T4 polynucleotide kinase (T4PNK) and incubated for 2 hour \rightarrow Ammonium acetate \rightarrow Tris-EDTA \rightarrow ethanol.

यदि प्रारम्भिक डीएनए सम्मिश्र में NH_4^+ की लेशमात्रा विद्यमान हो तो निम्न में से कौन-से कथन के सही होने की संभावना सबसे अधिक है ?

1. NH_4^+ आयन T4PNK को सक्रिय कर देता है, फलतः संकेतन दक्षता बढ़ जाती है ।
2. NH_4^+ आयन T4PNK को संदमिता कर देता है, अतः इसे डीएनए मिश्रण में उपस्थित नहीं होना चाहिए ।
3. NH_4^+ आयन का T4PNK पर कोई प्रभाव नहीं होता है ।
4. NH_4^+ आयन डीएनए को विकोस्फोरिलीकृत कर देता है, फलतः संकेतन दक्षता बढ जाती है ।

142. For 5' end labeling of DNA, the following reactions are carried out sequentially as indicated.

5'-dephosphorylated DNA + [$\gamma^{32}\text{P}$]dATP + T4 polynucleotide kinase (T4PNK) and incubated for 2 hour \rightarrow Ammonium acetate \rightarrow Tris-EDTA \rightarrow ethanol.

If trace amount of NH_4^+ is present in the initial DNA mix, which of the following statements would most likely be true?

1. NH_4^+ ion activates T4PNK, thereby increasing the labeling efficiency.
2. NH_4^+ ion inhibits T4PNK, therefore should not be present in the DNA mix.
3. NH_4^+ ion does not have any effect on T4PNK.
4. NH_4^+ ion dephosphorylates DNA, thereby increasing the labeling efficiency.

143. चार विभिन्न ग्राही A, B, C और D एक ही लिगेन्ड, X से आवधित होते हैं । यह निर्धारण करने के लिए कि इनमें से किस ग्राही की आवधन धनिष्टता सबसे अधिक है निम्न प्रयोग संपन्न किया गया । कोशिकाओं को प्रथमतः अलग-अलग हरित प्रतिदीप्ति प्रोटीन (GFP)-संलग्नित ग्राहियों (A, B, C और D) के साथ प्रभावित कर, तबत प्रतिदीप्ति प्रोटीन (RFP)-संलग्नित 'X' के साथ ऊष्मायित करने के उपरांत, अंततः FACS विश्लेषण सम्पन्न किया गया । प्राप्ता परिणाम निम्नवत् हैं :

	Receptor A		Receptor B		Receptor C		Receptor D	
RFP	24%	5%	52%	19%	19%	52%	5%	24%
	52%	19%	24%	5%	5%	24%	19%	52%
	GFP							

1. A 2. B 3. C 4. D

143. Four different receptors viz, A, B, C and D bind to the same ligand X. In order to determine which receptor has the highest ligand binding affinity following experiment was carried out. Cells were transfected with green fluorescence protein (GFP)-tagged receptors (A, B, C and D) individually, then incubated with red fluorescence protein (RFP)-tagged 'X' and subjected to FACS analysis. Following are the results

	Receptor A		Receptor B		Receptor C		Receptor D	
RFP	24%	5%	52%	19%	19%	52%	5%	24%
	52%	19%	24%	5%	5%	24%	19%	52%
	GFP							

Which receptor has the highest ligand binding affinity?

1. A 2. B 3. C 4. D
144. दो एकान्तवासी स्थलीय स्तनपायी जातियों के ट्रान्सेक्ट नमूनों का अध्ययन करते समय निम्न प्रेक्षण सम्मुख आए :

		लघु जातियाँ	विशाल जातियाँ
A	ट्रान्सेक्ट की लम्बाई	100 km	100km
B	देखे गए जंतुओं की संख्या	30	36
C	ट्रान्सेक्ट रेखा से औसत लम्ब दूरी	10 m	40 m

आंकड़ों के आधार पर निम्न में से कौन-सा अनुमान लगाया जा सकता है :

- लघु जाति का बाहुल्य अपेक्षाकृत अधिक है फिर भी दिखाई कम देती है ।
 - लघु जाति का बाहुल्य अपेक्षाकृत कम है और दिखाई भी कम देती है ।
 - बृहद जाति का बाहुल्य अपेक्षाकृत अधिक है लेकिन फिर भी दिखाई कम देती है ।
 - यद्यपि बृहद जाति अपेक्षाकृत अधिक दिखाई देती है फिर भी इसके बाहुल्य की लघु जाति से तुलना नहीं की जा सकती ।
144. During line transect sampling of two solitary species of ground mammals the following observations were made:

		Smaller species	Larger species
A	Transect length	100 km	100km
B	No. of animals sighted	30	36
C	Mean perpendicular distance from transect line	10 m	40 m

Which of the following can be inferred from the data?

1. The smaller species is more abundant but seen less frequently.
2. The smaller species is less abundant and seen less frequently.
3. The larger species is more abundant but seen less frequently.
4. The larger species is seen more frequently, but its abundance cannot be compared with the smaller species.

145. किसी प्रोटीन में 2 Trp और 4 Tyr अवशिष्ट हैं। प्रोटीन का आणविक भार तो 17000 D है और Trp एवं Tyr का क्रमशः 204 और 180 D, 280 nm पर, $E_{1\%}^{1\text{cm}}$, जो 1% (g/v) Trp एवं Tyr घोलों का 1सेमी लम्बी कोशिका में अवशोषण गुणांक इंगित करता है, क्रमशः 269.60 और 83.33 है। प्रोटीन का 280 nm पर 1 mg/ml प्रोटीन घोल एवं 1-cm कोशिका में अवशोषण होगा।

1. 0.1 2. 1.0 3. 0.7 4. 1.7

145. A protein contains 2 Trp and 4 Tyr residues. The molecular mass of the protein is 17000 D and that of Trp and Tyr are 204 and 180 D respectively. Values of $E_{1\%}^{1\text{cm}}$, the absorption coefficient of 1% (g/v) solutions of Trp and Tyr in 1-cm cell at 280 nm, are 269.60 and 83.33, respectively. The absorption of 1 mg/ml protein solution in 1-cm cell at 280 nm will be:

1. 0.1 2. 1.0 3. 0.7 4. 1.7

CSIRNETEXAM.COM