

Question Booklet *Subject: Social Studies (Code:15)*

Booklet Series: A

Question Booklet No. 183961

Important: Please consult your Admit Card/Roll No. slip before filling your roll number on the test booklet and OMR answer sheet

Roll No. in Figures:

--	--	--	--	--	--	--	--	--	--

Roll No. in Words: _____

OMR Answer Sheet Serial No. _____

Duration of Exam.: 2½ hours

Max. Marks: 200

The Question Booklet consists of 200 multiple choice questions as per the details given below:

Paper	Description	Medium
Objective type Paper 200 questions.	There are three sections – A, B & C.	
	Section-A (Languages): 40 questions Hindi - 20; General English - 20	Respective language
	Section-B: 80 questions Gen. Awareness-30; Gen. Intelligence, Numerical Ability & Reasoning-30; & Teaching Aptitude-20.	English and Hindi
	Section-C: (Knowledge of the Subject): 80 questions	English and Hindi

Signature of Candidate: _____ Signature of Invigilator: _____

In case there is any discrepancy/doubt in Hindi Version, please consult the English Version.

DO NOT OPEN THE SEAL OF THE BOOKLET UNTIL ASKED TO DO SO.

(English Version)
Section – A (Languages)

1. 'ऋत-ऋतु' शब्द-युग्म में क्या अर्थ भेद है?
A) कठोर-मौसम B) मिथ्या-मौसम C) असत्य-मौसम D) सत्य-मौसम
2. 'सभा' शब्द का प्रयोग किस संज्ञा के अन्तर्गत आता है?
A) व्यक्तिवाचक B) जातिवाचक C) भाववाचक D) द्रव्यवाचक
3. संज्ञा की व्याप्ति किससे मर्यादित होती है?
A) सर्वनाम B) क्रिया C) विशेषण D) समास
4. निम्नलिखित में से कौनसा शब्द स्त्रीलिंग है?
A) कपड़ा B) रात C) गाना D) नेत्र
5. निम्नलिखित में से कौनसा शब्द पुल्लिंग है?
A) साँकल B) सभा C) व्याख्यान D) दक्षिणा
6. पुल्लिंग-स्त्रीलिंग के युग्म में से कौनसा युग्म सही नहीं है?
A) बालक-बालिका B) मिहतर-मिहतरी C) गूँगा-गूँगी D) नर-नारी
7. कौनसा शब्द सदैव एकवचन में प्रयोग होता है?
A) धन B) सोना C) मात्र 'A' D) 'A' व 'B' दोनों
8. संज्ञा के किस रूप से किसी को पुकारने का बोध होता है?
A) संबंध-कारक B) संप्रदान-कारक C) संबोधन-कारक D) अपादान-कारक
9. सन्धि कितने प्रकार की होती है?
A) दो B) तीन C) चार D) पाँच
10. अशुद्ध वर्तनी विकल्प कौन सा है?
A) उज्जवल B) संन्यासी C) स्वयंवर D) सज्जन
11. कौनसा शब्द 'आकाश' का पर्यायवाची नहीं है?
A) गगन B) नभ C) अवनि D) अम्बर
12. 'विधि' का सही विलोम क्या है?
A) निषेध B) कानून C) कर्म D) नास्तिक
13. 'ज्येष्ठ' का विलोम क्या है?
A) कनिष्ठ B) अवर C) अग्रज D) प्रवर
14. सही सन्धि-विच्छेद का चयन कीजिए -
A) महा-ऊदय B) महा + उदय C) महो + दय D) महा + ओदय
15. निम्नलिखित में से अशुद्ध सन्धि का चयन करें -
A) राजन् + आज्ञा = राजाज्ञा B) वि + स्मरण = विसमरण
C) धनिन् + त्व = धनित्व D) नि: + चल = निश्चल

16. 'कलम तोड़ देना' मुहावरे का सही अर्थ है -
 A) लिखना - पढ़ना त्याग देना
 B) अत्यन्त क्रोधित होना
 C) अत्यन्त मार्मिक व प्रभावशाली रचना करना
 D) लिखने से घृणा करना
17. 'नीम हकीम खतरे जान' कहावत का सही अर्थ है -
 A) अधिकचरा ज्ञान नुकसान देता है
 B) जड़ी बूटी से इलाज करना
 C) नीम का उपयोग सभी हकीम करते हैं
 D) हकीम से उपचार करवाना
18. आवश्यकता से अधिक धन-सम्पत्ति एकत्र न करना - वाक्यांश के लिए एक शब्द लिखें -
 A) कृपणता
 B) अपरिग्रह
 C) सदाचार
 D) अस्तेय
19. 'चाकू' शब्द कौन सी भाषा से हिन्दी में आया है?
 A) अरबी
 B) तुर्की
 C) फारसी
 D) पोर्चुगीज
20. असंगत वाक्य छांटिए :
 A) जिस समास में पहला पद प्रायः प्रधान होता है उसे अव्ययीभाव समास कहते हैं ।
 B) जिस समास में दूसरा पद प्रायः प्रधान होता है उसे तत्पुरुष समास कहते हैं ।
 C) जिसमें कोई भी पद प्रधान नहीं होता उसे द्वन्द्व समास कहते हैं।
 D) जिस समस्त पद में कोई पद प्रधान नहीं होता तथा दोनों मिलकर किसी तीसरे पद की ओर संकेत करते हैं उसे बहुव्रीहि समास कहते हैं ।

Directions Qs. 21-24: Choose the opposite of the given word out of the four options:-

21. Jejune
 A) Sophisticated
 B) Arrogant
 C) Delightful
 D) Indifferent
22. Jeopardy
 A) Validity
 B) Safety
 C) Piety
 D) Tactfulness
23. Obfuscate
 A) Complicate
 B) Eclipse
 C) Clarify
 D) Anticipate
24. Inveigh
 A) Liberate
 B) Suggest
 C) Equivocate
 D) Support

Directions Qs.25-28: Choose the correct preposition, out of the four options, to be filled in the blanks:-

25. Shyam is ignorant ____ his mistake.
 A) of
 B) to
 C) for
 D) at
26. His speech was appropriate ____ the occasion.
 A) upon
 B) to
 C) about
 D) for
27. Kalim's behavior is subversive ____ discipline.
 A) with
 B) about
 C) of
 D) for
28. Radhika's aptitude ____ business cannot be doubted.
 A) to
 B) about
 C) at
 D) for

Directions Qs.29-32: In these questions, four alternatives are given for the italicized idioms. Choose the alternative which best expresses the meaning of the idiom:-

29. *A fly on the wheel*
A) a person who overestimates her/his importance B) a person who cautions the people
C) a person who is hostile to all D) a person who entertains others
30. *Fly off the handle*
A) attack someone's enemies B) lose one's temper suddenly
C) make one's escape D) run away from the difficult situation
31. *Keep the wolf off the door*
A) keep her secrets intact B) keep protesting against the times
C) keep off starvation D) keep working with utmost speed
32. *To be under the harrow*
A) to work hard B) to be awarded for honesty C) to be in good health D) to be in distress

Directions Qs.33-36: Choose the correct synonyms of the following words out of the four given options:

33. Diaphanous
A) silken B) tired C) kind D) thick
34. Expostulate
A) infer B) disagree C) remit D) simmer
35. Improvised
A) imprudent B) incautious C) unstudied D) oblivious
36. Maverick
A) materialist B) spiritualist C) selfish D) nonconformist

Directions Qs.37-40: Choose the correct form of the following words as the given part of speech out of the four options:

37. Above as noun:
A) Our blessings come from above B) The heavens are above
C) The moral law is above the civil D) Analyse the above sentence
38. Down as noun:
A) Down went the "Titanic" B) Shyam has seen the ups and downs of life
C) The porter was killed by the down train D) The engine came rushing down the hill
39. But as adverb:
A) None but the brave deserve the honour B) We tried hard, but did not succeed
C) It is but right to admit our faults D) There is no one but likes him
40. After as adjective:
A) They arrived soon after B) He takes after his father
C) We went away after they had left D) After ages shall sing his glory

Section – B

41. Superconductivity is a material property associated with:
A) cooling a substance without a phase change B) frictionless liquid flow
C) a loss of thermal resistance D) a loss of electrical resistance
42. A type of plastic that is biodegradable and has been in the news lately. The ingredient that makes it biodegradable is :
A) vegetable oil B) petroleum C) corn starch D) leather
43. How many Dynes are there in one gram weight?
A) 900 B) 375 C) 981 D) 250
44. If the distance between the earth and the sun were twice what it is now, the gravitational force exerted on the earth by the sun would be:
A) twice as large as now B) four times as large as it is now
C) half of what it is now D) one-fourth of what it is now
45. Who was the first Indian to be selected to the British Parliament?
A) Dadabhai Naoroji B) G.K. Gokhale C) Bipin Chandra Pal D) Lala Lajpat Rai
46. Which of the following Rajput dynasties did not surrender to Akbar?
A) Parmar B) Pratihara C) Rathor D) Sisodiya
47. Which of the following is not a classical language of India ?
A) Sanskrit B) Telugu C) Hindi D) Malayalam
48. The scientific study of ageing is known as :
A) Etiology B) Gerontology C) Osteology D) Teratology
49. Which Indian artist decorated the handwritten copy of the Constitution?
A) Nandalal Bose B) Mihir Sen C) S. N. Banerji D) Mukesh Bhandopadhyaya
50. Preamble of the Indian Constitution has been amended
A) Once B) Twice C) Thrice D) Never
51. Which of these are nicknamed 'Bretton Woods Twins'?
1. IDA 2. IMF 3. IBRD 4. WTO
A) 1 & 4 B) 3 & 4 C) 2 & 4 D) 2 & 3
52. Section -498A of Indian Penal Code is a popular section. It deals with:
A) Property rights to women B) Reservations for women
C) Harassment for dowry D) Kidnap and rape
53. The United Nations climate change conference COP19 or CMP9 was held in November 2013 at:
A) Paris B) Warsaw C) Montreal D) Kyoto
54. The number of approved share markets in India is :
A) 19 B) 20 C) 23 D) 24
55. Which of the following state has been brought into the railway network for the first time?
A) Manipur B) Assam C) Tripura D) Arunachal Pradesh
56. Who among the following has recently been selected for the coveted Indira Gandhi Prize for Peace Disarmament and Development for 2013 ?
A) Ila Bhatt B) Medha Patkar C) Angela Merkel D) Chandi Prasad Bhatt

57. Victoria Azarenka, who won the Australian Open Tennis women's singles title 2012 is from:
 A) USA B) Belarus C) Germany D) Slovakia
58. The National Sports Day is observed on :
 A) August 29th B) July 29th C) September 29th D) August 20th
59. Sonal Mansingh is famous for which form of dance?
 A) Bharatnatyam B) Manipuri C) Kuchipudi D) Kathak
60. Ms. Meera Sahib Fathima Beevi is distinguished as the first lady
 A) Judge of the High Court B) Governor of a State
 C) Judge of the Supreme Court D) Prime Minister of Bangladesh
61. The maximum poll expenditure for a Lok Sabha seat has been raised by the Union Cabinet on the suggestion of the Election Commission of India:
 A) From Rs. 30 lacs to Rs. 70 lacs B) From Rs. 40 lacs to Rs. 70 lacs
 C) From Rs. 50 lacs to Rs.70 lacs D) From Rs. 40 lacs to Rs. one crore
62. Which of the following agencies determine ranking of the countries in accordance with Economic Freedom Index ?
 A) World Economic Forum B) UNDP
 C) Heritage Foundation & Wall Street Journal D) World Bank
63. When is the World Population Day observed?
 A) May 31 B) July 11 C) Oct. 4 D) Dec. 10
64. What was the highest individual score, in an innings in ICC T20 World Cup 2014?
 A) 101 B) 106 C) 111 D) 116
65. Fiscal Policy is related to:
 A) Money supply in the economy B) Regulation of the banking system
 C) Planning for economic development D) Government's Revenue and Expenditure
66. Which American President has recently painted a portrait of Dr. Manmohan Singh?
 A) Barack Obama B) George Bush C) Bill Clinton D) Ronald Reagan
67. Which is the largest economy in African Continent?
 A) South Africa B) Nigeria C) Algeria D) None of the above
68. Who wrote 'Why I am an Atheist'?
 A) Subhash Chandra Bose B) Khushwant Singh C) Bhagat Singh D) Madan Lal Dhingra
69. The recently set-up 7th Central Pay Commission is headed by
 A) Ashok Kumar Mathur B) G.K. Chadha
 C) Montek Singh Ahluwalia D) Ajit Prakash Shah
70. National Rural Employment Scheme was launched throughout the country from :
 A) 1.04.2007 B) 02.10.2007 C) 14.11.2007 D) 01.04.2008
71. 'England' is related to 'Atlantic Ocean' in the same way as 'Greenland' is related to:
 A) Pacific Ocean B) Atlantic Ocean C) Arctic Ocean D) Antarctic Ocean

Direction Qs.Nos.72-73: Choose one of the four given alternatives that shows the same relationship as is found between the two letters/numbers to the left of the sign ::

72. FJUL : BOQQ :: LHRX : ?
A) BKPR B) MNCC C) HRY Y D) HMNC
73. 9 : 162 :: 8 : ?
A) 162 B) 128 C) 96 D) 112
74. Choose the group of words that shows same relationship as is given in the question :
Correspondent : News : Newspaper
A) Farmer : Crops : Food B) Mason : Cement : Construction
C) Cloud : Water : Ponds D) Road : Vehicle : Destination

Direction (Q.Nos. 75-76): Three of the four alternatives given are same in a certain way and so form a group. Find the odd one that does not belong to the group:

75. A) 62 B) 42 C) 152 D) 110
76. A) Java B) Sri Lanka C) Malaysia D) Cuba
77. In a certain code language, 'lu ra de' means 'what was it'; 'mo nil' means 'you go'; 'nil pam ra' means 'you like it' and 'tok lu fo' means 'she was sick'. How will you write 'what you like' in that code ?
A) nil ra lu B) pom nil ra C) pom ra lu D) de nil pam
78. If 'MOUSE' is coded as "PRUQC", then how is 'SHIFT' written in the same code?
A) VKIRD B) VKIDR C) VJIDR D) VIKRD
79. How many meaningful English words can be made with the letters 'ATLE' using each letter only once in each word?
A) Two B) Three C) Four D) More than four
80. 36 vehicles are parked in a parking lot in a single row. After the 1st car, there is one scooter, after 2nd car there are two scooters, after 3rd car there are three scooters and so on. Work out the number of scooters in the second half of the row.
A) 10 B) 12 C) 15 D) 17

Direction (Q.Nos. 81-83): Six plays A,B,C,D, E and F are to be organized from 2nd June to 7th June, i.e. Monday to Saturday – one play each day. There are two plays between C and D and one play between A and C. There is one play between F and E and E is to be organized before F. B is to be organized before A, not necessarily immediately. The sequence of plays does not start with B.

81. The sequence of plays would start from which play ?
A) A B) F C) D D) Can't be determined
82. On which date is play E to be organized ?
A) 2nd B) 4th C) 3rd D) Can't be determined
83. The sequence of plays would end with which play ?
A) A B) D C) B D) Can't be determined

84. B, C, D, E, F, G, H, J are sitting around a circle facing the centre . B is an immediate neighbour of F and C. E is second to the left of F. G is second to the right of C. D is not an immediate neighbour of G. There are two persons between C and J. How many persons are between C and D?
 A) 2 only B) 4 only C) 5 only D) either 2 or 4
85. If 'A + B' means that A is the father of B; 'A-B' means that A is the wife of B; 'A × B' means that A is the brother of B and 'A ÷ B' means that A is the daughter of B. Then which of the following is true for $P \div R + S + Q$?
 A) P is the daughter of Q B) Q is the aunt (Father's sister) of P
 C) P is the aunt (father's sister) of Q D) P is the mother of Q
86. Q's mother is the sister of P and daughter of M. S is the daughter of P and sister of T. How is M related to T?
 A) Maternal Grandmother B) Father C) Maternal Grandfather D) Option (A) or (C)
87. Ram starts walking towards East from a point 'S' and after walking 15 m turns to his left and walks 10 m, again he walks 10 m turning to his left and finally walks 22 m turning to his left and reaches a point 'Q'. How far and in which direction is he from the point 'S'?
 A) 15 m South B) 22 m South-East C) 12 m South D) 13 m South-East

Direction Q.Nos. 88-89: Read the pattern of letters/numbers/terms and find the missing term from the given alternatives:

88. 9, 27, 31, 155, 161, 1127, ?
 A) 1135 B) 1288 C) 316 D) 2254
89. Y, B, T, G, O, ?
 A) N B) M C) L D) K
90. In the following series some letters are missing which are given in that order as one of the alternatives below it. Choose the correct alternative.
 adb_ac_d_bcd_a_bca_c_d
 A) bacbd B) dbacb C) cbadb D) acbda
91. If P denotes +, Q denotes -, R denotes × and S denotes ÷, then which of the following is correct?
 A) $16 R 12 P 49 S 7 Q 9 = 200$ B) $32 S 8 R 9 = 160 Q 12 R 12$
 C) $8 R 8 P 8 S 8 Q 8 = 57$ D) $36 R 4 S 8 Q 7 P 4 = 10$
92. The age of father 10 years ago was thrice the age of his son. Ten years hence, father's age will be twice that of his son. The ratio of their present ages is :
 A) 5 : 2 B) 7 : 3 C) 9 : 2 D) 13 : 4

Direction (Q.Nos. 93 to 95): A survey of a locality regarding newspaper reading habits shows that: newspaper A is read by 26%; newspaper B is read by 25%; newspaper C is read by 14%; newspaper A and B are read by 11%; Newspaper B and C are read by 10%; Newspaper C and A are read by 9% and newspaper C only is read by 0%.

93. The percentage of readers who read all the three newspapers is
 A) 10 B) 4 C) 5 D) 6
94. The percentage of readers who read at most one newspaper is
 A) 20 B) 80 C) 60 D) None of the above
95. The percentage of reader who read at least two newspapers is
 A) 15 B) 16 C) 20 D) None of the above
96. How many times are the two hands of a clock at right angles in a day ?
 A) 24 B) 48 C) 22 D) 44
97. Calendar for the year 2014 will be the same for the year:
 A) 2018 B) 2020 C) 2022 D) none of the above
98. Choose the alternative which most closely resembles the mirror-image of word PAINTED

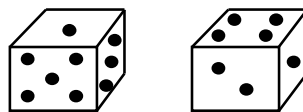
(A) DETNIAI

(B) DETNIAI

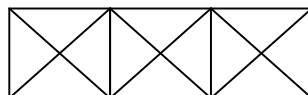
(C) DELNIAI

(D) DETNIAI

99. Two positions of a dice are shown below. When there are two dots at the bottom, the number of dots at the top will be



- A) 2 B) 3 C) 5 D) 6
100. How many triangles are there in the given figure?



- A) 28 B) 24 C) 25 D) 26
101. Which one of the following is the main objective of teaching?
 A) To develop thinking power of the students B) To give information related to the syllabus
 C) To dictate notes to the students D) To prepare students to pass the examination
102. Which of the following statements regarding “Memory Level of Teaching” (MLT) is incorrect ?
 A) Memory is the initial stage of teaching
 B) Memory Level of Teaching mainly depends on the prevailing socio-economic conditions
 C) MLT includes the habit of rote memorization of facts and bits of information
 D) MLT enables the learner to retain and also reproduce the learnt material whenever required

103. Which of the following statements regarding “Understanding Level of Teaching” (ULT) is incorrect?
 A) Morrison is the main proponent of ULT
 B) It is ‘memory plus insight’ as it goes beyond just the memorizing of facts. It focuses on the mastery of the subject
 C) Cultural materialism is also a primary determining factor of ULT
 D) It provides more and more opportunities for the students to develop the intellectual behavior
104. Which of the following statements regarding ‘ Reflective Level of Teaching’(RLT) is incorrect ?
 A) Hunt is the main proponent of RLT
 B) It is problem - centred teaching
 C) The students are assumed to adopt some sort of research approach to solve the problem
 D) The teacher assumes the primary place and the pupil occupies the secondary place
105. Which of the following is not a domain or category of instructional objectives according to Bloom et al ?
 A) Socio-Political Domain B) Cognitive Domain C) Affective Domain D)Psychomotor Domain
106. Which of the following is not one of the advantages of “Lecture Method”?
 A) It is economical as it can cover large audience in less time
 B) It promotes social cohesion among the pupils
 C) It is useful for stimulating further learning
 D) It has the flexibility for adapting the lecture according to time and equipment available
107. Which one of the following is not one of the advantages of ‘TV or Video Presentation’ as a teaching method?
 A) Many important personalities and experts are brought to the classroom through video-presentation
 B) This method is specifically useful for adult learners
 C) It promotes a sort of nativism among the learners
 D) Illustrated lectures and demonstrations can be supplemented by other teaching aids such as slides, models, specimens, etc.
108. Which one of the following is not one of the advantages of ‘Team Teaching Method’?
 A) It helps in sharing the best faculty by more students
 B) It involves optimum use of teaching techniques and devices
 C) It improves the teaching quality
 D) It affects the socio-economic conditions of the pupils
109. Which one of the following is not one of the advantages of ‘Group Discussion Method’ ?
 A) It flattens out the ideological differences of the pupils
 B) It can be planned where there is certainty about the conclusions and objectives. The discussion is guided by the trainer in an appropriate sequence
 C) It promotes communication and interaction within a group around a topic or problem presented to the group
 D) It can also be unplanned where the topic presented for discussion is without any opening statement and discussion that follows is entirely spontaneous
110. Which one of the following is not one of the advantages of the “Case Study Method’ ?
 A) It provides opportunity to the participants to critically analyze the problem and express reasoned opinions.
 B) It promotes gender-sensitivity among the pupils.
 C) It enhances decision –making and problem-solving skills.
 D) It ensures active participation, which may lead to innovative solutions.

111. Which one of the following is not one of the functions of 'Evaluation' ?
 A) Feedback B) Motivation C) Ideological indoctrination D) Better guidance
112. Who among the following is considered a proponent of the Wardha Education System?
 A) Sri Aurobindo B) S. Radhakrishnan C) J. Krishnamurti D) Mahatma Gandhi
113. Who among the following was the main proponent of the Kindergarten system of education?
 A) Froebel B) Rousseau C) Maria Montessori D) John Dewey
114. Which of the following is not one of the "Projected Visual Aids" ?
 A) Slides B) Bar Chart C) Handheld Projector D) Video Projector
115. Which of the following is an independent variable in teaching-learning process?
 A) Student B) Institution C) Teacher D) Parents
116. The highest level of cognitive domain is:
 A) Synthesis B) Analysis C) Comprehensive D) Evaluation
117. Who has the least chance of becoming an effective teacher?
 A) One who has no interest in teaching B) One who is a strict disciplinarian
 C) One who neglects teaching D) One who knows his subject well
118. Books can be a powerful source of communication, provided:
 A) The content is abstract B) The content is illustrative
 C) The medium is Hindi D) The print quality of the book is good
119. Good teaching is best reflected by:
 A) Attendance of students B) Number of distinctions
 C) Meaningful questions asked by students D) Pin-drop silence in the class
120. The ability to locate, evaluate and effectively use information is an important trait known as :
 A) Critical thinking B) Information literacy
 C) Number of distinctions D) Selective attention

Section – B

41. अति-चालकता भौतिक गुण है जिसको किस से संबंधित किया जाता है:
 A) किसी पदार्थ को प्रावस्था परिवर्तन के बिना ठंडा करना B) घर्षण के बिना तरल प्रवाह
 C) ताप प्रतिरोध की हानि D) विद्युत् प्रतिरोध की हानि
42. प्लास्टिक की किस्म जो जैव-निम्नीकरणीय है और हाल ही में समाचारों में रही है। जो संघटक इसे जैव-निम्नीकरणीय बनाता है, वह है:
 A) वनस्पति तेल B) पेट्रोलियम C) कॉर्नस्टार्च D) चमड़ा
43. एक ग्राम के भार में कितने डाइनज़ हैं:
 A) 900 B) 375 C) 981 D) 250
44. यदि पृथ्वी और सूर्य में दोगुनी दूरी होती जितनी अब है, तो पृथ्वी पर सूर्य द्वारा लगाया गुरुत्वाकर्षण बल होगा:
 A) जितना अब है उस से दोगुना बड़ा B) जितना अब है, उस से चार गुना
 C) जितना अब है, उस से आधा D) जितना अब है, उस से एक-चौथाई
45. वह पहला भारतीय कौन था जिस का ब्रिटिश संसद में चयन किया गया था:
 A) दादाभाई नारोजी B) जी. के. गोखले C) बिपिन चन्द्रपाल D) लाला लाजपत राय
46. किस राजपूत वंश ने अकबर के आगे आत्मसमर्पण नहीं किया था:
 A) परमार B) प्रतिहार C) राठौर D) सिसोधिया

47. कौन-सी भाषा भारत की क्लासिकी भाषा नहीं है:
A) संस्कृत B) तेलुगु C) हिन्दी D) मलयालम
48. कालप्रभावन के वैज्ञानिक अध्ययन को कहते हैं:
A) हेतुविज्ञान B) जराविज्ञान C) अस्थिविज्ञान D) विरूपिता - विज्ञान
49. किस भारतीय कलाकार ने संविधान की हस्तलिखित कॉपी को अलंकृत किया था:
A) नंदलाल बोस B) मिहिर सेन C) एस. एन. बैनर्जी D) मुकेश बन्दोपाध्याय
50. भारत के संविधान की प्रस्तावना का संशोधन कितनी बार किया गया है:
A) एक बार B) दो बार C) तीन बार D) कभी नहीं
51. किन्हें 'Bretton Woods Twins' का उपनाम दिया जाता है:
1. IDA 2. IMF 3. IBRD 4. WTO
A) 1 और 4 B) 3 और 4 C) 2 और 4 D) 2 और 3
52. भारतीय दंड संहिता की धारा 498 ए लोकप्रिय धारा है। यह किस से संबंधित है:
A) महिलाओं के सम्पत्ति अधिकार B) महिलाओं के लिए आरक्षण
C) दहेज के लिए उत्पीड़न D) अपहरण और बलात्कार
53. संयुक्त राष्ट्र जलवायु परिवर्तन सम्मेलन COP19 अथवा CMP9 नवंबर 2013 में कहाँ पर हुआ था:
A) पेरिस B) वारसा C) मॉन्ट्रियल D) कयोटो
54. भारत में अनुमोदित शेयर बाजारों की संख्या है:
A) 19 B) 20 C) 23 D) 24
55. किस राज्य को रेलवे नेटवर्क में पहली बार लाया गया है:
A) मणिपुर B) असम C) त्रिपुरा D) अरुणांचल प्रदेश
56. 2013 के लिए शान्ति निरस्त्रीकरण और विकास के लिए आकांक्षित इन्दिरा गाँधी पुरस्कार के लिए हाल ही में किस का चयन किया गया है:
A) इला भट्ट B) मेधा पाटेकर C) एन्जेला मर्केल D) चंडी प्रसाद भट्ट
57. विक्टोरिया अज़ारेन्का, जिस ने आस्ट्रेलियन ओपन टेनिस महिला सिंगलज़ पद 2012 जीता है, कहाँ से है:
A) यू. एस. ए. B) बेलारस C) जर्मनी D) स्लोवाकिया
58. राष्ट्रीय खेल दिवस कब मनाया जाता है:
A) 29 अगस्त B) 29 जुलाई C) 29 सितंबर D) 20 अगस्त
59. सोनल मानसिंह नृत्य के किस रूप के लिए प्रसिद्ध है:
A) भारतनाट्यम B) मणिपुरी C) कुचिपुड़ि D) कथक
60. मिस मीरा साहिब फातिमा बीवी किस के लिए पहली महिला के रूप में प्रतिष्ठित है:
A) उच्च न्यायालय की न्यायाधीश B) राज्य की राज्यपाल
C) सर्वोच्च न्यायालय की न्यायाधीश D) बांग्लादेश की प्रधान मन्त्री
61. लोकसभा सीट के लिए अधिकतम मतदान खर्च, भारत के निर्वाचन आयोग के सुझाव पर केन्द्रीय मन्त्री मण्डल द्वारा बढ़ा दिया गया है:
A) 30 लाख से 70 लाख तक B) 40 लाख से 70 लाख तक
C) 50 लाख से 70 लाख तक D) 40 लाख से एक करोड़ तक

62. आर्थिक स्वाधीनतासूचकांक के अनुसार देशों की रैंकिंग को कौन-सी एजन्सी निर्धारित करती है:
A) वर्ल्ड इकॉनॉमिक फोरम B) UNDP C) हेरिटेज फाउंडेशन एण्ड वॉल स्ट्रीट जर्नल D) विश्व बैंक
63. विश्व जनसंख्या दिवस कब मनाया जाता है:
A) 31 मई B) 11 जुलाई C) 4 अक्टूबर D) 10 दिसंबर
64. ICC T-20 विश्व कप 2014 में एक पाली में दौड़ों का उच्चतम व्यक्तिगत अंक क्या था:
A) 101 B) 106 C) 111 D) 116
65. राजकोषीय नीति किस से संबंधित है:
A) अर्थव्यवस्था में मुद्रा की आपूर्ति B) बैंकिंग प्रणाली का विनियमन
C) आर्थिक विकास के लिए आयोजन D) सरकार की आय और खर्च
66. किस अमरीकी राष्ट्रपति ने डा. मनमोहन सिंह का हाल ही में रूपचित्र बनाया है:
A) बराक ओबामा B) जॉर्ज बुश C) बिल क्लिंटन D) रोनाल्ड रीगन
67. अफ्रीकी महाद्वीप में सब से बड़ी अर्थव्यवस्था कौन-सी है:
A) दक्षिण अफ्रीका B) नाइजेरिया C) अल्जीरिया D) इनमें से कोई भी नहीं है
68. 'Why I am an Atheist' का लेखक कौन था :
A) सुभाष चन्द्र बोस B) खुशवंत सिंह C) भगत सिंह D) मदनलाल दींगरा
69. हाल ही में स्थापित 7-वें केन्द्रीय वेतन आयोग का अध्यक्ष कौन है:
A) अशोक कुमार माथुर B) जी. के. चड्ढा
C) मोन्टेक सिंह आहलूवालिया D) अजीत प्रकाश शाह
70. राष्ट्रीय ग्रामीण रोजगार परियोजना संपूर्ण देश में कब से आरंभ की गई थी:
A) 1. 04. 2007 B) 02. 10. 2007 C) 14. 11. 2007 D) 01. 04. 2008
71. 'इंग्लैंड' का 'अटलांटिक सागर' से वही संबंध है जो ग्रीनलैंड का संबंध है:
A) शांत महासागर से B) अटलांटिक महासागर से C) उत्तरध्रुव सागर से D) दक्षिण-ध्रुव सागर से

निर्देश : (प्रश्न नं. 72-73) : नीचे दिए गए चार विकल्पों में से एक को चुनें जो उसी संबंध को दर्शाता है जो चिन्ह :: की बाईं ओर दो अक्षरों/संख्याओं के दरमियान मिलता है:

72. FJUL : BOQQ :: LHRX : ?
A) BKPR B) MNCC C) HRY Y D) HMNC
73. 9 : 162 :: 8 : ?
A) 162 B) 128 C) 96 D) 112
74. उस अक्षर-समूह को चुनें जो वही संबंध दर्शाता है जो इस प्रश्न में दिया गया है:
संवाददाता : समाचार : समाचार पत्र
A) किसान : फसलें : आहार B) राजगीर : सीमिन्ट : निर्माण
C) बादल : पानी : तालाब D) सड़क : वाहन : गन्तव्य

निर्देश (प्रश्न नं. 75-76) दिए गए चार विकल्पों में से तीन विकल्प एक तरीके से समान हैं और इस तरह एक समूह बनाते हैं। उस विषम मद्द को मालूम करें जो इस समूह से संबंधित नहीं है।

75. A) 62 B) 42 C) 152 D) 110
76. A) जावा B) श्रीलंका C) मलेशिया D) क्यूबा

77. एक विशेष कोड भाषा में, 'lu ra de' का मतलब है 'what was it'; 'mo nil' का मतलब है 'you go'; 'nil pam ra' का मतलब है 'you like it' और 'tok lu fo' का मतलब है 'she was sick' आप उस कोड में 'what you like' को कैसे लिखेंगे:
A) nil ra lu B) pom nil ra C) pom ra lu D) de nil pam
78. यदि 'MOUSE' को 'PRUQC' के रूप में कोडबद्ध किया जाता है, तो उसी कोड में 'SHIFT' को कैसे लिखा जाता है:
A) VKIRD B) VKIDR C) VJIDR D) VIKRD
79. 'ATLE' अक्षरों से अंग्रेज़ी के कितने अर्थपूर्ण शब्द बन सकते हैं, परन्तु हरेक अक्षर का हरेक शब्द में केवल एक बार ही प्रयोग करना है:
A) दो B) तीन C) चार D) चार से अधिक
80. एक पार्किंग स्थान में एक पंक्ति में 36 वाहन खड़े किए गए हैं। पहली कार के बाद, एक स्कूटर है, दूसरी कार के बाद दो स्कूटर हैं, तीसरी कार के बाद तीन स्कूटर और इत्यादि। पंक्ति के दूसरे आधे भाग में स्कूटरों की संख्या को मालूम करें:
A) 10 B) 12 C) 15 D) 17

निर्देश: (प्रश्न नं. 81-83): छह नाटकों A, B, C, D, E, और F को 2 जून से 7 जून तक अर्थात् सोमवार से शनिवार तक — एक नाटक प्रति दिन — आयोजित करना है। C और D के दरमियान दो नाटक हैं और A एवं C के दरमियान एक नाटक है। F और E के दरमियान एक नाटक है और E को F से पहले आयोजित करना है। B को A से पहले आयोजित करना है, पर ज़रूरी नहीं कि तुरन्त करना है। नाटकों का क्रम B से आरंभ नहीं होता।

81. नाटकों का क्रम किस नाटक से आरंभ होगा:
A) A B) F C) D D) निर्धारित नहीं किया जा सकता
82. नाटक E को किस तारीख को आयोजित करना है:
A) दूसरी B) चौथी C) तीसरी D) निर्धारित नहीं कि जा सकती
83. नाटकों के क्रम का किस नाटक से अंत होगा:
A) A B) D C) B D) निर्धारित नहीं किया जा सकता
84. B, C, D, E, F, G, H, J एक दायरे में केंद्र के सम्मुख बैठे हैं। B, F और C का निकटतम पड़ोसी है। E, F के बाएँ से दूसरा है। G, C के दाएँ से दूसरा है। D, G का निकटतम पड़ोसी नहीं है। C और J के दरमियान दो व्यक्ति हैं। C और D के दरमियान कितने व्यक्ति हैं:
A) केवल 2 B) केवल 4 C) केवल 5 D) या 2 या 4
85. यदि $A + B$ का मतलब है कि A, B का पिता है; $A - B$ का मतलब है कि A, B की पत्नी है, $A \times B$ का मतलब है कि A, B का भाई है और $A \div B$ का मतलब है कि A, B की बेटी है। तो $P \div R + S + Q$ के लिए कौन-सा सही है:
A) P, Q की बेटी है B) Q, P की आंटी (पिता की बहन) है
C) P, Q की आंटी (पिता की बहन) है D) P, Q की माता है
86. Q की माता, P की बहन और M की बेटी है। S, P की बेटी और T की बहन है। M का T से क्या रिश्ता है।
A) नानी B) पिता C) नाना D) विकल्प (A) अथवा (C)

87. राम S बिन्दु से पूर्व की तरफ चलना शुरू करता है और 15 m चलने के बाद अपने बाएँ मुड़ता है और 10 m चलता है। फिर वह बाएँ मुड़ कर 10 m चलता है और अंत में अपने बाईं ओर मुड़कर 22 m चलता है और 'Q' बिन्दु तक पहुँचता है। वह 'S' बिन्दु से कितनी दूर और किस दिशा में है:
 A) 15 m दक्षिण B) 22 m दक्षिण-पूर्व C) 12 m दक्षिण D) 13 m दक्षिण-पूर्व

निर्देश (प्रश्न नं. 88 – 89) : अक्षरों/संख्याओं/पदों के पेटर्न को पढ़ें और दिए गए विकल्पों से गायब पद को मालूम करें:

88. 9, 27, 31, 155, 161, 1127, ?
 A) 1135 B) 1288 C) 316 D) 2254
89. Y, B, T, G, O, ?
 A) N B) M C) L D) K
90. निम्नांकित क्रम में, कुछ अक्षर गायब हैं जो उस क्रम में नीचे दिए एक विकल्प में दिए गए हैं। सही विकल्प को चुनें:
 adb_ac_d_bcd_a_bcac_d
 A) bacbd B) dbacb C) cbadb D) acbda
91. यदि P का अर्थ + है, Q का अर्थ - है, R का अर्थ \times है, और S का अर्थ \div है, तो निम्नांकित में से कौन-सा सही है:
 A) $16 R 12 P 49 S 7 Q 9 = 200$ B) $32 S 8 R 9 = 160 Q 12 R 12$
 C) $8 R 8 P 8 S 8 Q 8 = 57$ D) $36 R 4 S 8 Q 7 P 4 = 10$
92. 10 साल पहले पिता की आयु बेटे की आयु से तीन गुना थी। 10 साल के बाद, पिता की आयु बेटे की आयु से दोगुनी होगी। उन की वर्तमान उम्रों का अनुपात है:
 A) 5 : 2 B) 7 : 3 C) 9 : 2 D) 13 : 4

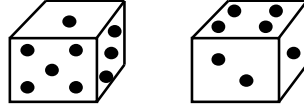
निर्देश (प्रश्न नं. 93 – 95): समाचार पत्र पढ़ने की आदतों के लिए एक बस्ती का सर्वेक्षण दर्शाता है कि : समाचारपत्र A को 26% पढ़ते हैं, समाचारपत्र B को 25% पढ़ते हैं, समाचारपत्र C को 14% पढ़ते हैं; समाचार पत्र A और B को 11% पढ़ते हैं; समाचार पत्र B और C को 10% पढ़ते हैं; समाचारपत्र C और A को 9% पढ़ते हैं और समाचारपत्र C को केवल 0% पढ़ते हैं।

93. जो पाठक सभी तीन समाचारपत्र पढ़ते हैं, उनकी प्रतिशतता है:
 A) 10 B) 4 C) 5 D) 6
94. जो पाठक तकरीबन एक समाचारपत्र पढ़ते हैं, उनकी प्रतिशतता है:
 A) 20 B) 80 C) 60 D) इनमें से कोई भी नहीं है
95. जो पाठक कम से कम दो समाचारपत्र पढ़ते हैं, उनकी प्रतिशतता है:
 A) 15 B) 16 C) 20 D) इनमें से कोई भी नहीं है
96. एक घड़ी की दोनों सुइयाँ एक दिन में कितनी बार समकोण पर होती हैं:
 A) 24 B) 48 C) 22 D) 44
97. 2014 साल का कैलेंडर किस साल के कैलेंडर समान होगा:
 A) 2018 B) 2020 C) 2022 D) इनमें से कोई भी नहीं है

98. उस विकल्प को चुने जो शब्द PAINTED के दर्पण-प्रतिबिम्ब से अतिअधिक मिलता है:

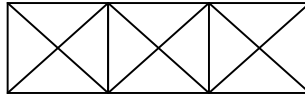
- (A) DETNIAI (B) DETNIAI
(C) DETNIAI (D) DETNIAI

99. एक पासे की दो स्थितियों को नीचे दिखाया गया है। जब निचले भाग में दो बिन्दु हों, तो ऊपर वाले भाग में कितने बिन्दु होंगे:



- A) 2 B) 3 C) 5 D) 6

100. निम्नांकित रेखाचित्र में कितने त्रिभुज हैं:



- A) 28 B) 24 C) 25 D) 26

101. अध्यापन का उद्देश्य कौन-सा है:

- A) विद्यार्थियों की चिंतन शक्ति को विकसित करना B) पाठ्यक्रम से संबंधित जानकारी देना
C) विद्यार्थियों को नोटस लिखाना D) विद्यार्थियों को परीक्षा पास करने के लिए तैयार करना

102. अध्यापन का स्मृति स्तर (MLT) के संबंध में कौन सा कथन सही नहीं है :

- A) स्मृति अध्यापन की आरंभिक अवस्था है
B) अध्यापन का स्मृति स्तर मुख्यतः प्रचलित सामाजिक-आर्थिक व्यवस्थाओं पर निर्भर करता है
C) MLT में जानकारी के तथ्यों और अंशों के रटन कठस्थकरण की आदत सम्मिलित है
D) MLT शिक्षार्थी को इस योग्य बनाता है कि वे सीखी सामग्री को याद रख सकें और ज़रूरत पड़ने पर इसको दोहरा सकें

103. 'अध्यापन के बोध स्तर (ULT)' के संबंध में कौन-सा कथन सही नहीं है:

- A) ULT का मुख्य प्रस्तावक मॉरिसन है
B) यह 'स्मृति जमा अन्तर्दृष्टि' है क्योंकि यह सिर्फ तथ्यों के कठस्थकरण तक ही सीमित नहीं रहती। यह विषय के प्रभुत्व पर केन्द्रित होती है
C) सांस्कृतिक भौतिकवाद भी ULT का एक प्राथमिक निर्धारक कारक है
D) यह विद्यार्थियों को बौद्धिक आचरण को विकसित करने में अधिकाधिक अवसर प्रदान करती है

104. 'अध्यापन का विमर्श स्तर (RLT)' के संबंध में कौन-सा कथन सही नहीं है:

- A) RLT का मुख्य प्रस्तावक अन्वेषण है
B) यह समस्या-केन्द्रित अध्यापन है
C) विद्यार्थियों को समस्या के समाधान के लिए एक प्रकार का शोध उपागम अपनाना पड़ता है
D) अध्यापक प्राथमिक स्थान ग्रहण करता है और विद्यार्थी सहायक स्थान ग्रहण करता है

105. ब्लूम और दूसरे लेखकों के अनुसार शैक्षिक उद्देश्यों का क्षेत्र अथवा प्रवर्ग कौन-सा नहीं है -

- A) सामाजिक-राजनीतिक क्षेत्र B) संज्ञानात्मक क्षेत्र
C) भावपरक क्षेत्र D) मनो-प्रेरक क्षेत्र

106. 'लेक्चर विधि' का फायदा कौन-सा नहीं है:
 A) यह किफायती है क्योंकि यह कम समय में विशाल श्रोता-गण को कवर कर सकती है
 B) यह विद्यार्थियों में सामाजिक संसक्ति को प्रोत्साहित करती है
 C) यह अधिक अधिगम को प्रोत्साहित करती है
 D) इसमें उपलब्ध समय और साज़-सामान के अनुसार अनुकूल बनने की लचक होती है
107. अध्यापन विधि के रूप में 'टी वी अथवा वीडियो प्रस्तुतिकरण' का फायदा कौन-सा नहीं है :
 A) वीडियो प्रस्तुतिकरण के द्वारा अनेक प्रसिद्ध व्यक्तित्वों और विशेषज्ञों को कक्षा में लाया जाता है
 B) यह विधि विशेषतया वयस्क शिक्षार्थियों के लिए उपयोगी है
 C) यह शिक्षार्थियों में एक प्रकार के देशीयतावाद को प्रोत्साहित करती है
 D) सचित्र लेक्चरों और प्रदर्शनों को स्लाइडें, मॉडलों, नमूनों इत्यादि जैसी अध्यापन एडजु से संपूर्ण किया जा सकता है
108. 'समूह अध्यापन विधि' का फायदा कौन-सा नहीं है: :
 A) यह अधिक विद्यार्थियों को उत्तम प्राध्यापक-वर्ग को साझा करने में सहायता करती है
 B) इस में अध्यापन तकनीकों और युक्तियों का अधिकतम उपयोग सम्मिलित होता है
 C) यह अध्यापन गुणता में सुधार लाती है
 D) यह विद्यार्थियों की सामाजिक-आर्थिक परिस्थितियों को प्रभावित करती है
109. 'समूह परिचर्चा विधि' का लाभ कौन-सा नहीं है:
 A) यह विद्यार्थियों की वैचारिक भिन्नताओं को बराबर करती है
 B) जहाँ पर परिणामों और उद्देश्यों के बारे में निश्चितता होती है, वहाँ पर इस की व्यवस्था की जा सकती है। इस परिचर्चा को प्रशिक्षक द्वारा उचित अनुक्रम में निदेशित किया जा सकता है
 C) समूह के सामने प्रस्तुत किये गए विषय अथवा समस्या पर समूह में संचार और अंतर्क्रिया को प्रोत्साहित करती है
 D) जहाँ पर परिचर्चा के लिए प्रस्तुत विषय किसी आरंभिक कथन से मुक्त होता है, वहाँ यह अनियोजित भी की जा सकती है और इस से उत्पन्न परिचर्चा सम्पूर्णतः स्वाभाविक होती है।
110. 'वृत्त-अध्ययन विधि' का लाभ कौन-सा नहीं है:
 A) यह भागीदारों को समस्या का आलोचनात्मक विश्लेषण करने और तर्कसंगत राय देने का अवसर प्रदान करती है
 B) यह विद्यार्थियों में लिंग-सवेदिता को प्रोत्साहित करती है
 C) यह निर्णयन और समस्या-समाधान की कुशलताओं को बढ़ाती है
 D) यह सक्रिय भागीदारी को यकीनी बनाती है जो परिवर्तनकारी समाधान को प्रेरित करती है
111. 'मूल्यांकन' का कार्य कौन-सा नहीं है:
 A) प्रतिपुष्टि B) अभिप्रेरण C) वैचारिक शिक्षण D) बेहतर निर्देशन
112. वार्धा शिक्षा प्रणाली का प्रस्तावक किसे माना जाता है:
 A) श्री आरबिन्दो B) एस. राधाकृष्णन C) जे. कृष्णामूर्ति D) महात्मा गाँधी
113. शिक्षा की किंडरगार्टन प्रणाली का मुख्य प्रस्तावक किसे माना जाता है:
 A) फ्रोबेल B) रूसो C) मारिया मॉन्टेसरी D) जॉहन ड्यूई
114. 'प्रक्षिप्त विजुयल एड' कौन-सी नहीं है:
 A) स्लाइडें B) बार चार्ट C) हाथ में पकड़ा प्रोजेक्टर D) वीडियो प्रोजेक्टर
115. अध्यापन-अधिगम प्रक्रिया में स्वतंत्र चर कौन-सा है:
 A) विद्यार्थी B) संस्था C) अध्यापक D) माता-पिता

116. संज्ञानात्मक क्षेत्र का उच्चतम स्तर है:
A) संश्लेषण B) विश्लेषण C) व्यापक D) मूल्यांकन
117. प्रभावकारी अध्यापक बनने का न्यूनतम अवसर किसका है:
A) जिस की अध्यापन में कोई रुचि नहीं है B) जो कठोर अनुशासक है
C) जो अध्यापन की उपेक्षा करता है D) जो अपना विषय बहुत अच्छी तरह से जानता है
118. पुस्तकें संचार का सशक्त स्रोत हो सकती हैं, बशर्ते कि -
A) विषयवस्तु अमूर्त हो B) विषयवस्तु निदर्शी हो
C) माध्यम हिन्दी हो D) पुस्तक की मुद्रण गुणता अच्छी हो
119. अच्छा अध्यापन बढ़िया रूप में किस द्वारा प्रतिबिम्बित होता है:
A) विद्यार्थियों की उपस्थिति B) विभेदों की संख्या
C) विद्यार्थियों द्वारा पूछे गए अर्थपूर्ण प्रश्न D) कक्षा में पूर्ण नीरवता
120. सूचना को ढूँढना, मूल्यांकन करना और प्रभावकारी ढंग से उपयोग करना एक महत्वपूर्ण विशेषक है जिसे कहते हैं:
A) आलोचनात्मक चिंतन B) सूचना साक्षरता
C) विभेदों की संख्या D) चयनात्मक ध्यान

Section – C (Subject Knowledge)

121. Which one of the following is not the cause of the economic depression?
A) Over-production B) Fall in exports
C) Decline of feudalism D) Mechanization of industries
122. Major result of the Industrial Revolution was the :
A) Concentration of workers in the urban area
B) Increased desire of the wealthy class to share power
C) Formation of powerful craft guild
D) Control of agriculture production by government
123. Who first used the term Industrial revolution in France?
A) Frichdrich Engels B) Karl Marx C) Georges Michelet D) Arnold Toynbee
124. Which of the following terms is most associated with free-market 'classical' economics?
A) Bon Voyage B) Idee Fixe C) Laissez Fairre D) Ressentiment
125. Who invented the first Steam Engine?
A) Thomas Newcomen B) Abraham Darby C) Richard Arkwright D) Henry Cort
126. When did France become constitutional Monarchy?
A) 1789 B) 1791 C) 1792 D) 1790
127. The international body formed by socialists was known as:
A) Social Democratic B) Second International
C) First international D) Socialist Party of the world
128. Which of the following group was in favour of open membership to all in a party?
A) Bolsheviki B) Mensheviks C) S.D.W. Party D) S.R. Party
129. Which two countries were the first to declare war on Germany during World War II?
A) Italy and Greece B) Britain and France
C) Norway and Denmark D) U.S.A and U.S.S.R
130. Italy's action in the World War I was primarily against:
A) Germany B) Greece C) Austria-Hungary D) France

131. Which international organisation got established immediately after the World War II?
 A) League of Nations B)U.N.O. C) W.H.O. D)N.A.T.O.
132. When did Adolf Hitler come into power in Germany?
 A)July 1921 B)July 1935 C)June 1929 D)June 1936
133. During which war did the Russian revolution take place?
 A)World War II B) Russo-Japanese war C)Napoleonic war D)World War I
134. The leader of the revolt of 1857 in Bihar was :
 A) Tantiya Tope B)Nana Saheb C) Mangal Pandey D)Kunwar Singh
135. Who did not participate in the revolt of 1857 ?
 A) Tantiya Tope B)Rani Laxmi Bai C)Bahadur Shah Zafar D)Bhagat Singh
136. Which of the following could be regarded as the greatest contribution of Arya Samaj?
 A) Crusade against the rigidities of the caste system
 B) Converting non-Hindus to Hinduism
 C) Providing protection to the cow
 D) Evoking a sense of pride in India's past
137. What was the primary aim of the AKALI movement which rose in the Punjab in 1920's?
 A) To voice the political grievances of the Sikhs
 B) To bring about modernisation in the Sikh social customs
 C) To streamline the management of the gurudwaras or Sikhs shrines
 D) To wipe out the caste system from Sikhism
138. The industrial development of India began with the introduction of:
 A)Railways B)Textile Mills C) Mining Technology D)Post and Telegraph
139. The Indian industries which were completely ruined on account of British economic policies, were:
 A)Sugar and Ship-building B)Oil and Salt manufacture
 C)Textile and handicrafts D)Iron and steel
140. Which party did not cooperate in the Quit India Movement ?
 A)Forward Bloc B)Hindu Mahasabha C)Communist D)Socialists
141. Which of the following is incorrect about the earth?
 A) The earth is slightly closer to the sun in early January than it is in early July.
 B) The earth is farthest from the sun during the Northern Hemisphere summer.
 C) The earth is closest to the sun during the Southern Hemisphere summer.
 D) The earth is farthest from the sun during the Northern Hemisphere winter.
142. Which of the following is incorrect about rocks?
 A) Intrusive igneous rocks tend to have larger mineral crystals.
 B) Granite is an extrusive igneous rock.
 C) Coarse -grained intrusive rocks are called *plutonic* igneous rocks
 D) Batholith is a massive *pluton*.
143. Which of the following is the least urbanized state after Himachal Pradesh ?
 A) Sikkim B) Bihar C) Assam D) Arunachal Pradesh

144. Which of the following state is not crossed by tropic of cancer?
 A) Rajasthan B) Chattisgarh C) Manipur D) Madhya Pradesh.
145. Match the following :
- | Place | State | | | |
|--------------|-------|-----------------|-------|------|
| (i) Riasi | a. | Odisha | | |
| (ii) Koraput | b. | Assam | | |
| (iii) Digboi | c. | West Bengal | | |
| (iv) Asansol | d. | Jharkhand | | |
| | e. | Jammu & Kashmir | | |
| | (i) | (ii) | (iii) | (iv) |
| A) | e | a | b | d |
| B) | d | a | b | e |
| C) | e | a | b | c |
| D) | e | c | b | a |
146. Which of the following denotes the correct order of states in terms of population (2011 census) from the largest to the smallest?
 A) Uttar Pradesh, Maharashtra, West Bengal, Bihar
 B) Uttar Pradesh, Maharashtra, Bihar, West Bengal
 C) Maharashtra, Uttar Pradesh, Bihar, West Bengal
 D) Uttar Pradesh, Bihar, Maharashtra, West Bengal
147. National Institute of Disaster Management is under
 A) Ministry of Earth Sciences B) Ministry of Science and Technology
 C) Ministry of Home Affairs D) Ministry of Rural Development
148. Which one is the correct order of the spatial character of the universe?
 A) Milky Way, Universe, Local Group, Local Super cluster.
 B) Universe, Milky Way, Local super cluster, Local Group
 C) Milky Way, Local Group, Local Super cluster, Universe.
 D) Local Group, Milky Way, Universe, Local Super cluster.
149. Find the incorrect match
 A) Talcher: Odisha B) Namrup: Assam C) Koyali: Gujarat D) Sindri: Bihar
150. Isohyets are lines joining places of equal
 A) temperature B) rainfall C) pressure D) height
151. *Bermuda* is
 A) North Atlantic's high pressure cell B) North Atlantic's low pressure cell
 C) Indian Ocean's high pressure cell D) Indian Ocean's low pressure cell
152. If there is a difference of 2 degrees in the longitudes of two places, there will be a difference of _____ in their time.
 A) 4 hours B) 4 minutes C) 8 minutes D) 8 hours
153. R. F. in the scale of map denotes
 A) Rainfall B) Ratio factor C) Rough form D) Representative fraction
154. To measure humidity, we use
 A) Planimeter B) Psychrometer C) Lactometer D) Opisometer
155. New Moore Island is near the coast of
 A) West Bengal B) Odisha C) Andhra Pradesh D) Tamil Nadu

156. Which one of the following landforms is **not** associated with continental glaciers ?
 A) till B) stratified drift C) glacial drift D) uvala
157. The rate of decline in temperature with altitude in the troposphere is:
 A) 6.5 ° C per 100 m B) 6.5 ° C per 1000 m C) 6.5 ° C per 10 m D) 6.5 ° C per 100 km
158. Which one of the following statements about RF is **not** correct:
 A) In RF the unit of the numerator and the denominator are taken as the same
 B) The units are never mentioned when the scale is expressed in the form of RF
 C) The denominator is always 100
 D) The numerator should always be 1
159. In which state of India is Angul, the largest aluminum plant in Asia located ?
 A) Gujarat B) Jharkhand C) Odisha D) Chattisgarh
160. Read the following statements
 (i) The place of origin of earthquake is called focus.
 (ii) The point directly above the focus on the earth's surface is called epicenter.
 (iii) The Richter scale measures the intensity of the earthquake.
 (iv) The *Modified Mercalli Scale* ranges from I- XII.
 Identify the **incorrect** statements:
 A) (i) and (ii) B) (iii) C) (iii) and (iv) D) (iv)
161. The growth rate of population during 2001-10 as per Census 2011 stood at:
 A) 16.3% B) 16.9% C) 17.7% D) 18.3%
162. As a result of Green Revolution, which foodgrains had a reduced percentage in total foodgrains production?
 A) Wheat B) Rice C) Cereals and Pulses D) None of these
163. Kasturba Gandhi Education Scheme is related to
 A) Girl education B) Adult education
 C) Child labour education D) Tribal woman (above 18 years) education
164. National Rural Health Mission has been launched in the country since :
 A) April 11, 2005 B) April 12, 2005 C) April 1, 2006 D) April 12, 2006
165. Strategy which makes an all out effort to provide the masses in India access to basic facilities such as health, education, clean drinking water etc. is termed as:
 A) inclusive growth strategy B) exclusive growth strategy
 C) rapid growth strategy D) balanced growth strategy
166. Which of the two employment programmes are being merged in newly introduced Prime Minister's Employment Generation Programme?
 A) PMRY and NREP B) NREP and REGP
 C) PMRY and REGP D) None of these
167. Central Issue Price of foodgrains under TPDS includes price for BPL and APL (below poverty line and above poverty line). What is the difference between the two ?
 A) Price of BPL is one third of APL price B) Difference of Rs. 600/- per quintal
 C) Difference of Rs. 250/- per quintal D) Price for APL is double the BPL price
168. Tendulkar Committee on its alternative methodology for calculating poverty ratio has estimated population below the poverty line at
 A) 33.8% B) 37.2% C) 39.0% D) 40.2%
169. 'Food for Work Programme' was renamed as
 A) RLEGP B) IRDP C) NREP D) MNP

170. Global Hunger Index released by IFPRI in Oct. 2010 placed India at
 A) 58th rank B) 67th rank C) 69th rank D) 74th rank
171. Which of the following is better measure of economic development?
 A) employment B) size of exports C) rural consumption D) national income
172. What is Open Sky Scheme?
 A) Export promotion scheme of Civil Aviation Ministry B) Free economy policy
 C) Tax free policy D) None of these
173. Which sector constitutes the maximum share in National Income of India?
 A) Primary B) Secondary C) Tertiary D) All the above have equal
174. 'Smart Money' is a term used for
 A) internet banking B) FDRs in banks C) credit cards D) demand drafts of banks
175. 'Pure Banking, Nothing Else' is a slogan raised by
 A) ICICI Bank B) HDFC Bank C) SBI D) UTI Bank
176. The money supply measure M2 as published by RBI includes
 A) currency held by public & other deposits of RBI
 B) A + savings deposits with post office saving banks
 C) A + net demand deposits of banks
 D) B + net demand deposits of banks
177. The growth of light industries is hampered by the fact that
 A) these are run by small entrepreneurs with limited financial resources
 B) these do not enjoy economies of scale
 C) perpetuate the dependence on imports of capital goods
 D) all of the above
178. Main distinguishing feature between money market and capital market is based on the
 A) cost of credit B) term of credit C) use of credit D) user of credit
179. Multidimensional Poverty Index (MPI) is a new index to be included in:
 A) World Human Report B) Human Development Report
 C) World Development Report D) India's Human Development Report
180. National Food Security Mission targets to increase the production of wheat, rice and pulses in next four years to –
 A) 10,8 and 2 million tonnes respectively B) 8,10 and 2 million tonnes respectively
 C) 8,12 and 2 million tonnes respectively D) 8,10 and 4 million tonnes respectively
181. Parliamentary supremacy is a definite feature of political system in :
 A) U.K. B) India C) Canada D) Australia
182. Indian federation closely resembles:
 A) U.S.A. B) Nigeria C) Australia D) Canada
183. The word 'Democracy' has been derived from the language:
 A) Greek B) Latin C) English D) French
184. Who among the following described democracy as the "Tyranny of the majority"?
 A) Rousseau B) De Tocqueville C) John Dunning D) John Modison
185. Who decides allotment of symbols to Political Parties in India?
 A) Political Party Leader B) Election Committee of Political Party
 C) Election Commission D) Political Party governing committee
186. The opportunity for all citizens to vote is called :
 A) Representative Government B) Civic Virtue
 C) Universal suffrage D) Democracy

187. Which one of the following is the chief source of political power in India?
 A) The Constitution B) The Supreme Court C) The people D) The Parliament
188. Which one is not an element of a federation?
 A) Written Constitution B) Supreme Constitution
 C) Single Citizenship D) Bicameralism
189. Panchayati Raj means:
 A) Concentration of power B) Centralization of power
 C) Decentralization of power D) State power
190. In which year 'Jana Andolan' was started in Nepal
 A) 1989 B) 1990 C) 1991 D) 2006
191. Free Bolivia Movement turned into a progressive political party in Bolivia was formed on :
 A) 15 January, 1985 B) 15 January, 1986
 C) 15 January 1987 D) 15 January 1988
192. The Constitution of India was enacted by the Constituent Assembly, set up:
 A) Under the Cabinet Mission Plan in 1946.
 B) Under the Indian Independence Act 1947
 C) By the Indian National Congress
 D) Through a resolution of the Provincial Governments.
193. Which fundamental right prohibits traffic in human beings in India?
 A) Right to Equality B) Right against Exploitation
 C) Right to Freedom D) Cultural and Educational Right
194. The Constituent Assembly elected as its permanent chairman:
 A) B.R. Ambedkar B) Rajendra Prasad C) Jawahar Lal Nehru D) K.M.Munshi
195. How many Lok Sabha Constituencies are there in India?
 A) 540 B) 550 C) 547 D) 543
196. The joint sitting of the Indian Parliament is presided over by :
 A) President B) Prime Minister
 C) Chairman of Rajya Sabha D) Speaker of Lok Sabha
197. The Constitution of India is Republic, because it:
 A) Provides for an elected Parliament B) Provides for adult franchise
 C) Contains Bill of Rights D) has no hereditary elements.
198. Which one of the following writs is issued by the Courts to release a person unlawfully detained?
 A) Quo-warranto B) Prohibition C) Habeas Corpus D) Certiorari
199. Who decides whether a bill is a Money Bill or not?
 A) President B) Prime Minister C) Speaker of Lok Sabha D) Supreme Court
200. Who is the founder of Bahujan Samaj Party?
 A) Jyotiba Phule B) B.R. Ambedkar C) Mayawati D) Kanshi Ram.

Section – C (Subject Knowledge)

121. आर्थिक मंदी का कारण कौन-सा नहीं है:
A) अति-उत्पादन B) निर्यात में पतन C) सामन्तवाद का पतन D) उद्योगों का यन्त्रीकरण
122. औद्योगिक क्रान्ति का मुख्य परिणाम था:
A) शहरी क्षेत्र में मजदूरों का संकेंद्रण B) धनवान वर्गों की शक्ति में हिस्सा लेने की बड़ी इच्छा
C) शक्तिशाली दस्तकार श्रेणी का निर्माण D) सरकार द्वारा कृषि उत्पादों पर नियंत्रण
123. फ्रांस में सब से पहले औद्योगिक क्रान्ति पद का प्रयोग किसने किया:
A) फिचड्रिच ऐंगलज़ B) कार्ल मार्क्स C) जॉर्जज़ मिकेलेट D) आर्नलड टायनबी
124. कौन-सा पद मुक्त-बाज़ार 'क्लासिकी' अर्थशास्त्र से संबंधित किया जाता है:
A) शुभ यात्रा B) निश्चित विचार C) अबंध नीति D) रीसेन्टिमेन्ट
125. पहले भाप इंजन का किस ने आविष्कार किया था:
A) थॉमस न्यु कोमेन B) अब्राहीम डार्वी C) रिचर्ड आर्कराइट D) हेनरी कॉर्ट
126. फ्रांस संवैधानिक अधिपति कब बना:
A) 1789 B) 1791 C) 1792 D) 1790
127. समाजवादियों द्वारा बनाई अंतरराष्ट्रीय निकाय को क्या कहा जाता था:
A) सामाजिक लोकतंत्रीय B) द्वितीय अंतरराष्ट्रीय C) प्रथम अंतरराष्ट्रीय D) विश्व का समाजवादी दल
128. कौन-सा समूह दल में सभी के लिए खुली सदस्यता के पक्ष में था:
A) बॉल्शेविक B) मॅन्शेविक्स C) एस. डी. डब्ल्यू दल D) एस. आर. दल
129. कौन-से दो देश विश्व युद्ध II में जर्मनी पर युद्ध की घोषणा करने में सब से आगे थे:
A) इटली और यूनान B) ब्रिटेन और फ्रांस
C) नॉर्वे और डेन्मार्क D) यू. एस. ए. और यू. एस. एस. आर
130. विश्व युद्ध I में इटली की कार्यवाही मुख्यतः किसके विरुद्ध थी:
A) जर्मनी B) यूनान C) ऑस्ट्रिया-हंगरी D) फ्रांस
131. कौन-से अंतरराष्ट्रीय संगठन ने विश्व युद्ध II के तुरन्त बाद अपने आप को स्थापित किया था:
A) राष्ट्र मण्डल B) यू. एन. ओ. C) डब्ल्यू. एच. ओ. D) एन. ए. टी. ओ
132. अडॉल्फ हिटलर ने जर्मनी में कब शक्ति ग्रहण की:
A) जुलाई 1921 B) जुलाई 1935 C) जून 1929 D) जून 1936
133. किस युद्ध के दौरान में रूसी क्रान्ति घटित हुई:
A) विश्व युद्ध II B) रूसो-जापानी युद्ध C) नेपोलियनी युद्ध D) विश्व युद्ध I
134. बिहार में 1857 के विद्रोह का नेता था:
A) तांतिया टोपे B) नाना साहेब C) मंगल पाडिय D) कुँवर सिंह
135. 1857 के विद्रोह में किस ने भाग नहीं लिया था:
A) तांतिया टोपे B) रानी लक्ष्मी बाई C) बहादुर शाह जफर D) भगत सिंह
136. आर्य समाज का महानतम योगदान किसे समझा जाना चाहिए:
A) जाति-पद्धति की कठोरताओं के विरुद्ध धर्मयुद्ध B) गैर-हिन्दुओं का हिन्दु धर्म में परिवर्तन
C) गाय को सुरक्षा प्रदान करना D) भारत के अतीत में गर्व की भावना का आह्वान करना

137. 1920 - में पँजाब में उत्पन्न अकाली लहर का प्राथमिक लक्ष्य क्या था:
 A) सिखों की राजनीतिक शिकायतों को व्यक्त करना
 B) सिखों के सामाजिक रिवाजों का आधुनिकीकरण करना
 C) गुरुद्वारों अथवा सिख धार्मिक स्थानों के प्रबंधन को सरल और कारगर बनाना
 D) सिख धर्म में से जाति पद्धति को खत्म करना
138. भारत की औद्योगिक क्रान्ति किस के प्रवेश से आरंभ हुई:
 A) रेलवेज़ B) कपड़ा कारखाने C) खनन टेक्नालोजी D) डाक और तार
139. ब्रिटिश की आर्थिक नीतियों के कारण पूरी तरह से बरबाद हुए भारतीय उद्योग थे:
 A) खंड और पोत - निर्माण B) तेल और नमक बनाना
 C) कपड़ा और दस्तकारी D) लोहा और इस्पात
140. भारत छोड़ो आंदोलन में किस दल ने सहयोग नहीं दिया था:
 A) अग्रवर्ती ब्लॉक B) हिन्दु महासभा C) साम्यवादी D) समाजवादी
141. पृथ्वी के बारे में कौन-सा कथन सही नहीं है:
 A) जुलाई के आरंभ की अपेक्षा जनवरी के आरंभ में पृथ्वी थोड़ी सूर्य के निकट होती है
 B) उत्तरी गोलार्ध ग्रीष्म में पृथ्वी सूर्य से सब से अधिक दूर होती है
 C) दक्षिणी गोलार्ध ग्रीष्म में पृथ्वी सूर्य के अति निकट होती है
 D) उत्तरी गोलार्ध शीतकाल में पृथ्वी सूर्य से सब से अधिक दूर होती है
142. चट्टानों के बारे में कौन-सा कथन सही नहीं है:
 A) अन्तर्वेधी आग्नेय चट्टानों में सब से अधिक खनिज क्रिस्टल होते हैं
 B) ग्रेनाइट बहिर्वेधी आग्नेय चट्टान है
 C) मोटे - दाने वाली अन्तर्वेधी चट्टानों को वितलीय आग्नेय चट्टानें कहते हैं
 D) महास्कन्ध भारी वितलीय शैल है
143. हिमाचल प्रदेश के बाद कौन-सा राज्य सब से कम शहरीकृत राज्य है:
 A) सिक्किम B) बिहार C) असम D) अरुणाचल प्रदेश
144. कौन-सा राज्य कर्क रेखा द्वारा क्रॉस नहीं किया जाता है:
 A) राजस्थान B) छत्तीसगढ़ C) मणिपुर D) मध्य प्रदेश
145. निम्न स्थानों का मेलान करें:

<u>स्थान</u>		<u>राज्य</u>		
(i)	रियासी	a.	ओडिशा	
(ii)	कोरापुट	b.	असम	
(iii)	डिगबोई	c.	पश्चिमी बंगाल	
(iv)	आसनसोल	d.	झारखंड	
		e.	जम्मू और कश्मीर	
	(i)	(ii)	(iii)	(iv)
(A)	e	a	b	d
(B)	d	a	b	e
(C)	e	a	b	c
(D)	e	c	b	a

146. राज्यों का कौन-सा क्रम, जनसंख्या (2011 जनांकिकी) के रूप में सब से बड़े से सब से छोटे क्रम में सही है:
 A) उत्तर प्रदेश, महाराष्ट्र, पश्चिमी बंगाल, बिहार
 B) उत्तर प्रदेश, महाराष्ट्र, बिहार, पश्चिमी बंगाल
 C) महाराष्ट्र, उत्तर प्रदेश, बिहार, पश्चिमी बंगाल
 D) उत्तर प्रदेश, बिहार, महाराष्ट्र, पश्चिमी बंगाल
147. विपत्ति प्रबंधन का राष्ट्रीय संस्थान किस के अधीन है:
 A) पृथ्वी विज्ञान मंत्रालय
 B) विज्ञान और टेक्नालोजी मंत्रालय
 C) गृह मामलों का मंत्रालय
 D) ग्रामीण विकास मंत्रालय
148. ब्रह्मांड की आकाशीय विशेषता का कौन-सा क्रम सही है:
 A) आकाश गंगा, ब्रह्मांड, स्थानीय समूह, स्थानीय महान गुच्छा
 B) ब्रह्मांड, आकाश गंगा, स्थानीय महान गुच्छा, स्थानीय समूह
 C) आकाश गंगा, स्थानीय समूह, स्थानीय महान गुच्छा, ब्रह्मांड
 D) स्थानीय समूह, आकाश गंगा, ब्रह्मांड, स्थानीय महान गुच्छा
149. ग़लत मेलान को मालूम करें:
 A) तालचर : ओडिशा
 B) नामरूप : असम
 C) कोयली : गुजरात
 D) सिंदरी : बिहार
150. आहसोहाइटस वे रेखाएँ हैं जो समान _____ के स्थानों को मिलाती हैं:
 A) तापमान
 B) वर्षा
 C) दबाव
 D) ऊँचाई
151. बर्मूडा है:
 A) उत्तरी अटलांटिक उच्च दबाव कोष्ठिका
 B) उत्तरी अटलांटिक निम्न दबाव कोष्ठिका
 C) हिन्द महासागर उच्च दबाव कोष्ठिका
 D) हिन्द महासागर निम्न दबाव कोष्ठिका
152. यदि दो स्थानों के देशान्तरों में 2 डिग्री की भिन्नता है, तो उन के समय में _____ मिनटों का अंतर होगा:
 A) 4 घंटे
 B) 4 मिनट
 C) 8 मिनट
 D) 8 घंटे
153. मानचित्र की मापनी में R.F. दर्शाता है:
 A) वर्षा
 B) अनुपात कारक
 C) खुरदरा रूप
 D) प्रतिनिधिक भिन्न
154. आर्द्रता को मापने के लिए, हम प्रयोग करते हैं:
 A) प्लैनिमीटर
 B) साइक्रोमीटर
 C) लेक्टोमीटर
 D) ऑपिसोमीटर
155. नया मूर द्वीप किस के तट के निकट है:
 A) पश्चिमी बंगाल
 B) ओडिशा
 C) आंध्र प्रदेश
 D) तामिल नाडू
156. कौन सी भू-आकृति महाद्वीपीय हिमनदी से संबंधित नहीं है:
 A) हिमोढ़
 B) स्तरीकृत अपवाह
 C) हिमानी अपवाह
 D) विशाल गर्त

157. ट्रोपोस्फियर में ऊँचाई से तापमान में कमी की दर है:
 A) 6.5°C प्रति 100m B) 6.5°C प्रति 1000m
 C) 6.5°C प्रति 10m D) 6.5°C प्रति 100km
158. RF के संबंध में कौन-सा कथन सही नहीं है:
 A) RF में गणक और सार्वहर की इकाई को समान लिया जाता है
 B) जब मापनी को RF रूप में व्यक्त किया जाता है, तो इकाईयों का कभी वर्णन नहीं किया जाता
 C) सार्वहर हमेशा 100 होता है D) गणक को हमेशा 1 होना चाहिए
159. एशिया में ऐलुमिनियम का सब से बड़ा संयंत्र अंगुल, भारत के किस राज्य में स्थित है:
 A) गुजरात B) झारखंड C) ओडिशा D) छत्तीसगढ़
160. निम्नांकित कथनों को पढ़ें:
 (i) भूकम्प की उत्पत्ति के स्थान को केन्द्रबिन्दु कहते हैं
 (ii) पृथ्वी की सतह केन्द्रबिन्दु से ऊपर बिन्दु को अधिकेन्द्र कहते हैं
 (iii) रिक्टर स्केल भूकम्प की तीव्रता को मापता है
 (iv) रूपांतरित मकौली स्केल का परास I - XII है
 गलत कथनों की पहचान करें:
 (A) (i) और (ii) (B) (iii) (C) (iii) और (iv) (D) (iv)
161. 2011 की जनगणना के अनुसार 2001-10 के दौरान में जनसंख्या की संवृद्धि दर थी:
 A) 16.3% B) 16.9% C) 17.7% D) 18.3%
162. हरित क्रान्ति के परिणामस्वरूप, कुल खाद्यान्न उत्पादन में किस अनाज की न्यूनीकृत प्रतिशतता थी:
 A) गेहूँ B) चावल C) अनाज और दालें D) इनमें से कोई भी नहीं है
163. कस्तूरबा गाँधी शिक्षा परियोजना किस से संबंधित है:
 A) बालिका शिक्षा B) प्रौढ़ शिक्षा C) बालश्रम शिक्षा D) जनजातीय महिला (18 साल से अधिक) शिक्षा
164. राष्ट्रीय ग्रामीण स्वास्थ्य मिशन देश में कब से शुरू किया गया है :
 A) अप्रैल 11,2005 B) अप्रैल 12,2005 C) अप्रैल 1,2006 D) अप्रैल 12,2006
165. जो रणनीति भारत में जनसाधारण को स्वास्थ्य, शिक्षा, पीने का साफ पानी इत्यादि बुनियादी सुविधाओं तक पहुँच करने में पूर्ण प्रयास करती है, उसे कहते हैं:
 A) समावेशित संवृद्धि रणनीति B) अनन्य संवृद्धि रणनीति C) तेज़ संवृद्धि रणनीति D) संतुलित संवृद्धि रणनीति
166. कौन-से दो रोजगार कार्यक्रमों को नए प्रवर्तित प्रधान-मन्त्री के रोजगार उत्पादन कार्यक्रम में मिलाया जा रहा है:
 A) PMRY और NREP B) NREP और REGP
 C) PMRY और REGP D) इन में से कोई भी नहीं है

167. TPDS के अंतर्गत खाद्यान्न की केन्द्रीय निर्गम कीमत में BPL (गरीबी रेखा के नीचे) और APL (गरीबी रेखा से ऊपर) के लिए कीमत सम्मिलित है। दोनों में क्या अंतर है:
- A) BPL की कीमत, APL कीमत का एक-तीहाई है B) 600/- रुपये प्रति क्विंटल का अंतर
C) 250/- रुपये प्रति क्विंटल का अंतर D) APL के लिए कीमत BPL कीमत की दोगुनी है
168. गरीबी अनुपात का कलन करने के लिए अपनी वैकल्पिक कार्य-प्रणाली पर तेंडुलकर समिति ने गरीबी रेखा से नीचे की जनसंख्या का कितना अनुमान लगाया है:
- A) 33.8% B) 37.2% C) 39.0% D) 40.2%
169. 'काम के बदले अनाज कार्यक्रम' का नया नाम था:
- A) RLEGP B) IRDP C) NREP D) MNP
170. अक्टूबर 2010 में IFPRI द्वारा प्रकाशित विश्व भूख सूचकांक ने भारत को किस रैंक पर रखा था:
- A) 58 - वां रैंक B) 67 - वां रैंक C) 69 - वां रैंक D) 74 - वां रैंक
171. आर्थिक विकास का बेहतर परिमाण कौन-सा है:
- A) रोजगार B) निर्यात का आकार C) ग्रामीण उपभोग D) राष्ट्रीय आय
172. मुक्त आकाश योजना क्या है:
- A) नागरिक विमानन मन्त्रालय की निर्यात संवर्धन योजना B) मुक्त अर्थव्यवस्था नीति
C) कर मुक्त नीति D) इन में से कोई भी नहीं है
173. भारत की राष्ट्रीय आय में अधिकतम भाग किस क्षेत्र का है:
- A) प्राथमिक B) गौण C) तृतीय D) इन सभी का बराबर भाग
174. 'स्मार्ट मुद्रा' पद का प्रयोग किस के लिए किया जाता है:
- A) ईटरनेट बैंकिंग B) बैंकों में FDRs C) उधार कार्ड D) बैंकों के माँग ड्रूपट
175. 'शुद्ध बैंकिंग, और कुछ भी नहीं' नारा किस ने दिया था:
- A) ICICI बैंक B) HDFC बैंक C) SBI D) UTI बैंक
176. RBI द्वारा प्रकाशित मुद्रा आपूर्ति परिमाण M2 में सम्मिलित है:
- A) RBI के सार्वजनिक और अन्य जमा द्वारा रखी मुद्रा B) A+ डाकघर बचत बैंकों में बचत जमा
C) A+ बैंकों के निवल माँग जमा D) B+ बैंकों के निवल माँग जमा
177. हलके उद्योगों के संवर्धन को इस तथ्य ने बाधा पैदा की है कि -
- A) सीमित वित्तीय संसाधनों वाले लघु उद्यमकर्ताओं द्वारा चलाए जाते हैं
B) इनको बड़े पैमाने की किफ़ायतें उपलब्ध नहीं हैं
C) पूँजीगत वस्तुओं के आयातों पर निर्भरता को बनाए रखवाना
D) उपर्युक्त सभी
178. मुद्रा बाज़ार और पूँजीगत बाज़ार में मुख्य विशिष्ट लक्षण किस पर आधारित हैं :
- A) उधार की लागत B) उधारावधि C) उधार उपयोग D) उधार का प्रयोगकर्ता

179. बहु-आयामी गरीबी सूचकांक (MPI) नया सूचकांक है
 A) विश्व मानव रिपोर्ट B) मानव विकास रिपोर्ट
 C) विश्व विकास रिपोर्ट D) भारत की मानव विकास रिपोर्ट
180. राष्ट्रीय आहार सुरक्षा मिशन का लक्ष्य अगले चार वर्षों में गेहूँ, चावल और दालों के उत्पादन को कहाँ तक बढ़ाना है:
 A) क्रमशः 10,8 और 2 मिलियन टन B) क्रमशः 8,10 और 2 मिलियन टन
 C) क्रमशः 8,12 और 2 मिलियन टन D) क्रमशः 8,10 और 4 मिलियन टन
181. संसदीय श्रेष्ठता किस देश में राजनीतिक व्यवस्था की सुनिश्चित विशेषता है:
 A) यू.के. B) भारत C) कॅनेडा D) ऑस्ट्रेलिया
182. भारतीय संघ की किस से निकट से समानता है:
 A) यू.एस.ए. B) नाइजेरिया C) ऑस्ट्रेलिया D) कॅनेडा
183. शब्द 'Democracy' की व्युत्पत्ति किस भाषा से की गई है:
 A) यूनानी B) लातीनी C) अंग्रेज़ी D) फ्रांसीसी
184. लोकतंत्र को 'बहुसंख्यकों की तानाशाही' के रूप में किसने वर्णित किया:
 A) रूसो B) टॉकविले C) जॉहन डनिंग D) जॉहन मोडिसन
185. भारत में राजनीतिक दलों को चिन्ह आबंटन का निर्णय कौन लेता है:
 A) राजनीतिक दल का नेता B) राजनीतिक दल की चुनाव समिति
 C) निर्वाचन आयोग D) राजनीतिक दल की शासी समिति
186. सभी नागरिकों को मतदान के लिए अवसर को कहते हैं:
 A) प्रतिनिधि सरकार B) नागरिक सद्गुण
 C) सर्वजनीन मताधिकार D) लोकतंत्र
187. भारत में राजनीतिक शक्ति का मुख्य स्रोत कौन-सा है:
 A) संविधान B) सर्वोच्च न्यायालय C) लोग D) संसद
188. संघ का तत्व कौन-सा नहीं है :
 A) लिखित संविधान B) सर्वोच्च संविधान C) इकहरी नागरिकता D) द्विसदन पद्धति
189. पंचायती राज का मतलब है:
 A) शक्ति का संकेंद्रण B) शक्ति का केंद्रीकरण
 C) शक्ति का विकेंद्रीकरण D) राज्य शक्ति
190. नेपाल में 'जन आंदोलन' किस वर्ष में आरंभ किया गया था:
 A) 1989 B) 1990 C) 1991 D) 2006
191. मुक्त बोलिविया आंदोलन, जो बोलिविया में अग्रगामी राजनीतिक दल में बदल गया था, कब बनाया गया था:
 A) 15 जनवरी, 1985 B) 15 जनवरी, 1986 C) 15 जनवरी, 1987 D) 15 जनवरी, 1988

192. भारत के संविधान को संविधान सभा ने अधिनियमित किया था, जो स्थापित की गई थी:
- A) 1946 में केबिनेट मिशन योजना के अधीन B) भारतीय स्वतंत्रता अधिनियम 1947 के अधीन
C) भारतीय राष्ट्रीय कांग्रेस द्वारा D) प्रान्तीय सरकारों के प्रस्ताव द्वारा
193. कौन-सा मूल अधिकार भारत में मानवों के अवैध व्यापार को रोकता है:
- A) समानता अधिकार B) शोषण के विरुद्ध अधिकार
C) स्वतंत्रता अधिकार D) सांस्कृतिक और शैक्षिक अधिकार
194. संविधान सभा ने अपना स्थाई अध्यक्ष किसे चुना:
- A) बी. आर. अंबेडकर B) राजेन्द्र प्रसाद C) जवाहर लाल नेहरू D) के. एम. मुन्शी
195. भारत में लोक सभा के कितने निर्वाचन क्षेत्र हैं:
- A) 540 B) 550 C) 547 D) 543
196. भारत की संसद की संयुक्त बैठक की अध्यक्षता कौन करता है:
- A) राष्ट्रपति B) प्रधान मन्त्री C) राज्य सभा का सभापति D) लोकसभा का स्पीकर
197. भारत का संविधान गणराज्य है, क्योंकि यह :
- A) निर्वाचित संसद का प्रावधान करता है B) वयस्क मताधिकार का प्रावधान करता है
C) इसमें अधिकार पत्र सम्मिलित है D) इसमें कोई आनुवंशिक तत्व नहीं है
198. अवैध ढंग से हिरासत में लिए व्यक्ति को रिहा करने के लिए अदालतों द्वारा जारी की रिट कौन-सी है :
- A) अधिकार पृच्छा B) मनाही
C) बंदी प्रत्यक्षीकरण D) उत्प्रेषण-लेख
199. इस का निर्णय कौन करता है कि विधेयक धन विधेयक है या नहीं:
- A) राष्ट्रपति B) प्रधान मन्त्री C) लोकसभा का स्पीकर D) सर्वोच्च न्यायालय
200. बहुजन समाज पार्टी का प्रवर्तक कौन है :
- A) ज्योतिबा फूले B) बी. आर. अंबेडकर C) मायावती D) कांशी राम

ROUGH WORK

Instructions :

1. Write your roll number on the Question Booklet and also on the OMR Answer Sheet only in the space provided and nowhere else.
2. Enter the Question Booklet Number and Series on the OMR Answer Sheet by darkening the corresponding bubbles with Black/Blue Ball Point Pen only.
3. To open the Question Booklet, remove the Staple Pin gently.
4. Check that the Question Booklet contains 200 Objective Type questions with multiple choice answers. In case of any discrepancy, inform the Invigilator within 10 minutes of the start of test.
5. Each question has four alternative answers A, B, C & D, of which only one is correct. Darken only one bubble A, B, C or D, whichever you think is the correct answer, on the OMR Answer Sheet with BLACK/BLUE BALL POINT PEN only.
6. All questions are of 1 mark each. **THERE IS NEGATIVE MARKING.** 1/4 marks will be deducted for every wrong answer.
7. Rough work is to be done on the question booklet only.
8. Do not make any identification mark on the OMR Answer Sheet or Question Booklet.
9. The Answer Sheet is designed for computer evaluation. If the instructions are not followed properly, the candidate alone shall be responsible for the resultant loss so caused.
10. After the test, hand over the Question Booklet and OMR Answer Sheet to the Invigilator on duty.
11. Telecommunication equipments, such as calculators, pager, cellular phone, wireless & blue tooth devices etc. and weapons are not permitted inside the examination hall.
12. Nothing is to be copied/noted from the given OMR Answer Sheet and Question Booklet, and be taken out of the Examination Hall. Any candidate found doing so would be expelled from the examination.
13. A candidate who creates disturbance of any kind or changes his/her seat, or is found in possession of any paper possibly of any assistance, or found giving or receiving assistance, or found using any other unfair means during the examination will be expelled from the examination. The decision of the Observer shall be final.
14. The candidates will not be allowed to leave the Examination Hall before the expiry of time.

Key TGT (SOCIAL STUDIES-15) 1.6.2014

Q.No.	Ans.	Q.No.	Ans.	Q.No.	Ans.	Q.No.	Ans.	Q.No.	Ans.
1	D	41	D	81	C	121	C	161	C
2	B	42	C	82	B	122	A	162	C
3	C	43	C	83	A	123	C	163	A
4	B	44	D	84	D	124	C	164	B
5	C	45	A	85	C	125	A	165	A
6	B	46	B	86	D	126	B	166	C
7	D	47	C	87	D	127	B	167	D
8	C	48	B	88	A	128	B	168	B
9	B	49	A	89	C	129	B	169	C
10	A	50	B	90	C	130	C	170	D
11	C	51	C	91	C	131	B	171	D
12	A	52	C	92	B	132	B	172	A
13	A	53	B	93	C	133	D	173	C
14	B	54	D	94	B	134	D	174	C
15	B	55	D	95	C	135	D	175	C
16	C	56	C	96	C	136	D	176	D
17	A	57	B	97	B	137	C	177	B
18	B	58	A	98	B	138	A	178	B
19	C	59	B	99	B	139	A	179	B
20	C	60	C	100	A	140	C	180	B
21	A	61	B	101	A	141	D	181	A
22	B	62	C	102	B	142	B	182	D
23	C	63	B	103	C	143	B	183	A
24	D	64	D	104	D	144	C	184	B
25	A	65	D	105	A	145	C	185	C
26	B	66	B	106	B	146	B	186	C
27	C	67	B	107	C	147	C	187	C
28	D	68	C	108	D	148	C	188	C
29	A	69	A	109	A	149	D	189	C
30	B	70	D	110	B	150	B	190	B
31	C	71	C	111	C	151	A	191	A
32	D	72	D	112	D	152	C	192	A
33	A	73	B	113	A	153	D	193	B
34	B	74	C	114	B	154	B	194	B
35	C	75	D	115	C	155	A	195	D
36	D	76	C	116	D	156	D	196	D
37	A	77	D	117	A	157	B	197	D
38	B	78	B	118	B	158	C	198	C
39	C	79	C	119	C	159	C	199	C
40	D	80	C	120	D	160	B	200	D