

Series : RKM/1

Code No. 32/1/1
कोड नं.

Roll No.
रोल नं.

--	--	--	--	--	--	--	--

Candidates must write the Code on the title page of the answer-book. विद्यार्थी उत्तर-पुस्तिका में कोड नं. अवश्य लिखे।

- Please check that this question paper contains 6 printed pages + 3 Maps.
- Code number given on the right hand side of the question paper should be written on the title page of the answer-book by the candidate.
- Please check that this question paper contains 24 questions.
- **Please write down the serial number of the question before attempting it.**
- कृपया जाँच कर लें कि इस प्रश्न-पत्र में मुद्रित पृष्ठ 6 + 3 मानचित्र हैं।
- प्रश्न-पत्र में दाहिने हाथ की ओर दिए गए कोड नम्बर को छात्र उत्तर-पुस्तिका के मुख-पृष्ठ पर लिखें।
- कृपया जाँच कर लें कि इस प्रश्न-पत्र में 24 प्रश्न हैं।
- कृपया प्रश्न का उत्तर लिखना शुरू करने से पहले, प्रश्न का क्रमांक अवश्य लिखें।

SOCIAL SCIENCE सामाजिक विज्ञान

Time allowed : 3 hours]
निर्धारित समय : 3 घण्टे]

[Maximum Marks: 80
[अधिकतम अंक : 80

General Instructions :

- Answer to questions carrying 2 marks should not exceed 30 words each.
- Answer to questions carrying 4 marks should not exceed 60 — 80 words each.
- Answer to questions carrying 6 marks should not exceed 100 — 125 words each.
- Maps should be securely tied in the middle of the Answer-Book.
- Attempt all parts of a question together.
- Stencils or templates for drawing outline maps may be used wherever necessary.

सामान्य निर्देश :

- 2 अंकों वाले प्रत्येक प्रश्न का उत्तर 30 शब्दों से अधिक न हो।
- 4 अंकों वाले प्रत्येक प्रश्न का उत्तर 60 से 80 शब्दों से अधिक न हो।
- 6 अंकों वाले प्रत्येक प्रश्न का उत्तर 100 से 125 शब्दों से अधिक न हो।
- मानचित्रों को उत्तर-पुस्तिका की बीच में मजबूती से बांधिए।
- किसी प्रश्न के सभी भागों के उत्तर साथ-साथ दीजिए।
- जहाँ कहीं आवश्यक हो स्टैंसिलों अथवा सांचों को रेखा-मानचित्र बनाने के लिए इस्तेमाल किया जा सकता है।

1. Define the term 'economic development'. State the **two** bases of measuring economic development of a country. 1+1=2

‘आर्थिक विकास’ शब्द की परिभाषा दीजिए। किसी देश के आर्थिक विकास को मापने के **दो** आधारों का उल्लेख कीजिए।

2. Who is a disabled person ? Give **one** example each of **two** types of disabilities. 1+1=2

विकलांग व्यक्ति किसे कहते हैं ? **दो** प्रकार की विकलांगताओं का **एक-एक** उदाहरण दीजिए।

3. Write any **four** facts about tsunami. 4×½=2

सुनामी के विषय में **चार** तथ्य प्रस्तुत कीजिए।

4. Explain how Indian industries and trade had been ruined under the British rule in the eighteenth century. 2

ब्रिटिश शासन के अधीन भारतीय उद्योग और व्यापार अठारहवीं शताब्दी में किस प्रकार तबाह हो गए ? स्पष्ट कीजिए।

5. Explain any **two** main features of Harappan culture. 2×1=2

हड़प्पन संस्कृति की किन्हीं **दो** मुख्य विशेषताओं को स्पष्ट कीजिए।


6. Name the northern, eastern, southern and western most stations of Golden Quadrilateral express national highway. 4×½=2

स्वर्णिम चतुष्कोण एक्सप्रेस राष्ट्रीय महामार्ग के सुदूर उत्तरी, पूर्वी, दक्षिणी तथा पश्चिमी स्टेशनों के नाम बताइए।

7. How do the means of mass communication play a vital role in creating awareness among the people ? Explain. 2

जनसंचार के साधन किस प्रकार लोगों में जागरूकता पैदा करने में महत्वपूर्ण भूमिका निभाते हैं ? स्पष्ट कीजिए।

8. Identify and name the social reformer shown in the picture given below. State any **two** contributions made by him. 1+1=2



ऊपर दी गई समाज सुधारक की तस्वीर को पहचानिए और उसका नाम लिखिए। उनके किन्हीं **दो** योगदानों का उल्लेख कीजिए।

Note : The following question is for the **Blind Candidates** only in lieu of Q. No. 8.

नोट : निम्नलिखित प्रश्न केवल **दृष्टिहीन परीक्षार्थियों** के लिए प्रश्न संख्या 8 के स्थान पर है।

State any **two** contributions of Ishwar Chandra Vidyasagar in reforming Indian society. 2×1=2

भारतीय समाज के सुधार में ईश्वर चन्द्र विद्यासागर के किन्हीं **दो** योगदानों का उल्लेख कीजिए।

9. 'India is a multilingual country'. Justify the statement with **two** arguments. 2×1=2
'भारत बहुभाषी देश है।' **दो** तर्क देकर इस कथन की पुष्टि कीजिए।

10. "Wells and tube wells are the most popular means of irrigation in northern plains of India." Justify the statement with **two** arguments. 2×1=2
"कुएँ और नल कूप भारत के उत्तरी मैदानों में सिंचाई के सबसे अधिक लोकप्रिय साधन हैं।" **दो** तर्क देकर इस कथन की न्यायसंगत पुष्टि कीजिए।

11. "Health sector interplays the most significant role in human development." Justify this statement with **two** arguments. 2×1=2
"स्वास्थ्य क्षेत्र का मानव विकास में सर्वाधिक महत्वपूर्ण योगदान है।" **दो** तर्क सहित इसकी न्यायसंगत पुष्टि कीजिए।

12. Suggest **two** facts which should be borne in mind while selecting a site for a building in coastal areas. 2×1=2
समुद्र तटीय क्षेत्रों में इमारत बनाने के लिए स्थान का चयन करते समय ध्यान में रखने योग्य **दो** तथ्य सुझाइए।

13. Describe any **four** characteristics of subsistence farming. 4×1=4

OR

Describe any **four** steps taken by the Government to improve Indian agriculture after Independence. 4×1=4

आत्म निर्वाह कृषि की किन्हीं **चार** विशेषताओं का वर्णन कीजिए।

अथवा

स्वतंत्रता के बाद भारतीय कृषि में सुधार हेतु सरकार द्वारा उठाये गए किन्हीं **चार** उपायों का वर्णन कीजिए।

14. Describe any **four** major problems faced by cotton textile industry in India. 4×1=4

भारत में सूती वस्त्र उद्योग के समक्ष उपस्थित किन्हीं **चार** प्रमुख समस्याओं का वर्णन कीजिए।

15. Describe **two** different approaches by which the number of the poor are estimated in the country. 2+2=4

देश में गरीबों की संख्या का पता लगाने के **दो** भिन्न तरीकों का वर्णन कीजिए।

16. “The revolt of 1857 marked a turning point in the history of India.” Support this statement by giving **four** facts. 2+2=4

OR

When was the Muslim League formed ? Explain its **three** main objectives.

“1857 के महाविद्रोह से भारत के इतिहास में एक नया मोड़ आया।” **चार** तथ्य देते हुए इस कथन की पुष्टि कीजिए।

अथवा

मुस्लिम लीग की स्थापना कब हुई ? इसके **तीन** उद्देश्यों को स्पष्ट कीजिए।

17. “Coal is the main source of energy as well as a raw material for industries in India.” Support this statement with **two** facts for each. 2+2=4

“भारत में कोयला ऊर्जा का मुख्य स्रोत होने के साथ-साथ उद्योगों के लिए कच्चा माल भी है।” प्रत्येक के लिए **दो-दो** तथ्य देते हुए इस कथन की पुष्टि कीजिए।

18. How does communalism pose a threat to our national unity ? Explain. 1+3=4

साम्प्रदायिकता हमारी राष्ट्रीय एकता के लिए किस प्रकार चुनौतियाँ प्रस्तुत करती है ? स्पष्ट कीजिए।

19. Explain the term ‘Veto’. Name any **four** countries which have veto power. 4×1=4

निषेधाधिकार (वीटो) शब्द का अर्थ स्पष्ट कीजिए। वीटो शक्ति धारक किन्हीं **चार** देशों के नाम बताइए।

20. How is disaster managed at different levels ? Explain with one example each, from any **four** levels. 4×1=4

OR

Explain any **four** objectives of a search and rescue team.

आपदा प्रबंधन विभिन्न स्तरों पर किस प्रकार किया जाता है ? किन्हीं **चार** स्तरों से एक-एक उदाहरण देते हुए स्पष्ट कीजिए।

अथवा

खोज और बचाव दल के किन्हीं **चार** उद्देश्यों को स्पष्ट कीजिए।

21. When was Indian National Congress founded ? Who played the most important part in its formation ? Describe the main objectives of the Congress. 1+1+4=6

OR

Describe any **six** factors that were responsible for the rise of 'extremism' in India. 6×1=6

भारतीय राष्ट्रीय कांग्रेस की स्थापना कब हुई ? इसकी स्थापना में किसने सबसे अधिक महत्त्वपूर्ण भूमिका निभाई ? कांग्रेस के मुख्य उद्देश्यों का वर्णन कीजिए।

अथवा

भारत में 'गरमपंथ' के उदय के उत्तरदायी किन्हीं **छः** कारकों का वर्णन कीजिए।

22. Why is the conservation of resources essential ? Explain any **three** measures of conservation of resources. 3+3=6

OR

"Water is a very important and critical resource in India". Support this statement by explaining any **three** points of each. 3+3=6

संसाधनों का संरक्षण क्यों आवश्यक है ? संसाधनों के संरक्षण के किन्हीं **तीन** उपायों की व्याख्या कीजिए।

अथवा

"भारत में जल बहुत ही महत्त्वपूर्ण और संकटग्रस्त संसाधन है।" प्रत्येक के लिए किन्हीं **तीन** बिन्दुओं की व्याख्या करते हुए इस कथन की पुष्टि कीजिए।

23. Explain with suitable examples the impact of the expansion of business activities in an economy. 6

OR

Why is the rise of consumer awareness essential ? Explain any **four** measures to protect consumers' interest 2+4=6

किसी अर्थव्यवस्था में व्यापारिक क्रिया-कलापों के विस्तार के प्रभावों को उपयुक्त उदाहरणों द्वारा स्पष्ट कीजिए।

अथवा

उपभोक्ताओं में जागरूकता उत्पन्न होना क्यों आवश्यक है ? उपभोक्ताओं के हितों की सुरक्षा के किन्हीं **चार** उपायों को स्पष्ट कीजिए।

24. (a) (i) On the given political outline map of **India**, the place is shown by No. 1, where Congress was split in 1907. Identify the place and name it on the line drawn. 1+1=2
- (ii) On the same map shade and name the state where Jallianwala Bagh incident occurred. 1+1=2
- (b) On the given political outline map of **India**, four geographical features A, B, C and D are marked. Identify these features with the help of the map key and write their correct names on the line marked against each in the map. 4×1=4

OR

On the given political outline map of **India** locate and label the following features : 4×1=4

- (i) Kanpur - Cotton Textile Centre
- (ii) Kaiga - Nuclear Power Station
- (iii) Haldia - Oil Refinery
- (iv) Kandla - Seaport

- (अ) (i) दिए गए **भारत** के राजनीतिक रेखा-मानचित्र में संख्या 1 द्वारा उस स्थान को दिखाया गया है जहाँ 1907 में कांग्रेस का विभाजन हुआ। स्थान को पहचानिए और उस स्थान का नाम मानचित्र पर खींची गई रेखा पर लिखिए।
- (ii) इसी मानचित्र पर उस राज्य को छायांकित कीजिए और उसका नाम लिखिए जहाँ जलियाँवाला बाग घटना घटी।
- (ब) दिए गए **भारत** के राजनीतिक रेखा-मानचित्र पर चार भौगोलिक लक्षण क, ख, ग और घ को अंकित किया गया है। मानचित्र में दी गई कुंजी की मदद से इन लक्षणों को पहचानिए और उनके सही नाम मानचित्र पर दी गई रेखा पर लिखिए।

अथवा

दिए गए **भारत** के राजनीतिक रेखा-मानचित्र पर निम्नलिखित लक्षणों की स्थिति दिखाइए और उनके नाम लिखिए :

- (i) कानपुर — सूती वस्त्र केन्द्र
(ii) कैगा — नाभिकीय शक्ति केन्द्र
(iii) हल्दिया — तेल परिष्करणशाला
(iv) काँडला — समुद्रीपत्तन

Note : The following question is for the **Blind Candidates** only in lieu of Q. No. 24 (a) and (b). 6×1=6

- (i) Name the State where Jallianwala incident occurred.
(ii) Name the place where Congress was split in 1907.
(iii) Which is the leading coffee producing state ?
(iv) Which is the eastern terminal station of 'East-West Corridor' ?
(v) Name the international air-port located in Gujarat State.
(vi) Name the Software Technology Park located in Uttar Pradesh.

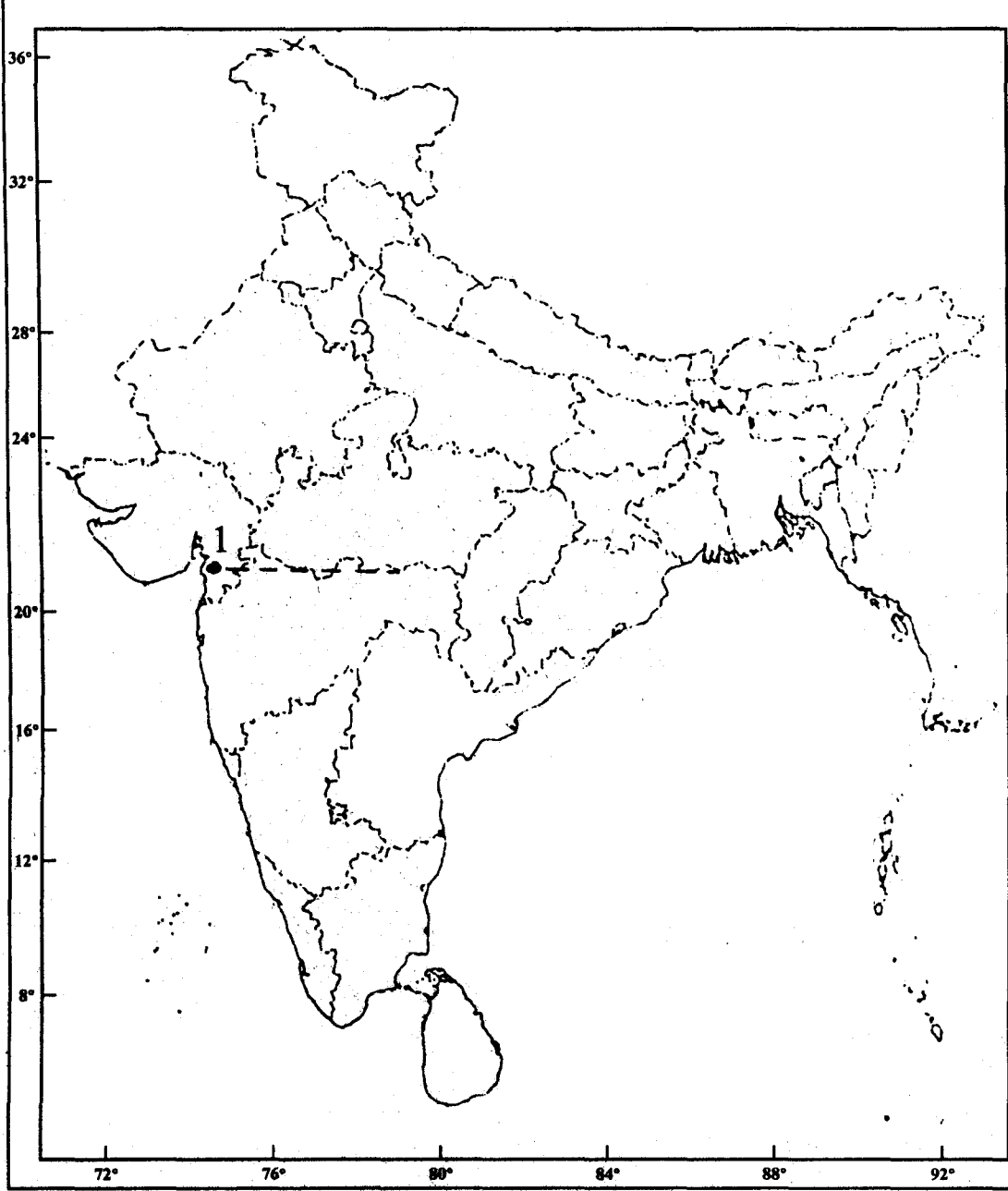
नोट : निम्नलिखित प्रश्न केवल **दृष्टिहीन परीक्षार्थियों** के लिए प्रश्न संख्या 24 (अ) और (ब) के स्थान पर है।

- (i) जलियाँवाला बाग घटना किस राज्य में घटित हुई ?
(ii) उस स्थान का नाम बताइए जहाँ सन् 1907 में कांग्रेस का विभाजन हुआ।
(iii) कहवा का सबसे प्रमुख उत्पादक राज्य कौन सा है ?
(iv) 'पूर्व-पश्चिम गलियारे' का अन्तिम पूर्वी स्टेशन कौन सा है ?
(v) गुजरात राज्य में स्थापित अन्तर्राष्ट्रीय वायुपत्तन का नाम बताइए।
(vi) उत्तर प्रदेश में स्थित साफ्टवेयर प्रौद्योगिकी पार्क का नाम बताइए।

Q. No. 24 (a)

प्र. सं. 24 (अ)

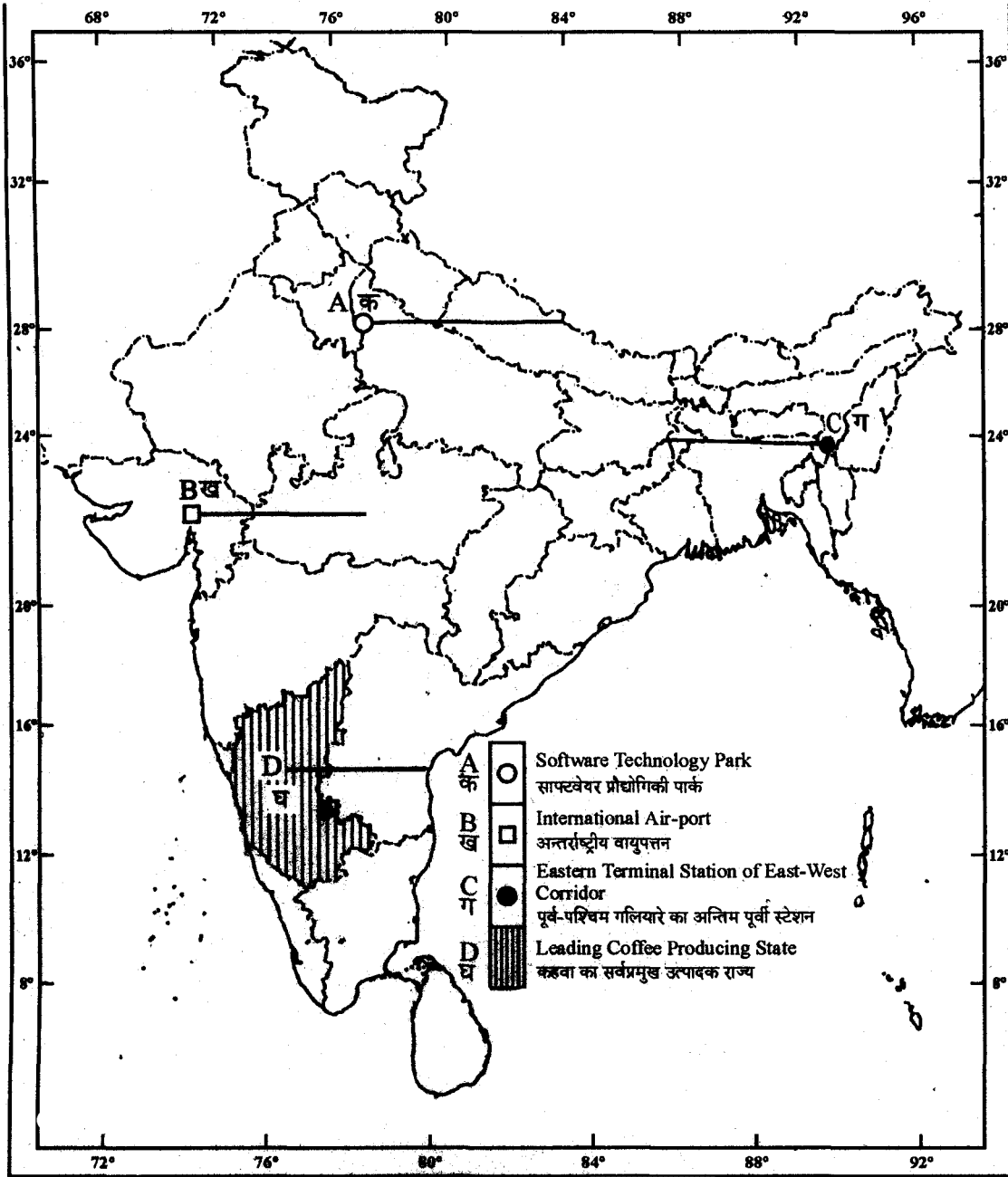
यहाँ से काटिए ----- Cut Here ----- यहाँ से काटिए ----- Cut Here ----- यहाँ से काटिए



Q. No. 24 (b)

प्र. सं. 24 (ब)

यहाँ से काटिए ----- Cut Here ----- यहाँ से काटिए ----- Cut Here ----- यहाँ से काटिए



OR / अथवा

Q. No. 24 (b)

प्र. सं. 24 (ब)

यहाँ से काटिए ----- Cut Here ----- यहाँ से काटिए ----- Cut Here ----- यहाँ से काटिए

