

This question paper consists of 24 questions [Section-A (18) + Section-B (3+3)] and 10 printed pages.

इस प्रश्न-पत्र में 24 प्रश्न [खण्ड-अ (18) + खण्ड-ब (3+3)] तथा 10 मुद्रित पृष्ठ हैं।

Roll No.

--	--	--	--	--	--	--	--	--	--

अनुक्रमांक

Code No. **36/ISS/2**
कोड नं०

Set/सेट

A

559

GEOGRAPHY

भूगोल

(316)

Day and Date of Examination

(परीक्षा का दिन व दिनांक)

Signature of Invigilators 1.

(निरीक्षकों के हस्ताक्षर)

2.

General Instructions :

1. Candidate must write his/her Roll Number on the first page of the question paper.
2. Please check the question paper to verify that the total pages and total number of questions contained in the paper are the same as those printed on the top of the first page. Also check to see that the questions are in sequential order.
3. Making any identification mark in the answer-book or writing roll number anywhere other than the specified places will lead to disqualification of the candidate.
4. Write your Question Paper Code No. 36/ISS/2, Set **A** on the answer-book.
5. (a) The question paper is in English/Hindi medium only. However, if you wish, you can answer in any one of the languages listed below :
English, Hindi, Urdu, Punjabi, Bengali, Tamil, Malayalam, Kannada, Telugu, Marathi, Oriya, Gujarati, Konkani, Manipuri, Assamese, Nepali, Kashmiri, Sanskrit and Sindhi.
You are required to indicate the language you have chosen to answer in the box provided in the answer-book.
- (b) If you choose to write the answer in the language other than Hindi and English, the responsibility for any errors/mistakes in understanding the question will be yours only.

सामान्य अनुदेश :

1. परीक्षार्थी प्रश्न-पत्र के पहले पृष्ठ पर अपना अनुक्रमांक अवश्य लिखें।
2. कृपया प्रश्न-पत्र को जाँच लें कि पत्र के कुल पृष्ठों तथा प्रश्नों की उतनी ही संख्या है जितनी प्रथम पृष्ठ के सबसे ऊपर छपी है। इस बात की जाँच भी कर लें कि प्रश्न क्रमिक रूप में हैं।
3. उत्तर-पुस्तिका में पहचान-चिह्न बनाने अथवा निर्दिष्ट स्थानों के अतिरिक्त कहीं भी अनुक्रमांक लिखने पर परीक्षार्थी को अयोग्य ठहराया जायेगा।
4. अपनी उत्तर-पुस्तिका पर प्रश्न-पत्र की कोड संख्या 36/ISS/2, सेट **A** लिखें।
5. (क) प्रश्न-पत्र केवल हिन्दी/अंग्रेजी में है। फिर भी, यदि आप चाहें तो नीचे दी गई किसी एक भाषा में उत्तर दे सकते हैं :
अंग्रेजी, हिन्दी, उर्दू, पंजाबी, बंगला, तमिल, मलयालम, कन्नड़, तेलुगू, मराठी, उड़िया, गुजराती, कोंकणी, मणिपुरी, असमिया, नेपाली, कश्मीरी, संस्कृत और सिन्धी।
कृपया उत्तर-पुस्तिका में दिए गए बॉक्स में लिखें कि आप किस भाषा में उत्तर लिख रहे हैं।
- (ख) यदि आप हिन्दी एवं अंग्रेजी के अतिरिक्त किसी अन्य भाषा में उत्तर लिखते हैं तो प्रश्न को समझने में होने वाली त्रुटियों/गलतियों की जिम्मेदारी केवल आपकी होगी।

GEOGRAPHY

भूगोल

(316)

Time : 3 Hours]

[Maximum Marks : 80

समय : 3 घण्टे]

[पूर्णांक : 80

- Note : (i) This Question Paper consists of *two* Sections, viz., 'A' and 'B'.
- (ii) All questions from Section 'A' are to be attempted.
- (iii) Section 'B' has two options. Candidates are required to attempt questions from *one option* only.

- निर्देश : (i) इस प्रश्न-पत्र में दो खण्ड हैं—खण्ड 'अ' एवं खण्ड 'ब'।
- (ii) खण्ड 'अ' के सभी प्रश्नों को हल करना है।
- (iii) खण्ड 'ब' में दो विकल्प हैं। परीक्षार्थियों को केवल एक विकल्प के ही प्रश्नों के उत्तर देने हैं।

SECTION-A

खण्ड-अ

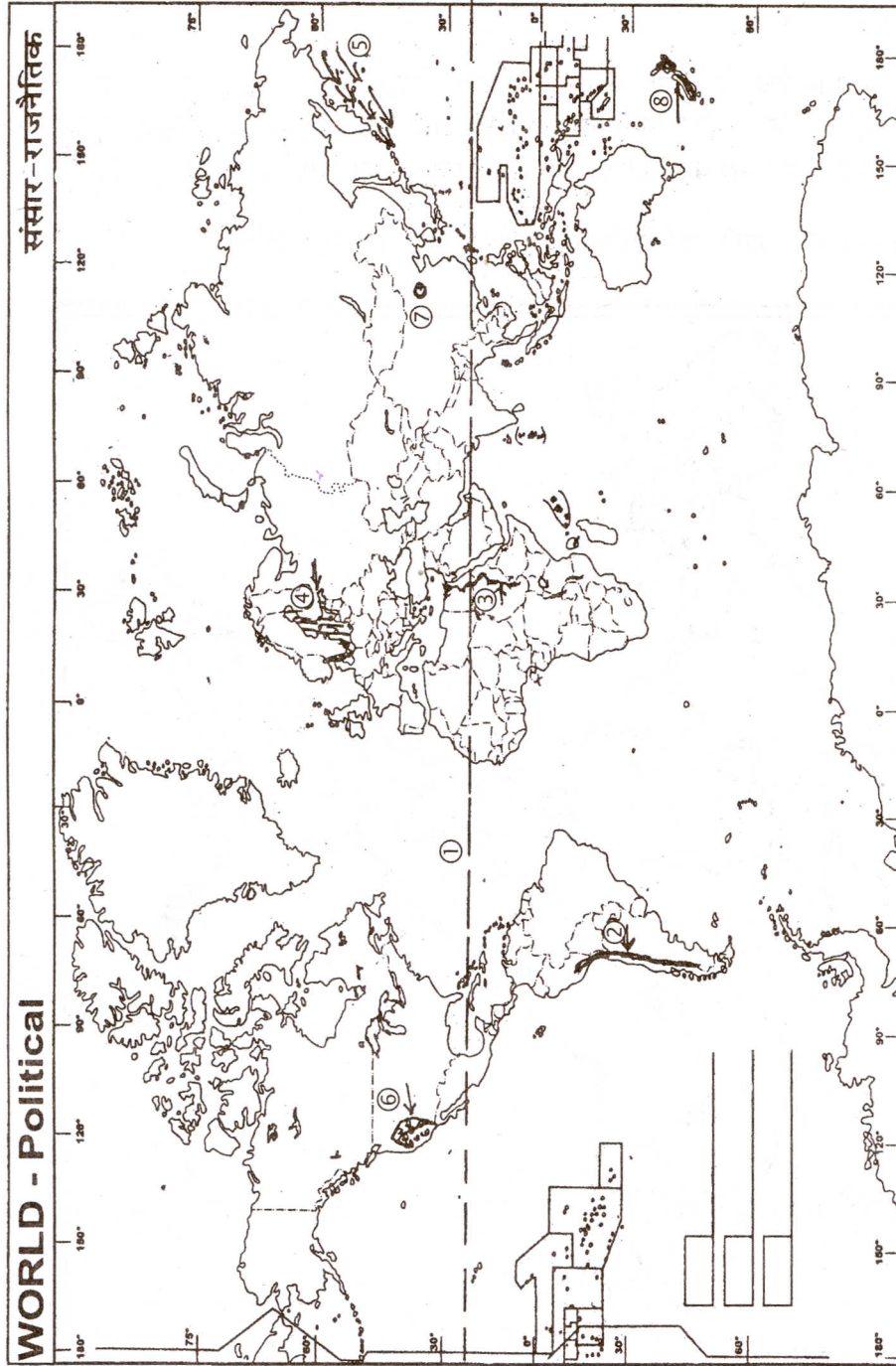
1. In the *World Map* given, *eight* geographical features are shown—(1) Main parallel of latitude; (2) Mountain Range; (3) River; (4) Sea; (5) Ocean current; (6) Desert; (7) City and (8) Country.

Write the correct name of the related feature in your answer-book against each number.

$\frac{1}{2} \times 8 = 4$

दिए गए संसार के मानचित्र में आठ भौगोलिक लक्षण दिखाए गए हैं—(1) मुख्य अक्षांश रेखा; (2) पर्वत श्रेणी; (3) नदी; (4) सागर; (5) महासागर धारा; (6) मरुस्थल; (7) नगर और (8) देश।

अपनी उत्तर-पुस्तिका में प्रत्येक संख्या के सामने संबंधित लक्षण का सही नाम लिखिए।



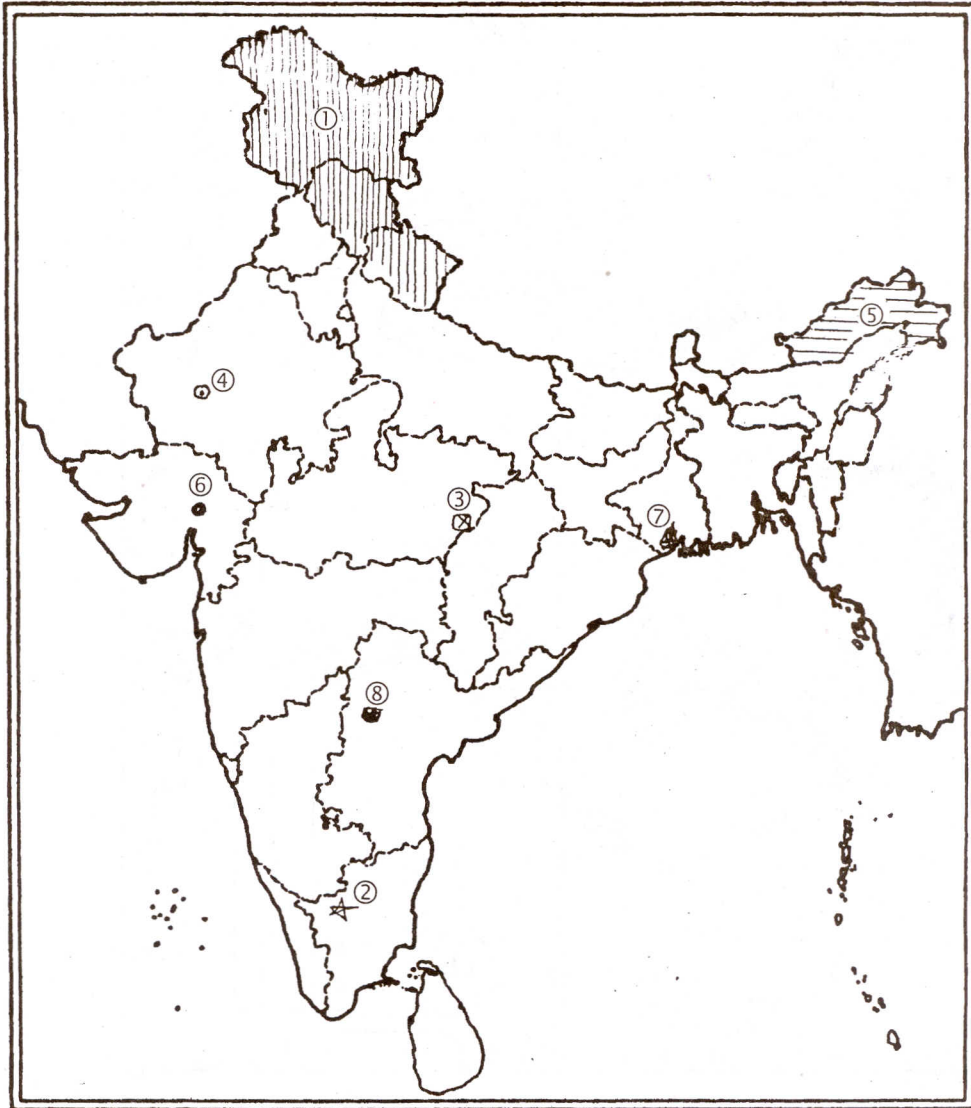
2. On the given *Map of India*, eight geographical features are shown—(1) Soil Type; (2) Dam; (3) Thermal Power Station; (4) A city with Gypsum-based chemical fertilizer plant; (5) The State having lowest density of population; (6) The biggest metropolitan city of Gujarat; (7) A Seaport and (8) An Airport.

Write in your answer-book against each number the correct name of the related feature.

$\frac{1}{2} \times 8 = 4$

दिए गए भारत के मानचित्र में आठ भौगोलिक लक्षण दिखाए गए हैं—(1) मिट्टी-प्रकार; (2) बाँध; (3) ताप-शक्ति केन्द्र; (4) जिप्सम पर आधारित रासायनिक खाद केन्द्र का नगर; (5) न्यूनतम जनसंख्या घनत्व वाला राज्य; (6) गुजरात का सबसे बड़ा महानगर; (7) एक समुद्री पत्तन और (8) एक वायु पत्तन।

प्रत्येक लक्षण का सही नाम अपनी उत्तर-पुस्तिका में प्रत्येक संख्या के सामने लिखिए।



3. What is continental shelf? State the *four* important points of its economic significance. 1+2=3
महाद्वीपीय निमग्नतट क्या है? इसकी आर्थिक सार्थकता के चार महत्वपूर्ण बिन्दुओं का उल्लेख कीजिए।
4. Which is the most important soil of India for our country's agriculture? Mention any *four* of its notable characteristics. 1+2=3
हमारे देश की कृषि के लिए, भारत की सबसे महत्वपूर्ण मिट्टी कौन-सी है? इस मिट्टी की किन्हीं चार प्रमुख विशेषताओं का उल्लेख कीजिए।
5. From where does the sun, the only source of energy on earth, get its energy? Explain giving *six* main points. 3
सूर्य, जो पृथ्वी पर ऊर्जा का एकमात्र स्रोत है, कहाँ से अपनी ऊर्जा प्राप्त करता है? छः मुख्य बिन्दुओं की सहायता से स्पष्ट कीजिए।
6. Why is the maintenance of ecological balance of utmost importance to us? Explain with *six* main examples. 3
पारिस्थितिक सन्तुलन बनाए रखना हमारे लिए अत्यन्त आवश्यक क्यों है? छः मुख्य उदाहरणों सहित स्पष्ट कीजिए।
7. Explain any *three* steps taken up to preserve wildlife in India. 1×3=3
भारत में वन्य-जीवन के संरक्षण के लिए अपनाए गए किन्हीं तीन उपायों की व्याख्या कीजिए।
8. Explain demographic consequences of migration in both the areas of origin of migrants and the areas of their destination mentioning any *three* points. 1×3=3
जनसंख्या प्रवास के उद्गम क्षेत्रों और गंतव्य क्षेत्रों में जनांकिकीय परिणामों की व्याख्या किन्हीं तीन बिन्दुओं की सहायता से कीजिए।
9. Describe any *four* factors with examples affecting rainfall distribution in the world. 1×4=4
संसार में वर्षा के वितरण को प्रभावित करने वाले किन्हीं चार कारकों का उदाहरण सहित वर्णन कीजिए।
10. Explain forces of compression and forces of tension giving any *two* points of each. 2+2=4
सम्पीडन बलों और तनाव बलों को कोई दो-दो उदाहरण देकर स्पष्ट कीजिए।

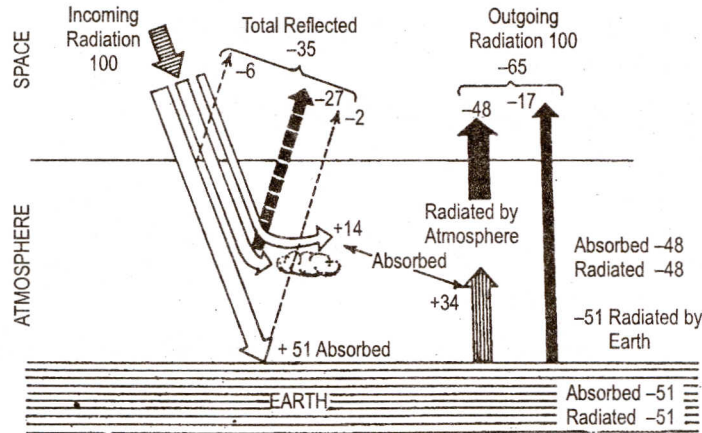
11. Write any four characteristics each of East Coastal Plains and West Coastal Plains of India. 2+2=4

भारत के पूर्व तटीय मैदानों तथा पश्चिम तटीय मैदानों की कोई चार-चार विशेषताएँ लिखिए।

12. Explain any four characteristics of the South-West Monsoon season of India. 1×4=4

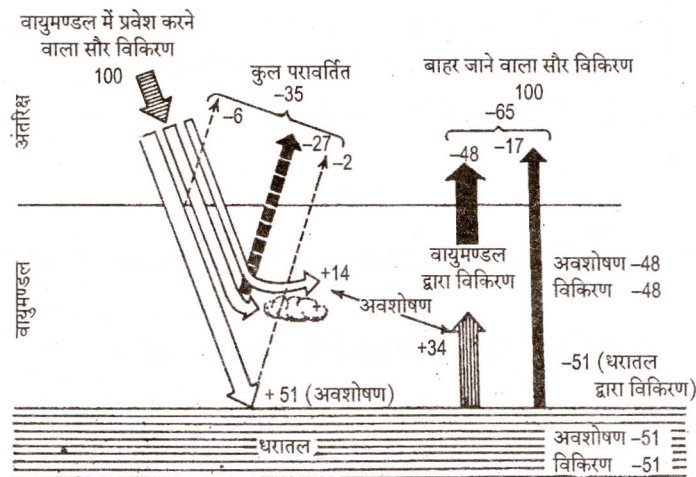
भारत की दक्षिण-पश्चिम मानसून ऋतु की किन्हीं चार विशेषताओं की व्याख्या कीजिए।

13. Study the diagram given below and answer the question that follows : 4



Explain 'heat budget' systematically or in a tabular form with the help of given diagram.

नीचे दिए गए आरेख का अध्ययन कीजिए और उसके नीचे दिए गए प्रश्न का उत्तर दीजिए :



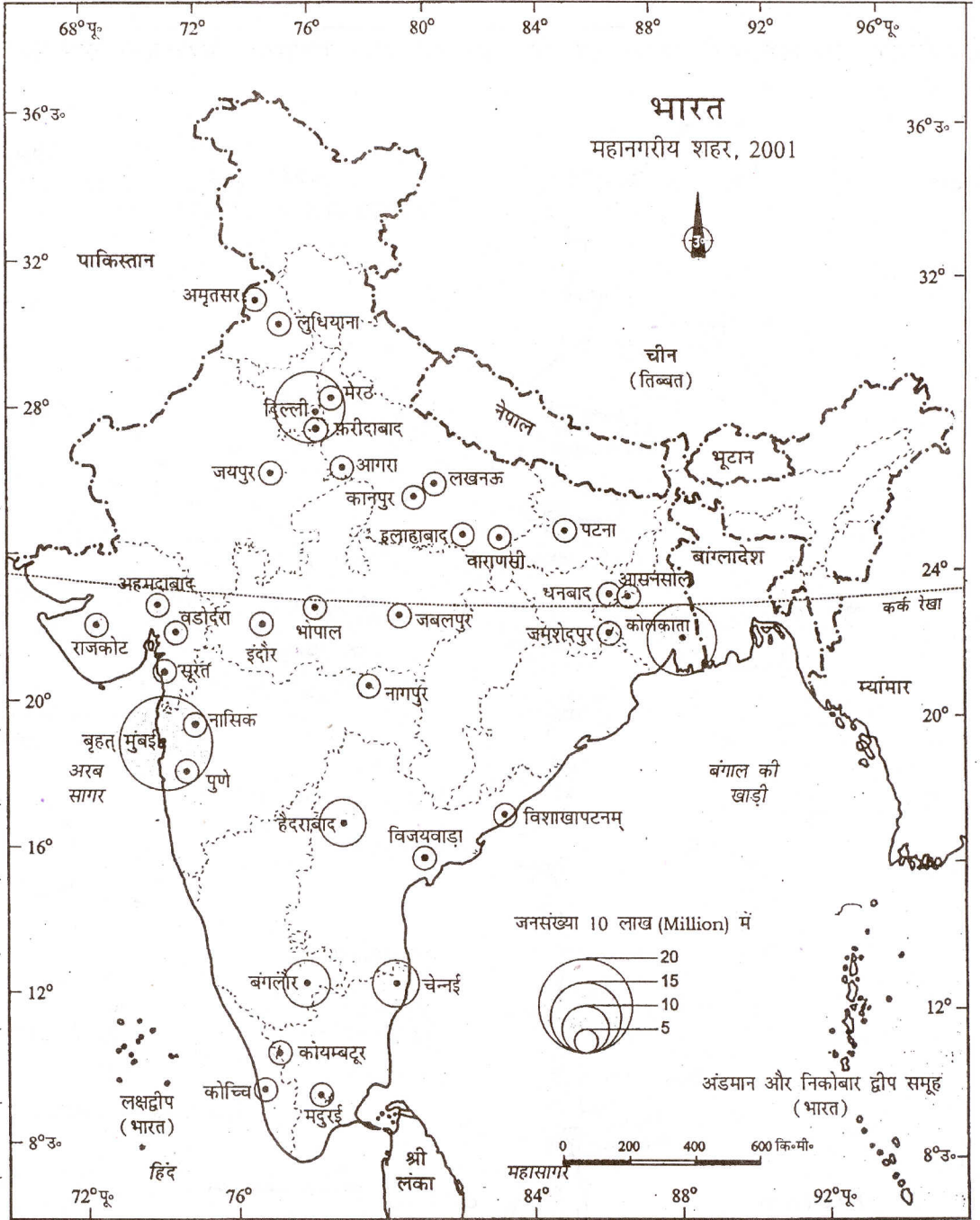
दिए गए आरेख की मदद से 'ऊष्मा बजट' को सुव्यवस्थित ढंग से अथवा तालिका बनाकर स्पष्ट कीजिए।

14. Study the map given below and answer the questions that follow : $1+1\frac{1}{2}+1\frac{1}{2}=4$



- (a) Name any *two* States which have three metropolitan cities each.
- (b) Write the names of metropolitan cities related to any *two* of these States.

नीचे दिए गए मानचित्र का अध्ययन कीजिए और निम्नलिखित प्रश्नों के उत्तर दीजिए :



(क) किन्हीं दो राज्यों के नाम लिखिए जिनमें तीन-तीन महानगर हैं।

(ख) इन राज्यों में से किन्हीं दो राज्यों से सम्बन्धित महानगरों के नाम लिखिए।

15. Describe in brief the climate and natural vegetation of equatorial lowlands of the world, giving *five* points of each. 2½+2½=5
संसार की विषुवतीय निम्नभूमियों की जलवायु और प्राकृतिक वनस्पति का पाँच-पाँच उदाहरण देकर संक्षेप में वर्णन कीजिए।
16. Describe any *five* measures which have been taken to increase agricultural production in India. 1×5=5
भारत में कृषीय उत्पादन बढ़ाने के लिए उठाए गए किन्हीं पाँच उपायों का वर्णन कीजिए।
17. Explain any *five* points of economic significance of mountains in the world. 1×5=5
संसार में पर्वतों के आर्थिक महत्त्व के किन्हीं पाँच बिन्दुओं का वर्णन कीजिए।
18. How do Indian Railways play an important role in the economic development of the country? Explain any *five* points with suitable examples. 1×5=5
भारतीय रेलें देश के आर्थिक विकास में किस प्रकार महत्त्वपूर्ण भूमिका निभाती हैं? किन्हीं पाँच बिन्दुओं को उपयुक्त उदाहरण सहित स्पष्ट कीजिए।

SECTION-B

खण्ड-ब

OPTION-I

विकल्प-I

(Teaching Geography at Primary Level)

(प्राथमिक स्तर पर भूगोल-शिक्षण)

19. Explain any *three* functions of Geography. 1×3=3
भूगोल के किन्हीं तीन कार्यों की व्याख्या कीजिए।
20. How are day and night caused? Explain. 3
दिन और रात किस प्रकार होते हैं? व्याख्या कीजिए।
21. Mention any *two* objectives and *four* teaching-learning aids on the topic 'Terrain of Himalayas' for primary level. 2+2=4
'हिमालय के उच्चावच' शीर्षक पर प्राथमिक स्तर के लिए किन्हीं दो उद्देश्यों तथा अध्ययन-अध्यापन की चार सहायक सामग्रियों का उल्लेख कीजिए।

OPTION-II

विकल्प-II

(Geography of Tourism in India)

(भारत का पर्यटन भूगोल)

19. How the varied types of climate promote tourism in India? Explain choosing *three* suitable examples. 1×3=3

भारत में विविध प्रकार की जलवायु पर्यटन के संवर्धन में किस प्रकार सहायक है? तीन उपयुक्त उदाहरणों सहित स्पष्ट कीजिए।

20. Explain any *three* negative factors which have been periodical setbacks to the growth of tourist flow in the country. 1×3=3

ऐसे किन्हीं तीन नकारात्मक कारकों को स्पष्ट कीजिए जो देश में पर्यटक के प्रवाह को समय-समय पर अवरुद्ध करते रहे हैं।

21. Give brief description of the tourist zone 'The Southern Tirupati Zone' of Andhra Pradesh choosing *four* suitable examples. 1×4=4

पर्यटन क्षेत्र आन्ध्र प्रदेश के 'दक्षिण तिरुपति मण्डल' का संक्षेप में चार उपयुक्त उदाहरण देकर वर्णन कीजिए।

★ ★ ★