


C.S.C.P. 09

**DO NOT OPEN THIS TEST BOOKLET UNTIL YOU ARE ASKED TO DO SO**

**T.B.C. : P-DTQ-J-FDP**

**TEST BOOKLET SERIES**

**Serial No 006613**



**TEST BOOKLET  
ECONOMICS**

**Time Allowed : Two Hours**

**Maximum Marks : 300**

**INSTRUCTIONS**

1. IMMEDIATELY AFTER THE COMMENCEMENT OF THE EXAMINATION, YOU SHOULD CHECK THAT THIS TEST BOOKLET DOES **NOT** HAVE ANY UNPRINTED OR TORN OR MISSING PAGES OR ITEMS, ETC. IF SO, GET IT REPLACED BY A COMPLETE TEST BOOKLET.
2. ENCODE CLEARLY THE TEST BOOKLET SERIES A, B, C OR D AS THE CASE MAY BE IN THE APPROPRIATE PLACE IN THE ANSWER SHEET.
3. You have to enter your Roll Number on the Test Booklet in the Box provided alongside. **DO NOT** write *anything else* on the Test Booklet.
4. This Test Booklet contains 120 items (questions). Each item is printed both in **Hindi** and **English**. Each item comprises four responses (answers). You will select the response which you want to mark on the Answer Sheet. In case you feel that there is more than one correct response, mark the response which you consider the best. In any case, choose **ONLY ONE** response for each item.
5. You have to mark all your responses **ONLY** on the separate Answer Sheet provided. See directions in the Answer Sheet.
6. All items carry equal marks.
7. Before you proceed to mark in the Answer Sheet the response to various items in the Test Booklet, you have to fill in some particulars in the Answer Sheet as per instructions sent to you with your Admission Certificate.
8. After you have completed filling in all your responses on the Answer Sheet and the examination has concluded, you should hand over to the Invigilator **only the Answer Sheet**. You are permitted to take away with you the Test Booklet.
9. Sheets for rough work are appended in the Test Booklet at the end.
10. **Penalty for wrong answers :**  
THERE WILL BE PENALTY FOR WRONG ANSWERS MARKED BY A CANDIDATE IN THE OBJECTIVE TYPE QUESTION PAPERS.
  - (i) There are four alternatives for the answer to every question. For each question for which a wrong answer has been given by the candidate, **one-third (0.33)** of the marks assigned to that question will be deducted as penalty.
  - (ii) If a candidate gives more than one answer, it will be treated as a **wrong answer** even if one of the given answers happens to be correct and there will be same penalty as above to that question.
  - (iii) If a question is left blank, i.e., no answer is given by the candidate, there will be **no penalty** for that question.

**DO NOT OPEN THIS TEST BOOKLET UNTIL YOU ARE ASKED TO DO SO**

**ध्यान दें : अनुदेशों का हिन्दी रूपान्तर इस पुस्तिका के पिछले पृष्ठ पर छापा है ।**

1. The Production function for a commodity is given by  $Q = 10 \sqrt{LK}$ , where  $Q$  is the quantity of Output,  $L$  is the quantity of Labour and  $K$  is the quantity of Capital. Given the above information, which one of the following is the nature of return to scale throughout the function ?

- (a) Constant return to scale
- (b) Decreasing return to scale only
- (c) Increasing return to scale only
- (d) Both decreasing and increasing return to scale

2. Elasticity of substitution in the case of linear-homogeneous production function equals to

- (a) unity
- (b) more than unity
- (c) less than unity
- (d) zero

3. Which of the following are the components of foreign capital ?

- 1. Grants and loans
- 2. External commercial borrowings
- 3. Foreign direct investment
- 4. Deposits from non-residents

Select the correct answer using the code given below :

- (a) 1, 2, 3 and 4
- (b) 1, 2 and 4 only
- (c) 1 and 2 only
- (d) 3 and 4 only

4. Consider the following statements :

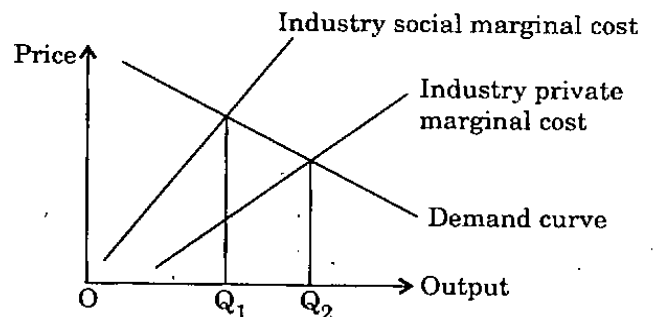
The kinked demand curve analysis helps to explain price inflexibility (rigidity) because it implies that an oligopolist would

- 1. gain few additional customers from a price reduction since the firm's competitors would also reduce price.
- 2. lose many of its customers if it raised its prices since rivals would not follow suit.
- 3. often find that  $MR = MC$  at the same output level even after costs had increased.

Which of the statements given above is/are correct ?

- (a) 1 only
- (b) 1 and 2 only
- (c) 2 and 3 only
- (d) 1, 2 and 3

5. Consider the following diagram :



The policies which will bring a Pareto optimal position may be

- 1. a corrective tax on the industry.
- 2. a production quota by the government.
- 3. a subsidy to the industry.

Which of the above is/are correct ?

- (a) 1 only
- (b) 1 and 2 only
- (c) 1, 2 and 3
- (d) 2 and 3 only.

1. एक वस्तु का उत्पादन फलन दिया है  $Q = 10 \sqrt{LK}$ , जहाँ  $Q$  उत्पाद की मात्रा है,  $L$  श्रम की मात्रा है और  $K$  पूँजी की मात्रा है। उपर्युक्त दी गई सूचना के आधार पर निम्नलिखित में से कौनसा एक, पैमाने का प्रतिफल का स्वरूप पूरे फलन में है ?

- समानुपातिक पैमाने का प्रतिफल
- केवल हासमान पैमाने का प्रतिफल
- केवल वर्धमान पैमाने का प्रतिफल
- दोनों हासमान व वर्धमान पैमाने का प्रतिफल

2. स्थानापत्ति लोच रैखिक-सजातीय उत्पादन फलन की स्थिति में

- इकाई होगी
- इकाई से अधिक होगी
- इकाई से कम होगी
- शून्य होगी

3. निम्नलिखित में से कौनसे विदेशी पूँजी के घटक हैं ?

- अनुदान और ऋण
- विदेशी वाणिज्यिक उधार
- विदेशी प्रत्यक्ष निवेश
- अनिवासियों से जमाएँ (डिपोजिट्स)

नीचे दिए गए कूट का प्रयोग कर सही उत्तर चुनिए :

- 1, 2, 3 और 4
- केवल 1, 2 और 4
- केवल 1 और 2
- केवल 3 और 4

4. निम्नलिखित कथनों पर विचार कीजिए :

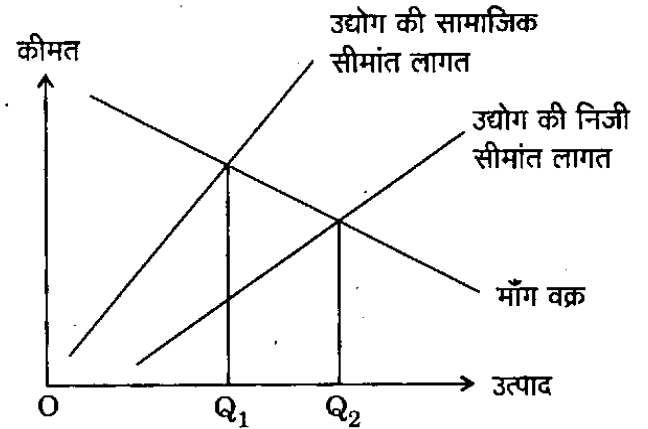
किंकड़ माँग वक्र विश्लेषण कीमत अलोचशीलता की व्याख्या करने में सहायक है क्योंकि इसका आशय यह है कि अल्पाधिकारी

- द्वारा कीमत घटाने से उसे कुछ अतिरिक्त ग्राहक मिलेंगे क्योंकि फर्म के प्रतियोगी भी कीमत घटाएँगे।
- अनेक ग्राहकों को खो देगा यदि कीमत बढ़ाता है, क्योंकि प्रतिद्वंद्वी अनुकरण नहीं करेंगे।
- लागत बढ़ जाने पर भी समान उत्पाद स्तर पर प्रायः  $MR = MC$  प्राप्त करेगा।

उपर्युक्त कथनों में से कौन सा/से सही है/हैं ?

- केवल 1
- केवल 1 और 2
- केवल 2 और 3
- 1, 2 और 3

5. निम्नलिखित रेखाचित्र पर विचार कीजिए :



नीतियाँ जो परेटो इष्टतम् स्थिति लाएँगी, हो सकती हैं

- उद्योग पर सुधारक कर।
- सरकार द्वारा उत्पादन कोटा।
- उद्योग को उपदान।

उपर्युक्त में से कौन सा/से सही है/हैं ?

- केवल 1
- केवल 1 और 2
- 1, 2 और 3
- केवल 2 और 3

6. Under which one of the following conditions, does product exhaustion theorem hold ?
- Increasing return to scale
  - Decreasing return to scale
  - Constant return to scale
  - Constant return to factors of production
7. Public goods are characterized by
- Collective consumption
  - Divisibility
  - Non-exclusion
  - Rival-consumption
- Select the correct answer using the code given below :
- 1 and 2
  - 1 and 3
  - 1 and 4
  - 2 and 4
8. Suppose the market demand function of a perfect competitive industry is given by  $Q_d = 4,750 - 50 P$  and market supply function is given by  $Q_s = 1,750 + 50 P$ . Price is expressed in rupees. Which one of the following is equal to the market equilibrium price ?
- Rs. 30
  - Rs. 20
  - Rs. 25
  - Rs. 26
9. Market failure occurs because of
- Externality
  - Asymmetric information
  - Perfect competition
- Select the correct answer using the code given below :
- 1, 2 and 3
  - 1 only
  - 1 and 2 only
  - 2 and 3 only
10. Given the total cost as  $C$ , the price of labour ( $L$ ) as  $P_L$ , price of capital ( $K$ ) as  $P_k$ ; from which one of the following functions, can an iso-cost curve be drawn ?
- $K = C/P_k + (C/P_L)L$
  - $C = C/P_L + (C/P_k)$
  - $C = K \cdot P_k + L \cdot P_L$
  - $L = C/P_k - (C/P_L)K$
11. In national income accounting, which one of the following is the difference between gross aggregates and net aggregates ?
- The value of net indirect taxes
  - The value of consumption of fixed capital
  - The value of intermediate consumption
  - The value of final consumption expenditure
12. Consider the following statements relating to gross investment in the national income accounts :
- It includes the items relating to residential and non-residential construction.
  - It takes care of spending on producers' durable goods.
  - It includes changes in business inventories.
- Which of the statements given above are correct ?
- 1 and 2 only
  - 2 and 3 only
  - 1 and 3 only
  - 1, 2 and 3

6. निम्नलिखित दशाओं में से किस एक दशा में उत्पाद निःशेषण प्रमेय लागू होता है ?

- वर्धमान पैमाने का प्रतिफल
- हासमान पैमाने का प्रतिफल
- समानुपातिक पैमाने का प्रतिफल
- उत्पादक के कारकों का समानुपातिक प्रतिफल

7. सार्वजनिक वस्तुओं की निम्नलिखित में से कौन-कौनसी विशेषताएँ हैं ?

- सामूहिक उपभोग
- विभाज्यता
- अनपवर्जन
- प्रतिद्वंद्वी-उपभोग

नीचे दिए गए कूट का प्रयोग कर सही उत्तर चुनिए :

- 1 और 2
- 1 और 3
- 1 और 4
- 2 और 4

8. एक पूर्ण प्रतियोगी उद्योग में माना कि बाजार माँग फलन  $Q_d = 4,750 - 50P$  तथा बाजार पूर्ति फलन  $Q_s = 1,750 + 50P$  दिया हुआ है। कीमत रूप्यों में दिखाई गई है। निम्नलिखित में से कौनसा एक, बाजार संतुलन कीमत के बराबर है ?

- 30 रु.
- 20 रु.
- 25 रु.
- 26 रु.

9. निम्नलिखित में से किन्के कारण बाजार असफल होता है ?

- बाह्यता
- असममित सूचना
- पूर्ण प्रतियोगिता

नीचे दिए गए कूट का प्रयोग कर सही उत्तर चुनिए :

- 1, 2 और 3
- केवल 1
- केवल 1 और 2
- केवल 2 और 3

10. कुल लागत  $C$  है, श्रम ( $L$ ) की कीमत  $P_L$  है, पूँजी ( $K$ ) की कीमत  $P_k$  है; निम्नलिखित फलनों में से किस एक द्वारा समान-लागत वक्र खींचा जा सकता है ?

- $K = C/P_k + (C/P_L)L$
- $C = C/P_L + (C/P_k)L$
- $C = K \cdot P_k + L \cdot P_L$
- $L = C/P_k - (C/P_L)K$

11. राष्ट्रीय आय लेखाकरण में निम्नलिखित में से कौनसा एक, सकल (ग्रॉस) योग व शुद्ध (नेट) योग के बीच अंतर को बताता है ?

- शुद्ध अप्रत्यक्ष करों का मूल्य
- स्थायी पूँजी के उपभोग का मूल्य
- मध्यवर्ती उपभोग का मूल्य
- अंतिम उपभोग व्यय का मूल्य

12. राष्ट्रीय आय लेखा में सकल विनियोजन से सम्बन्धित निम्नलिखित कथनों पर विचार कीजिए :

- यह आवासीय तथा गैर-आवासीय निर्माण से जुड़ी मदों को सम्मिलित करता है।
- यह उत्पादकों द्वारा टिकाऊ वस्तुओं पर किए गए व्यय को ध्यान में रखता है।
- यह व्यावसायिक इन्वेन्ट्री में आए परिवर्तनों को सम्मिलित करता है।

उपर्युक्त कथनों में से कौनसे सही हैं ?

- केवल 1 और 2
- केवल 2 और 3
- केवल 1 और 3
- 1, 2 और 3

13. Which one of the following is the difference between value at market prices and value at factor cost for a national income aggregate ?

- (a) Value of consumption of fixed capital
- (b) Value of indirect taxes net of subsidies
- (c) Value of net factor income earned abroad
- (d) Value of subsidies net of indirect taxes

14. Given  $C = 120 + 0.4 Y$ ,  $I = 100$ ,  $G = 56$  (where  $C =$  Consumption,  $I =$  Investment,  $G =$  Government Expenditure and  $Y =$  Income); which one of the following is the value of equilibrium income ?

- (a) 366.67
- (b) 460.00
- (c) 310.00
- (d) 266.67

15. Which one of the following is shown by the Phillips Curve ?

- (a) Inverse relationship between real and nominal wages
- (b) Inverse relationship between the rate of inflation and rate of unemployment
- (c) Positive relationship between nominal wages and the rate of employment
- (d) Positive relationship between rate of inflation and nominal wages

16. Consider the following LM and IS functions :

$$LM : Y = 75 + 10i$$

$$IS : Y = 135 - 20i$$

Which of the following are the equilibrium income and interest rate respectively ?

- (a) 90 and 2
- (b) 95 and 2
- (c) 100 and 3
- (d) 110 and 3

17. Consider the following statements :

1. Pigou held the view that employment depends upon money wages and could be substantially increased by curtailing wages.
2. Keynes held the view that employment depends upon the level of effective demand which can be increased by leaving money wages intact.

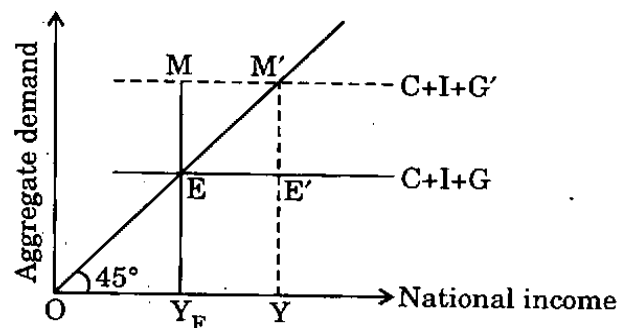
Which of the statements given above is/are correct ?

- (a) 1 only
- (b) 2 only
- (c) Both 1 and 2
- (d) Neither 1 nor 2

18. Which one of the following is related to the theory that supply creates its own demand and therefore full employment is a natural situation ?

- (a) Say's Law
- (b) Pigou's Law of employment
- (c) Giffen Paradox
- (d) Keynesian Theory of employment

19.



In the diagram given above, point E denotes the full employment equilibrium corresponding to the aggregate demand function  $C+I+G$ . The aggregate demand function shifts to  $C+I+G'$ . Which one of the following is represented by EM (Dropping the assumption of constant general price level) ?

- (a) The inflationary gap
- (b) The deflationary gap
- (c) The liquidity trap
- (d) Saving and investment gap

13. निम्नलिखित में से कौनसा एक कुल राष्ट्रीय आय की, बाजार कीमत पर मूल्य एवं उपादान लागत पर मूल्य के अन्तर को बतलाता है ?

- स्थाई पूँजी के उपभोग का मूल्य
- अप्रत्यक्ष करों में से उपादान को निकाल कर प्राप्त शुद्ध मूल्य
- विदेशों से अर्जित शुद्ध उपादान आय का मूल्य
- उपादान में से अप्रत्यक्ष करों को निकाल कर प्राप्त शुद्ध मूल्य

14. दिया है  $C = 120 + 0.4 Y$ ,  $I = 100$ ,  $G = 56$  (जहाँ  $C =$  उपभोग,  $I =$  विनियोजन,  $G =$  सरकारी व्यय और  $Y =$  आय); निम्नलिखित में से कौनसा एक, संतुलन आय का मूल्य है ?

- 366.67
- 460.00
- 310.00
- 266.67

15. निम्नलिखित में से किस एक को फिलिप्स वक्र के द्वारा दिखाया जाता है ?

- वास्तविक और नकदी मजदूरी के बीच प्रतिलोम सम्बन्ध
- मुद्रास्फीति की दर तथा बेरोजगारी की दर के बीच प्रतिलोम सम्बन्ध
- नकदी मजदूरी तथा रोजगार की दर के बीच सकारात्मक सम्बन्ध
- मुद्रास्फीति की दर तथा नकदी मजदूरी के बीच सकारात्मक सम्बन्ध

16. निम्नलिखित LM और IS फलनों पर विचार कीजिए :

$$LM : Y = 75 + 10i$$

$$IS : Y = 135 - 20i$$

निम्नलिखित में से कौन क्रमशः संतुलन आय और ब्याज दर को बतलाता है ?

- 90 और 2
- 95 और 2
- 100 और 3
- 110 और 3

17. निम्नलिखित कथनों पर विचार कीजिए :

- पिगू का यह विचार है कि रोजगार मौद्रिक मजदूरी पर निर्भर करता है और इसे मजदूरी कम करके पर्याप्त रूप से बढ़ाया जा सकता है ।
- केन्स का यह विचार है कि रोजगार प्रभावी माँग के स्तर पर निर्भर करता है जिसे मौद्रिक मजदूरी को बदले बिना बढ़ाया जा सकता है ।

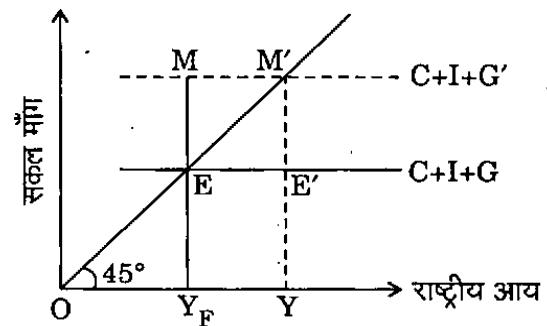
उपर्युक्त में से कौन सा/से कथन सही है/हैं ?

- केवल 1
- केवल 2
- 1 और 2 दोनों
- न तो 1 और न ही 2

18. निम्नलिखित में से कौनसा एक, इस सिद्धांत से सम्बन्धित है कि पूर्ति अपनी माँग स्वयं पैदा करती है अतएव पूर्ण रोजगार एक प्राकृतिक स्थिति है ?

- से का नियम
- पिगू का रोजगार का नियम
- गिफिन विरोधाभास
- केन्स का रोजगार का सिद्धांत

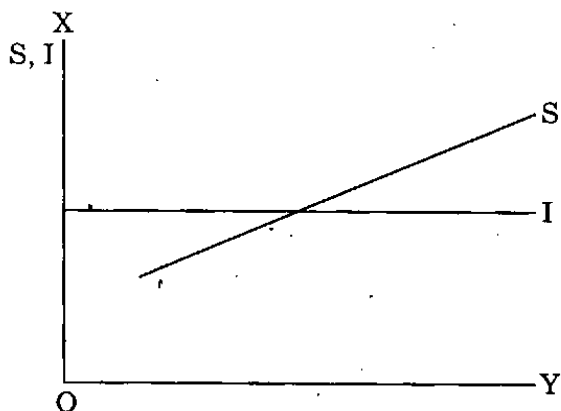
19.



ऊपर दिखाए गए रेखाचित्र में, E बिन्दु पूर्ण रोजगार संतुलन को दिखाता है जहाँ सकल माँग फलन  $C+I+G$  है । सकल माँग फलन बढ़कर  $C+I+G'$  हो जाता है । निम्नलिखित में से किस स्थिति को EM द्वारा निरूपित किया गया है (स्थिर सामान्य कीमत स्तर की पूर्वधारणा को छोड़कर) ?

- स्फीति अन्तराल
- अवस्फीति अन्तराल
- तरलता जाल
- बचत व विनियोजन अन्तराल

20.



In the context of the diagram given above, which one of the following statements is correct ?

- (a) Both saving and investment are autonomous.
- (b) Saving is autonomous but investment is dependent on income.
- (c) Saving is dependent on income but investment is autonomous.
- (d) Both saving and investment are dependent on income.
21. The life cycle hypothesis of consumption implies that consumption is related to
- (a) price expectation over one's life time
- (b) permanent income
- (c) transitory income
- (d) expected life time income
22. According to Keynes, which one of the following is meant by liquidity preference ?
- (a) Refraining from saving
- (b) Desire to hold cash
- (c) A preference to hold assets like bonds and securities which are liquid
- (d) Increasing savings in terms of precious metals

23. Under loanable funds theory of interest, which of the following are included in the supply of loanable funds ?

1. Current savings
2. Funds released from embodiment in working capital
3. Bank loans

Select the correct answer using the code given below :

- (a) 1 and 2 only
- (b) 2 and 3 only
- (c) 1 and 3 only
- (d) 1, 2 and 3

24. Which one of the following is represented by the intersection of the IS curve and the LM curve ?

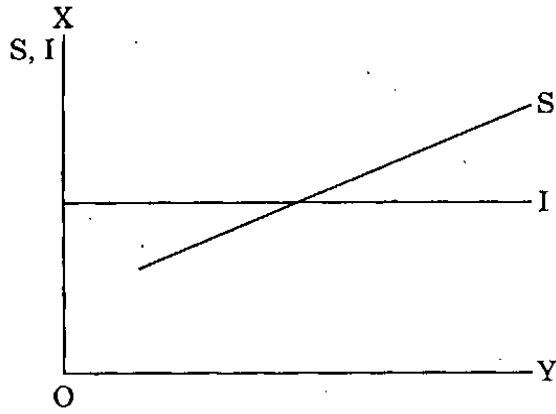
- (a) Only a flow equilibrium
- (b) Only a stock equilibrium
- (c) A stock-cum-flow equilibrium
- (d) Moving away from equilibrium

25. Which one of the following situations occurs during the period when borrowers and lenders expect inflation ?

- (a) The nominal rate of interest exceeds real rate of interest
- (b) The real rate of interest exceeds the nominal rate of interest
- (c) The nominal rate of interest equals the real rate of interest
- (d) Nominal and real rates of interest become zero



20.



ऊपर दिखाए गए रेखाचित्र के संदर्भ में, निम्नलिखित कथनों में से कौनसा कथन सही है ?

- बचत एवं विनियोजन दोनों स्वायत्त हैं ।
- बचत स्वायत्त है किन्तु विनियोजन आय पर निर्भर है ।
- बचत आय पर निर्भर है किन्तु विनियोजन स्वायत्त है ।
- बचत व विनियोजन दोनों ही आय पर निर्भर हैं ।

21. उपभोग की आयु चक्र परिकल्पना यह बतलाती है कि उपभोग

- स्वयं के जीवन काल में कीमत प्रत्याशा से सम्बन्धित है
- स्थायी आय से सम्बन्धित है
- अस्थायी आय से सम्बन्धित है
- प्रत्याशित आयु काल आय से सम्बन्धित है

22. केन्स के अनुसार, निम्नलिखित में से कौनसा एक तरलता अधिमान का अर्थ है ?

- बचतों को न होने देना
- नकदी को अपने पास रखने की इच्छा
- परिसम्पत्तियाँ, जैसे बॉन्ड और प्रतिभूतियों को, जो कि तरल हैं, अपने पास रखने का अधिमान
- बहुमूल्य धातुओं के रूप में बचतों में वृद्धि

23.

ब्याज के ऋणयोग्य निधि सिद्धांत के अन्तर्गत, ऋणयोग्य निधि की पूर्ति में निम्नलिखित में से क्या-क्या शामिल हैं ?

- सामयिक बचतें
- कार्यशील पूँजी निकाय से निर्मुक्त निधियाँ
- बैंक ऋण

नीचे दिए गए कूट का प्रयोग कर सही उत्तर चुनिए :

- केवल 1 और 2
- केवल 2 और 3
- केवल 1 और 3
- 1, 2 और 3

24. निम्नलिखित में से कौनसा एक, IS वक्र और LM वक्र के प्रतिच्छेद से निरूपित होता है ?

- केवल एक प्रवाह संतुलन
- केवल एक स्टॉक संतुलन
- एक स्टॉक-सह-प्रवाह संतुलन
- संतुलन से दूर हटना

25.

निम्नलिखित में से कौनसी एक स्थिति उस अवधि के दौरान होती है जब उधार-ग्रहीता और उधारदाता मुद्रास्फीति की अपेक्षा करते हैं ?

- मौद्रिक ब्याज दर वास्तविक ब्याज दर से बढ़ जाती है
- वास्तविक ब्याज दर मौद्रिक ब्याज दर से बढ़ जाती है
- मौद्रिक ब्याज दर वास्तविक ब्याज दर के बराबर हो जाती है
- मौद्रिक एवं वास्तविक ब्याज दरें शून्य हो जाती हैं

26. With whom, among the following, is the theory that the rate of interest is also a factor for transaction demand for money, associated ?
- Baumol and Tobin
  - Pigou
  - Keynes
  - Samuelson
27. According to Friedman, on which of the following does the velocity of circulation of money depend ?
- Market interest rate on bonds
  - Rate of change in general price level
  - Ratio of physical non-human wealth to human wealth
  - Ratio of savings to investment
- Select the correct answer using the code given below :
- 1 and 3 only
  - 1, 2 and 4
  - 1, 2 and 3
  - 4 only
28. Consider the following statements :
- Lower the currency-deposit ratio, higher the money multiplier.
  - Lower the reserve-deposit ratio, higher the money multiplier.
  - Larger the monetary base, higher is the money supply.
  - Larger the monetary base, lower is the money supply.
- Which of the statements given above are correct ?
- 1 and 3 only
  - 1, 2 and 4
  - 1, 2 and 3
  - 2 and 4 only
29. In the standard Keynesian IS-LM model, a decrease in minimum cash reserve ratio will
- create demand-pull inflation in full-employment
  - create cost-push inflation in full-employment
  - create mark-up inflation in full-employment
  - create demand-pull inflation if there is unemployment
30. Which one of the following is a capital receipt in government budget ?
- Interest receipts on loans given by the Government to other parties
  - Dividends and profits from public sector undertakings
  - Borrowing of the Government from public
  - Property tax receipts
31. Which one of the following is *not* a tax sacrifice principle ?
- Equal absolute sacrifice
  - Equal proportional sacrifice
  - Equal marginal sacrifice
  - Equal average sacrifice
32. Which of the following are the characteristics of progressive tax ?
- Marginal tax rate should be increasing.
  - Marginal tax rates should be more than average tax rate.
  - Gini coefficient for the post-tax distribution of income should be less than that of pre-tax distribution.
  - Tax amount should be lump sum in nature.
- Select the correct answer using the code given below :
- 1, 2, 3 and 4
  - 1, 2 and 3 only
  - 1 and 4 only
  - 2 and 3 only

26. निम्नलिखित में से किससे यह सिद्धांत सम्बन्धित है जो यह बतलाता है कि ब्याज की दर मुद्रा के लेन-देन माँग का भी एक कारक है ?
- बाउमोल और टोबिन
  - पिगू
  - केन्स
  - सैमुअलसन
27. फ्रीडमैन के अनुसार, निम्नलिखित में से किस/किन पर मुद्रा का संचलन-वेग निर्भर करता है ?
- बॉन्डों पर बाजार ब्याज दर
  - सामान्य कीमत स्तर में परिवर्तन की दर
  - भौतिक और-मानव सम्पत्ति और मानव सम्पत्ति के बीच का अनुपात
  - बचत और विनियोजन के बीच का अनुपात
- नीचे दिए गए कूट का प्रयोग कर सही उत्तर चुनिए :
- केवल 1 और 3
  - 1, 2 और 4
  - 1, 2 और 3
  - केवल 4
28. निम्नलिखित कथनों पर विचार कीजिए :
- मुद्रा-जमा अनुपात जितना निम्न होगा, मुद्रा गुणक उतना उच्च होगा ।
  - आरक्षित निधि-जमा अनुपात जितना निम्न होगा, मुद्रा गुणक उतना उच्च होगा ।
  - मौद्रिक आधार जितना व्यापक होगा, मुद्रा पूर्ति उतनी उच्च होगी ।
  - मौद्रिक आधार जितना व्यापक होगा, मुद्रा पूर्ति उतनी निम्न होगी ।
- नीचे दिए गए कूट का प्रयोग कर सही उत्तर चुनिए :
- केवल 1 और 3
  - 1, 2 और 4
  - 1, 2 और 3
  - केवल 2 और 4
29. केन्स के मानक IS-LM मॉडल में, न्यूनतम नकदी आरक्षित निधि अनुपात में कमी
- पूर्ण-रोजगार में माँगजन्य स्फीति पैदा करेगा
  - पूर्ण-रोजगार में लागतजन्य स्फीति पैदा करेगा
  - पूर्ण-रोजगार में वर्धित कीमत स्फीति पैदा करेगा
  - यदि बेरोजगारी है तो माँगजन्य स्फीति पैदा करेगा
30. निम्नलिखित में से कौनसी एक, सरकारी बजट में पूँजीगत प्राप्ति है ?
- सरकार द्वारा अन्य पक्षों को दिए गए ऋणों पर ब्याज प्राप्तियाँ
  - सार्वजनिक क्षेत्र के उपक्रमों से प्राप्त लाभांश एवं लाभ
  - सरकार द्वारा जनता से लिए गए उधार
  - सम्पत्ति कर प्राप्तियाँ
31. निम्नलिखित में से कौनसा एक, कर त्याग सिद्धांत नहीं है ?
- समान पूर्ण त्याग
  - समान आनुपातिक त्याग
  - समान सीमांत त्याग
  - समान औसत त्याग
32. निम्नलिखित में से कौन-कौनसी प्रगामी कर की विशेषताएँ हैं ?
- सीमांत कर दर बढ़नी चाहिए ।
  - सीमांत कर दरें औसत कर दर से अधिक होनी चाहिए ।
  - कर लगने के पश्चात् आय के वितरण का गिनी गुणांक कर लगने के पहले के आय के वितरण के गिनी गुणांक से कम होना चाहिए ।
  - कर की मात्रा की प्रकृति एकमुश्त होनी चाहिए ।
- नीचे दिए गए कूट का प्रयोग कर सही उत्तर चुनिए :
- 1, 2, 3 और 4
  - केवल 1, 2 और 3
  - केवल 1 और 4
  - केवल 2 और 3

33. Consider the following statements :
- In competitive markets, incidence of tax
1. is shared by buyers and sellers.
  2. on buyers increases if elasticity of supply increases.
  3. is fully borne by buyers if elasticity of demand is zero.
  4. is independent of elasticities.

Which of the statements given above are correct ?

- (a) 1 and 2 only
  - (b) 1, 2 and 3
  - (c) 3 and 4 only
  - (d) 2 and 4 only
34. Which one of the following taxes/cess is levied by States in India ?
- (a) Tax on motor vehicles
  - (b) Tax on hotels
  - (c) Educational cess
  - (d) Tax on wealth
35. The Lorenz Curve shows the relationship between
- (a) asset creation and income generation
  - (b) population groups and their respective income shares
  - (c) unemployment and inflation
  - (d) wage, labour hours and leisure

36. The currency notes in circulation as well as the proportion of the total money supply held in the form of currency are influenced by which of the following ?

1. The physical volume of trade and transactions.
2. The level of prices in the economy.
3. The development of banks and banking habits of the people.

Select the correct answer using the code given below :

- (a) 1 only
- (b) 2 only
- (c) 1, 2 and 3
- (d) 1 and 3 only

37. Which of the following are the characteristics of the 'Traditional Society' in Rostow's Stage theory ?

1. Limited production function
2. No government intervention
3. Pre-Newtonian science and technology
4. Dominance of agricultural activity

Select the correct answer using the code given below :

- (a) 1, 2 and 4
- (b) 1, 2 and 3
- (c) 1, 3 and 4
- (d) 2, 3 and 4

38. Capital Deepening refers to which one of the following ?

- (a) Going for more fixed capital
- (b) Emphasis on social overhead capital
- (c) A constant capital-output ratio
- (d) An increasing capital-output ratio

33. निम्नलिखित कथनों पर विचार कीजिए :

प्रतियोगी बाजारों में करापात

1. क्रेताओं एवं विक्रेताओं के मध्य बँटता है ।
2. यदि पूर्ति की लोच बढ़ती है तो क्रेताओं पर बढ़ता है ।
3. यदि माँग की लोच शून्य है तो पूरी तरह क्रेताओं द्वारा वहन किया जाता है ।
4. लोच से स्वतंत्र होता है ।

उपर्युक्त कथनों में से कौनसे सही हैं ?

- (a) केवल 1 और 2
- (b) 1, 2 और 3
- (c) केवल 3 और 4
- (d) केवल 2 और 4

34. निम्नलिखित में से कौनसा एक कर/उपकर भारत में राज्यों द्वारा लगाया जाता है ?

- (a) मोटर वाहनों पर कर
- (b) होटलों के ऊपर कर
- (c) शिक्षा उपकर
- (d) सम्पत्ति पर कर

35. लॉरेन्ज वक्र किनके बीच सम्बन्ध दिखाता है ?

- (a) परिसम्पत्ति निर्माण एवं आय जनन
- (b) जनसंख्या समूह और उनके संगत आय अंश
- (c) बेरोजगारी एवं मुद्रास्फीति
- (d) मजदूरी, श्रम घंटे और अवकाश

36. परिचलन में करेन्सी नोट और साथ ही मुद्रा के रूप में धारित कुल मुद्रा पूर्ति का अनुपात, निम्नलिखित में से किससे/किनसे प्रभावित होते हैं ?

1. व्यापार और लेन-देन का वास्तवी परिमाण ।
  2. अर्थव्यवस्था में कीमतों का स्तर ।
  3. बैंकों का और लोगों की बैंकिंग अभ्यस्तता का विकास ।
- नीचे दिए गए कूट का प्रयोग कर सही उत्तर चुनिए :

- (a) केवल 1
- (b) केवल 2
- (c) 1, 2 और 3
- (d) केवल 1 और 3

37. रोस्टोव के अवस्था सिद्धांत में 'परम्परागत समाज' की विशेषताएँ निम्नलिखित में से कौन-कौनसी हैं ?

1. सीमित उत्पादन फलन
2. सरकारी हस्तक्षेप का न होना
3. न्यूटन से पहले का विज्ञान और प्रौद्योगिकी
4. कृषि गतिविधि की प्रधानता

नीचे दिए गए कूट का प्रयोग कर सही उत्तर चुनिए :

- (a) 1, 2 और 4
- (b) 1, 2 और 3
- (c) 1, 3 और 4
- (d) 2, 3 और 4

38. पूँजी सघनीकरण निम्नलिखित में से किस एक को निर्दिष्ट करता है ?

- (a) अधिक स्थायी पूँजी के लिए प्रयास करना
- (b) सामाजिक बंधी पूँजी पर बल देना
- (c) एक स्थिर पूँजी-उत्पाद अनुपात
- (d) एक वर्धमान पूँजी-उत्पाद अनुपात

39. Which of the following initiatives is/are identified by the 11<sup>th</sup> Five Year Plan for accelerating the National e-governance programme ?

1. Making digital signatures mandatory for e-commerce, e-government, and e-banking initiatives.
2. Promoting technologies such as wireless fidelity (WiFi) for providing the last mile connectivity to the places where copper wiring is not possible.

Select the correct answer using the code given below :

- (a) 1 only
- (b) 2 only
- (c) Both 1 and 2
- (d) Neither 1 nor 2

40. Disguised underemployment refers to the situation when

- (a) people seem occupied on a full time basis even though the services they render require less than full time
- (b) workers are underpaid despite doing full time job
- (c) there is a co-existence of unemployment and inflation
- (d) the economy experiences underemployment equilibrium

41. Which one of the following is explained by Fei-Ranis model ?

- (a) The inter-relationship between the agricultural and the industrial sectors
- (b) Planning methods when labour is in short supply
- (c) Growth process of the industrial sector
- (d) A neo-classical framework of growth analysis

42. Consider the following statements :

1. The Solow model explains a capital/labour ratio which does *not* grow under equilibrium conditions.
2. Substituting capital for labour is possible in the Solow model.

Which of the statements given above is/are correct ?

- (a) 1 only
- (b) 2 only
- (c) Both 1 and 2
- (d) Neither 1 nor 2

43. Consider the following statements :

1. Dualism refers to the existence and persistence of increasing divergences between rich and poor nations and rich and poor people at various levels.
2. Dualism is the political division of the society into two broad groups of the rightists and the leftists in modern democracy.

Which of the statements given above is/are correct ?

- (a) 1 only
- (b) 2 only
- (c) Both 1 and 2
- (d) Neither 1 nor 2

44. Consider the following statements :

1. Countries with high per capita income do have high physical quality of life index (PQLI).
2. Countries with high PQLI need not necessarily have high per capita income.

Which of the statements given above is/are correct ?

- (a) 1 only
- (b) 2 only
- (c) Both 1 and 2
- (d) Neither 1 nor 2

39. 11वीं पंचवर्षीय योजना द्वारा राष्ट्रीय ई-गवर्नेंस कार्यक्रम में गति लाने के लिए निम्नलिखित में से किस/किन पहल/पहलों को पहचाना गया है ?

1. ई-कॉमर्स, ई-गवर्नमेंट और ई-बैंकिंग पहलों के लिए अंकीय हस्ताक्षरों (डिजिटल सिग्नेचर्स) को आदेशात्मक बनाना ।
2. जिन स्थानों में तौबे के तार लगाना संभव नहीं है वहाँ अंतिम मील तक बेतार तद् रूपता (वायरलेस फिडेलिटी - वाइफाइ) जैसी प्रौद्योगिकियों का संवर्धन करना ।

नीचे दिए गए कूट का प्रयोग कर सही उत्तर चुनिए :

- (a) केवल 1
- (b) केवल 2
- (c) 1 और 2 दोनों
- (d) न तो 1 और न ही 2

40. प्रच्छन्न अल्परोजगार उस परिस्थिति को निर्दिष्ट करता है जब

- (a) लोग पूर्ण कालिक आधार पर व्यवसाय करते हुए लगते हैं जबकि उनके द्वारा दी जाने वाली सेवाओं के लिए पूर्ण काल से कम समय अवधि आवश्यक है
- (b) श्रमिक अववैतनिक हैं जबकि वे पूर्ण कालिक कार्य कर रहे हैं
- (c) बेरोजगारी और मुद्रास्फीति का सहअस्तित्व है
- (d) अर्थव्यवस्था अल्परोजगार संतुलन का अनुभव करती है

41. फाइ-रानिस मॉडल निम्नलिखित में से किस एक की व्याख्या करता है ?

- (a) कृषि और औद्योगिक सेक्टर के बीच परस्पर सम्बन्ध
- (b) योजना पद्धतियाँ जब श्रम पूर्ति अल्प हो
- (c) औद्योगिक सेक्टर की संवृद्धि प्रक्रिया
- (d) संवृद्धि विश्लेषण का नव-क्लासिकी ढाँचा

42. निम्नलिखित कथनों पर विचार कीजिए :

1. सोलो मॉडल एक पूँजी/श्रम अनुपात की व्याख्या करता है जिसकी वृद्धि संतुलन की दशाओं में नहीं होती ।
2. सोलो मॉडल में पूँजी का श्रम के स्थान पर प्रतिस्थापन संभव है ।

उपर्युक्त कथनों में से कौन सा/से सही है/हैं ?

- (a) केवल 1
- (b) केवल 2
- (c) 1 और 2 दोनों
- (d) न तो 1 और न ही 2

43. निम्नलिखित कथनों पर विचार कीजिए :

1. द्वैतवाद विभिन्न स्तरों के अमीर एवं गरीब देशों और अमीर एवं गरीब लोगों के बीच वर्धमान अपसरण के अस्तित्व तथा सातत्य को निर्दिष्ट करता है ।
2. द्वैतवाद आधुनिक गणतंत्र में समाज का, दक्षिणपंथी एवं वामपंथी दो व्यापक समूहों में, राजनीतिक विभाजन है ।

उपर्युक्त में से कौन सा/से कथन सही है/हैं ?

- (a) केवल 1
- (b) केवल 2
- (c) 1 और 2 दोनों
- (d) न तो 1 और न ही 2

44. निम्नलिखित कथनों पर विचार कीजिए :

1. उच्च प्रति व्यक्ति आय वाले देशों में उच्च भौतिक जीवन गुणता सूचकांक (PQLI) होता है ।
2. उच्च भौतिक जीवन गुणता सूचकांक (PQLI) वाले देशों में यह आवश्यक नहीं है कि प्रति व्यक्ति आय भी उच्च हो ।

उपर्युक्त कथनों में से कौन सा/से सही है/हैं ?

- (a) केवल 1
- (b) केवल 2
- (c) 1 और 2 दोनों
- (d) न तो 1 और न ही 2

45. Consider the following :
- A good index number is one which satisfies
1. Unit test.
  2. Time-reversal test.
  3. Factor-reversal test.
- Which of the statements given above is/are correct ?
- (a) 1 only
  - (b) 2 only
  - (c) 2 and 3 only
  - (d) 1, 2 and 3
46. If personal income is Rs. 57,000; personal income tax is Rs. 9,000; consumption Rs. 43,000; interest payment Rs. 10,000; personal saving Rs. 40,000; then the disposable personal income would be equal to
- (a) Rs. 50,000
  - (b) Rs. 47,000
  - (c) Rs. 48,000
  - (d) Rs. 40,000
47. A discriminating monopolist charges a
- (a) higher price in the sub-market where price elasticity of demand is high
  - (b) higher price in the sub-market where price elasticity of demand is low
  - (c) lower price in the sub-market where price elasticity of demand is low
  - (d) higher price in the sub-market where demand is low
48. According to Life Cycle Hypothesis, consumption is related to which one of the following ?
- (a) Current income
  - (b) Past peak level income
  - (c) Life time expected income
  - (d) Price expectations over one's life time
49. The correlation coefficient is independent of
- (a) scale only
  - (b) origin only
  - (c) both scale and origin
  - (d) vertex
50. Which one of the following is referred to as lack of peakedness ?
- (a) Skewness
  - (b) Kurtosis
  - (c) Moments
  - (d) Mode
51. The inequality of income can be measured by using
- (a) Mean
  - (b) Mean deviation
  - (c) Standard deviation
  - (d) Lorenz curve
52. Which one of the following is the value of mode if mean is equal to 12 and median is equal to 14 ?
- (a) 16
  - (b) 26
  - (c) 18
  - (d) 13
53. The weighted average of price relatives, using base values as weights, is same as the
- (a) Laspeyres' quantity index
  - (b) Paasche's price index
  - (c) Laspeyres' price index
  - (d) Kelly's price index



45. निम्नलिखित पर विचार कीजिए :  
एक अच्छा सूचकांक वह है जो
1. इकाई परीक्षण को संतुष्ट करता है ।
  2. समय-विपर्यास परीक्षण को संतुष्ट करता है ।
  3. उपादान-विपर्यास परीक्षण को संतुष्ट करता है ।
- उपर्युक्त कथनों में से कौन सा/से सही है/हैं ?
- (a) केवल 1
  - (b) केवल 2
  - (c) केवल 2 और 3
  - (d) 1, 2 और 3
46. यदि व्यक्तिगत आय 57,000 रु. है; व्यक्तिगत आयकर 9,000 रु. है; उपभोग 43,000 रु. है; ब्याज भुगतान 10,000 रु. है; व्यक्तिगत बचत 40,000 रु. है; तो प्रयोज्य निजी आय क्या होगी ?
- (a) 50,000 रु.
  - (b) 47,000 रु.
  - (c) 48,000 रु.
  - (d) 40,000 रु.
47. भेदमूलक एकाधिकारी द्वारा निम्नलिखित में से कौनसा एक, प्रभारित किया जाता है ?
- (a) उप-बाजार में उच्चतर कीमत जहाँ माँग की कीमत लोच उच्च है
  - (b) उप-बाजार में उच्चतर कीमत जहाँ माँग की कीमत लोच निम्न है
  - (c) उप-बाजार में निम्नतर कीमत जहाँ माँग की कीमत लोच निम्न है
  - (d) उप-बाजार में उच्चतर कीमत जहाँ माँग निम्न है
48. जीवन चक्र परिकल्पना के अनुसार, उपभोग निम्नलिखित में से किस एक से सम्बन्धित है ?
- (a) वर्तमान आय
  - (b) विगत चरम स्तर आय
  - (c) जीवन काल प्रत्याशित आय
  - (d) अपने पूरे जीवन काल की कीमत प्रत्याशाएँ
49. सहसम्बन्ध गुणांक निम्नलिखित में से किस एक से स्वतंत्र है ?
- (a) केवल मापनी से
  - (b) केवल मूल से
  - (c) मापनी व मूल दोनों से
  - (d) शीर्ष से
50. शिखरता का अभाव निम्नलिखित में से किस एक को निर्दिष्ट करता है ?
- (a) वैषम्य
  - (b) ककुदता
  - (c) आघूर्ण
  - (d) बहुलक
51. निम्नलिखित में से किस एक का प्रयोग कर आय की असमानता का मापन किया जा सकता है ?
- (a) माध्य
  - (b) माध्य विचलन
  - (c) मानक विचलन
  - (d) लॉरेन्ज वक्र
52. निम्नलिखित में से कौनसा एक बहुलक का मान है, यदि माध्य 12 के और मीडियन 14 के बराबर है ?
- (a) 16
  - (b) 26
  - (c) 18
  - (d) 13
53. आधार मूल्यों को भार के रूप में प्रयुक्त करते हुए कीमत समानुपातों का भारित औसत निम्नलिखित में से किस एक के बराबर है ?
- (a) लासपियरे का मात्रा सूचकांक
  - (b) पाश्चे का कीमत सूचकांक
  - (c) लासपियरे का कीमत सूचकांक
  - (d) कैली का कीमत सूचकांक

54. If every item in a set of data is multiplied by a constant, which of the following measures will remain unchanged ?
- Arithmetic mean
  - Geometric mean
  - Variance
  - Coefficient of variation
55. Consider the following statements :
- In case of imperative planning, the market mechanism is entirely replaced by a command hierarchy, while in case of indicative planning, it is looked upon as a way to improve the functioning of market system.
  - In case of imperative planning, all economic activities belong to the public sector, while in case of indicative planning they belong to the private sector.
- Which of the statements given above is/are correct ?
- 1 only
  - 2 only
  - Both 1 and 2
  - Neither 1 nor 2
56. Demographic dividend refers to a rise in population
- between the age group of 1 to 14 years
  - between the age group of 15 to 64 years
  - between the age group of 65 to 74 years
  - above 74 years
57. Usual Principal Status unemployment is calculated with reference to which one of the following periods ?
- One week
  - One month
  - One year
  - Five years
58. Disguised unemployment generally exists in
- Manufacturing sector
  - Agriculture
  - Small scale industries
  - Urban societies
59. Who, among the following, were the pioneers in estimating poverty in India for rural and urban areas separately ?
- P.K. Bardhan and B.S. Minhas
  - V.M. Dandekar and N. Rath
  - M. Ahluwalia and P.D. Ojha
  - E.P.W. DaCosta and N. Rath
60. During the year 2006 - 07, which one of the following states had the lowest per capita state domestic product on current prices ?
- Uttar Pradesh
  - Assam
  - Jharkhand
  - Madhya Pradesh
61. Which one of the following statements regarding Aam Admi Bima Yojana (AABY) is *not* correct ?
- It was launched in the year 2007
  - The contribution of the Central government and State governments in the premium is in the ratio of 75 : 25
  - The scheme is applicable to rural landless households
  - It provides insurance against natural death as well as accidental death

54. यदि आंकड़ों के एक समुच्चय की प्रत्येक मद को एक स्थिरांक से गुणा किया जाए, तो निम्नलिखित में से कौनसा मापक अपरिवर्तनीय रहेगा ?
- (a) समांतर माध्य  
(b) गुणोत्तर माध्य  
(c) प्रसरण  
(d) विचरण गुणांक
55. निम्नलिखित कथनों पर विचार कीजिए :
1. आदेशक योजना के मामले में, विपणन तंत्र समादेश अधिक्रम द्वारा पूर्णतः प्रतिस्थापित हो जाता है, जबकि सांकेतिक योजना के मामले में, इसे विपणन प्रणाली के कार्यक्रम में सुधार लाने के तरीके के रूप में देखा जाता है ।
2. आदेशक योजना के मामले में, सभी आर्थिक क्रियाकलाप सार्वजनिक क्षेत्र की परिधि में होते हैं, जबकि सांकेतिक योजना के मामले में, वे प्राइवेट क्षेत्र की परिधि में होते हैं ।
- उपर्युक्त में से कौन सा/से कथन सही है/हैं ?
- (a) केवल 1  
(b) केवल 2  
(c) 1 और 2 दोनों  
(d) न तो 1 और न ही 2
56. जनांकिकीय लाभांश किस आयु वर्ग की जनसंख्या वृद्धि को निर्दिष्ट करता है ?
- (a) आयु वर्ग 1 से 14 वर्ष के मध्य  
(b) आयु वर्ग 15 से 64 वर्ष के मध्य  
(c) आयु वर्ग 65 से 74 वर्ष के मध्य  
(d) 74 वर्ष से ऊपर
57. सामान्य प्रमुख स्थिति बेरोजगारी की गणना निम्नलिखित किस एक समयवधि के संदर्भ में होती है ?
- (a) एक सप्ताह  
(b) एक माह  
(c) एक वर्ष  
(d) पाँच वर्ष
58. प्रच्छन्न बेरोजगारी सामान्यतः निम्नलिखित में से किस एक में है ?
- (a) विनिर्माण क्षेत्रक  
(b) कृषि  
(c) लघु उद्योग  
(d) नगरीय समाज
59. निम्नलिखित में से कौन भारत में ग्रामीण व नगरीय क्षेत्रों की गरीबी का पृथक्-पृथक् आकलन करने में अग्रणी हुए ?
- (a) पी.के. बर्धन एवं बी.एस. मिन्हास  
(b) वी.एम. दांडेकर एवं एन. रथ  
(c) एम. अहलुवालिया एवं पी.डी. ओझा  
(d) ई.पी.डब्ल्यू. डाकोस्टा एवं एन. रथ
60. वर्ष 2006-07 के दौरान, निम्नलिखित में से किस एक राज्य का प्रचलित कीमतों के आधार पर न्यूनतम प्रति व्यक्ति राज्य घरेलू उत्पाद रहा ?
- (a) उत्तर प्रदेश  
(b) असम  
(c) झारखण्ड  
(d) मध्य प्रदेश
61. आम आदमी बीमा योजना (AABY) के बारे में निम्नलिखित में से कौनसा एक कथन सही नहीं है ?
- (a) इसे वर्ष 2007 में प्रारम्भ किया गया था  
(b) केन्द्र सरकार और राज्य सरकारों का इसके प्रीमियम में योगदान 75 : 25 के अनुपात में है  
(c) यह योजना ग्रामीण भूमिहीन परिवारों के लिए लागू है  
(d) यह स्वाभाविक मृत्यु और दुर्घटनावश मृत्यु दोनों के लिए बीमा प्रदान करता है

62. During the year 2006-07, which of the following items under manufacturing goods sector had the highest share in India's exports ?

- (a) Gems and Jewellery
- (b) Engineering goods
- (c) Chemical and related products
- (d) Handicrafts

63. In which one of the following years have India's negative trade balances been the highest ?

- (a) 2003-04
- (b) 2004-05
- (c) 2005-06
- (d) 2006-07

64. As per the Economic Survey 2007-08, which of the following are the major reasons for India's recent sluggish export performance in textiles and clothing sector ?

- 1. Slowdown in demand from some major importers
- 2. The depreciation of US \$
- 3. Labour laws and scale economies
- 4. High cost of power in India

Select the correct answer using the code given below :

- (a) 1, 3 and 4 only
- (b) 1, 2, 3 and 4
- (c) 1 and 2 only
- (d) 3 and 4 only

65. Consider the following components of India's external debt in terms of their share at end-March, 2008 :

- 1. Multilateral debt
- 2. Bilateral debt
- 3. External commercial borrowings
- 4. NRI deposits

Which of the following is the correct descending order of the above ?

- (a) 1-2-3-4
- (b) 3-4-1-2
- (c) 3-1-2-4
- (d) 1-3-2-4

66. Which of the following are the strategies of urban development adopted in India in the Eleventh Five Year Plan ?

- 1. Strengthening urban local bodies through capacity building and better financial management.
- 2. Increasing the efficiency and productivity of cities by deregulation and development of land.
- 3. Reducing incidence of poverty.

Select the correct answer using the code given below :

- (a) 1 and 2 only
- (b) 2 and 3 only
- (c) 1, 2 and 3
- (d) 1 and 3 only

67. In which one of the following years was growth rate in India's GDP at factor cost and at constant prices (1999-2000) the highest ?

- (a) 2006-07
- (b) 2005-06
- (c) 2004-05
- (d) 2007-08

62. वर्ष 2006-07 के दौरान, विनिर्माण वस्तु क्षेत्र की निम्नलिखित मदों में से कौनसी मदों का भारत के निर्यात में सर्वाधिक भाग था ?

- रत्न एवं आभूषण
- इन्जीनियरी वस्तुएँ
- रसायन व तत्सम्बन्धित उत्पाद
- हस्तशिल्प

63. निम्नलिखित वर्षों में से किस एक वर्ष में भारत का ऋणात्मक व्यापार संतुलन सर्वाधिक रहा ?

- 2003-04
- 2004-05
- 2005-06
- 2006-07

64. वर्ष 2007-08 के आर्थिक सर्वेक्षण के अनुसार, वस्त्र एवं परिधान क्षेत्रक में भारत के हाल के मंद निर्यात निष्पादन के लिए निम्नलिखित में से कौनसे प्रमुख कारण हैं ?

- कुछ प्रमुख आयातकों की माँग में मंदी आना .
- अमेरिकी डॉलर का मूल्यहास
- श्रम कानून और पैमाना सुलाभ
- भारत में बिजली की ऊँची लागत

नीचे दिए गए कूट का प्रयोग कर सही उत्तर चुनिए :

- केवल 1, 3 और 4
- 1, 2, 3 और 4
- केवल 1 और 2
- केवल 3 और 4

65. भारत के विदेशी ऋण के निम्नलिखित घटकों पर, मार्च 2008 समाप्ति पर उनके भाग के आधार पर, विचार कीजिए :

- बहुपक्षीय ऋण
- द्विपक्षीय ऋण
- विदेशी व्यापारिक उधारग्रहण
- प्रवासी भारतीय जमा राशियाँ

निम्नलिखित में से उपर्युक्त का सही अवरोही क्रम कौनसा है ?

- 1-2-3-4
- 3-4-1-2
- 3-1-2-4
- 1-3-2-4

66. भारत में ग्यारहवीं पंचवर्षीय योजना में शहरी विकास हेतु निम्नलिखित में से कौनसी रणनीतियाँ अपनाई गईं :

- क्षमता विकास तथा बेहतर वित्तीय प्रबंधन द्वारा नगरीय स्थानीय निकायों का सुदृढीकरण ।
- विनियमन को हटाकर तथा भूमि का विकास कर शहरों की कुशलता व उत्पादकता को बढ़ाना ।
- निर्धनता के भार को कम करना ।

नीचे दिए गए कूट का प्रयोग कर सही उत्तर चुनिए :

- केवल 1 और 2
- केवल 2 और 3
- 1, 2 और 3
- केवल 1 और 3

67. निम्नलिखित में से किस एक वर्ष में भारत की सकल घरेलू उत्पाद की संवृद्धि दर, उपादान लागत पर और स्थिर कीमतों (1999-2000) पर सर्वोच्च थी ?

- 2006-07
- 2005-06
- 2004-05
- 2007-08

68. Which of the following are India's average growth rates of GDP at factor cost (at 1999-2000 prices) in the Ninth Five Year Plan and Tenth Five Year Plan respectively ?

- (a) 6.0 percent, 8.0 percent
- (b) 5.5 percent, 7.8 percent
- (c) 5.5 percent, 7.4 percent
- (d) 5.8 percent, 8.5 percent

69. In which one of the following years of the Tenth Five Year Plan was the growth rate in India's per capita income (at 1999-2000 prices) the highest ?

- (a) 2003 - 04
- (b) 2004 - 05
- (c) 2005 - 06
- (d) 2006 - 07

70. Which of the following are the limitations of national income estimation in India ?

- 1. Output of non-monetized sector
- 2. Non-availability of data about income of small producers or household enterprises
- 3. Unreported legal income
- 4. Inflation

Select the correct answer using the code given below :

- (a) 1, 2, 3 and 4
- (b) 1, 2 and 3 only
- (c) 2 and 3 only
- (d) 1 and 4 only

71. Which one of the following is the targeted rate of growth of agriculture in India during the Eleventh Five Year Plan ?

- (a) 2 percent
- (b) 3 percent
- (c) 4 percent
- (d) 5 percent

72. Which of the following observations were made by the National Knowledge Commission with regard to their national survey on innovation ?

- 1. Innovation intensity has increased for large firms and small and medium enterprises (SME).
- 2. SMEs are registering greater increase in innovation than large firms.

Select the answer using the code given below :

- (a) 1 only
- (b) 2 only
- (c) Both 1 and 2
- (d) Neither 1 nor 2

73. Which of the following statements is/are correct ?

A rise in per capita income does *not* automatically imply an increase in economic welfare because

- 1. distribution of income is not known.
- 2. rate of growth is not known.
- 3. it suffers from the limitations of averages.

Select the correct answer using the code given below :

- (a) 1 only
- (b) 2 only
- (c) 1 and 3 only
- (d) 1, 2 and 3

68. क्रमशः नवीं एवं दसवीं पंचवर्षीय योजनाओं में उपादान लागत पर (1999 – 2000 की कीमतों पर) भारत के सकल घरेलू उत्पाद की औसत संवृद्धि दरें निम्नलिखित में से कौनसी हैं ?

- (a) 6.0 प्रतिशत, 8.0 प्रतिशत
- (b) 5.5 प्रतिशत, 7.8 प्रतिशत
- (c) 5.5 प्रतिशत, 7.4 प्रतिशत
- (d) 5.8 प्रतिशत, 8.5 प्रतिशत

69. दसवीं पंचवर्षीय योजना के निम्नलिखित वर्षों में से किस वर्ष में भारत की प्रति व्यक्ति आय (1999 – 2000 की कीमतों पर) की संवृद्धि दर सर्वाधिक रही है ?

- (a) 2003 – 04
- (b) 2004 – 05
- (c) 2005 – 06
- (d) 2006 – 07

70. निम्नलिखित में से कौन-कौनसी भारत में राष्ट्रीय आय अनुमान की सीमाएँ हैं ?

- 1. मुद्राहीन क्षेत्रक का उत्पादन
- 2. छोटे उत्पादकों या गृह उद्यमों की आय के बारे में आंकड़ों का न मिल पाना
- 3. असूचित विधिक आय
- 4. मुद्रास्फीति

नीचे दिए गए कूट का प्रयोग कर सही उत्तर चुनिए :

- (a) 1, 2, 3 और 4
- (b) केवल 1, 2 और 3
- (c) केवल 2 और 3
- (d) केवल 1 और 4

71. निम्नलिखित में से कौनसी एक, भारत में ग्यारहवीं पंचवर्षीय योजना के दौरान कृषि की लक्ष्याधीन संवृद्धि दर है ?

- (a) 2 प्रतिशत
- (b) 3 प्रतिशत
- (c) 4 प्रतिशत
- (d) 5 प्रतिशत

72. राष्ट्रीय ज्ञान आयोग द्वारा नवप्रवर्तन के अपने राष्ट्रीय सर्वेक्षण के सम्बन्ध में निम्नलिखित में से कौन सा/से प्रेक्षण किए गए थे ?

- 1. नवप्रवर्तन की तीव्रता बड़ी फर्मों तथा छोटे व मध्यम उद्यमों (SME) में बढ़ी है ।
- 2. नवप्रवर्तन में छोटे व मध्यम उद्यम (SME) बड़ी फर्मों की अपेक्षा अधिक वृद्धि दर्ज कर रहे हैं ।

नीचे दिए गए कूट का प्रयोग कर सही उत्तर चुनिए :

- (a) केवल 1.
- (b) केवल 2
- (c) 1 और 2 दोनों
- (d) न तो 1 और न ही 2

73. निम्नलिखित कथनों में से कौन सा/से सही है/हैं ?

प्रति व्यक्ति आय में वृद्धि आर्थिक कल्याण में स्वतः ही वृद्धि सुनिश्चित नहीं करती, क्योंकि

- 1. आय का वितरण पता नहीं होता है ।
- 2. संवृद्धि दर पता नहीं होती है ।
- 3. यह औसतों की सीमाओं से प्रभावित होती है ।

नीचे दिए गए कूट का प्रयोग कर सही उत्तर चुनिए :

- (a) केवल 1
- (b) केवल 2
- (c) केवल 1 और 3
- (d) 1, 2 और 3

74. Which of the following is/are the targets for elementary education during the Eleventh Five Year Plan in India ?

1. Universal enrolment of 6 – 14 years age group children including the hard-to-reach segment.
2. All gender, social and regional gaps in enrolments to be eliminated by 2011 – 12.
3. Levelling of institutions for equality.

Select the correct answer using the code given below :

- (a) 1 only
- (b) 1 and 2 only
- (c) 2 and 3 only
- (d) 1, 2 and 3

75. In which one of the following years was the National Food Security Mission launched ?

- (a) 2003 – 04
- (b) 2004 – 05
- (c) 2006 – 07
- (d) 2007 – 08

76. The total public sector outlay in the Eleventh Five Year Plan (Central, State and Union Territories) is estimated at about

- (a) Rs. 30 lakh crores
- (b) Rs. 36 lakh crores
- (c) Rs. 40 lakh crores
- (d) Rs. 46 lakh crores

77. Which of the following are included in broad money ( $M_3$ ) in India ?

1. Currency with the public
2. Demand deposits with banks
3. Time deposits with banks
4. 'Other' deposits with RBI

Select the correct answer using the code given below :

- (a) 1, 2 and 3 only
- (b) 1 and 2 only
- (c) 3 and 4 only
- (d) 1, 2, 3 and 4

78. Which one of the following is the prescribed investment limit for medium enterprises in the manufacturing sector as per the Micro, Small and Medium Enterprises Development Act, 2006 ?

- (a) More than Rs. 10 lakhs and less than Rs. 2 crores
- (b) More than Rs. 2 crores and less than Rs. 5 crores
- (c) More than Rs. 5 crores and less than Rs. 10 crores
- (d) More than Rs. 10 crores

79. In which one of the following core infrastructure industries in India was the growth rate highest in the year 2006 – 07 ?

- (a) Petroleum refinery products
- (b) Finished steel
- (c) Cement
- (d) Electricity



74. निम्नलिखित में से कौन सा/से भारत में ग्यारहवीं पंचवर्षीय योजना के दौरान प्रारम्भिक शिक्षा का/के लक्ष्य है/हैं ?

1. 6 - 14 वर्ष आयु वर्ग के बच्चों का, जिस खण्ड तक पहुँच कठिन है उसके समेत, सार्वभौमिक नामांकन करना ।
2. नामांकन में सभी लिंग, सामाजिक एवं क्षेत्रीय अन्तरों को 2011 - 12 तक समाप्त करना ।
3. समानता लाने के लिए संस्थानों का समतलन करना ।

नीचे दिए गए कूट का प्रयोग कर सही उत्तर चुनिए :

- (a) केवल 1
- (b) केवल 1 और 2
- (c) केवल 2 और 3
- (d) 1, 2 और 3

75. निम्नलिखित में से किस एक वर्ष में राष्ट्रीय खाद्य सुरक्षा मिशन को प्रारम्भ किया गया था ?

- (a) 2003 - 04
- (b) 2004 - 05
- (c) 2006 - 07
- (d) 2007 - 08

76. ग्यारहवीं पंचवर्षीय योजना (केंद्र, राज्य तथा संघ राज्यक्षेत्र) में कुल सार्वजनिक क्षेत्रक परिव्यय का लगभग कितना अनुमान किया गया है ?

- (a) 30 लाख करोड़ रु.
- (b) 36 लाख करोड़ रु.
- (c) 40 लाख करोड़ रु.
- (d) 46 लाख करोड़ रु.

77. भारत में निम्नलिखित में से किस-किस को स्थूल मुद्रा ( $M_3$ ) में सम्मिलित किया जाता है ?

1. लोगों के पास करेन्सी
2. बैंकों के पास माँग जमाएँ
3. बैंकों के पास मियादी जमाएँ
4. भारतीय रिजर्व बैंक के पास 'अन्य' जमाएँ

नीचे दिए गए कूट का प्रयोग कर सही उत्तर चुनिए :

- (a) केवल 1, 2 और 3
- (b) केवल 1 और 2
- (c) केवल 3 और 4
- (d) 1, 2, 3 और 4

78. माइक्रो, स्माल एण्ड मीडियम एंटरप्राइजेज डेवलपमेंट ऐक्ट, 2006 के अनुसार निम्नलिखित में से कौनसी विनियोग सीमाएँ हैं जो विनिर्माण क्षेत्रक के माध्यमिक उद्यमों के लिए निर्धारित हैं ?

- (a) 10 लाख रु. से अधिक एवं 2 करोड़ रु. से कम
- (b) 2 करोड़ रु. से अधिक एवं 5 करोड़ रु. से कम
- (c) 5 करोड़ रु. से अधिक एवं 10 करोड़ रु. से कम
- (d) 10 करोड़ रु. से अधिक

79. भारत में वर्ष 2006-07 में निम्नलिखित क्रोड़ आधारिक-संरचना उद्योगों में से किस एक में सर्वाधिक संवृद्धि दर रही है ?

- (a) पेट्रोलियम शोधक संयंत्र के उत्पाद
- (b) तैयार स्टील
- (c) सीमेन्ट
- (d) विद्युत्

80. Which one of the following shares in the net proceeds of shareable Central taxes has been recommended for the States by the Twelfth Finance Commission ?

- (a) 29.00 percent
- (b) 28.50 percent
- (c) 30.50 percent
- (d) 31.25 percent

81. Consider the following important sources of tax revenue for the Central Government budgeted for the year 2008 - 09 :

1. Corporation tax
2. Taxes on income other than Corporation tax
3. Customs
4. Union excise duties

Which one of the following is their correct descending order in terms of gross tax revenue ?

- (a) 1 - 2 - 4 - 3
- (b) 1 - 2 - 3 - 4
- (c) 3 - 1 - 2 - 4
- (d) 2 - 3 - 1 - 4

82. Consider the following statements with respect to a duopoly market with firms A and B :

1. If both firms act as followers, then they will have reaction functions.
2. If firm A acts as leader and firm B acts as follower, then firm A will not have any reaction function.
3. If both firms act as leaders, then the outcome is economic warfare.

Which of the statements given above are correct ?

- (a) 1 and 2 only
- (b) 1, 2 and 3
- (c) 1 and 3 only
- (d) 2 and 3 only

83. Match List I with List II and select the correct answer using the code given below the lists :

List I

List II

- |                        |  |
|------------------------|--|
| A. Market failure      | 1. Net loss of total surplus   |
| B. Externalities       | 2. Maximisation of aggregate consumers' and producers' surplus           |
| C. Economic efficiency | 3. The impact of one person's actions on the well-being of other persons |
| D. Dead weight loss    | 4. When prices fail to provide proper signals to consumers and producers |

Code :

- |     | A | B | C | D |
|-----|---|---|---|---|
| (a) | 4 | 3 | 2 | 1 |
| (b) | 4 | 2 | 3 | 1 |
| (c) | 1 | 2 | 4 | 3 |
| (d) | 1 | 4 | 2 | 3 |

84. Consider the following :

According to Ricardian theory of distribution

1. rent is price determined.
2. land is supposed to have various alternative uses.
3. marginal land earns no rent.
4. rent is a surplus in the sense that it is an excess over transfer earnings.

Which of the statements given above are correct ?

- (a) 1, 2 and 4
- (b) 1, 3 and 4
- (c) 2 and 3 only
- (d) 1 and 4 only

80. बारहवें वित्त आयोग द्वारा सहभाजनीय केंद्रीय करों की शुद्ध प्राप्तियों का निम्नलिखित में से कौनसा एक अंश राज्यों के लिए अनुशंसित किया गया है ?

- 29.00 प्रतिशत
- 28.50 प्रतिशत
- 30.50 प्रतिशत
- 31.25 प्रतिशत

81. केन्द्रीय सरकार के वर्ष 2008 - 09 के बजट में दिए गए कर राजस्व के निम्नलिखित महत्त्वपूर्ण स्रोतों पर विचार कीजिए :

- निगम कर
- आय पर निगम कर के अतिरिक्त कर
- आयात शुल्क
- केन्द्रीय उत्पाद शुल्क

सकल कर राजस्व के आधार पर निम्नलिखित में से कौनसा एक उनका सही अवरोही अनुक्रम है ?

- 1 - 2 - 4 - 3
- 1 - 2 - 3 - 4
- 3 - 1 - 2 - 4
- 2 - 3 - 1 - 4

82. एक द्वि-अधिकार बाजार के विषय में जहाँ फर्म A और B हैं, निम्नलिखित कथनों पर विचार कीजिए :

- यदि दोनों फर्म अनुगामी के रूप में कार्य करती हैं, तो उनके पास प्रतिक्रिया फलन होंगे ।
- यदि फर्म A अग्रणी के रूप में और फर्म B अनुगामी के रूप में कार्य करती है, तो फर्म A के पास कोई प्रतिक्रिया फलन नहीं होगा ।
- यदि दोनों फर्म अग्रणी के रूप में कार्य करती हैं, तो इसका परिणाम आर्थिक युद्ध होगा ।

उपर्युक्त में से कौनसे कथन सही हैं ?

- केवल 1 और 2
- 1, 2 और 3
- केवल 1 और 3
- केवल 2 और 3

83. सूची I को सूची II से सुमेलित कीजिए और सूचियों के नीचे दिए गए कूट का प्रयोग कर सही उत्तर चुनिए :

सूची I

सूची II

- |                  |   |
|------------------|---|
| A. बाजार विफलता  | 1. कुल अधिशेष का शुद्ध घाटा   |
| B. बाह्यताएँ     | 2. कुल उपभोक्ताओं और उत्पादकों के अधिशेष का अधिकतमीकरण                          |
| C. आर्थिक दक्षता | 3. एक व्यक्ति के कार्यों का दूसरे व्यक्तियों के कल्याण पर प्रभाव                |
| D. कुल भार हानि  | 4. जब कीमतें उपभोक्ताओं और उत्पादकों को उपयुक्त संकेत दे पाने में असफल रहती हैं |

कूट :

	A	B	C	D
(a)	4	3	2	1
(b)	4	2	3	1
(c)	1	2	4	3
(d)	1	4	2	3

84. निम्नलिखित पर विचार कीजिए :

रिकार्डों के वितरण के सिद्धांत के अनुसार

- लगान कीमत-निर्धारित है ।
- भूमि के अनेक वैकल्पिक उपयोग हो सकते हैं ।
- सीमांत भूमि कोई लगान अर्जित नहीं करती ।
- लगान इस अर्थ में अधिशेष है क्योंकि यह हस्तांतरण अर्जन से उपरिराशि है ।

उपर्युक्त कथनों में से कौनसे सही हैं ?

- 1, 2 और 4
- 1, 3 और 4
- केवल 2 और 3
- केवल 1 और 4

85. Match List I with List II and select the correct answer using the code given below the lists :

List I

List II

- |  |   |
|--|---|
| A. Firm-equilibrium in perfect competition | 1. MC = MR, MC curve must cut the MR curve from below   |
| B. Firm-equilibrium in monopoly market     | 2. TR = TC  |
| C. Zero profit condition                   | 3. MC = MR, Price demand elasticity is greater than one |
| D. Market equilibrium                      | 4. Demand = Supply                                      |

Code :

	A	B	C	D
(a)	1	4	3	2
(b)	4	3	2	1
(c)	4	2	3	1
(d)	1	3	2	4

86. If two commodities are perfectly substitutable (competitive), the direction of change of the cross elasticity of demand between them will be

- (a) zero
- (b) positive
- (c) negative
- (d) infinity

87. From which of the following axioms does the property that 'indifference curves for a consumer **cannot** intersect each other', follow ?

- 1. Axiom of non satiation
- 2. Axiom of transitivity
- 3. Axiom of reflexivity
- 4. Axiom of convexity

Select the correct answer using the code given below :

- (a) 1 and 3
- (b) 1 and 4
- (c) 2 and 3
- (d) 1 and 2

88. Match List I with List II and select the correct answer using the code given below the lists :

List I

List II

(Nature of  $MRS_{xy}$ )

(Shape of Indifference curve)

- |                                |                                      |
|--------------------------------|--------------------------------------|
| A. $MRS_{xy}$ is equal to zero | 1. Convex to the origin              |
| B. $MRS_{xy}$ is constant      | 2. Concave to the origin             |
| C. $MRS_{xy}$ is positive      | 3. L shaped (Right angle)            |
| D. $MRS_{xy}$ is negative      | 4. Straight line with negative slope |

Code :

	A	B	C	D
(a)	1	2	3	4
(b)	1	3	2	4
(c)	4	2	3	1
(d)	4	3	1	2

85. सूची I को सूची II से सुमेलित कीजिए और सूचियों के नीचे दिए गए कूट का प्रयोग कर सही उत्तर चुनिए :

सूची I

सूची II

- |                                      |  |
|--------------------------------------|--|
| A. पूर्ण प्रतियोगिता में फर्म-संतुलन | 1. $MC = MR$ , MC वक्र MR वक्र को अवश्य नीचे से काटे |
| B. एकाधिकार बाजार में फर्म-संतुलन    | 2. $TR = TC$   |
| C. शून्य लाभ दशा                     | 3. $MC = MR$ , कीमत माँग लोच एक से अधिक है           |
| D. बाजार संतुलन                      | 4. माँग = पूर्ति                                     |

कूट :

	A	B	C	D
(a)	1	4	3	2
(b)	4	3	2	1
(c)	4	2	3	1
(d)	1	3	2	4

86. यदि दो वस्तुएँ पूर्णतः प्रतिस्थाप्य (प्रतियोगी) हैं, तो उन दोनों के बीच माँग प्रतिलोच के परिवर्तन की दिशा क्या होगी ?

- (a) शून्य  
(b) धनात्मक  
(c) ऋणात्मक  
(d) अनंत

87. निम्नलिखित में से किन-किन अभिगृहीतों से यह गुण अनुगमित होता है कि 'उपभोक्ता के उदासीन वक्र एक-दूसरे को परस्पर नहीं काट सकते' ?

1. असंतृप्ति-अभिगृहीत
2. संक्रामिता-अभिगृहीत
3. प्रतिवर्तिता-अभिगृहीत
4. उत्तलता-अभिगृहीत

नीचे दिए गए कूट का प्रयोग कर सही उत्तर चुनिए :

- (a) 1 और 3  
(b) 1 और 4  
(c) 2 और 3  
(d) 1 और 2

88. सूची I को सूची II से सुमेलित कीजिए और सूचियों के नीचे दिए गए कूट का प्रयोग कर सही उत्तर चुनिए :

सूची I  
( $MRS_{xy}$  की प्रकृति)

सूची II  
(उदासीन वक्र का आकार)

- |                              |                               |
|------------------------------|-------------------------------|
| A. $MRS_{xy}$ शून्य के बराबर | 1. मूल के प्रति उत्तल         |
| B. $MRS_{xy}$ स्थिर है       | 2. मूल के प्रति अवतल          |
| C. $MRS_{xy}$ धनात्मक है     | 3. L आकार (समकोण)             |
| D. $MRS_{xy}$ ऋणात्मक है     | 4. ऋणात्मक ढलान वाली सरल रेखा |

कूट :

	A	B	C	D
(a)	1	2	3	4
(b)	1	3	2	4
(c)	4	2	3	1
(d)	4	3	1	2

89. In the long run, the cost and output relationship depends on which one of the following ?
- Return to scale
  - Fixed proportion of the variables
  - Return to the variable factor
  - Return to the fixed factor
90. Balance on Capital account refers to the
- nation's net exports of goods and services
  - nation's net exports of financial claims
  - nation's net exports of international official reserve assets
  - nation's sum of net exports of goods, services and financial claims
91. With which one of the following does the Prebisch - Singer hypothesis deal ?
- Terms of trade of less developed countries
  - Terms of trade of developed countries
  - Balance of payments of less developed countries
  - Balance of payments of developed countries
92. The effect of trade with different production possibilities curves and identical indifference curves is to make a country
- more specialized in consumption and less specialized in production
  - more specialized in production and less specialized in consumption
  - less specialized both in consumption and in production
  - more specialized both in consumption and in production
93. Keynes states that the aggregate demand function is
- an increasing function of the level of employment
  - a decreasing function of the level of employment
  - a constant function of the level of employment
  - not related to the level of employment
94. Consider the following statements :
- Bond price and interest rate vary indirectly.
  - A tax on personal income reduces disposable income.
  - According to Say's Law, demand creates its own supply.
- Which of the statements given above are correct ?
- 1 and 2 only
  - 2 and 3 only
  - 1 and 3 only
  - 1, 2 and 3
95. Imposition of a tariff will change the income distribution of the tariff-imposing country in favour of the scarce factor and against the abundant factor. This is known as
- Leontief paradox
  - Lerner paradox
  - Stolper - Samuelson theorem
  - Metzler paradox

89. निम्नलिखित में से किस एक में दीर्घकाल में लागत और उत्पाद का सहसम्बन्ध निर्भर करता है ?

- (a) पैमाने का प्रतिफल
- (b) चरों का स्थिर अनुपात
- (c) चल उपादान का प्रतिफल
- (d) स्थिर उपादान का प्रतिफल

90. पूँजी लेखा शेष निम्नलिखित में से किस एक को निर्दिष्ट करता है ?

- (a) राष्ट्र की वस्तुओं और सेवाओं का शुद्ध निर्यात
- (b) राष्ट्र के वित्तीय दावों का शुद्ध निर्यात
- (c) राष्ट्र की अंतर्राष्ट्रीय शासकीय आरक्षित परिसम्पत्तियों का शुद्ध निर्यात
- (d) राष्ट्र की वस्तुओं, सेवाओं और वित्तीय दावों के शुद्ध निर्यात का योग

91. प्रेबिश - सिंगर प्राक्कल्पना निम्नलिखित में से किस एक से सम्बन्ध रखती है ?

- (a) कम विकसित देशों की आयात-निर्यात स्थिति
- (b) विकसित देशों की आयात-निर्यात स्थिति
- (c) कम विकसित देशों का भुगतान संतुलन
- (d) विकसित देशों का भुगतान संतुलन

92. विभिन्न उत्पादन सम्भावना वक्रों और समान उदासीनता वक्रों के साथ व्यापार करने का प्रभाव एक देश को क्या बनाना होता है ?

- (a) उपभोग में अपेक्षाकृत अधिक विशेषज्ञ तथा उत्पादन में कम विशेषज्ञ
- (b) उत्पादन में अपेक्षाकृत अधिक विशेषज्ञ तथा उपभोग में कम विशेषज्ञ
- (c) उपभोग और उत्पादन दोनों में ही कम विशेषज्ञ
- (d) उपभोग और उत्पादन दोनों में ही अधिक विशेषज्ञ

93. केन्स ने बताया कि समग्र माँग फलन

- (a) रोजगार के स्तर का वर्धमान फलन है
- (b) रोजगार के स्तर का हासमान फलन है
- (c) रोजगार के स्तर का समान फलन है
- (d) रोजगार के स्तर से सम्बन्ध नहीं रखता है

94. निम्नलिखित कथनों पर विचार कीजिए :

1. बॉन्ड कीमत एवं ब्याज दर अप्रत्यक्ष रूप से परिवर्तित होते हैं ।
2. व्यक्तिगत आय पर कर प्रयोज्य आय को कम कर देता है ।
3. से के नियम के अनुसार, माँग अपनी स्वयं पूर्ति करती है ।

उपर्युक्त में से कौनसे कथन सही हैं ?

- (a) केवल 1 और 2
- (b) केवल 2 और 3
- (c) केवल 1 और 3
- (d) 1, 2 और 3

95. टैरिफ का लगाना, टैरिफ लगाने वाले देश में आय वितरण का बदलाव दुर्लभ उपादान के पक्ष में और बाहुल्य उपादान के विपक्ष में करेगा । इसे किस रूप में जाना जाता है ?

- (a) लियोन्टिफ विरोधाभास
- (b) लर्नर विरोधाभास
- (c) स्टोल्पर - सैमुअलसन प्रमेय
- (d) मेट्ज़लर विरोधाभास

96. Consider the following statements :
- When factor intensity reversal occurs
1. Heckscher – Ohlin trade model fails.
  2. factor price equalization theorem fails.
  3. elasticity of substitution of one factor for the other is much higher in the production of a commodity.

Which of the statements given above is/are correct ?

- (a) 1 only
- (b) 2 only
- (c) 1 and 3 only
- (d) 1, 2 and 3

97. Which of the following are the measures of Integrated Slum Development Programme adopted in India in the 11<sup>th</sup> Five Year Plan ?

1. Creating and updating database on slums.
2. Using land as a resource for housing and shelter development for slum dwellers.
3. Asking slum dwellers to apply for house loan from government.
4. Granting tenure security to slum dwellers.

Select the correct answer using the code given below :

- (a) 1, 2 and 3
- (b) 1 and 2 only
- (c) 2 and 4 only
- (d) 1, 2 and 4

98. Under which one of the following conditions is the gain from international trade maximised ?

- (a) Marginal rate of transformation (MRT) in production is equal to the marginal rate of substitution (MRS) in consumption
- (b) MRT in production is greater than MRS in consumption
- (c) MRT in production is less than MRS in consumption
- (d) MRT in production and MRS in consumption are equal to international price ratio

99. Consider the following statements regarding argument for free trade :

1. Free trade leads to maximisation of output, income and employment.
2. Free trade prevents monopoly.
3. Free trade protects domestic industries.

Which of the statements given above is/are correct ?

- (a) 1 only
- (b) 1 and 2 only
- (c) 2 and 3 only
- (d) 1, 2 and 3

100. If a producer pays the price for each of the inputs that it uses, equal to its value of marginal product, then which one of the following does it earn ?

- (a) Positive supernormal profit
- (b) Zero supernormal profit
- (c) Negative supernormal profit
- (d) Monopoly profit



96. निम्नलिखित कथनों पर विचार कीजिए :
- जब उपादान गहन विपर्यास उत्पन्न होता है
1. तब हैक्शाचर – ओहलिन ट्रेड मॉडल असफल हो जाता है ।
  2. तब उपादान कीमत समानीकरण प्रमेय असफल हो जाता है ।
  3. तब एक उपादान की दूसरे उपादान के लिए स्थानापत्ति लोच वस्तु के उत्पादन में अत्यधिक होती है ।

उपर्युक्त में से कौन सा/से कथन सही है/हैं ?

- (a) केवल 1
- (b) केवल 2
- (c) केवल 1 और 3
- (d) 1, 2 और 3

97. भारत में ग्यारहवीं पंचवर्षीय योजना में निम्नलिखित में से कौनसे उपाय समन्वित गंदी-बस्ती विकास कार्यक्रम के अन्तर्गत अपनाए गए हैं ?

1. गंदी-बस्ती के आँकड़ों को तैयार करना तथा अद्यतन करना ।
2. भूमि को आवास हेतु संसाधन के रूप में प्रयोग करना तथा गंदी-बस्ती निवासियों के लिए आवासों का विकास करना ।
3. गंदी-बस्ती निवासियों को सरकार से आवासीय ऋण लेने को कहना ।
4. गंदी-बस्ती निवासियों को अवधि विषयक सुरक्षा प्रदान करना ।

नीचे दिए गए कूट का प्रयोग कर सही उत्तर चुनिए :

- (a) 1, 2 और 3
- (b) केवल 1 और 2
- (c) केवल 2 और 4
- (d) 1, 2 और 4

98. निम्नलिखित दशाओं में से किस एक में अंतर्राष्ट्रीय व्यापार के लाभ अधिकतम होते हैं ?

- (a) उत्पादन की रूपांतरण सीमांत दर (MRT) उपभोग की स्थानापत्ति सीमांत दर (MRS) के बराबर होती है
- (b) उत्पादन की MRT उपभोग की MRS से अधिक होती है
- (c) उत्पादन की MRT उपभोग की MRS से कम होती है
- (d) उत्पादन की MRT तथा उपभोग की MRS अंतर्राष्ट्रीय कीमत अनुपात के बराबर होती है

99. मुक्त व्यापार के पक्ष में निम्नलिखित कथनों पर विचार कीजिए :

1. मुक्त व्यापार, उत्पाद, आय एवं रोजगार को अधिकतम करता है ।
2. मुक्त व्यापार एकाधिकार को रोकता है ।
3. मुक्त व्यापार घरेलू उद्योगों को संरक्षण देता है ।

उपर्युक्त में से कौन सा/से कथन सही है/हैं ?

- (a) केवल 1
- (b) केवल 1 और 2
- (c) केवल 2 और 3
- (d) 1, 2 और 3

100. यदि एक उत्पादक द्वारा प्रत्येक आगत हेतु दी गई कीमत उसके सीमांत उत्पाद के मूल्य के बराबर होती है, तब वह निम्नलिखित में से कौनसा एक लाभ अर्जित करेगा ?

- (a) धनात्मक अधिसामान्य लाभ
- (b) शून्य अधिसामान्य लाभ
- (c) नकारात्मक अधिसामान्य लाभ
- (d) एकाधिकारी लाभ

101. Marshall - Lerner condition states that the foreign exchange market would be stable if the sum of the price elasticities of the demand for imports and the demand for exports is

- (a) greater than one
- (b) less than one
- (c) equal to one
- (d) equal to zero

102. Consider the following statements :

Under flexible exchange rate system, balance of payments disequilibria are corrected by

- 1. changes in the exchange rates.
- 2. international flow of money and reserves.

Which of the statements given above is/are correct ?

- (a) 1 only
- (b) 2 only
- (c) Both 1 and 2
- (d) Neither 1 nor 2

103. Which one of the following is implied by interest parity ?

- (a) Interest rates are at par in all the countries
- (b) Movements in spot rates and forward rates in the foreign exchange market are same
- (c) Potential holders of foreign currency deposits view them as not equally desirable asset
- (d) A condition that the expected returns on deposits of any two countries are equal when measured in the same currency

104. Which one of the following best describes the nineteenth century gold standard system ?

- (a) Regulated system with floating exchange rates
- (b) Automatic system with fixed exchange rates
- (c) Regulated system with fixed exchange rates
- (d) Automatic system with floating exchange rates

105. Consider the following statements regarding the features of the World Bank :

- 1. The Board of Governors is the supreme body.
- 2. The voting power of the governor of a member country is related to the financial contribution of the country concerned.
- 3. It gives short-term loan to its members to correct their temporary balance of payments disequilibrium.

Which of the statements given above is/are correct ?

- (a) 1 only
- (b) 1 and 2 only
- (c) 2 and 3 only
- (d) 1, 2 and 3

106. Which of the following is/are the reasons for the collapse of Bretton - Woods system ?

- 1. The refusal by the U.S. Treasury to convert short term liability into gold.
- 2. The U.S. move to make dollar inconvertible.
- 3. The devaluation of U.S. dollar in 1973.

Select the correct answer using the code given below :

- (a) 1 only
- (b) 1 and 2 only
- (c) 2 and 3 only
- (d) 1, 2 and 3

101. मार्शल - लर्नर दशा यह बतलाती है कि विदेशी मुद्रा बाजार स्थिर रहेगा यदि आयातों के माँग की कीमत लोचों और निर्यातों के माँग की कीमत लोचों का योग

- (a) एक से अधिक है
- (b) एक से कम है
- (c) एक के बराबर है
- (d) शून्य है

102. निम्नलिखित कथनों पर विचार कीजिए :

नम्य विनिमय दर व्यवस्था में, भुगतान संतुलन के असंतुलों को

1. विनिमय दरों में परिवर्तन लाकर सही किया जाता है ।
2. मुद्रा और आरक्षित निधि के अंतर्राष्ट्रीय प्रवाह द्वारा सही किया जाता है ।

उपर्युक्त में से कौन सा/से कथन सही है/हैं ?

- (a) केवल 1
- (b) केवल 2
- (c) 1 और 2 दोनों
- (d) न तो 1 और न ही 2

103. निम्नलिखित में से कौनसा एक, ब्याज समानता का निहितार्थ है ?

- (a) सभी देशों में ब्याज दरें सममूल्य पर हैं
- (b) विदेशी विनिमय बाजार में हाज़िर दरों एवं वायदा दरों का संचलन समान होता है
- (c) विदेशी मुद्रा जमाओं के सम्भाव्य धारक उन्हें समानता वांछनीय नहीं परिसम्पत्ति के रूप में देखते हैं
- (d) एक दशा जो यह बताती है कि किन्हीं दो देशों की जमाओं पर प्रत्याशित प्रतिफल, जब एक ही मुद्रा में मापे जाते हैं, समान होते हैं.

104. उन्नीसवीं शताब्दी की स्वर्ण मान व्यवस्था को निम्नलिखित में से कौनसा एक, सर्वोत्कृष्ट वर्णित करता है ?

- (a) तिरती विनिमय दरों वाली विनियमित व्यवस्था
- (b) स्थिर विनिमय दरों वाली स्वचल व्यवस्था
- (c) स्थिर विनिमय दरों वाली विनियमित व्यवस्था
- (d) तिरती विनिमय दरों वाली स्वचल व्यवस्था

105. विश्व बैंक की विशेषताओं से सम्बन्धित निम्नलिखित कथनों पर विचार कीजिए :

1. बोर्ड ऑफ गवर्नर्स सर्वोच्च निकाय है ।
2. एक सदस्य देश के गवर्नर का मताधिकार तत्सम्बन्धित देश के वित्तीय अंशदान से सम्बन्धित होता है ।
3. यह अपने सदस्यों को अल्पकालिक ऋण अपने अस्थायी भुगतान संतुलन के असंतुलों को ठीक करने के लिए देता है ।

उपर्युक्त कथनों में से कौन सा/से सही है/हैं ?

- (a) केवल 1
- (b) केवल 1 और 2
- (c) केवल 2 और 3
- (d) 1, 2 और 3

106. ब्रेटन - वुड्स व्यवस्था की विफलता के लिए निम्नलिखित में से कौन सा/से कारण है/हैं ?

1. अमेरिकी कोषागार द्वारा अल्पकालिक देयताओं को स्वर्ण में परिवर्तित करने से मना करना ।
2. अमेरिका की डालर को अपरिवर्तनीय बनाने की कार्रवाई ।
3. अमेरिकी डालर का 1973 में अवमूल्यन ।

नीचे दिए गए कूट का प्रयोग कर सही उत्तर चुनिए :

- (a) केवल 1
- (b) केवल 1 और 2
- (c) केवल 2 और 3
- (d) 1, 2 और 3

107. Tariffication refers to
- replacement of quotas by tariffs only
  - replacement of all existing non-tariff restrictions by tariff
  - scaling down of tariffs in general
  - obtaining sanction to increase tariff rates
108. Which one of the following is *not* correct in the context of IS and LM framework of the theory of interest ?
- It integrates money, interest and income into a general equilibrium model of product and money market
  - Investment and interest are the two important variables in the model
  - The theory is propounded by J.R. Hicks
  - IS represents the money market equilibrium and LM represents the product market equilibrium
109. The accelerator model predicts that the changes in investment is determined by the changes in
- inventory
  - capital
  - interest
  - output
110. If  $\Delta Y$  = change in national income,  $\Delta I$  = change in investment, and  $k$  = value of multiplier, then the relationship can be written as
- $\Delta Y = \Delta I / k$
  - $\Delta Y = \Delta I \cdot k$
  - $\Delta Y = k / \Delta I$
  - $\Delta Y = I \cdot \Delta k$
111. Given,  $MPC = 0.8$  and the threshold consumption = 100, which one of the following is the corresponding saving function ?
- $100 + 0.2 Y$
  - $-100 + 0.8 Y$
  - $-100 + 0.2 Y$
  - $400 + 0.2 Y$
112. According to the classical theory of employment, deviations from the state of full employment are of
- permanent nature
  - purely temporary nature
  - imaginary situations
  - normal situations
113. The costs of factors of production, supplied by the entrepreneur himself are known as
- implicit costs
  - explicit costs
  - fixed costs
  - variable costs
114. Effective demand is that level of demand at which
- aggregate demand is more than aggregate supply
  - aggregate demand is less than aggregate supply
  - aggregate demand is equal to aggregate supply
  - output is maximum

107. प्रशुल्कीकरण किसे निर्दिष्ट करता है ?

- (a) कोटा का केवल प्रशुल्कों द्वारा प्रतिस्थापन
- (b) सभी प्रचलित गैर-प्रशुल्कीय प्रतिबंधों का प्रशुल्क द्वारा प्रतिस्थापन
- (c) प्रशुल्कों को सामान्यतः कम करना
- (d) प्रशुल्क दरों को बढ़ाने की संस्वीकृति प्राप्त करना

108. निम्नलिखित में से कौनसा एक, ब्याज के सिद्धांत के IS और LM ढाँचे के संदर्भ में सही नहीं है ?

- (a) यह मुद्रा, ब्याज तथा आय को उत्पाद और मुद्रा बाजार के सामान्य संतुलन मॉडल में एकीकृत करता है
- (b) निवेश व ब्याज दर मॉडल के अन्तर्गत दो महत्त्वपूर्ण चर हैं
- (c) यह सिद्धांत जे.आर. हिक्स द्वारा प्रतिपादित है
- (d) IS मुद्रा बाजार संतुलन को निरूपित करता है और LM उत्पाद बाजार संतुलन को निरूपित करता है

109. त्वरक मॉडल पूर्वानुमान लगाता है कि निवेश में परिवर्तन

- (a) इन्वेंट्री के परिवर्तनों द्वारा निर्धारित होता है
- (b) पूँजी के परिवर्तनों द्वारा निर्धारित होता है
- (c) ब्याज के परिवर्तनों द्वारा निर्धारित होता है
- (d) उत्पाद के परिवर्तनों द्वारा निर्धारित होता है

110. यदि  $\Delta Y =$  राष्ट्रीय आय में परिवर्तन,  $\Delta I =$  निवेश में परिवर्तन, और  $k =$  गुणक मूल्य है, तब सम्बन्ध किस तरह लिखा जा सकता है ?

- (a)  $\Delta Y = \Delta I / k$
- (b)  $\Delta Y = \Delta I \cdot k$
- (c)  $\Delta Y = k / \Delta I$
- (d)  $\Delta Y = I \cdot \Delta k$

111. दिया गया है,  $MPC = 0.8$  और देहली उपभोग = 100 है, निम्नलिखित में से कौनसा एक संगत बचत फलन है ?

- (a)  $100 + 0.2 Y$
- (b)  $- 100 + 0.8 Y$
- (c)  $- 100 + 0.2 Y$
- (d)  $400 + 0.2 Y$

112. रोजगार के क्लासिकी सिद्धांत के अनुसार, पूर्ण रोजगार दशा से विचलन

- (a) स्थायी प्रकृति का होता है
- (b) शुद्ध अस्थायी प्रकृति का होता है
- (c) काल्पनिक स्थितियाँ हैं
- (d) सामान्य स्थितियाँ हैं

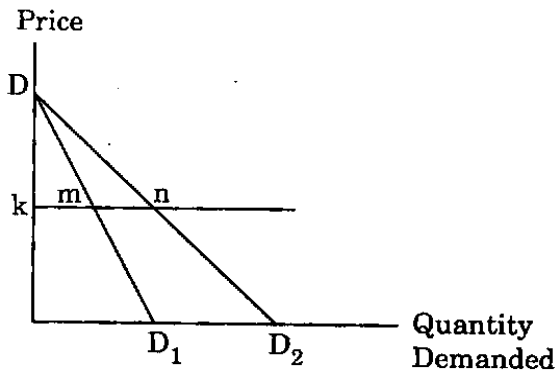
113. उद्यमी द्वारा स्वयं पूर्ति किए गए उत्पादन के उपादानों की लागतों को.

- (a) अन्तर्निहित लागतों के रूप में जाना जाता है
- (b) सुव्यक्त लागतों के रूप में जाना जाता है
- (c) स्थिर लागतों के रूप में जाना जाता है
- (d) परिवर्ती लागतों के रूप में जाना जाता है

114. प्रभावी माँग, माँग का वह स्तर है जिस पर

- (a) समग्र माँग समग्र पूर्ति से अधिक होती है
- (b) समग्र माँग समग्र पूर्ति से कम होती है
- (c) समग्र माँग समग्र पूर्ति के बराबर होती है
- (d) उत्पाद अधिकतम होता है

115. Consider the following two demand curves  $DD_1$ , and  $DD_2$ . Supposing  $km = mn$ , which one of the following is the price elasticity of demand at point  $m$  ?



- It is the same as the price elasticity of demand at point  $n$
- It is greater than the price elasticity of demand at point  $n$
- It is smaller than the price elasticity of demand at point  $n$
- It is half the price elasticity of demand at point  $n$

**Directions :** The following five (5) items consist of two statements, one labelled as the 'Assertion (A)' and the other as 'Reason (R)'. You are to examine these two statements carefully and select the answers to these items using the codes given below :

**Codes :**

- Both A and R are individually true and R is the correct explanation of A
- Both A and R are individually true but R is **not** the correct explanation of A
- A is true but R is false
- A is false but R is true

116. **Assertion (A) :** Marginal cost curve is U shaped.

**Reason (R) :** The law of variable proportions operates in production sphere.

117. **Assertion (A) :** A firm under monopolistic competition incurs extra expenditure on advertisement.

**Reason (R) :** There is free entry and free exit of firms under monopolistic competition.

118. **Assertion (A) :** The money creation multiplier is equal to the reciprocal of the minimum reserve ratio.

**Reason (R) :** The banking system as a whole can grant new credit up to an amount of excess reserves.

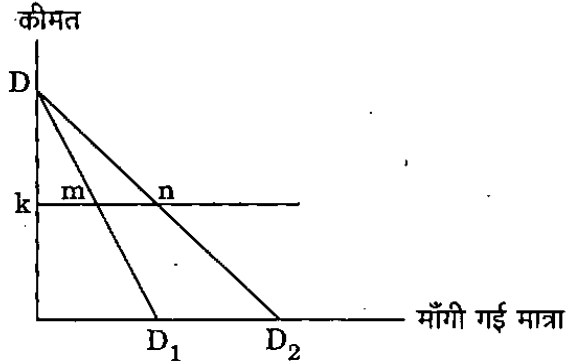
119. **Assertion (A) :** Inflationary gap is caused by excess demand.

**Reason (R) :** Excess demand is due to scarcity of supply of money.

120. **Assertion (A) :** The doctrine of unbalanced growth is based on creation of imbalances in the economy in a conscious manner.

**Reason (R) :** Unequal development of various sectors often generates conditions for rapid development.

115. निम्नलिखित दो माँग वक्रों  $DD_1$  और  $DD_2$  पर विचार कीजिए। माना  $km = mn$  है, बिन्दु  $m$  पर निम्नलिखित में से कौनसी एक, माँग की कीमत लोच है ?



- (a) यह बिन्दु  $n$  पर माँग की कीमत लोच के बराबर है  
 (b) यह बिन्दु  $n$  पर माँग की कीमत लोच से अधिक है  
 (c) यह बिन्दु  $n$  पर माँग की कीमत लोच से कम है  
 (d) यह बिन्दु  $n$  पर माँग की कीमत लोच से आधी है

**निर्देश :** आगामी पाँच (5) प्रश्नांशों में दो वक्तव्य हैं। एक को 'कथन (A)' तथा दूसरे को 'कारण (R)' कहा गया है। इन दोनों वक्तव्यों का सावधानीपूर्वक परीक्षण कर इन प्रश्नांशों का उत्तर नीचे दिए हुए कूट की सहायता से चुनिए :

**कूट :**

- (a) A और R दोनों सही हैं, और R, A का सही स्पष्टीकरण है  
 (b) A और R दोनों सही हैं, परन्तु R, A का सही स्पष्टीकरण नहीं है  
 (c) A सही है, परन्तु R ग़लत है  
 (d) A ग़लत है, परन्तु R सही है

116. कथन (A) : सीमांत लागत वक्र U आकार का होता है।  
 कारण (R) : परिवर्ती अनुपात का नियम उत्पादन के क्षेत्र में लागू होता है।

117. कथन (A) : एकाधिकारी प्रतियोगिता वाली फर्म विज्ञापन पर अतिरिक्त व्यय करती है।

कारण (R) : एकाधिकारी प्रतियोगिता में फर्मों का स्वतंत्र प्रवेश तथा निकास होता है।

118. कथन (A) : मुद्रा सर्जन गुणक, न्यूनतम आरक्षित अनुपात के प्रतिलोम के बराबर होता है।

कारण (R) : संपूर्ण बैंकिंग व्यवस्था बेशी रिज़र्व राशि तक नए ऋण मंजूर कर सकती है।

119. कथन (A) : स्फीति अंतराल अतिरिक्त माँग के कारण होता है।

कारण (R) : अतिरिक्त माँग मुद्रा की पूर्ति की दुर्लभता के कारण होती है।

120. कथन (A) : असंतुलित संवृद्धि का सिद्धांत सचेतन तरीके से अर्थव्यवस्था में असंतुलन उत्पन्न करने पर आधारित होता है।

कारण (R) : विभिन्न क्षेत्रों का असमान विकास प्रायः द्रुतगामी विकास की दशाओं को उत्पन्न करता है।

**SPACE FOR ROUGH WORK**

**कच्चे काम के लिए जगह**



**SPACE FOR ROUGH WORK**

**कच्चे काम के लिए जगह**

**SPACE FOR ROUGH WORK**

**कच्चे काम के लिए जगह**

**SPACE FOR ROUGH WORK**


**कच्चे काम के लिए जगह**

जब तक आपको यह परीक्षण पुस्तिका खोलने को न कहा जाए तब तक न खोलें

टी.बी.सी. : P-DTQ-J-FDP

परीक्षण पुस्तिका अनुक्रम

## परीक्षण पुस्तिका अर्थशास्त्र



समय : दो घण्टे

पूर्णांक : 300

### अनुदेश

1. परीक्षा प्रारम्भ होने के तुरन्त बाद, आप इस परीक्षण पुस्तिका की पड़ताल अवश्य कर लें कि इसमें कोई बिना छपा, फटा या छूटा हुआ पृष्ठ अथवा प्रश्नांश आदि न हो। यदि ऐसा है, तो इसे सही परीक्षण पुस्तिका से बदल लीजिए।
2. उत्तर-पत्रक में सही स्थान पर परीक्षण पुस्तिका अनुक्रम A, B, C या D यथास्थिति स्पष्ट रूप से कूटबद्ध कीजिए।
3. इस परीक्षण पुस्तिका पर साथ में दिए गए कोष्ठक में आपको अपना अनुक्रमांक लिखना है। परीक्षण पुस्तिका पर **और कुछ न लिखें**।
4. इस परीक्षण पुस्तिका में 120 प्रश्नांश (प्रश्न) दिए गए हैं। प्रत्येक प्रश्नांश हिन्दी और अंग्रेजी में छपा है। प्रत्येक प्रश्नांश में चार प्रत्युत्तर (उत्तर) दिए गए हैं। इनमें से एक प्रत्युत्तर को चुन लें जिसे आप उत्तर-पत्रक पर अंकित करना चाहते हैं। यदि आपको ऐसा लगे कि एक से अधिक प्रत्युत्तर सही हैं तो उस प्रत्युत्तर को अंकित करें जो आपको सर्वोत्तम लगे। प्रत्येक प्रश्नांश के लिए **केवल एक ही** प्रत्युत्तर चुनना है।
5. आपको अपने सभी प्रत्युत्तर अलग से दिए गए उत्तर-पत्रक पर ही अंकित करने हैं। उत्तर-पत्रक में दिए गए निर्देश देखिए।
6. सभी प्रश्नांशों के अंक समान हैं।
7. इससे पहले कि आप परीक्षण पुस्तिका के विभिन्न प्रश्नांशों के प्रत्युत्तर उत्तर-पत्रक पर अंकित करना शुरू करें, आपको प्रवेश प्रमाण-पत्र के साथ प्रेषित अनुदेशों के अनुसार कुछ विवरण उत्तर-पत्रक में देने हैं।
8. आप अपने सभी प्रत्युत्तरों को उत्तर-पत्रक में भरने के बाद तथा परीक्षा के समापन पर **केवल उत्तर-पत्रक** अधीक्षक को सौंप दें। आपको अपने साथ परीक्षण पुस्तिका ले जाने की अनुमति है।
9. कच्चे काम के लिए पत्रक परीक्षण पुस्तिका के अंत में संलग्न हैं।
10. गलत उत्तरों के लिए दण्ड :  
वस्तुनिष्ठ प्रश्न-पत्रों में उम्मीदवार द्वारा दिए गए गलत उत्तरों के लिए दण्ड दिया जाएगा।
  - (i) प्रत्येक प्रश्न के लिए चार वैकल्पिक उत्तर हैं। उम्मीदवार द्वारा प्रत्येक प्रश्न के लिए दिए गए एक गलत उत्तर के लिए प्रश्न हेतु नियत किए गए अंकों का एक-तिहाई (0.33) दण्ड के रूप में काटा जाएगा।
  - (ii) यदि कोई उम्मीदवार एक से अधिक उत्तर देता है, तो इसे गलत उत्तर माना जाएगा, यद्यपि दिए गए उत्तरों में से एक उत्तर सही होता है, फिर भी उस प्रश्न के लिए उपर्युक्तानुसार ही उसी तरह का दण्ड दिया जाएगा।
  - (iii) यदि उम्मीदवार द्वारा कोई प्रश्न हल नहीं किया जाता है, अर्थात् उम्मीदवार द्वारा उत्तर नहीं दिया जाता है, तो उस प्रश्न के लिए कोई दण्ड नहीं दिया जाएगा।

जब तक आपको यह परीक्षण पुस्तिका खोलने को न कहा जाए तब तक न खोलें

Note : English version of the instructions is printed on the front cover of this Booklet.