

B

இவ்வினாத்தானை குறிப்புகள் கொடுக்கப்படும் வரை திறக்கக்கூடாது  
பிரிவு அதிகாரி கூறியபின் திறக்கவும்

(Departmental Candidates) / (குறைக்கான ஒதுக்கீட்டின் கீழ் விண்ணப்பித்தவர்களுக்குரியது)

வினாத்தாளின் வகை

பதிவு எண்.

வினாத்தாளின் வரிசை எண்.

**B**

**110778**

OMR விடைத்தாளின் எண்.

நாள் & தேதி : சனிக்கிழமை, 3 ஜூலை 2010  
நேரம் : காலை 10.00 மணி முதல் 1.00 மணி வரை

Time/ நேரம் : 3.00 மணி  
Total Marks/மொத்த மதிப்பெண்கள் : 85

### Instructions – அறிவுரைகள்

- This question paper contains 30 questions in Part A (General knowledge) and 140 questions in Part B (Psychology, law and Police related subjects).  
இவ்வினாத்தாளில் பகுதி 'அ' பொது அறிவில் 30 வினாக்களும் மற்றும் பகுதி 'ஆ' உளவியல், சட்டம் மற்றும் காவல்துறை சம்மந்தமானவை (140 வினாக்கள்) உள்ளன.
- The type of question paper (A, B, C or D) should be shaded in the answer sheet using blue or black ball point pen. The answer sheet without shading the type of question paper will not be evaluated.  
இந்த வினாத்தாளின் வகையை (A, B, C or D) விடைத்தாளில் அதற்குண்டான இடத்தில் நீலம் (அ) கருப்பு நிற பால் பாயிண்ட் பேனாவைக் கொண்டு எழுதி பின் பட்டை தீட்டவும். வினாத்தாளின் வகையை பட்டை தீட்டாவிட்டால், அந்த விடைத்தாள் மதிப்பிடப்பட மாட்டாது.
- Write the Registration No. using blue or black ball point pen at the appropriate box in the answer sheet.  
விடைத்தாளில், நீலம் (அ) கருப்பு நிற பால் பாயிண்ட் பேனாவைக் கொண்டு பதிவு எண்ணை அதற்குரிய கட்டத்தில் எழுதி, பின் பட்டை தீட்டவும்.
- Answer all the 170 questions – 170 கேள்விகளுக்கும் விடையளிக்க வேண்டும்.
- Each question carries half a mark.  
ஒவ்வொரு கேள்விக்கும் அரை மதிப்பெண் வழங்கப்படும்.
- The answers to the questions should be shaded in the relevant circles using blue or black ball point pen.  
விடைகளை நீலம் (அ) கருப்பு நிற பால் பாயிண்ட் பேனாவைக் கொண்டு அந்தந்த வட்டங்களில் பட்டை தீட்டவும்.
- For each question only one answer is to be chosen and shaded.  
ஒரு வினாவிற்கு ஒரு விடையை மட்டுமே பட்டை தீட்டவும்.
- For wrong and improper shading, no marks will be given.  
தவறாக பட்டை தீட்டினாலோ, அடித்தல் திருத்தங்கள் செய்தாலோ அந்த கேள்விக்கு மதிப்பெண் கிடைக்காது.
- Write the Registration No. in the question paper – பதிவு எண்ணை கேள்வித்தாளில் எழுதவும்.
- Write the Sl. No. of the OMR answer sheet in the question paper at the appropriate place.  
OMR விடைத்தாளின் எண்ணை கேள்வித்தாளில் எழுதவும்.
- If there is any printing error, or error in page No. in the question paper, the same should be brought to the notice of the invigilator immediately.  
உமது வினாத்தாளில் ஏதேனும் அச்சுப் பிழையோ, பக்கங்கள் சரியாக இல்லாவிட்டாலோ, மேற்பார்வையாளரிடம் முறையிட்டு சரியான கேள்வித்தாளைப் பெற்றுக் கொள்ளுமாறு அறிவுறுத்தப்படுகிறது.
- All the questions are bilingual except language questions (English & Tamil).  
பாடப்பகுதி (ஆங்கிலம் மற்றும் தமிழ்) கேள்விகளைத் தவிர்த்து அனைத்து கேள்விகளும் இரண்டு மொழிகளிலும் கொடுக்கப்பட்டுள்ளன.

SEAL

SEAL



**PART 'A' : General Knowledge**

**பகுதி 'அ' : பொது அறிவு**

1. Production refers to
  - A) Destruction of utility
  - B) Creation of utility
  - C) Exchange value
  - D) None of these
1. உற்பத்தி என்பது
  - A) பயன்பாட்டின் அழிவு
  - B) பயன்பாட்டை உருவாக்குதல்
  - C) மாற்று மதிப்பு
  - D) எதுவுமில்லை
2. The demand for the factors of production is
  - A) Direct Demand
  - B) Effective Demand
  - C) Derived Demand
  - D) Aggregate Demand
2. உற்பத்திக்கான காரணிகளின் தேவை என்பது
  - A) நேரடித் தேவை
  - B) உறுதித் தேவை
  - C) பெறப்பட்ட தேவை
  - D) ஒட்டுமொத்தத் தேவை
3. When goods are imported for the purpose of export it is called as
  - A) Foreign Trade
  - B) Home Trade
  - C) Entrepot
  - D) Trade
3. ஏற்றுமதிக்கென பொருட்கள் இறக்குமதி செய்யப்பட்டால் அவை \_\_\_\_\_ என அழைக்கப்படும்
  - A) வெளிநாட்டு வியாபாரம்
  - B) உள்ளாட்டு வியாபாரம்
  - C) மறு ஏற்றுமதி வியாபாரம்
  - D) வியாபாரம்
4. All the items given in the adjustment will appear at \_\_\_\_\_ in the final accounts
  - A) Three places
  - B) Two places
  - C) One place
  - D) Four places
4. இறுதிக் கணக்குகள் தயார் செய்யப்படுகையில் சரிக்கட்டுதலில் தரப்படும் அனைத்து இனங்களும் \_\_\_\_\_ தோன்றும்
  - A) மூன்று இடங்களில்
  - B) இரு இடங்களில்
  - C) ஒரு இடம்
  - D) நான்கு இடங்களில்
5. A Hollow metal ball carrying an electric charge produces no electric field at points
  - A) outside the sphere
  - B) on its surface
  - C) inside the sphere
  - D) at a distance more than twice its radius
5. மின்னூட்டம் பெற்ற உள்ளீடற்ற கோளப் பந்து ஒன்று எந்தப் புள்ளியில் மின்புலத்தை ஏற்படுத்தாது ?
  - A) கோளத்தின் வெளியே
  - B) கோளத்தின் மேற்பரப்பில்
  - C) கோளத்தின் உள்ளே
  - D) அதன் ஆரத்தின் இருமடங்கிற்கு மேல் உள்ள தூரத்தில்



6. How much energy is released when one amu is wholly converted into energy ?  
A) 1 Mev B) 200 Mev  
C) 931 Mev D)  $10^6$  Mev
6. ஒரு amu நிறையானது ஆற்றலாக மாற்றப் படும்போது, வெளிவிடப்படும் ஆற்றலின் அளவு  
A) 1 Mev B) 200 Mev  
C) 931 Mev D)  $10^6$  Mev
7. Among the following, which atom does not contain neutron ?  
A) Helium B) Hydrogen  
C) Oxygen D) Nitrogen
7. பின்வருவனவற்றுள், நியூட்ரான் இல்லாத அணு எது ?  
A) ஹீலியம் B) ஹைட்ரஜன்  
C) ஆக்ஸிஜன் D) நைட்ரஜன்
8. Which gas is used to weld and cut Iron metal ?  
A) Ethylene B) Ethane  
C) Methane D) Acetylene
8. இரும்பு உலோகத்தை இணைக்க மற்றும் வெட்ட பயன்படும் வாயு எது ?  
A) எத்திலீன் B) எத்தேன்  
C) மீத்தேன் D) அசிட்டிலீன்
9. Biochemical mutation is reported in  
A) Sorghum B) Cicer  
C) Neurospora D) Drosophila
9. உயிர்வேதி திடீர் மாற்றம் இதில் கண்டுபிடிக்கப்பட்டது  
A) சோளம் B) சைசர்  
C) நியூரோஸ்போரா D) டிரோசோபில்லா
10. Which of the following is a  $C_3$  plant ?  
A) Maize B) Sugarcane  
C) Rice D) Amaranthus
10. பின்வருவனவற்றுள் எது  $C_3$  தாவரம் ?  
A) மக்காசோளம் B) கரும்பு  
C) நெல் D) அமராந்தஸ்
11. Who first developed Vaccine for 'rabies' in man ?  
A) Robert Koch B) Joseph Lister  
C) Louis Pasteur D) Stanley
11. மனிதரில் ரேபிஸ் நோய்க்கு முதன் முதலில் தடுப்பூசியை கண்டறிந்தவர்  
A) இராபர்ட் கோச் B) ஜோசப் லிஸ்டர்  
C) லூயி பாஸ்டர் D) ஸ்டேன்லி



12. The most abundant 'Green house gas' is  
 A)  $\text{NO}_2$  B)  $\text{O}_3$  C)  $\text{CO}_2$  D)  $\text{SO}_2$
12. பெரும்பான்மையாக காணப்படும் கண்ணாடி வீடு வாயு  
 A)  $\text{NO}_2$  B)  $\text{O}_3$  C)  $\text{CO}_2$  D)  $\text{SO}_2$
13. If two straight lines are perpendicular to each other, then  
 A)  $m_1 \times m_2 = -1$  B)  $m_1 \times m_2 = 1$   
 C)  $m_1 = m_2$  D)  $m_1 = -m_2$
13. இரண்டு நேர்கோடுகள் ஒன்றுக்கொன்று செங்குத்து எனில்  
 A)  $m_1 \times m_2 = -1$  B)  $m_1 \times m_2 = 1$   
 C)  $m_1 = m_2$  D)  $m_1 = -m_2$
14. The length of the semi-major and the length of semi-minor axis of the ellipse  $\frac{x^2}{144} + \frac{y^2}{169} = 1$  are  
 A) (26, 12) B) (13, 24)  
 C) (12, 26) D) (13, 12)
14.  $\frac{x^2}{144} + \frac{y^2}{169} = 1$  என்ற நீள்வட்டத்தின் அரை நெட்டச்சு மற்றும் அரை குற்றச்சு நீளங்கள்  
 A) (26, 12) B) (13, 24) C) (12, 26) D) (13, 12)
15. "மொழி ஞாயிறு" என்று போற்றப்படுபவர்  
 A) சிதம்பரநாதன் B) தேவநேயப்பாவாணர்  
 C) குன்றக்குடி அடிகளார் D) ரா. பி. சேதுபிள்ளை
16. சிறாப்புராணத்தை இயற்றியவர் யார் ?  
 A) குணங்குடிமஸ்தான் சாகிபு B) உமறுப்புலவர்  
 C) சவ்வாதுப்புலவர் D) காசிம் புலவர்
17. A Sonnet is a short poem written in \_\_\_\_\_  
 A) 14 lines B) 10 lines C) 12 lines D) 7 lines
18. 'Euphemism' is the use of \_\_\_\_\_ in the place of harsh words.  
 A) Offensive word B) Inoffensive word  
 C) Eponymous words D) All the above
19. The Gupta ruler who was hailed as Indian Napoleon  
 A) Kumar Gupta B) Chandragupta II Vikramaditya  
 C) Samudragupta D) Skandagupta
19. இந்திய நெப்போலியன் என்று புகழப்பட்ட குப்த ஆட்சியாளர்  
 A) குமார குப்தர் B) இரண்டாம் சந்திரகுப்த விக்ரமாதித்யர்  
 C) சமுத்திர குப்தர் D) ஸ்கந்த குப்தர்



20. The founder of the city of Madras  
A) Duplex B) Robert Clive  
C) Sir Thomas Roe D) Francis Day
20. சென்னை நகரை நிறுவியவர்  
A) டிபுல்டே B) ராபர்ட் கிளைவ்  
C) சர் தாமஸ் ரோ D) பிரான்சிஸ் டே
21. 'Sathi' was abolished by  
A) Lord Hastings B) Lord William Bentinck  
C) Lord Ripon D) Lord Curzon
21. 'சதி' முறையை ஒழித்தவர்  
A) ஹேஸ்டிங்ஸ் பிரபு B) வில்லியம் பென்டிங் பிரபு  
C) ரிப்பன் பிரபு D) கர்சன் பிரபு
22. The birth place of Renaissance was  
A) England B) Germany C) Italy D) Russia
22. மறுமலர்ச்சியின் தாயகம்  
A) இங்கிலாந்து B) ஜெர்மனி C) இத்தாலி D) ரஷ்யா
23. The West flowing river of India is \_\_\_\_\_  
A) Narmada B) Krishna C) Godavari D) Cauvery
23. \_\_\_\_\_ இந்தியாவின் மேற்கில் பாயும் நதியாகும்  
A) நர்மதா B) கிருஷ்ணா C) கோதாவரி D) காவேரி
24. The important sugarcane producing state of India is \_\_\_\_\_  
A) UttarPradesh B) Karnataka C) AndhraPradesh D) Kerala
24. இந்தியாவின் முக்கிய கரும்பு உற்பத்தி செய்யும் மாநிலம் \_\_\_\_\_ ஆகும்  
A) உத்திரபிரதேசம் B) கர்நாடகா C) ஆந்திரபிரதேசம் D) கேரளா
25. For becoming a Lok Sabha member the minimum age limit is \_\_\_\_\_ years  
A) 21 B) 25  
C) 30 D) 35
25. மக்களவை உறுப்பினர் ஆவதற்கான குறைந்தபட்ச வயது \_\_\_\_\_ ஆண்டுகள் ஆகும்  
A) 21 B) 25  
C) 30 D) 35
26. The number of official language in India is \_\_\_\_\_  
A) 14 B) 15  
C) 18 D) 20
26. இந்தியாவில் அங்கீகரிக்கப்பட்ட மொழிகளின் எண்ணிக்கை \_\_\_\_\_  
A) 14 B) 15  
C) 18 D) 20

B

-6-



27. Money Bills can be delayed by the Rajya Sabha only for \_\_\_\_\_  
A) 30 days B) 20 days  
C) 14 days D) 7 days
27. நிதிமசோதாக்கள் மாநில அவையினால் எத்தனை நாட்கள் மட்டும் தாமதப்படுத்தலாம் ?  
A) 30 நாட்கள் B) 20 நாட்கள்  
C) 14 நாட்கள் D) 7 நாட்கள்
28. The Governor of a state is appointed by the \_\_\_\_\_  
A) People B) Parliament  
C) Chief minister D) President
28. ஒரு மாநிலத்தின் ஆளுநரை நியமிப்பது \_\_\_\_\_  
A) மக்கள்  
B) பாராளுமன்றம்  
C) முதல் அமைச்சர்  
D) குடியரசுத் தலைவர்
29. Price Discrimination is possible only in \_\_\_\_\_  
A) Duopoly B) Oligopoly  
C) Monopoly D) All the above
29. விலை பேதம் காட்டுதல் காணப்படுவது \_\_\_\_\_  
A) இருவர் முற்றுரிமை  
B) சில்லோர் முற்றுரிமை  
C) முற்றுரிமை  
D) அனைத்தும்
30. Too much money chases too few goods refers to \_\_\_\_\_  
A) Cost push inflation  
B) Hyper inflation  
C) Demand pull inflation  
D) Profit push inflation
30. அதிகப்படியான பணம் மிகக் குறைந்த பண்டங்களை துரத்துவது  
A) செலவு உந்து பண வீக்கம்  
B) மிகை வேகப் பணவீக்கம்  
C) தேவை இழுப்பு பணவீக்கம்  
D) இலாப உந்து பணவீக்கம்



**PART 'B' : Psychology, Law and Police related subjects**

**பகுதி 'ஆ' : உளவியல், சட்டம் மற்றும் காவல்துறை சம்மந்தப்பட்டவை**

31. An accused committed an offence of house breaking by using false key. The M.O. classification is  
A) II (K) B) II (C) C) II (N) D) II (V)
31. ஒரு குற்றவாளி கள்ளச் சாவியால் பூட்டைத் திறந்து திருடினால், அதை எந்த குற்ற வகைப்பட்டதில் குறிப்பிடுதல் வேண்டும்  
A) II (K) B) II (C) C) II (N) D) II (V)
32. Intimation about the arrest or detention and release of MLA's, MP's should be sent immediately to  
A) Prime Minister B) President of India  
C) Speaker of the State Legislature/Parliament D) Chief Secretary to Government
32. சட்டமன்ற உறுப்பினர் மற்றும் பாராளுமன்ற உறுப்பினர்கள் கைது செய்யப்படும்போது அல்லது விடுதலை செய்யப்படும்போது உடனடியாக கீழ்க்கண்ட ஒருவருக்கு தகவல் தெரிவிக்கப்பட வேண்டும்  
A) பிரதம மந்திரி B) குடியரசுத் தலைவர்  
C) சட்டசபை/பாராளுமன்ற சபாநாயகர் D) அரசுத் தலைமை செயலாளர்
33. Which of the following sections of Indian Penal Code deals with the offence of "Dowry death" ?  
A) Sec. 304 IPC. B) Sec. 304 B IPC.  
C) Sec. 304-A IPC. D) Sec. 498-A IPC.
33. கீழ்க்கண்டவற்றில் இந்திய தண்டனைச் சட்டத்தின் எந்த பிரிவு "வரதட்சணை மரணம்" பற்றி குறிப்பிடுகிறது ?  
A) பிரிவு 304 இ.த.ச B) பிரிவு 304 B இ.த.ச  
C) பிரிவு 304-A இ.த.ச D) பிரிவு 498-A இ.த.ச
34. Disclosure of Identity of a victim of rape is punishable under which of the following sections ?  
A) Sec. 376-A IPC. B) Sec. 377 IPC. C) Sec. 228-A IPC. D) Sec. 509 IPC.
34. கற்பழிப்பு குற்றங்களில் பாதிக்கப்பட்டவரை ஆள் அடையாளம் தெரியும் படி வெளிப்படுத்துதல் கீழ்க்கண்ட எந்த பிரிவின் கீழ் குற்றம் ?  
A) பிரிவு 376-A இ.த.ச B) பிரிவு 377 இ.த.ச  
C) பிரிவு 228-A இ.த.ச D) பிரிவு 509 இ.த.ச
35. 'A' commits trespass entering a graveyard and offers indignity to human corpse disturbing the persons assembled for the performance of funeral ceremonies. 'A' is punishable under which of the following section ?  
A) Sec. 427 IPC. B) Sec. 296 IPC. C) Sec. 503 IPC. D) Sec. 297 IPC.
35. 'அ' என்ற நபர் இடுகாட்டினுள் அத்துமீறி நுழைந்து 'மனித பிரேதத்தை' அவமதிப்பு செய்தும், அவ்விடத்தில் சமச்சடங்குகளைச் செய்வதற்குக் கூடியுள்ளவர்களுக்கு இடையூறு விளைவிக்கிறார். மேற்படி 'அ' நபரின் செயலானது கீழ்க்கண்ட எந்த பிரிவின் கீழ் குற்றம் ?  
A) பிரிவு 427 இ.த.ச B) பிரிவு 296 இ.த.ச  
C) பிரிவு 503 இ.த.ச D) பிரிவு 297 இ.த.ச



36. Sec. 494 of the Indian Penal Code denotes which of the following offence ?
- A) Bigamy B) Adultery  
C) Prostitution D) Criminal Conspiracy
36. பிரிவு 494 இந்திய தண்டனைச் சட்டம் கீழ்க்காணும் எவ்வகையான குற்றத்தினை குறிப்பிடுகிறது ?
- A) கணவன் அல்லது மனைவி உயிருடன் இருக்கும் போதே மீண்டும் திருமணம் செய்தல்  
B) முறை பிறழ்ந்த புணர்ச்சி  
C) விபச்சாரம்  
D) குற்றமுறு சதி
37. Which of the following sections denotes the offence of 'Unlawful compulsory Labour' ?
- A) Sec. 373 IPC. B) Sec. 372 IPC. C) Sec. 374 IPC. D) Sec. 375 IPC.
37. கீழ்க்காணும் பிரிவுகளில் எந்த பிரிவு "சட்டபூர்வமற்ற கட்டாய உழைப்பு" குற்றத்தினை பற்றி குறிப்பிடுகிறது ?
- A) பிரிவு 373 இ.த.ச. B) பிரிவு 372 இ.த.ச.  
C) பிரிவு 374 இ.த.ச. D) பிரிவு 375 இ.த.ச.
38. If a theft in respect of any idol or icon in any building used as a place of worship in the state of Tamil Nadu is committed, under which of the following sections it is punishable ?
- A) Sec. 382 IPC B) Sec. 379 IPC  
C) Sec. 380 (2) IPC D) Sec. 381 IPC
38. தமிழ்நாட்டில் உள்ள எந்த ஒரு கட்டிடம் கும்பிடுவதற்காக பயன்படுத்தப்படுகிறதோ, அக்கட்டிடத்தினுள் உள்ள விக்ரகத்தையோ அல்லது சிலை வடிவத்தையோ களவாடும் செயலானது எந்த கீழ்க்காணும் பிரிவின் கீழ் தண்டிக்கத்தக்கது ?
- A) பிரிவு 382 இ.த.ச. B) பிரிவு 379 இ.த.ச.  
C) பிரிவு 380 (2) இ.த.ச. D) பிரிவு 381 இ.த.ச.
39. Which of the following punishments is not covered under Sec. 53 of Indian Penal Code ?
- A) Death Penalty B) Solitary confinement  
C) Imprisonment for life D) Fine
39. கீழ்க்காணும் தண்டனைகளில் எந்த தண்டனை பிரிவு 53 இந்திய தண்டனைச் சட்டத்தில் குறிப்பிடப்படாத ஒன்று ?
- A) மரண தண்டனை B) தனியாக சிறைவைப்பது  
C) ஆயுள் தண்டனை D) அபராதம்
40. Whoever by words either spoken or written, brings hatred towards the Government established by law in India is called
- A) Affray B) Rioting C) Sedition D) None of the above
40. இந்தியாவில் சட்டப்படி நிறுவப் பெற்ற அரசினை சொல்லப்பட்ட அல்லது எழுதப்பட்ட சொற்கள் மூலமாக வெறுப்புக்கு உள்ளாக்குகிற குற்றம் எவ்வாறு அழைக்கப்படுகிறது ?
- A) சச்சரவு B) கலகம் விளைவித்தல்  
C) அரசத்துரோகம் D) மேற்சொன்னவை எதுவும் பொருந்தாது





41. Sec. 188 of Indian Penal Code denotes which of the following offence ?  
A) Disobedience to order duly promulgated by public servant  
B) Affray  
C) Causing Hurt  
D) Public servant receiving bribe
41. பிரிவு 188 இந்திய தண்டனைச் சட்டம் எந்த குற்றத்தினை பற்றி குறிப்பிடுகிறது ?  
A) பொது ஊழியரால் முறையாக விளம்பப்பட்ட ஒரு கட்டளைக்குக் கீழ்ப்படியாமை  
B) சச்சரவு  
C) காயம் விளைவிப்பது  
D) அரசு ஊழியர் லஞ்சம் வாங்குவது
42. Whoever escapes or attempts to escape from any custody in which he is lawfully detained for any such offence is punished under which of the following sections ?  
A) Sec. 212 IPC. B) Sec. 222 IPC. C) Sec. 220 IPC. D) Sec. 224 IPC.
42. எவராயினும் சட்டரீதியாகக் காவலில் வைக்கப்பட்டிருக்கும் பாதுகாப்பு எதனினும் தப்பிக்க அல்லது தப்ப முயலும் போது கீழ்க்காணும் எந்த பிரிவினில் கீழ் தண்டிக்கப்படுகிறார் ?  
A) பிரிவு 212 இ.த.ச. B) பிரிவு 222 இ.த.ச.  
C) பிரிவு 220 இ.த.ச. D) பிரிவு 224 இ.த.ச.
43. Sale of obscene books etc., is dealt under which of the following sections ?  
A) Sec. 300 IPC. B) Sec. 292 IPC. C) Sec. 290 IPC. D) Sec. 295 IPC.
43. ஆபாச புத்தகங்கள் விற்பனை செய்தல் முதலியன எந்த கீழ்க்காணும் பிரிவின் கீழ் குறிப்பிடப்பட்டுள்ளது ?  
A) பிரிவு 300 இ.த.ச. B) பிரிவு 292 இ.த.ச.  
C) பிரிவு 290 இ.த.ச. D) பிரிவு 295 இ.த.ச.
44. Sec. 170 of Indian Penal Code deals with which of the following offence ?  
A) Punishment for cheating by personation  
B) Punishment for cheating  
C) Personating a public servant  
D) Assisting in concealment of stolen property
44. பிரிவு 170 இந்திய தண்டனைச் சட்டம் கீழ்க்காணும் எந்த குற்றத்தினை குறிப்பிடுகிறது ?  
A) ஆள்மாறாட்டத்தால் ஏமாற்றுவதற்குத் தண்டனை  
B) ஏமாற்றுவதற்குத் தண்டனை  
C) பொது ஊழியரைப் போல் ஆள் மாறாட்டம் செய்தல்  
D) திருட்டுப் பொருளை மறைப்பதற்கு உதவி செய்தல்



45. Act endangering life or personal safety of others is an offence under which of the following sections ?
- A) Sec. 335 IPC. B) Sec. 336 IPC.  
C) Sec. 337 IPC. D) Sec. 338 IPC.
45. உயிருக்கு அல்லது மற்றவர்களின் உடற்பாதுகாப்பிற்கு அபாயம் விளைவிக்கிற செய்கை எந்த கீழ்க்காணும் பிரிவினில் குற்றம் ?
- A) பிரிவு 335 இ.த.ச. B) பிரிவு 336 இ.த.ச.  
C) பிரிவு 337 இ.த.ச. D) பிரிவு 338 இ.த.ச.
46. Unnatural offences are punishable under which of the following sections ?
- A) Sec. 376 IPC. B) Sec. 375 IPC.  
C) Sec. 378 IPC. D) Sec. 377 IPC.
46. இயற்கைக்கு மாறான குற்றங்கள் கீழ்க்காணும் எந்த பிரிவின் கீழ் குற்றம் ?
- A) பிரிவு 376 இ.த.ச. B) பிரிவு 375 இ.த.ச.  
C) பிரிவு 378 இ.த.ச. D) பிரிவு 377 இ.த.ச.
47. Act of a child under how many years of age is not an offence ?
- A) Under 7 years of age B) Under 8 years of age  
C) Under 9 years of age D) Under 6 years of age
47. எந்த வயதிற்குட்பட்ட ஒரு குழந்தையின் செயல் குற்றமற்றதாக கருதப்படுகிறது ?
- A) ஏழு வயதிற்குட்பட்ட B) எட்டு வயதிற்குட்பட்ட  
C) ஒன்பது வயதிற்குட்பட்ட D) ஆறு வயதிற்குட்பட்ட
48. When two or more persons by fighting in a public place disturbing the public peace is said to have committed the offence of
- A) Causing Hurt B) Rioting  
C) Assault D) Affray
48. இரண்டு அல்லது அதற்கு மேற்பட்டவர்கள் ஒரு பொது இடத்தில் சண்டையிடுவதன் மூலம் பொது அமைதியைக் குலைக்கும் போது அவர்கள் கீழ்க்காணும் எந்த குற்றத்தை புரிகிறார்கள் ?
- A) காயம் உண்டாக்குதல் B) கலகம் விளைவித்தல்  
C) தாக்குதல் D) சச்சரவு
49. Under what provision of law a Police Officer may seize any property which may be alleged to have been stolen or which may be found under circumstances which may create suspicion of the Commission of any offence ?
- A) Sec 91 B) Sec. 102 C) Sec. 100 D) Sec. 200
49. எந்த பிரிவின் கீழ் காவல் அலுவலர் திருடப்பட்டு இருப்பதாக சொல்லப்படும் அல்லது திருடப்பட்டிருப்பதாக சந்தேகப்படும் எந்த பொருளையும் (அல்லது) குற்றம் ஏதேனும் செய்யப்பட்டுள்ளதென்றும் சந்தேகத்தை உண்டாக்கும் சூழ்நிலையில் காணலாகும் பொருளை கைப்பற்றலாம் ?
- A) பிரிவு 91 B) பிரிவு 102 C) பிரிவு 100 D) பிரிவு 200



50. As per Sec. 154 of CrPC every information relating to the commission of cognizable offence if given orally to an officer in charge of a police station shall be reduced to writing by him or under his direction and be read over to the informant and shall be signed by the person giving it, such information is known as
- A) Final Report  
B) First Information Report  
C) Police Report  
D) None of the above
50. பிரிவு 154 கு.வி.ந. சட்டப்படி கைது செய்தற்குரிய குற்றமொன்று செய்யப்பட்டிருப்பது பற்றிய ஒவ்வொரு தகவலும் காவல் நிலைய பொறுப்பு அலுவலருக்கு வாய்மொழியாக கொடுக்கப்படுமானால் அது அவராலோ (அ) உத்திரவின்படியோ எழுதப்படுதல் வேண்டும். தகவல் கொடுத்தவரிடம் படிந்து காண்பித்து கையொப்பம் பெறவேண்டும். அந்த தகவலின் பெயர் என்ன ?
- A) இறுதி அறிக்கை  
B) முதல் தகவல் அறிக்கை  
C) காவல் அறிக்கை  
D) மேலே சொன்ன விடைகள் பொருந்தாது
51. Under Sec. 173 (2) CrPC the Report of Police Officer on completion of investigation is commonly known as
- A) Final Report  
B) Police Report  
C) Investigation Report  
D) None of the above
51. பிரிவு 173 (2)படி புலனாய்வை முடித்த பின் காவல் அலுவலர் தாக்கல் செய்யும் அறிக்கை பொதுவாக எவ்வாறு அழைக்கப்படும் ?
- A) இறுதி அறிக்கை  
B) காவல் அறிக்கை  
C) புலனாய்வு அறிக்கை  
D) மேல் சொன்ன விடைகள் பொருந்தாது
52. Under what provision in Criminal Procedure Code the Court has power to postpone or adjourn the proceedings in any inquiry or Trial ?
- A) Sec. 317 CrPC  
B) Sec. 309 CrPC  
C) Sec. 437 CrPC  
D) Sec. 436 CrPC
52. குற்றவியல் நடைமுறைச்சட்டத்தில் எந்த பிரிவின் கீழ் நீதிமன்றத்திற்கு பரிசீலனை (அ) விசாரணை நடவடிக்கைகள் தள்ளி வைப்பதற்கு (அல்லது) ஒத்தி வைப்பதற்கான அதிகாரம் உண்டு ?
- A) பிரிவு 317  
B) பிரிவு 309  
C) பிரிவு 437  
D) பிரிவு 436
53. Under what provision of CrPC, a party to a proceeding may as soon as after the closure of his evidence can make oral argument and submit a memorandum of written arguments, if any ?
- A) Sec. 311 CrPC  
B) Sec. 314 CrPC  
C) Sec. 309 CrPC  
D) Sec. 320 CrPC
53. குற்றவியல் நடைமுறை சட்டத்தில் எந்த பிரிவில் விசாரணை முடிந்த பின்னர் வழக்கில் சம்பந்தப்பட்ட தரப்பின் வாய்மொழியான வாக்குவாதத்தையும் எழுத்து மூலமான வாக்குவாதத்தையும் நீதி மன்றத்தில் செய்யலாம் ?
- A) பிரிவு 311  
B) பிரிவு 314  
C) பிரிவு 309  
D) பிரிவு 320



54. Under what provision of the Criminal Procedure Code the Court can order to pay compensation by the convicted person to the victim of the said case ?  
 A) Sec. 257 CrPC B) Sec. 357 CrPC C) Sec. 157 CrPC D) Sec. 360 CrPC
54. எந்த பிரிவின் கீழ் ஒரு நீதிமன்றம் தண்டனையும் மற்றும் நஷ்ட ஈடும் புகார்தாரருக்கு கொடுக்கலாம் ?  
 A) பிரிவு 257 B) பிரிவு 357 C) பிரிவு 157 D) பிரிவு 360
55. As per Sec. 438 CrPC, the High Court and the Court of Sessions can grant "Anticipatory Bail" only in the case of  
 A) Non Bailable offences B) Bailable and Cognizable offences  
 C) Both Bailable & Non Bailable offences D) Non cognizable offences
55. கு.வி.ந. சட்ட பிரிவு 438ன் படி உயர்நீதிமன்றம் மற்றும் அமரர் நீதிமன்றம் முன் ஜாமீன் கீழ்க்கண்ட எந்த வழக்குகளில் வழங்கலாம் ?  
 A) பினையில் விட முடியாத குற்றம்  
 B) பினையில் விடக்கூடிய மற்றும் கைதுசெய்ததற்குரிய குற்றம்  
 C) பினையில் விடும் மற்றும் விடமுடியாத குற்றங்கள்  
 D) கைது செய்ததற்குரியதல்லாத குற்றம்
56. Section 320 CrPC deals with  
 A) Compounding the offences B) Withdrawal of complaint  
 C) Legal aid to the accused D) Discharge of the accused
56. பிரிவு 320 கு.வி.மு. சட்டம் எதைக் குறிக்கின்றது ?  
 A) சமாதானம் செய்து கொள்ளும் குற்றங்களை பற்றி  
 B) குற்றச்சாட்டை திரும்பப் பெறுதல்  
 C) குற்றம் செய்த நபருக்கு அரசின் மூலம் உதவுதல்  
 D) குற்றம் செய்த நபரை விடுவித்தல் பற்றி
57. If the offence is punishable with fine only, the period of limitation shall be  
 A) Six months B) One month C) One year D) Three years
57. ஒரு குற்றத்திற்கு அபராதம் மட்டுமே தண்டனையாக விதிக்கும் பட்சத்தில் அதனை விசாரணைக்கு ஏற்பதற்கான காலவரம்பு என்ன ?  
 A) ஆறு மாதங்கள் B) ஒரு மாதம்  
 C) ஒரு வருடம் D) மூன்று வருடங்கள்
58. Warrant cases means case relating to an offence punishable for a term of imprisonment exceeding  
 A) 2 years B) 7 years C) 5 years D) Not exceeding 2 years
58. பிடி ஆணை வழக்கு என்பது \_\_\_\_\_ வருடங்களுக்கு மேல் சிறைக் காவலை தண்டனையாக விதிக்கத் தக்க குற்றம் பற்றிய வழக்கினைக் குறிக்கும்  
 A) இரண்டு வருடங்கள் B) ஒரு வருடம்  
 C) நான்கு வருடங்கள் D) மூன்று வருடங்கள்



59. In the contents of charges, the previous conviction of the Accused shall be stated because  
A) For enhanced punishment B) For less punishment  
C) For set off punishment D) Does not arise
59. குற்றப்பத்திரிகையில் எதிரியின் முன் தண்டனையை பற்றி குறிப்பிட வேண்டிய காரணம் ?  
A) அதிக தண்டனை வாங்க B) குறைந்த தண்டனை வாங்க  
C) தண்டனையை நீக்க D) எந்த விதமான காரணமும் இல்லை
60. Case relating to an offence punishable with death imprisonment for life or imprisonment for a term exceeding two years is considered as \_\_\_\_\_  
A) Summons case B) Warrant case  
C) Sessions case D) Not any of the above
60. ஒரு வழக்கில் தண்டனை தூக்கு, சாகும் வரை சிறை தண்டனை (அ) இரண்டு வருடத்திற்கு மேல் தண்டனை என்பது \_\_\_\_\_  
A) அழைப்பான வழக்கு B) பிடியான வழக்கு  
C) செஷன்ஸ் வழக்கு D) மேலே சொன்னவை எதுவும் பொருந்தாது
61. As per CrPC Section 70 (2) every warrant of arrest issued by a Court shall remain in force until it is cancelled by the Court or until it is executed.  
A) False B) True C) Partly true D) None of the above
61. கு.வி.ந. சட்டபிரிவு 70 (2) கைது செய்வதற்காக கொடுக்கப்படும் பிடி வாரண்ட் நீதி மன்றம் ரத்து செய்யும் வரையிலும் (அ) அதை அமுல்படுத்தி நடவடிக்கை எடுக்கும் வரையில் இருக்கும் என்று சொன்னால்  
A) பொய் B) உண்மை  
C) பாதி உண்மை D) மேலே சொன்னவை எதுவும் பொருந்தாது
62. Cognizable offence is an offence in which a police officer before making arrest has to get permission from \_\_\_\_\_  
A) Court B) Superior Officer  
C) Government D) No Body
62. "கைது செய்வதற்குரிய குற்றம்" என்பது காவல் அலுவலர் ஒருவரை கைது செய்யும் முன்னர் \_\_\_\_\_ இடம் இருந்து அனுமதி பெற வேண்டும்  
A) நீதிமன்றம் B) மேல் அதிகாரி  
C) அரசாங்கம் D) எவருமில்லை
63. As per Sec. 164 CrPC Confessions and Statements are recorded by  
A) Sessions Judge B) Judicial Magistrate  
C) Sub. ordinate Judge D) Executive Magistrate
63. கு.வி.ந. சட்டம் பிரிவு 164படி ஒப்புதல் மற்றும் வாக்குமூலங்கள் பதிவு செய்யப்படும் நடுவர்  
A) அமர்வு நீதிபதி B) நீதித்துறை குற்றவியல் நடுவர்  
C) உதவி அமர்வு நீதிபதி D) செயல்துறை நடுவர்



64. Police custody of an accused can be granted by a Court only within first \_\_\_\_ days of remand.  
 A) 30 B) 15 C) 45 D) 60
64. ஒரு குற்றவாளியை காவல் அலுவலரின் பொறுப்பில், நீதிமன்றம் முதல் \_\_\_\_\_ நாட்கள் காவல் காலகெடுவுக்குள் தான் அனுமதிக்க வேண்டும்  
 A) 30 B) 15  
 C) 45 D) 60
65. Under the Indian Evidence Act, as per Section 3, "evidence" is of two kinds, what are they ?  
 A) Oral Evidence and Documentary evidence  
 B) Occular Evidence and Medical Evidence  
 C) Direct Evidence and Circumstantial Evidence  
 D) None of the above
65. இந்திய சான்றுச்சட்டம் பிரிவு 3 ன் படி "சாட்சியம்" இருவகையாகும் - அவை யாவை ?  
 A) வாய்மொழி சாட்சியம் ஆவண சாட்சியம்  
 B) கண்ணூற்ற சாட்சியம் மருத்துவ சாட்சியம்  
 C) நேரடி சாட்சியம் சூழ்நிலை சாட்சியம்  
 D) மேற்சொன்ன விடைகள் பொருந்தாது
66. What is meant by "Direct Evidence" under the Indian Evidence Act ?  
 A) Testimony of the witnesses as to the principal fact to be proved  
 B) Medical Evidence  
 C) "Hearsay Evidence"  
 D) None of the above
66. இந்திய சான்றுச்சட்டத்தில் எவை "நேரடி சாட்சியமாக" கருதப்படுகிறது ?  
 A) பிரச்சனை உள்ள சங்கதிகளை பற்றி சாட்சிகளின் உரைச் சான்று  
 B) மருத்துவசாட்சியம்  
 C) கேள்விநிலைச் சான்று  
 D) மேற்சொன்ன விடைகள் பொருந்தாது
67. What is meant by "Extra judicial confession", under the Indian Evidence Act ?  
 A) Confession made by an accused elsewhere, than before Magistrate or Court, to any person or Body of persons  
 B) It means confession obtained by police-illegally  
 C) It means confession made by an co-accused  
 D) None of the above
67. இந்திய சான்றுச் சட்டத்தில் நீதித்துறை சாராத ஒப்புதலுரை என்றால் என்ன ?  
 A) நீதிமன்றம் (அ) நீதித்துறை நடுவர் அல்லாத வேறு நபர் அல்லது நபர்களிடம் சொல்லப்படும் ஒப்புதலுரை  
 B) காவல் அலுவலரால் முறையற்ற வழியில் பெறப்பட்ட ஒப்புதலுரை  
 C) சககுற்றவாளி கொடுக்கும் ஒப்புதலுரை  
 D) மேற்சொன்ன விடைகள் பொருந்தாது



68. What is meant by "ALIBI" under the Indian Evidence Act ?
- A) It means physical impossibility of the presence of the accused at the scene of crime by reason of his presence at another place
- B) It means person fleeing after commission of offence
- C) It means a person who settles abroad after commission of an offence
- D) None of the above
68. இந்திய சான்றுச் சட்டத்தில் "வேற்றிடவாதம்" (ALIBI) என்னவென்று பொருள்படும் ?
- A) எதிரி சம்பவ இடத்தில் இல்லாமல் வேறுயிடத்தில் சம்பவநேரத்தில் இருந்ததாக கூறப்படும் வாதம்
- B) குற்றத்தை புரிந்துவிட்டு ஓடி ஒளிந்து கொண்டால் அவ்வாறு பொருள்படும்
- C) எதிரி குற்றத்தை புரிந்து விட்டு வெளிநாடு சென்றுவிடுதல்
- D) மேற்சொன்ன விடைகள் பொருந்தாது
69. "Presumption of Law" may be classified under two heads. What are they ?
- A) Rebuttable presumption, irrebuttable presumption
- B) Legal presumption, illegal presumption
- C) Moral presumption, Immoral presumption
- D) None of the above
69. "சட்டரீதியான துணிபு" இரு வகைகளாகும். அவை யாவை ?
- A) மறுக்கொணாத்துணிபு, மறுப்பியல்துணிபு
- B) சட்டமுறையான துணிபு, சட்டமுரணான துணிபு
- C) அறமுறையான துணிபு, அறமுறையற்ற துணிபு
- D) மேற்சொன்ன விடைகள் பொருந்தாது
70. How the "DOCUMENTS" are classified under the Indian Evidence Act ?
- A) Public Document, Private Document
- B) Written Document, Unwritten Document
- C) Legal Document, Illegal Document
- D) None of the above
70. இந்திய சாட்சியச்சட்டத்தில் "ஆவணம்" எவ்வாறு வகைப்படுத்தப்பட்டுள்ளது ?
- A) பொது ஆவணம், தனியார் ஆவணம்
- B) எழுதப்பட்ட ஆவணம், எழுதப்படாத ஆவணம்
- C) சட்டமுறையான ஆவணம், சட்டமுறையற்ற ஆவணம்
- D) மேற்சொன்ன விடைகள் பொருந்தாது



71. Whether "LUNATIC" is a competent person to testify before the court as per Sec. 118 of the Indian Evidence Act ?
- A) -No- He is not a competent person  
 B) -Yes- unless he is prevented by his Lunacy from understanding the questions put to him and giving rational answers to them  
 C) -Yes- He is competent to testify only in civil cases  
 D) None of the above
71. இந்திய சான்றுச் சட்டத்தின் பிரிவு 118 ன் படி "பித்தர்" ஒருவர் நீதிமன்றத்தில் சாட்சிசொல்ல தகுதி வாய்ந்தவரா ?
- A) இல்லை - தகுதியற்றவர்  
 B) ஆம் - தன்னிடம் கேட்கப்படும் கேள்விகளை புரிந்துக்கொள்ளவும் அவற்றுக்கு பகுத்தறிவுக்குகந்த பதில்களைகொடுப்பதற்கு அவரது பித்தநிலை தடையாக இல்லாவிடில்  
 C) ஆம் - உரிமைவழக்குகளில் மட்டும் சாட்சிசொல்ல தகுதிவாய்ந்தவராக கருதப்படுவார்  
 D) மேலே சொன்ன விடைகள் பொருந்தாது
72. "A" Prosecutes "B" for theft and wishes the court to believe that "B" admitted the theft to "C" – who should prove the admission of "B" ?
- A) "C" should prove the admission  
 B) "A" must prove the admission  
 C) Both "B" and "C" should prove the admission  
 D) Both "A" and "B" should prove the admission
72. திருட்டுக்குற்றத்திற்க்காக "அ" என்பவர் "கு" என்பவர் மீது குற்றவழக்கு தொடுக்கிறார். "கு" தனதுதிருட்டைப்பற்றி "க" என்பவரிடம் ஒப்புக்கொண்டார் என நீதிமன்றத்தை நம்பவேண்டும் என "அ" கூறுகிறார். யார் அந்த ஏற்புரையை மெய்ப்பிக்க வேண்டும் ?
- A) "க" மெய்ப்பிக்க வேண்டும் B) "அ" மெய்ப்பிக்க வேண்டும்  
 C) "கு" மற்றும் "க" மெய்ப்பிக்க வேண்டும் D) "அ" மற்றும் "கு" மெய்ப்பிக்க வேண்டும்
73. Whether a "Police Officer" shall be compelled to say from where he got information as to commission of an offence ?
- A) Yes – He can be compelled by court  
 B) No – He cannot be compelled  
 C) Yes – He can be compelled by Defence Lawyer  
 D) Does not arise
73. காவல் அலுவலர் எவரையும் ஒரு குற்றம் புரியப்பட்டதென்ற தகவல் எதனையும் எங்கிருந்து பெற்றார் என்று தெரிவிக்கும்படி கட்டாயப்படுத்த முடியுமா ?
- A) ஆம் - நீதிமன்றத்தால்  
 B) முடியாது  
 C) ஆம் - எதிர்தரப்பு வழக்கறிஞரால் கட்டாய படுத்த முடியும்  
 D) மேற்சொன்ன விடைகள் பொருந்தாது





74. "A" is charged with travelling on a train without a ticket. The burden of proving that he has a ticket is on whom ?
- A) Prosecution B) The Burden of proof is on "A"  
C) Burden of proof lies on the court D) Does not arise
74. "அ" என்பவர் பயணச்சீட்டில்லாமல் ரெயிலில் பயணம் செய்ததாக குற்றம் சாட்டப்படுகிறார். அவர் ஒரு பயணச் சீட்டை வைத்திருந்தார் என்பதை மெய்பிக்கும் சுமை யாரை சார்ந்ததாகும் ?
- A) அரசுதரப்பில் B) மெய்பிக்கும் சுமை "அ" வை சார்ந்ததாகும்  
C) மெய்பிக்கும் சுமை நீதிமன்றத்தை D) மேற்சொன்ன கேள்வி எழுமாது சார்ந்ததாகும்
75. How many witnesses are required to prove the "facts in issue" in a case ?
- A) Minimum Ten B) Minimum Twenty  
C) Minimum Five D) No specific number of witnesses required
75. ஒரு வழக்கில் பிரச்சனை உள்ள சங்கதிகளை நிரூபிக்க அல்லது மெய்பிக்க எந்தனை சாட்சியம் தேவை ?
- A) குறைந்தபட்சம் - 10 B) குறைந்தபட்சம் - 20  
C) குறைந்தபட்சம் - 5 D) எந்தனை சாட்சியம் தேவை என வரையரக்கப்படவில்லை
76. Whether in a criminal proceedings the fact that the person accused is of a "Good Character" is relevant or not ?
- A) Relevant B) Not relevant  
C) Only in specific circumstances D) None of the above
76. குற்றவழக்கு நடவடிக்கைகளில் எதிரி நற்குணம் உடையவர் என்பதான சங்கதி தொடர்புற்றதாக கருதப்படும்மா (அல்லது) இல்லையா ?
- A) தொடர்புற்றதாக கருதப்படும் B) தொடர்பற்றதாக கருதப்படும்  
C) சில சூழ்நிலைகளில் தொடர்புற்றதாகும் D) மேற்சொன்ன விடைகள் பொருந்தாது
77. How the contents of the document may be proved as per Sec. 61 of the Evidence Act ?
- A) May be proved by "Primary" or Secondary evidence  
B) May be proved by circumstantial evidence  
C) May be proved by oral evidence  
D) None of the above
77. இந்திய சாட்சியச்சட்டத்தில் பிரிவு 61 ன் படி ஆவணங்களின் உள்ளடக்கத்தை எப்படி மெய்பித்தல் வேண்டும் ?
- A) முதல்தர சாட்சியத்தாலோ, இரண்டாந்தர சாட்சியத்தாலோ மெய்பிக்கலாம்  
B) சூழ்நிலைச் சான்று மூலம் மெய்பிக்கலாம்  
C) வாய்மொழி சாட்சியம் மூலம்  
D) மேற்சொன்ன விடைகள் பொருந்தாது



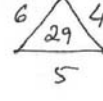
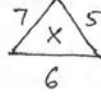
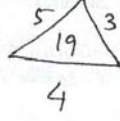
78. Whether a Judge can ask irrelevant question on a fact to a witness during trial ?
- No – Judge cannot put such questions
  - Yes – Judge can put or ask irrelevant questions
  - No – But he can ask in civil cases
  - None of the above
78. ஒரு நீதிமன்ற நடுவர் எந்த சங்கதியை பற்றிய “தொடர்பற்ற கேள்வியை” கேட்க முடியுமா ?
- முடியாது - தொடர்பற்ற கேள்வியை கேட்க முடியாது
  - ஆம் - தொடர்பற்ற கேள்வியை கேட்கலாம்
  - முடியாது - ஆனால் உரிமை வழக்குகளில் மட்டும் கேட்கலாம்
  - மேற்சொன்ன விடைகள் பொருந்தாது
79. When a man is presumed to be “dead” as per Indian Evidence Act ?
- If he is not heard for 15 yrs or missing for more than 15 years
  - When a man has not been heard for 7 years by those who would naturally have heard if he had been alive
  - When Death Certificate is produced in the court
  - None of the above
79. ஒரு மனிதர் இறந்து விட்டார் என நீதிமன்றம் எப்போது கருதலாம் ?
- அவர் எங்குள்ளார் என விபரம் 15 வருடங்களுக்கு மேல் தெரியாமல் போனால் அல்லது அவர் காணாமல் போனால்
  - அவர் உயிருடன் இருந்திருப்பதாகில் அவரைப் பற்றி இயல்பாக கேள்வி பட்டிருக்க கூடியவர்கள் ஏழாண்டு காலத்துக்கு அவரைப் பற்றி கேள்விப் படவில்லை என மெய்பிக்கப்பட்டால்
  - அவர் இறந்து விட்டதாக சான்று தாக்குதல் செய்தால்
  - மேற்சொன்ன விடைகள் பொருந்தாது
80. What is meant by “Leading Questions” as per Sec. 141 of the Evidence Act ?
- The question asked by Judge
  - Any question suggesting the answer which the person putting it wishes or expects to receive
  - The question asked during “Re-examination”
  - None of the above
80. இந்திய சான்றுச்சட்டத்தில் பிரிவு 141 ன் படி விடைபொதிவினாக்கள் என்றால் என்ன ?
- நீதிமன்றத்தால் கேட்கப்படும் கேள்வி (அ) வினா
  - வினவுகிற ஒருவர் தாம் பெற விரும்புகிற அல்லது எதிர்பார்கின்ற விடைகளைக் குறிப்பால் உணர்த்தும் எந்த வினாவும்
  - மறு விசாரணையின் போது கேட்கப்படும் கேள்வி
  - மேல்சொன்ன விடைகள் பொருந்தாது



81. 1/3 portion of a tank is filled, with 80 litres water. If its half portion is filled, what will be the quantity of water in litres ?  
A) 120 litres      B) 160 litres      C) 80 litres      D) 240 litres
81. ஒரு தண்ணீர் தொட்டியின் மூன்றில் ஒரு பகுதி 80 லிட்டர் தண்ணீருடன் நிரப்பப்பட்டுள்ளது. தொட்டியின் அரை பகுதி நிரப்பப்பட்டால், அதிலுள்ள தண்ணீரின் அளவு எத்தனை லிட்டர் ஆகும் ?  
A) 120 லிட்டர்      B) 160 லிட்டர்  
C) 80 லிட்டர்      D) 240 லிட்டர்
82. There are some bananas in two bags. The number of bananas in 1<sup>st</sup> bag are 1/3 more that of the 2<sup>nd</sup> bag. If there are three bananas less in 2<sup>nd</sup> bag than 1<sup>st</sup> bag, then calculate the number of bananas in 1<sup>st</sup> bag.  
A) 6      B) 9      C) 12      D) 15
82. இரண்டு பைகளில் வாழை பழங்கள் உள்ளன. முதல் பையிலுள்ள பழங்கள் இரண்டாவது பையிலுள்ள பழங்களை விட 1/3 மடங்கு அதிகமாகும். இரண்டாவது பையில் முதல் பையில் உள்ளதை விட 3 வாழைப்பழங்கள் குறைவானால், முதல் பையிலுள்ள பழங்களை கணக்கிடுக.  
A) 6      B) 9      C) 12      D) 15
83. A Tea trader mixes the two qualities of teas into one at the ratio of 5:4. The rate of first quality tea was Rs. 20 per Kg and of the second quality Rs. 30 per Kg. He sells this mixture of tea at the rate of Rs. 27.50 per Kg. Find out his profit percentage ?  
A) 10%      B) 12 1/2%      C) 15%      D) 7 1/2%
83. தேனீர் தூள் விற்பவர் இருவகை டீக்களை 5க்கு 4 என்ற விகிதத்தில் கலக்கிறார். முதல் தர தேனீர் தூளின் விலை கிலோவிற்கு ரூ. 20-ம், இரண்டாம் தர தூளின் விலை கிலோ ரூ. 30 ஆகும். கலப்படம் செய்த டீ தூளை கிலோ, ரூ. 27.50 என்ற விகிதத்தில் விற்கால் கிடைக்கும் இலாப சத விகிதத்தை கண்டுபிடி  
A) 10%      B) 12 1/2%      C) 15%      D) 7 1/2%
84. Raja starts from point 'A' and goes 5 Kms to the North. Turning to right, he covered 7 Kms distance and again turning to right covers 5 Kms distance and arrives at the point 'B'. How much is the distance between the points 'A' and 'B'?  
A) 5 Kms      B) 7 Kms      C) 12 Kms      D) 17 Kms
84. இராஜா 'A' எனும் புள்ளியில் ஆரம்பித்து, வடதிசையில் 5 கிலோ மீட்டர் செல்கிறார். வலப்பக்கம் திரும்பி 7 கிலோ மீட்டர் தூரமும், மீண்டும் வலப்பக்கம் திரும்பி 5 கிலோ மீட்டர் தூரமும் சென்று 'B' எனும் புள்ளியை அடைகிறார். புள்ளி A க்கும் B க்கும் இடையேயுள்ள தூரம் என்ன ?  
A) 5 கி.மீ      B) 7 கி.மீ      C) 12 கி.மீ      D) 17 கி.மீ

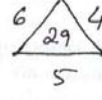
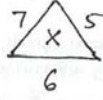
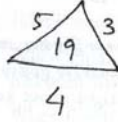


85. What should be put at the place of 'X' in the following figures ?



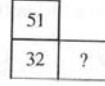

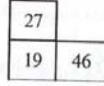
- A) 25      B) 47      C) 37      D) 41

85. கீழ்க்கண்ட படத்தில் 'X' என்ற இடத்தில் இருக்க வேண்டிய எண் என்ன ?



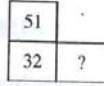
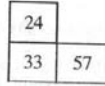
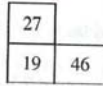
- A) 25      B) 47      C) 37      D) 41

86. What number should come in the place of question mark ?



- A) 83      B) 75      C) 64      D) 69

86. கேள்விக் குறியிட்ட இடத்தில் எந்த எண்ணைக் குறிப்பிட வேண்டும் ?



- A) 83      B) 75      C) 64      D) 69

87. Which term is not correct in the series ?

15, 45, 90, 360, 1080, 2160, 6480

- A) 90      B) 360      C) 6480      D) 1080

87. கீழள்ள வரிசைத் தொடரில் தவறான எண் எது ?

15, 45, 90, 360, 1080, 2160, 6480

- A) 90      B) 360      C) 6480      D) 1080



88. A student got twice as many sums wrong as he got right. If he attempted 48 sums in all, how many did he solve correctly ?  
A) 12 B) 16 C) 18 D) 24
88. ஒரு மாணவன் சரியாக செய்த கணக்குகளை விட இரண்டு மடங்கு கணக்குகள் தவறாகச் செய்துள்ளான். அந்த மாணவன் 48 கணக்குகளைச் செய்துள்ளான் என்றால், அவன் செய்த சரியான கணக்குகளின் எண்ணிக்கை எவ்வளவு ?  
A) 12 B) 16 C) 18 D) 24
89. A coin was tossed two times. What is the probability of its head and tail on the ground ?  
A) 0.25 B) 0.50 C) 0.75 D) 1.00
89. ஒரு காசு இருமுறை சுண்டி விடப்பட்டது. அதன் தலையும், வாலும் (பூ, தலை) தரையில் விழுவதற்குரிய நிகழ்தகவு என்ன ?  
A) 0.25 B) 0.50 C) 0.75 D) 1.00
90. At the fair I bought 6 erasers and 2 pens for Rs. 15. If I could have bought 4 more erasers for Rs. 14 than pens for Rs. 9, the price of a pen was  
A) Rs. 1.50 B) Rs. 1.75 C) Rs. 2.25 D) None of these
90. ஒரு கண்காட்சியில் நான் 6 ரப்பர்களும், 2 பேனாக்களும் 15 ரூபாய்க்கு வாங்கினேன். மொத்தம் 4 பேனாக்கள் 9 ரூபாய்க்கு வாங்குவதற்கு பதிலாக இன்னும் 4 ரப்பர்கள் மொத்தம் 14 ரூபாய் மட்டும் கொடுத்து வாங்கினால் ஒரு பேனாவின் விலை எவ்வளவு ?  
A) Rs. 1.50 B) Rs. 1.75 C) Rs. 2.25 D) இவை எதுவும் இல்லை
91. The mother of Mohan is double the age of his sister and his father is 20 years older than him. On the day of the birth of his sister Mohan was 5 years. If at present his sister is 17 years then what is the age of Mohan's parents separately ?  
A) 34, 35 B) 38, 40 C) 34, 42 D) 42, 34
91. மோகனின் தாய், அவன் சகோதரியை விட இரண்டு மடங்கு அதிக வயதும், அவனுடைய தந்தை அவனை விட 20 வயதும் அதிகமுள்ளவர்கள். மோகனின் சகோதரி பிறந்த பொழுது அவனுக்கு வயது 5. தற்பொழுது அவன் சகோதரியின் வயது 17 என்றால் மோகனின் பெற்றோரின் வயது என்ன ?  
A) 34, 35 B) 38, 40 C) 34, 42 D) 42, 34
92. I bought fruits from the market in a bag. Looking at the bag, my daughter asked me about the quantities of fruits. I replied all are oranges except 15, all are mangoes except 20, all are bananas except 25, how many fruits are there in the bag ?  
A) 40 B) 60 C) 50 D) 30
92. நான் சந்தையிலிருந்து ஒரு பையில் பழங்கள் வாங்கி வந்தேன். பையை பார்த்த என் மகள், பழங்களின் எண்ணிக்கையை கேட்டாள். 15 தவிர எல்லாம் ஆரஞ்சு பழங்கள் என்றும், 20 நீங்கலாக அனைத்தும் மாம்பழங்கள், 25 நீங்கலாக அனைத்தும் வாழைப்பழங்கள் என்றும் கூறினேன். பையிலிருந்த பழங்களின் மொத்த எண்ணிக்கை என்ன ?  
A) 40 B) 60 C) 50 D) 30



93. Manohar starts moving to the north from his house to go to his friend's house. After covering the distance of 100 metres he turns to right and covers 400 meters distance. Again he turns to right and reaches his friend's house after covering the distance of 400 meters. In which direction and how far is the house of his friend from his house ?
- A) 500 m, South-East      B) 200 m, East  
C) 500 m, South-West      D) 300 m, South
93. மனோகர் நண்பர் வீட்டிற்கு செல்ல, தன் வீட்டிலிருந்து வடபுறமாக செல்கிறார். 100 மீட்டர் தூரம் சென்ற பின்னர் வலப்புறம் திரும்பி 400 மீட்டர் தூரத்தை கடக்கிறார். மீண்டும் வலப்புறம் திரும்பி 400 மீட்டர் தூரம் சென்று நண்பர் வீட்டை அடைகிறார். நண்பரின் வீடு எந்த திசையில், எவ்வளவு தூரத்தில் இருக்கிறது ?
- A) 500 மீ தென்-கிழக்கு      B) 200 மீ கிழக்கு  
C) 500 மீ தென்-மேற்கு      D) 300 மீ தெற்கு
94. A bus completes half of the distance at the speed of 30 Km/hr and completes the second half at 60 Km/hr. If the total distance is 20 Km then in what time the bus will complete the distance ?
- A) 90 minutes      B) 60 minutes  
C) 45 minutes      D) 30 minutes
94. ஒரு பேருந்து செல்ல வேண்டிய தூரத்தில் பாதியை மணிக்கு 30 கி.மீ வேகத்திலும், மீதி பாதியை மணிக்கு 60 கி.மீ வேகத்திலும் கடக்கிறது. மொத்தம் செல்ல வேண்டிய தூரம் 20 கி.மீ எனில் எவ்வளவு மணி நேரத்தில் பேருந்து அந்த தூரத்தைக் கடக்கும் ?
- A) 90 நிமிடங்கள்      B) 60 நிமிடங்கள்  
C) 45 நிமிடங்கள்      D) 30 நிமிடங்கள்
95. Which of the four numbers given will complete the number series when put at the place of the question mark ?  
2, 5, 12, 27, ?
- A) 54      B) 36      C) 24      D) 58
95. கீழுள்ள 4 எண்களில் எந்த எண், எண் தொடரிலுள்ள கேள்வி குறியை பூர்த்தி செய்யும் ?  
2, 5, 12, 27, ?
- A) 54      B) 36      C) 24      D) 58
96. There are 50 national level players in a college. The college specialises in three games. 9 players play all the three games. 17 play only two games. 5 play volley ball and tennis. 7 play volley ball and cricket. Equal number of players play only cricket, tennis or volley ball. How many players play cricket ?
- A) 22      B) 29      C) 20      D) 34
96. ஒரு கல்லூரியில் 50 தேசிய அளவில் விளையாடும் மாணவர்கள் உள்ளனர். அந்த கல்லூரி மூன்று விளையாட்டுகளுக்கு சிறப்பு பயிற்சி அளிக்கிறது. 9 விளையாட்டு வீரர்கள் மூன்று விளையாட்டும் விளையாடுவர். 17 மாணவர்கள் 2 விளையாட்டுமட்டுமே விளையாடுவர். 5 பேர் 'வாலிபால்' மற்றும் 'டென்னிஸ்' விளையாடுவர். 7 பேர் 'வாலிபாலும்' 'கிரிக்கெட்டும்' விளையாடுவர். சம எண்ணிக்கையில் ஆன விளையாட்டு வீரர்கள் கிரிக்கெட், டென்னிஸ் அல்லது வாலிபால் மட்டுமே விளையாடுவர். எத்தனை பேர் கிரிக்கெட் விளையாடுவர் ?
- A) 22      B) 29      C) 20      D) 34



97. 'A' and 'B' start from the same place for the same destination and they take the same route. 'A' starts at 8.00 a.m. and he drives at a speed of 40 km per hour. 'B' starts at 9.00 a.m. and he drives at a speed of 50 Km per hour. How much time will 'B' take to catch up 'A' ?
- A) 3 hours      B) 4 hours      C) 5 hours      D) 6 hours

97. A, B இருவரும் ஒரே இடத்தில் ஆரம்பித்து, அதே வழியில், ஒரே இடத்தை சென்றடைய வேண்டும். A காலை 8 மணிக்கு தொடங்கி, மணிக்கு 40 கி.மீட்டர் வேகத்தில் ஓட்டுகிறார். B காலை 9 மணிக்கு புறப்பட்டு மணிக்கு 50 கி.மீட்டர் வேகத்தில் ஓட்டுகிறார். B, A வை சென்றடைய எவ்வளவு நேரம் ஆகும் ?
- A) 3 மணிகள்      B) 4 மணிகள்  
C) 5 மணிகள்      D) 6 மணிகள்

98. The following arrangement is based on a certain principle. Keeping that in mind fill in the vacant space.

8	6	4
3		7
14	16	18

- A) 4      B) 5      C) 6      D) 8

98. குறிப்பிட்ட விதியை அடிப்படையாகக் கொண்டு கீழுள்ள கட்டத்தில் எண்கள் எழுதப்பட்டுள்ளன. காலியாக உள்ள கட்டத்தை நிரப்புக.

8	6	4
3		7
14	16	18

- A) 4      B) 5      C) 6      D) 8

99. Find the missing number in the matrix

4	3	5	7
7	6	8	9
8	2	12	?
20	16	28	50

- A) 13      B) 14      C) 16      D) 18

99. கீழுள்ள கட்டத்தில் காணப்படாத எண்ணை கண்டுபிடிக்கவும்.

4	3	5	7
7	6	8	9
8	2	12	?
20	16	28	50

- A) 13      B) 14      C) 16      D) 18



100. In a family there are five brothers who are not yet married. Each brother has a sister and the mother alive. How many women are there in the family ?  
 A) 6 B) 10 C) 2 D) 5
100. ஒரு குடும்பத்தில் திருமணமாகாத 5 சகோதரர்கள் உள்ளனர். ஒவ்வொரு சகோதரருக்கு ஒரு சகோதரியும், தாயும் உயிருடன் உள்ளனர். அந்த குடும்பத்தில் உள்ள பெண்கள் எத்தனை ?  
 A) 6 B) 10 C) 2 D) 5
101. A clock is showing the time 12 hours 40 minutes. If a mirror is placed in front of the clock, then what will be the time seen in the clock through the mirror ?  
 A) 11 hrs 20 mts B) 12 hrs 40 mts C) 10 hrs 10 mts D) 8 hrs 50 mts
101. ஒரு கடிகாரம் நேரத்தை 12:40 என காட்டுகிறது. ஒரு கண்ணாடியை அந்த கடிகாரத்தின் முன்னால் வைத்தால், கடிகாரத்தின் நேரம் என்னவாக கண்ணாடியில் தெரியும் ?  
 A) 11:20 B) 12:40 C) 10:10 D) 8:50
102. 'A' and 'B' are real brothers. 'C' and 'D' is a couple. 'E' is the daughter of 'A'. 'B' is the father of 'D'. The husband of 'F' is 'B'. The mother of 'A' is 'G'. 'C' is the husband of the daughter of 'B'. 'H' is the daughter of 'C'. What is 'H' of 'F' ?  
 A) Daughter B) Grand daughter  
 C) Son's wife D) Daughter of the daughter
102. 'A' -ம் 'B' -ம் உண்மையான சகோதரர்கள். 'C' -ம், 'D' -ம் தம்பதிகள். 'A' -ன் மகள் 'E'. 'D' -ன் தந்தை 'B'. 'F' -ன் கணவர் 'B'. 'A' -ன் அம்மா 'G'. மகள் 'B' - ன் கணவர் 'C'. 'C' -ன் மகள் 'H'. 'F' ன்ரு 'H' என்ன உறவு முறை ?  
 A) மகள் B) பேத்தி C) மகனின் மனைவி D) மகளின் மகள்
103. A shepherd had 17 sheep. All but nine died. How many did he have left ?  
 A) 9 B) 8 C) 12 D) 7
103. ஒரு மேய்ப்பன் 17 ஆடுகள் வைத்திருந்தான். அவற்றில் ஒன்பது ஆடுகளைத் தவிர மற்றவை இறந்துவிட்டன. மீதமுள்ள ஆடுகள் எத்தனை ?  
 A) 9 B) 8 C) 12 D) 7
104. Ramesh is standing on the bank of a river with his back facing the river. A piece of a paper is flowing in the water from left of Ramesh to the right. If the river is flowing from the west to the east, then find out which direction is Ramesh facing ?  
 A) To the East B) To the West  
 C) To the North D) To the South
104. ரமேஷ் நதியின் கரையோரத்தில் தன் முதுகுபுறத்தை காட்டியபடி நின்று கொண்டிருக்கிறார். ஒரு சிறிய காகிதத் துண்டு ரமேஷின் வலப்புறத்திலிருந்து இடதுபுறமாக நதியில் மிதந்து செல்கிறது. நதியானது மேற்கிலிருந்து கிழக்காக பாய்ந்தால், ரமேஷ் நோக்கியிருக்கும் திசையை கண்டுபிடிக்கவும்.  
 A) கிழக்கு நோக்கி B) மேற்கு நோக்கி  
 C) வடக்கு நோக்கி D) தெற்கு நோக்கி



105. 'A' is the mother of 'B', hence 'B' is the daughter of 'A'. This logic is  
A) Right B) Illegal C) Doubtful D) Totally wrong
105. 'B' ன் அம்மா 'A'. எனவே 'A' ன் மகள் 'B'. எனவே இந்த தர்க்கமானது  
A) சரி B) சட்ட விரோதமானது  
C) சந்தேகத்துக்கிடமானது D) முற்றிலும் தவறானது
106. What will be the relation of myself to the paternal aunt of the daughter of my maternal uncle ?  
A) Paternal aunt B) Wife of my maternal uncle  
C) Sister of my mother D) Aunt
106. என்னுடைய தாய்மாமன் மகளின் தந்தை வழி அத்தைக்கும் எனக்கும் என்ன உறவு ?  
A) தந்தை வழி அத்தை B) தாய்மாமன் மனைவி  
C) என்னுடைய அம்மாவின் சகோதரி D) அத்தை
107. In a certain code "TOGETHER" is written as 'RQEGRJCT'. In the same code, 'PAROLE' will be written as  
A) NCPQJG B) NCQPJG C) RCPQJK D) PCTQNG
107. ஒரு சங்கேத குறியீட்டில் "TOGETHER", 'RQEGRJCT' என எழுதப்பட்டுள்ளது. அதே குறியீட்டில் 'PAROLE' எந்த எடுத்துக்காட்டாக எழுதப்பட்டிருக்கும் ?  
A) NCPQJG B) NCQPJG C) RCPQJK D) PCTQNG
108. If 'POND' is coded as 'RSTL', how is 'HEAR' written in that code.  
A) GHJI B) GHIZ C) JIGZ D) JCIZ
108. 'POND' ஐ 'RSTL' என்று சந்தேக குறியீட்டில் எழுதினால் அதே குறியீட்டில் 'HEAR' ஐ எப்படி எழுதலாம்.  
A) GHJI B) GHIZ C) JIGZ D) JCIZ
109. A peon told his friend, "The bell in the factory rings every 45 minutes. The last bell rang 15 minutes before. The next will ring at 3.45 p.m. "At what time the peon gave this information to his friend ?  
A) 3.30 p.m. B) 2.45 p.m. C) 2.30 p.m. D) 3.15 p.m.
109. ஒரு அலுவலக உதவியாளர் தன் நண்பரிடம், இந்த ஆலையின் சங்கு 45 நிமிடத்திற்கு ஒரு முறை ஒலிக்கும். கடைசி சங்கு 15 நிமிடத்திற்கு முன்புதான் ஒலிந்தது. அடுத்த சங்கு மாலை 3.45க்கு ஒலிக்கும் என்று கூறினார். அந்த அலுவலக உதவியாளர் தன் நண்பருக்கு இந்த விஷயத்தை எத்தனை மணிக்கு சொன்னார் ?  
A) 3.30 p.m. B) 2.45 p.m. C) 2.30 p.m. D) 3.15 p.m.
110. If R is ranked second and Q is ranked fifth, which of the following must be true ?  
A) S is ranked 3<sup>rd</sup> B) T is ranked 6<sup>th</sup> C) P is ranked 6<sup>th</sup> D) V is ranked 4<sup>th</sup>
110. 'R' இரண்டாவது இடத்தில் இருந்தால் மற்றும் 'Q' ஐந்தாவது இடத்தில் இருந்தால், கீழ்க்கண்டவற்றில் எது சரியானதாயிருக்கும் ?  
A) 'S' மூன்றாவது இடத்தில் உள்ளது B) 'T' ஆறாவது இடத்தில் உள்ளது  
C) 'P' ஆறாவது இடத்தில் உள்ளது D) 'V' நான்காவது இடத்தில் உள்ளது



111. Ram is taller than Shyam but shorter than Anurag. Anurag is taller than Raghu, but shorter than Chotu. If Raghu is taller than Ram, then who is the shortest ?  
 A) Shyam B) Raghu C) Anurag D) Ram
111. ராம் ஷ்யாமை விட உயரம் ஆனால் அனுராக்கை விட குள்ளம். அனுராக்கை ரகுவை விட உயரம். ஆனால் ச்சோடுவை விட குள்ளம். ரகு, ராமை விட உயராக இருந்தால், யார் மிகவும் குள்ளமானவர் ?  
 A) ஷ்யாம் B) ரகு C) அனுராக்கை D) ராம்
112. Rita introduced Ram to her husband and said, "Ram brother's father is the only son of my grandfather". How is Rita related to Ram ?  
 A) Mother B) Sister C) Niece D) Aunt
112. ராமை தன் கணவரிடம் அறிமுகம் செய்த ரிட்டா, ராமின் தம்பியின் அப்பா என் தாத்தாவிற்கு ஒரே மகன் என்று கூறினார். அப்படியெனில், ராமிற்கு ரிட்டா என்ன உறவு ?  
 A) தாய் B) சகோதரி C) தந்தைவழி சகோதரி D) அத்தை
113. In a certain code language, 'FREEDOM' is written as GFQDENN. How will the word STRONGER be written in that code language ?  
 A) TNSSOFFQ B) TSNSOFQF C) TSSNOFFQ D) TNSSFFOQ
113. ஒரு குறியீட்டு மொழியில் 'FREEDOM' எனும் சொல் ,GFQDENN என்று உள்ளது. அப்படியெனில் , அதே குறியீட்டு மொழியில், STRONGER எனும் சொல் எவ்வாறு குறிக்கப் பட்டிருக்கும் ?  
 A) TNSSOFFQ B) TSNSOFQF C) TSSNOFFQ D) TNSSFFOQ
114. If '+' is written as '-', 'x' as '+', '-' as 'x' and '÷' as '+', then what will be the value of the following equation ?  
 $7 - 30 \div 5 \times 1 + 9 = ?$   
 A) 205 B) 206 C) 216 D) 256
114. '+' ஐ '-' என்றும், 'x' ஐ '+' எனவும், '-' ஐ 'x' எனவும், '÷' ஐ '+' எனவும் குறித்தால், கீழே கொடுத்துள்ள சமன் பாட்டின் மதிப்பு எவ்வளவு ?  
 $7 - 30 \div 5 \times 1 + 9 = ?$   
 A) 205 B) 206 C) 216 D) 256
115. If A + B means A is the sister of B, A x B means A is the wife of B, A ÷ B means A is the father of B and A - B means A is the brother of B, then which of the following expresses the relationship that 'T is the daughter of P' ?  
 A)  $P \times Q \div R + S - T$  B)  $P \times Q \div R - T + S$   
 C)  $P \times Q \div R + T - S$  D)  $P \times Q \div R + S + T$
115. A + B என்பது B -ன் தங்கை A எனவும், A x B என்பது Bன் மனைவி A எனவும், A ÷ B என்பது B-ன் அப்பா A எனவும், A - B, Bன் தம்பி A எனவும் இருந்தால், கீழே உள்ள எந்த குறியீடு 'P' ன் மகள் T' எனும் உறவை குறிக்கும் ?  
 A)  $P \times Q \div R + S - T$  B)  $P \times Q \div R - T + S$   
 C)  $P \times Q \div R + T - S$  D)  $P \times Q \div R + S + T$



116. Looking at a portrait a man said "That man's father is my father's son. Brothers and sisters I have none", Whose portrait was the man looking at ?  
A) Grand father B) Grand son C) Son D) Father
116. ஓவியம் ஒன்றைப் பார்த்து, ஒரு மனிதர் சொன்னது 'இந்த ஓவியத்தில் இருக்கும் நபரின் தந்தை என் தந்தையின் மகன்', எனக்கு தம்பிகளோ, தங்கைகளோ கிடையாது. எனில், அவர் ஓவியத்தில் பார்த்த நபர் யார் ?  
A) தாத்தா B) பேரன் C) மகன் D) தந்தை
117. 20 men can dig 40 holes in 60 days. If so how many days will it take to dig 20 holes by 10 men ?  
A) 30 days B) 45 days C) 60 days D) 75 days
117. 40 துளைகளை 20 பேர் சேர்ந்து 60 நாட்களில் போட முடியும். அப்படியென்றால், 10 பேர் சேர்ந்து 20 துளைகளை எவ்வளவு நாட்களில் போட முடியும் ?  
A) 30 நாட்கள் B) 45 நாட்கள் C) 60 நாட்கள் D) 75 நாட்கள்
118. What would be the most useful thing to do first of all if you see a car going at high speed, which has just run over a child ?  
A) Note down the number of the car B) Shout for the driver to stop the car  
C) Hire a taxi and try to follow the car D) Inform the police and take the child to hospital
118. ஒரு குழந்தையின் மீது மோதிவிட்டு அதிவேகமாக செல்லும் ஒருகாரைப் பார்த்தால், நீங்கள் செய்யவேண்டிய முதல் மற்றும் மிகவும் உபயோகமான செயல் எது ?  
A) கார் எண்ணை குறித்துக் கொள்வது  
B) ஓட்டுநரை காரை நிறுத்தசொல்லி கூச்சலிடுதல்  
C) வாடகை காரில் அந்த காரை பின் தொடருதல்  
D) காவல்காரருக்கு தகவல் அளித்துவிட்டு குழந்தையை மருத்துவ மனைக்கு எடுத்து செல்லல்
119. Arrange the following words in a meaningful sequence and then choose the most appropriate sequence from the alternatives provided below :  
1. Police 2. Punishment 3. Crime 4. Justice 5. Judgement  
A) 1, 2, 3, 4, 5 B) 3, 1, 2, 4, 5 C) 3, 1, 4, 5, 2 D) 5, 4, 3, 2, 1
119. கீழ்க்காணும் சொற்களை பொருளுள்ள வகையில் வரிசைப்படுத்துக.  
1. போலீஸ் 2. தண்டனை 3. குற்றம் 4. நீதி 5. தீர்ப்பு  
A) 1, 2, 3, 4, 5 B) 3, 1, 2, 4, 5 C) 3, 1, 4, 5, 2 D) 5, 4, 3, 2, 1
120. 1/4 of a certain journey was covered at an average speed of 45 Km/hr. 1/3 at the speed of 48 Km/hr. and the remaining journey at the speed of 50 Km/hr. The average speed of the whole journey is  
A) 54 Km/hr B) 51 Km/hr  
C) 48 Km/hr D) 46 Km/hr
120. நான்கில் ஒரு பங்கு பயணத்தை சராசரியாக மணிக்கு 45 கி.மீ வேகத்தில் கடக்க முடியும். 1/3 பயணத்தை மணிக்கு 48 கி.மீ வேகத்திலும், மீதமுள்ள பயணத்தை மணிக்கு 50 கி.மீ வேகத்திலும் கடக்க முடியும். அப்படியெனில் மொத்த பயணத்தின் சராசரி வேகம் என்ன ?  
A) 54 கி.மீ/மணி B) 51 கி.மீ/மணி  
C) 48 கி.மீ/மணி D) 46 கி.மீ/மணி



Below are given marks of two candidates P and Q in four papers each. Study these marks and then answer the following three questions from Q.No. 121 to 123

Candidate P	Paper I	Paper II	Paper III	Paper IV
Maximum Marks	75	100	80	70
Marks obtained	45	65	50	35
Candidate Q	Paper V	Paper VI	Paper VII	Paper VIII
Maximum Marks	80	75	100	70
Marks obtained	56	44	40	42

கீழே P, Q எனும் இரு மாணவர்கள், நான்கு பாடங்களில் பெற்ற மதிப்பெண்கள் அளிக்கப்பட்டுள்ளன. இதிலிருந்து பின்வரும் 3 கேள்விகளுக்கு (கேள்வி எண் 121 முதல் 123 வரை) விடையளிக்க.

மாணவர் 'P'	தாள் I	தாள் II	தாள் III	தாள் IV
அதிகபட்ச மதிப்பெண்	75	100	80	70
பெற்றமதிப்பெண்	45	65	50	35
மாணவர் 'Q'	தாள் V	தாள் VI	தாள் VII	தாள் VIII
அதிகபட்ச மதிப்பெண்	80	75	100	70
பெற்றமதிப்பெண்	56	44	40	42

121. Considering the performance of 'P' and 'Q' together, who in which paper has put up the best performance ?  
 A) P in paper II      B) Q in paper V      C) P in paper I      D) Q in paper VI
121. P, Q இருவரின் மதிப்பெண்களை ஒப்பிட்டு, யார், எந்த பாடத்தில் மிகச்சிறப்பாக தேர்ச்சி பெற்றுள்ளார் எனக்கூறுக.  
 A) P தாள் II ல்      B) Q தாள் V ல்      C) P தாள் I ல்      D) Q தாள் VI ல்
122. How is P's paperwise performance ranked best to worst ?  
 A) II, I, III, IV      B) I, II, III, IV      C) II, III, I, IV      D) IV, I, II, III
122. பாடம் வாரியாக Pயின் மதிப்பெண்களை, மிக சிறப்பானது முதல் மிக மோசமானது வரையிலும் எவ்வாறு வரிசையாக தரமிடலாம்  
 A) II, I, III, IV      B) I, II, III, IV      C) II, III, I, IV      D) IV, I, II, III
123. Considering the performance of P and Q in all the papers  
 A) 'P' has done better than 'Q'      B) 'Q' has done better than 'P'  
 C) Both have done equally well      D) It is difficult to say who is better
123. P யும் Qயும் எல்லா பாடங்களிலும் பெற்ற மதிப்பெண்களை கவனத்தில் கொண்டு  
 A) P, Qவை விட நன்றாக செய்திருக்கிறார்      B) Q, P-யை விட நன்றாக செய்திருக்கிறார்  
 C) இருவருமே சமமாக நன்றாக செய்திருக்கின்றனர்      D) யார் நன்றாக செய்திருக்கிறார் என சொல்வது கடினமாகும்



Below is given a passage followed by several inferences. You have to examine and answer accordingly from amongst the alternatives provided for the following 5 questions from Q. No.124 to 128

Wind is an inexhaustible source of energy and all aerogenerator can convert it into electricity. Though not much has so far been done in this field, the survey shows that there is a vast potential for developing wind as an alternative source of energy. The wind survey has four components, – direction, duration, speed and distribution. On this basis U.P. hill areas have been found an ideal place for setting up aerogenerators. In U.P. hills alone, as many as 58 sites have been identified.

கீழே ஒரு தொடரும் அதனுடன் பல அனுமானங்களும் அளிக்கப்பட்டுள்ளன. இவற்றை பரிசீலனை செய்து பின்வரும் 5 கேள்விகளுக்கு விடையளக்கவும். (கேள்வி எண். 124 முதல் 128 வரை)

காற்று, தீர்ந்து போகாது. நிலைத்திருக்கக் கூடிய சக்தியின் மூலாதாரமாகும். அதை ஏரோஜனரேட்டர் மின்சக்தியாக மாற்றுகிறது. இத்துறையில் அதிகமாக முயற்சி செய்யாத போதிலும், காற்று, மாற்றுசக்தியாக பயன்படும் திறனுள்ளதாக ஆய்வுகள் கூறுகின்றன. காற்றை பற்றிய ஆய்வு நான்கு பகுதிப் பொருள்களைக் கொண்டது -திசை,கால இடைவெளி, வேகம், பகிர்ந்தளிப்பு. இதன் அடிப்படையில் உ.பி. மலைப்பகுதிகள் ஏரோஜனரேட்டர்களை (காற்றிலிருந்து மின் உற்பத்தி செய்யும் இயந்திரங்களை) பொருத்துவதற்குரிய சிறந்த இடங்களாக கண்டறியப் பட்டுள்ளன. உ.பி. மலைகளில் மட்டும் 58 இடங்கள் தெரிவு செய்யப்பட்டுள்ளன.

124. Only the hilly areas of U.P. were surveyed for setting up aerogenerators.

- A) Data inadequate B) Definitely true  
C) Probably false D) Definitely false

124. காற்று மின் உற்பத்தி இயந்திரங்களை நிறுவ உ.பிரதேச மலைப்பகுதிகள் மட்டுமே கணக்கெடுக்கப் பட்டுள்ளன.

- A) தகவல் போதிய அளவானதல்ல B) நிச்சயமாக உண்மை  
C) ஏறத்தாழ தவறாகும் D) நிச்சயமாக தவறு

125. The survey was conducted under the government of U.P.

- A) Definitely true B) Probably true  
C) Data inadequate D) Definitely false

125. இந்த கணக்கெடுப்பு உ.பி அரசினால் மேற்கொள்ளப்பட்டதாகும்

- A) நிச்சயமாக சரி B) சரியாக இருக்க வாய்ப்புள்ளது  
C) தகவல் போதுமானதல்ல D) நிச்சயமாக தவறு

126. Wind, as a source of energy, can replace exhaustible sources of energy

- A) Definitely false B) Probably true  
C) Probably false D) Definitely true

126. தீர்ந்து போகக் கூடிய சக்திமூலாதாரங்களுக்கு பதிலாக காற்றை மாற்று சக்தியாக பயன்படுத்தலாம்.

- A) நிச்சயமாக தவறு B) சரியாக இருக்க வாய்ப்புள்ளது  
C) தவறாக இருக்க வாய்ப்புள்ளது D) நிச்சயமாக சரி



127. Energy by wind is a comparatively new emerging field.  
 A) Probably true B) Probably false  
 C) Definitely true D) Definitely false
127. காற்றிலிருந்து மின் உற்பத்தி செய்வது புதியதாக தோன்றியுள்ள துறையாகும்  
 A) சரியாக இருக்க வாய்ப்புள்ளது B) தவறாக இருக்க வாய்ப்புள்ளது  
 C) உறுதியாக சரி D) உறுதியாக தவறு
128. 58 sites identified in U.P. did not have electricity.  
 A) Definitely true B) Data inadequate  
 C) Probably true D) Probably false
128. உ.பிரதேசத்தில் தெரிவு செய்யப்பட்டுள்ள 58 இடங்களில் மின்சாரவசதி இல்லை  
 A) நிச்சயமாக சரி B) தகவல் போது மானதல்ல  
 C) சரியாக இருக்க வாய்ப்புள்ளது D) தவறாக இருக்க வாய்ப்புள்ளது
129. Find the correct answer Dungeon : Confinement :: Asylum : ?  
 A) Refuge B) Mercy C) Truancy D) Remorse
129. சரியான விடையை தேர்ந்து எடுக்கவும். இருட்டறை : சிறைவாசம் :: புகலிடம் : ?  
 A) தஞ்சமளிக்குமிடம் B) இரக்கம்  
 C) சோம்பித்திரிகிற மன உணர்ச்சல் D) மன உணர்ச்சல்
130. Pick the 1<sup>st</sup>, 2<sup>nd</sup>, 4<sup>th</sup>, 5<sup>th</sup> and 6<sup>th</sup> letters of the word 'REASONING', form yet another word and then write the 1<sup>st</sup> and the last letters of the word formed  
 A) OR B) NE C) SE D) ES
130. 'REASONING' என்ற வார்த்தையின் முதல், இரண்டாவது, நான்காவது, ஐந்தாவது மற்றும் ஆறாவது எழுத்துக்களை எடுத்து ஒரு புதிய வார்த்தையை உருவாக்கி அதன் முதல் எழுத்தையும், கடைசி எழுத்தையும் எழுதினால் அது  
 A) OR B) NE C) SE D) ES
131. Arrange the given words in the sequence in which they occur in the dictionary and then choose the correct sequence  
 1. Protein 2. Problem 3. Proverb 4. Property 5. Project  
 A) 1, 2, 3, 4, 5 B) 2, 1, 4, 3, 5 C) 2, 5, 4, 1, 3 D) 3, 4, 5, 2, 1
131. கீழ்க்காணும் ஆங்கில வார்த்தைகளை அகராதி முறைப்படி வரிசைப்படுத்தவும்.  
 1. Protein 2. Problem 3. Proverb 4. Property 5. Project  
 A) 1, 2, 3, 4, 5 B) 2, 1, 4, 3, 5 C) 2, 5, 4, 1, 3 D) 3, 4, 5, 2, 1
132. In a certain code language water is written as food, food is written as tree, tree is written as sky and sky is written as wall, then fruit is coming from where ?  
 A) Water B) Food C) Sky D) Tree
132. ஒரு சந்தேக மொழியில், நீர் உணவு எனவும், உணவு மரம் எனவும், மரம் வானம் எனவும் வானம் சுவர் எனவும் கொண்டால், பழம் எதிலிருந்து வருகிறது ?  
 A) நீர் B) உணவு C) வானம் D) மரம்



133. In a ceratin code language Room is mentioned as Bed, Bed as Window, Window as Flower and Flower as Aircondition means, you will sleep on which ?
- A) Window B) Bed C) Flower D) Air Condition
133. ஒரு சங்கேத மொழியில் அறை என்பது படுக்கை எனவும், படுக்கை ஜன்னல் எனவும், ஜன்னல் பூ எனவும், பூ குளிர்சாதனம் எனக் கொண்டால், ஒருவன் எதில் உறங்குவான்?
- A) ஜன்னல் B) படுக்கை  
C) பூ D) குளிர்சாதனம்
134. Your family is giving many unsatisfying reasons for not marrying the person whom you love. What will you do ?
- A) I will listen to my family  
B) Will be in a confused state and not able to take a decision  
C) I will marry according to my wish  
D) Convince my family to marry the person whom I love
134. நீ திருமணம் செய்துகொள்ள தேர்ந்தெடுக்கும் ஒருவரைத் திருமணம் செய்து கொள்ளக்கூடாது என்பதற்காக பல்வேறு சொந்தக் காரணங்களை உனக்கு திருப்தியளிக்காத வகையில் உனது குடும்பத்தினர் கூறுகின்றனர் எனில், நீ என்ன செய்வாய் ?
- A) குடும்பத்தினர் சொற்படி நடந்துக் கொள்வேன்  
B) மிகுந்த குழப்பத்துடனும், முடிவெடுக்க முடியாத நிலையிலும் இருப்பேன்  
C) எனது சொந்த விருப்பப்படி தேர்ந்தெடுத்தவரையே மணம் முடிப்பேன்  
D) தேர்ந்தெடுத்தவரையே மணமுடிக்க குடும்பத்தினரை சம்மதிக்க வைக்க முயற்சி செய்வேன்
135. Make a meaningful sequence using the following codes.
1. Andhra Pradesh 2. Universe 3. Tirupati 4. World 5. India
- A) 1, 5, 3, 2, 4 B) 2, 1, 3, 5, 4 C) 3, 1, 5, 4, 2 D) 5, 4, 2, 1, 3
135. கீழ்க்கண்ட வார்த்தைகளை பொருள் சார்ந்த வரிசையாக மாற்றுக
1. ஆந்திர பிரதேசம் 2. அண்டம் 3. திருப்பதி 4. உலகம் 5. இந்தியா
- A) 1, 5, 3, 2, 4 B) 2, 1, 3, 5, 4 C) 3, 1, 5, 4, 2 D) 5, 4, 2, 1, 3
136. "Appreciation" is related to "Reward" in the same way "Disagree" is related to \_\_\_\_\_
- A) Crime B) Guilt  
C) Allegation D) Punishment
136. 'பாராட்டு' பரிசுடன் தொடர்புள்ளதுபோல் 'அவமதிப்பு' எதனுடன் தொடர்புடையது ?
- A) சட்ட விரோதமான செயல் B) குற்றம்  
C) குற்றச்சாற்று D) தண்டனை



137. What should come next ?  
Theft : Confess :: Fault : ?  
A) Commit B) Admit C) Dare D) Mistake
137. வரிசையில் அடுத்ததாக எது வரவேண்டும் ?  
திருட்டு : குற்றத்தை ஒத்துக்கொள் :: குறைபாடு : ?  
A) உறுதியளி B) ஒப்புக்கொள்  
C) துணிவுகொள் D) தவறு
138. "Read the statement given below and select the correct answer.  
Statement : The decline of British empire should have spelt the decline of English.  
A) The statement is a fact  
B) The statement is an opinion  
C) The statement is an advice  
D) The statement is a prejudice
138. கீழேக் கொடுக்கப்பட்டுள்ள அறிக்கையை படித்து சரியான விடையை தேர்ந்தெடுக்கவும்.  
அறிக்கை : ஆங்கிலப்பேரரசின் வீழ்ச்சியானது ஆங்கிலத்தின் வீழ்ச்சிக்கு அடிகோலும்  
A) அறிக்கையானது உண்மை  
B) அறிக்கையானது ஒரு அபிப்பிராயம்  
C) அறிக்கையானது ஒரு ஆலோசனை  
D) அறிக்கையானது சார்பெண்ண அடிப்படையில் ஆனது
139. Pointing to a man on the stage, Rita said, "He is the brother of the daughter of the wife of my husband". How is the man on the stage related to Rita ?  
A) Son B) Husband C) Cousin D) Nephew
139. ரீட்டா மேடையில் ஒரு மனிதனை சுட்டிகாட்டி, என்னுடைய கணவனுடைய மனைவியின் மகனுடைய சகோதரன் என கூறுகிறாள். மேடையிலுள்ள அந்த மனிதன் ரீட்டாவிற்கு எப்படி உறவாகும் ?  
A) மகன்  
B) கணவன்  
C) அத்தை/மாமன்/சித்தப்பன்/பெரியப்பன் மகன்  
D) உடன்பிறந்தார் மகன்
140. PATROL is related to security in the same way as Insurance is related to  
A) Money B) Protection  
C) Policy D) Finance
140. ரோந்தானது பாதுகாப்புடன் தொடர்புடையது, அதுபோல் காப்புறுதி எதனுடன் தொடர்புடையது ?  
A) பணம் B) பாதுகாப்பு  
C) காப்பீட்டு திட்டம் D) வருவாய்





141. To whom the original post mortem certificate has to be sent by the Medical Officer ?
- A) To the Judicial Magistrate concerned
  - B) Concerned Police Station
  - C) To the Inspector of Police
  - D) The Chief Judicial Magistrate concerned
141. மருத்துவ அலுவலர் பிரேத பரிசோதனை அசல் சான்றினை யாருக்கு அனுப்ப வேண்டும் ?
- A) சம்மந்தப்பட்ட குற்றவியல் நீதிமன்ற நடுவர் அவர்களுக்கு
  - B) சம்மந்தப்பட்ட காவல் நிலையத்திற்கு
  - C) ஆய்வாளர் அவர்களுக்கு
  - D) தலைமை குற்றவியல் நீதிமன்ற நடுவர் அவர்களுக்கு
142. A Police Officer can investigate a non cognizable case
- A) On orders from Judicial Magistrate
  - B) On the orders of District supdt. of police
  - C) On the orders of the Station House Officer of the police station
  - D) On the orders of the District Collector
142. ஒரு காவல் அலுவலர் பிடிக்கக் கூடாத குற்றம் சம்மந்தப்பட்ட வழக்கை யாருடைய அனுமதியுடன் புலன் விசாரணை செய்யலாம்.
- A) நீதித்துறை நடுவர்
  - B) மாவட்ட காவல் கண்காணிப்பாளர்
  - C) காவல் நிலைய பொறுப்பு அலுவலர்
  - D) மாவட்ட ஆட்சியர்
143. A victim of crime can lodge a complaint with \_\_\_\_\_
- A) Court
  - B) Superintendent of Police
  - C) Police Station
  - D) All the above
143. பாதிக்கப்பட்ட நபர் கீழ்க்கண்ட இடங்களில் புகார் செய்யலாம்
- A) நீதிமன்றம்
  - B) காவல்துறை கண்காணிப்பாளர்
  - C) காவல் நிலையம்
  - D) மேற்கண்ட அனைத்து இடங்களிலும்
144. In a complaint of theft of an article, when value is less than Rs. 10/=
- A) The police should Register a case and Investigate
  - B) There is no need for the police to register a case
  - C) The police can refuse to register a case
  - D) The affected person can take action directly
144. ஒரு திருட்டு புகாரில் ரூபாய் 10 மதிப்பிற்கு கீழே உள்ள பொருள் திருட்டு போனால்
- A) காவல்துறை வழக்கு பதிவு செய்து நடவடிக்கை எடுக்க வேண்டும்
  - B) காவல்துறை வழக்கு பதிவு செய்ய வேண்டிய அவசியம் இல்லை
  - C) காவல்துறை வழக்கு பதிவு செய்ய மறுக்கலாம்
  - D) பாதிக்கப்பட்டவர் நேரடியாக நடவடிக்கை எடுக்கலாம்



145. Properties found on the corpses of unidentified persons, who have died of natural causes, shall be taken charge of by the police and sent to which of the following authority ?
- A) Judicial Magistrate                      B) Thasildar  
C) Village Administrative Officer        D) District Superintendent of police
145. இயற்கை காரணங்களால் இறந்து போன அடையாளம் தெரியாத பிணங்களின் மேலுள்ள சொத்துக்களை காவல் துறையினர் கைப்பற்றி யாருக்கு அவற்றை அனுப்பி வைக்க வேண்டும்
- A) நீதித்துறை நடுவர்                      B) வட்டாட்சியர்  
C) கிராம நிர்வாக அலுவலர்              D) மாவட்ட காவல் கண்காணிப்பாளர்
146. Can a Head Constable or a Constable declare an assembly as unlawful ? If so/not, under what provisions ?
- A) Can declare-P.S.O 703 CrPC 36  
B) Is not empowered-P.S.O 703 (d) r/w 129 CrPC  
C) Can declare-P.S.O 703 CrPC 97  
D) Can declare under emergency P.S.O-703 CrPC 147
146. ஒரு தலைமை காவலரோ அல்லது ஒரு காவலரோ ஒரு கூட்டத்தை சட்ட விரோதமான கூட்டம் என்று வினம்புகை செய்ய அதிகாரம் கொண்டவரா ? ஆம்/இல்லை, எனில் எந்த பிரிவுகளின் படி ?
- A) ஆம். கா.நி.ஆ. 703 கு.ந.ச. 36  
B) அதிகாரம் கொண்டவரல்லர் கா.நி.ஆ. 703 (d) கு.ந.ச.129  
C) ஆம். கா.நி.ஆ. 703 கு.ந.ச. 97  
D) ஆம். அவசர காலங்களில் கா.நி. ஆ. 703 கு.ந.ச. 147
147. Is a Head Constable manning police out-post empowered to register F.I.R ?
- A) Yes can Register F.I.R                      B) Make G.D. entry and report to SHO  
C) Only in Mir.or cases                      D) Only in Grave Cases
147. புறக்காவலிடப் பொறுப்பிலுள்ள ஓர் தலைமைக் காவலர் முதல் தகவல் அறிக்கை (F.I.R)பதிவு செய்ய அதிகாரம் கொண்டவரா ?
- A) ஆம். மு.த.அ. பதிவு செய்யலாம்  
B) பொது நாட்குறிப்பில் பதிவு செய்து கொண்டு காவல் நிலைய அலுவலருக்கு அறிக்கை செய்ய வேண்டும்  
C) சிறு வழக்குகளில் மட்டும்  
D) பெருங்குற்றங்களில் மட்டும்
148. Station crime history consists of how many parts ?
- A) 2 parts                      B) Only one part                      C) 3 parts                      D) 5 parts
148. காவல் நிலையக் குற்ற வரலாறு எத்தனை பகுதிகள் கொண்டது ?
- A) 2 பகுதிகள்                      B) ஒரே ஒரு பகுதி  
C) 3 பகுதிகள்                      D) 5 பகுதிகள்



149. In respect of charges of tortures or death or grievous hurt caused by the police the senior officer receiving a complaint should after a general enquiry, report the case at once to
- A) A D.I.G. of police
  - B) A Superintendent of police
  - C) Inspector General of police
  - D) Revenue Divisional Officer
149. ஒரு நபருக்கு சித்திரவாதையோ, மரணம் அல்லது படுகாயமோ காவல் துறையினரால் உண்டாக்கப்பட்டது என்ற புகார் வருமாயின் அதை பெரும் உயர் அதிகாரி பொதுவான ஒரு விசாரணை நடத்திவிட்டு உடனடியாக அதை யாருக்கு அனுப்பிவைக்க வேண்டும் ?
- A) காவல் துறைத் துணைத் தலைவர்
  - B) காவல் கண்காணிப்பாளர்
  - C) காவல் துறைத் தலைவர்
  - D) கோட்ட ஆட்சியாளர் அவர்களுக்கு
150. The personal files of the Head Constables in the Taluk police are maintained and kept in the custody of
- A) Sub divisional police officer
  - B) Superintendent of police
  - C) Deputy Inspector General of Police
  - D) Inspector General of police
150. தாலுக்கா காவல் நிலைய தலைமைக் காவலர்களுடைய மந்தணக் கோப்புகள் யாருடைய பொறுப்பில் வைத்து பராமரிக்கப்படுகின்றது ?
- A) உட்கோட்ட காவல் அதிகாரி
  - B) காவல் கண்காணிப்பாளர்
  - C) காவல் துறைத் துணைத் தலைவர்
  - D) காவல் துறைத் தலைவர்
151. Who in the village is provided with a badge with inscription "Village Police" ?
- A) Police Constable
  - B) Village Head man
  - C) Thalaiyari
  - D) Karnam
151. கிராமங்களில் எவருக்கு "கிராம காவலர்" என்ற வில்லை வழங்கப்பட்டுள்ளது ?
- A) காவலருக்கு
  - B) கிராம தலைவருக்கு
  - C) தலையாரிக்கு
  - D) கர்ணத்திற்கு

152. Which P.S.O states persons whose finger prints are to be taken for record ?  
 A) 802 B) 803 C) 804 D) 801
152. எந்த காவல் நிலை ஆணை எண், எவர்களுடைய விரல் பதிவுகளை ஆவணத்திற்காக எடுத்துக் கொள்ள வேண்டும் என்று கூறுகிறது ?  
 A) 802 B) 803 C) 804 D) 801
153. The possession of lathi by constable during large assemblies such as festivals, processions and the like is mentioned in P.S.O.  
 A) 375 B) 537 C) 735 D) 374
153. திருவிழாக்கள், ஊர்வலங்கள், முதலியன போன்ற பெரும் கூட்டங்கள் கூடும் சமயத்தில் அலுவலின் பேரில் அமர்த்தப்படும் காவலர்கள் வழக்கமான தடிக்களை வைத்துக் கொள்ள வேண்டும் என கூறும் கா.நி.ஆ. எண். \_\_\_\_\_  
 A) 375 B) 537 C) 735 D) 374
154. Use of handcuffs to the accused is dealt in P.S.O. \_\_\_\_\_  
 A) 641 B) 640 C) 645 D) 650
154. கைதிக்கு கைவிலங்கு போடுதல் பற்றி குறிப்பிடும் காவல் நிலை ஆணை எண். \_\_\_\_\_  
 A) 641 B) 640 C) 645 D) 650
155. Police officers are forbidden to issue one of the following to private individuals  
 A) Copy of F.I.R. B) Character certificate  
 C) Copy of search list D) Witness summons
155. கீழ்க்கண்டவற்றுள் எதை தனியார்களுக்கு வழங்க காவல் அதிகாரிகள் தடைச் செய்யப்பட்டுள்ளனர் ?  
 A) முதல் தகவல் அறிக்கை நகல்  
 B) பண்பு சான்றிதழ்  
 C) தேடுதல் பட்டியல் நகல்  
 D) சாட்சிகளின் அழைப்பாணை
156. A person who is arrested by police should be informed of the following  
 i) His grounds of arrest  
 ii) His right to be consulted and defended by legal practitioner  
 iii) Source of Information leading to arrest  
 A) (i) alone B) (ii) alone  
 C) (i) and (ii) only D) (i), (ii) and (iii)
156. கைது செய்யப்பட்ட நபருக்கு பின்வருபவைகளை பற்றி கூற வேண்டும்  
 i) அவரை கைது செய்யப்பட்டதற்கான காரணம்/காரணங்கள்  
 ii) வழக்கறிஞரை கலந்தாய்வு செய்வதற்கான அவரது உரிமை  
 iii) கைது செய்ய உதவிய தகவலின் மூலத்தை  
 A) (i) மட்டும் B) (ii) மட்டும்  
 C) (i) மற்றும் (ii) மட்டும் D) (i),(ii),(iii) ஆகிய மூன்றும்



157. Appeal against acquittal in a case is decided by  
A) Superintendent of police B) D.I.G. of police  
C) District Collector D) State Government
157. விடுதலையான வழக்கின் மீதான மேல்முறையீடு செய்வதைத் தீர்மானிப்பது யார் ?  
A) காவல் கண்காணிப்பாளர் B) காவல் துறை துணைத்தலைவர்  
C) மாவட்ட ஆட்சியர் D) மாநில அரசாங்கம்
158. 'Q' - Branch deals with  
A) Idol thefts B) Accidents  
C) Extremists D) Police Administration
158. 'Q' - பிரிவின் வேலை  
A) சிலை திருட்டுகள் பற்றியது B) லிபத்துகள் பற்றியது  
C) தீவிரவாதிகளைக் கண்காணிப்பது D) காவல் நிர்வாகம் பற்றியது
159. Who conducts the examination for selection of IPS officers ?  
A) TNPSC B) UPSC C) BSRB D) RRB
159. இந்திய காவல் பணி அதிகாரிகளைத் தேர்ந்தெடுக்கும் தேர்வுகளை நடத்துவது யார் ?  
A) டி.என்.பி.எஸ்.சி B) யு.பி.எஸ்.சி  
C) பி.எஸ்.ஆர்.பி D) ஆர்.ஆர்.பி
160. Police Personnel Information System (PPIS) is maintained by  
A) Modus operandi Bureau  
B) Tamil Nadu Police Computer Wing  
C) Crime Branch Criminal Investigation Department  
D) Special Branch Criminal Investigation Department
160. காவல் அலுவலர்களின் பணிமுறைத் தகவல்களைப் (PPIS) பராமரிப்பது  
A) செயல் முறை கூடம்  
B) தமிழ்நாடு காவல் கணினி பிரிவு  
C) குற்றப்பிரிவு குற்றப் புலனாய்வுத் துறை  
D) தனிப்பிரிவு குற்றப் புலனாய்வுத் துறை
161. Final report is prescribed by which section of Criminal Procedure Code ?  
A) 173 B) 154 C) 82 D) 436
161. இறுதி அறிக்கை குற்ற விசாரணை முறைச் சட்டத்தின் எந்த பிரிவின் கீழ் ஏற்படுத்தப்பட்டுள்ளது ?  
A) 173 B) 154 C) 82 D) 436
162. Sardar Vallabhai Patel National Police Academy is situated at  
A) New Delhi B) Dehradun C) Hyderabad D) Mussooree
162. சர்தார் வல்லபாய் பட்டேல் தேசிய காவல் கழகம் அமைந்துள்ள இடம்  
A) புது டெல்லி B) டேராடூன் C) ஹைதராபாத் D) முசோரி



163. With whose order, a police officer can investigate a non- cognizable offence ?
- A) Judicial Magistrate  
B) Deputy Superintendent of Police  
C) Thasildar  
D) Superintendent of Police
163. காவல் அதிகாரி யாருடைய ஆணையின் பேரில் பிடிக்கக் கூடாத குற்றத்தின் மீது புலன் விசாரணை செய்யலாம் ?
- A) குற்றவியல் நடுவர்  
B) காவல் துணைக் கண்காணிப்பாளர்  
C) வட்டாச்சியர்  
D) காவல் கண்காணிப்பாளர்
164. Within how many hours, arrested person shall be produced before Magistrate excluding the time necessary for the journey from the place of arrest to the court ?
- A) 12 hours  
B) 48 hours  
C) 24 hours  
D) 36 hours
164. கைது செய்யப்பட்ட ஒருவர் கைது செய்யப்பட்ட இடத்திலிருந்து நீதிமன்றத்திற்கு அழைத்து வர நேர்ந்த நேரம் தவிர்த்து எத்தனை மணி நேரத்திற்குள் குற்றவியல் நடுவர் முன்பு ஆஜர் படுத்தப்பட வேண்டும் ?
- A) 12 மணி  
B) 48 மணி  
C) 24 மணி  
D) 36 மணி
165. The appointing authority of Sub-Inspectors of Police is
- A) Dy. Superintendent of Police  
B) Superintendent of Police  
C) D.I.G. of Police  
D) Director General of Police
165. உதவி ஆய்வாளர்களை நியமனம் செய்யும் அதிகாரம் கொண்டவர்
- A) துணை காவல் கண்காணிப்பாளர்  
B) காவல் கண்காணிப்பாளர்  
C) காவல் துணைத் தலைவர்  
D) காவல் துறை இயக்குநர்
166. A Police Officer, who is on compulsory wait can avail joining time to join his new post for
- A) 6 days  
B) 7 days  
C) 2 days  
D) No joining time
166. கட்டாயக் காத்திருப்பில் உள்ள ஒரு அலுவலர் தனது புதிய பதவியில் சேர எவ்வளவு நாட்கள் எடுத்துக் கொள்ளலாம் ?
- A) 6 நாட்கள்  
B) 7 நாட்கள்  
C) 2 நாட்கள்  
D) எதுவுமில்லை



167. What is the time limit to prefer mercy petition ?
- A) One month  
B) 3 months  
C) One year  
D) No time limit
167. கருணை மனுக்கள் சமர்ப்பிக்கும் நபர் எத்தனை நாட்களுக்குள் சமர்ப்பிக்க வேண்டும் ?
- A) ஒரு மாதம்  
B) மூன்று மாதங்கள்  
C) ஒரு ஆண்டு  
D) கால வரம்பு கிடையாது
168. The maximum period of Special Disability Leave sanctioned to a person is
- A) 24 months  
B) 12 months  
C) 6 months  
D) One month
168. சிறப்பு இயலாமை விடுப்பு அதிகபட்சமாக எவ்வளவு நாட்கள் வழங்கப்படுகிறது
- A) 24 மாதங்கள்  
B) 12 மாதங்கள்  
C) 6 மாதங்கள்  
D) ஒரு மாதம்
169. Medical History Sheets of Head Constables shall be in the custody of
- A) Station House Officer  
B) Sub-Inspector of Police  
C) Station Writer  
D) Circle Inspector
169. தலைமைக் காவலர்களின் மருத்துவ வரலாற்று ஏடுகள் \_\_\_\_\_ வசம் இருக்க வேண்டும்
- A) நிலைய காவல் அலுவலர்  
B) சார்பு-ஆய்வாளர்  
C) நிலைய எழுத்தர்  
D) வட்ட ஆய்வாளர்
170. Which of the following reward is not awarded to Sub-Inspectors of Police ?
- A) Good Service Entry  
B) Meritorious Service Entry  
C) Money reward  
D) Both A and C
170. கீழ்கண்டவற்றில் உதவி ஆய்வாளர்களுக்கு வழங்கப்படாத வெகுமதி எது ?
- A) நற்பணிப் பதிவு  
B) மெச்சத் தகுந்த பணிப் பதிவு  
C) பண வெகுமதி  
D) A மற்றும் C