

This booklet contains 28+4 printed pages.

इस पुस्तिका में 28+4 मुद्रित पृष्ठ हैं।

No.:

PAPER - 2 : MATHEMATICS & APTITUDE TEST

परीक्षा पुस्तिका - 2: गणित तथा अभिरुचि परीक्षण

Test Booklet Code

परीक्षा पुस्तिका संकेत

Do not open this Test Booklet until you are asked to do so.

इस परीक्षा पुस्तिका को तब तक न खोलें जब तक कहा न जाए।

Read carefully the Instructions on the Back Cover of this Test Booklet.

इस परीक्षा पुस्तिका के पिछले आवरण पर दिए गए निर्देशों को ध्यान से पढ़ें।

Important Instructions :

महत्वपूर्ण निर्देश :

1. Immediately fill in the particulars on this page of the Test Booklet with *Blue/Black Ball Point Pen*.
2. This Test Booklet consists of three parts - **Part I, Part II and Part III**. **Part I** has 30 objective type questions of Mathematics consisting of **FOUR (4)** marks each for each correct response. **Part II** Aptitude Test has 50 objective type questions consisting of **FOUR (4)** marks for each correct response. Mark your answers for these questions in the appropriate space against the number corresponding to the question in the Answer Sheet placed inside this Test Booklet. *Use Blue/Black Ball Point Pen only for writing particulars/markings responses on Side-1 and Side-2 of the Answer Sheet.* **Part III** consists of 2 questions carrying 70 marks which are to be attempted on a separate Drawing Sheet which is also placed inside this Test Booklet. Marks allotted to each question are written against each question. *Use colour pencils or crayons only on the Drawing Sheet. Do not use water colours.* For each *incorrect response* in Part I and Part II, *one-fourth (1/4)* of the total marks allotted to the question would be deducted from the total score. *No deduction* from the total score, however, will be made *if no response* is indicated for an item in the Answer Sheet.
3. There is only one correct response for each question in Part I and Part II. Filling up more than one response in each question will be treated as wrong response and marks for wrong response will be deducted accordingly as per instruction 2 above.
4. The test is of 3 hours duration. The maximum marks are 390.
5. On completion of the test, the candidates must hand over the Answer Sheet of **Mathematics and Aptitude Test-Part I & II** and the **Drawing Sheet of Aptitude Test-Part III** to the Invigilator in the Room/Hall. Candidates are allowed to take away with them the Test Booklet of **Aptitude Test-Part I & II**.
6. The CODE for this Booklet is **E**. Make sure that the CODE printed on **Side-2** of the Answer Sheet and on the Drawing Sheet (**Part III**) is the same as that on this booklet. Also tally the Serial Number of the Test Booklet, Answer Sheet and Drawing Sheet and ensure that they are same. In case of discrepancy in Code or Serial Number, the candidate should immediately report the matter to the Invigilator for replacement of the Test Booklet, Answer Sheet and the Drawing Sheet.

1. परीक्षा पुस्तिका के इस पृष्ठ पर आवश्यक विवरण *नीले/ काले बॉल पाइंट पेन* से तत्काल भरें।
2. इस परीक्षा पुस्तिका के तीन भाग हैं - **भाग I, भाग II एवं भाग III**. पुस्तिका के **भाग I** में गणित के 30 वस्तुनिष्ठ प्रश्न हैं जिसमें प्रत्येक प्रश्न के सही उत्तर के लिये **चार (4)** अंक निर्धारित किये गये हैं। **भाग II** अभिरुचि परीक्षण में 50 वस्तुनिष्ठ प्रश्न हैं जिनमें प्रत्येक सही उत्तर के लिए **चार (4)** अंक हैं। इन प्रश्नों का उत्तर इस परीक्षा पुस्तिका में रखे उत्तर पत्र में संगत क्रम संख्या के गोले में गहरा निशान लगाकर दीजिए। **उत्तर पत्र के पृष्ठ-1 एवं पृष्ठ-2 पर वांछित विवरण लिखने एवं उत्तर अंकित करने हेतु केवल नीले/ काले बॉल पाइंट पेन का ही प्रयोग करें।** पुस्तिका के **भाग III** में 2 प्रश्न हैं जिनके लिए 70 अंक निर्धारित हैं। यह प्रश्न इसी परीक्षा पुस्तिका के अन्दर रखी ड्राइंग शीट पर करने हैं। प्रत्येक प्रश्न हेतु निर्धारित अंक प्रश्न के सम्मुख अंकित हैं। **ड्राइंग शीट पर केवल रंगीन पेंसिल अथवा क्रेयोन का ही प्रयोग करें। पानी के रंगों का प्रयोग न करें।** भाग I और भाग II में प्रत्येक गलत उत्तर के लिए उस प्रश्न के लिए निर्धारित कुल अंकों में से **एक-चौथाई (1/4)** अंक कुल योग में से काट लिए जाएँगे। यदि उत्तर पत्र में किसी प्रश्न का कोई उत्तर **नहीं** दिया गया है, तो कुल योग में से कोई **अंक नहीं** काटे जाएँगे।
3. इस परीक्षा पुस्तिका के भाग I और भाग II में प्रत्येक प्रश्न का केवल एक ही सही उत्तर है। एक से अधिक उत्तर देने पर उसे गलत उत्तर माना जायेगा और उपरोक्त निर्देश 2 के अनुसार अंक काट लिये जायेंगे।
4. परीक्षा की अवधि 3 घंटे है। अधिकतम अंक 390 हैं।
5. परीक्षा समाप्त होने पर, परीक्षार्थी गणित एवं अभिरुचि परीक्षण-भाग I एवं II का उत्तर पत्र एवं अभिरुचि परीक्षण-भाग III की ड्राइंग शीट हाल/कक्ष निरीक्षक को सौंपकर ही परीक्षा हाल/कक्ष छोड़ें। परीक्षार्थी अभिरुचि परीक्षण-भाग I एवं II की परीक्षा पुस्तिका अपने साथ ले जा सकते हैं।
6. इस पुस्तिका का संकेत **E** है। यह सुनिश्चित कर लें कि इस पुस्तिका का संकेत, उत्तर पत्र के पृष्ठ-2 एवं ड्राइंग शीट (भाग-III) पर छपे संकेत से मिलता है। यह भी सुनिश्चित कर लें कि परीक्षा पुस्तिका, उत्तर पत्र एवं ड्राइंग शीट पर क्रम संख्या मिलती है। अगर संकेत या क्रम संख्या भिन्न हों, तो परीक्षार्थियों को निरीक्षक से दूसरी परीक्षा पुस्तिका, उत्तर पत्र एवं ड्राइंग शीट लेने के लिए उन्हें तुरन्त इस त्रुटि से अवगत कराना चाहिए।

Name of the Candidate (in Capitals): _____

परीक्षार्थी का नाम (बड़े अक्षरों में) :

Roll Number : in figures

अनुक्रमांक

: अंकों में

--	--	--	--	--	--	--	--	--	--

: in words

: शब्दों में

Examination Centre Number :

परीक्षा केन्द्र नम्बर :

--	--	--	--	--	--	--	--

Centre of Examination (in Capitals) : _____

परीक्षा केन्द्र (बड़े अक्षरों में) :

Candidate's Signature : _____

परीक्षार्थी के हस्ताक्षर :

Invigilator's Signature (1) : _____

निरीक्षक के हस्ताक्षर (1) :

Invigilator's Signature (2) : _____

निरीक्षक के हस्ताक्षर (2) :

SEAL

Part I / भाग I
Mathematics / गणित

1. **Statement 1** : Point of intersection of the tangents drawn to the parabola $x^2=4y$ at $(4, 4)$ and $(-4, 4)$ lies on the y -axis.

Statement 2 : Tangents drawn at the extremities of the latus rectum of the parabola $x^2=4ay$ intersect on the axis of the parabola.

- (1) Statement 1 is true, Statement 2 is true, Statement 2 is a correct explanation for Statement 1.
- (2) Statement 1 is true, Statement 2 is true, Statement 2 is **not** a correct explanation for Statement 1.
- (3) Statement 1 is true, Statement 2 is false.
- (4) Statement 1 is false, Statement 2 is true.

2. The value of $\tan 9^\circ - \tan 27^\circ - \tan 63^\circ + \tan 81^\circ$ is :

- (1) 4
- (2) 3
- (3) 2
- (4) 0

3. If $f(x) = |x| + [x-1]$, where $[\cdot]$ is greatest integer function, then $f(x)$ is :

- (1) continuous at $x=0$ as well as at $x=1$.
- (2) continuous at $x=0$ but not at $x=1$.
- (3) continuous at $x=1$ but not at $x=0$.
- (4) neither continuous at $x=0$ nor at $x=1$.

1. **कथन 1** : परवलय $x^2=4y$ के बिन्दुओं $(4, 4)$ तथा $(-4, 4)$ पर खींची गई स्पर्श रेखाओं का प्रतिच्छेदन बिंदु y -अक्ष पर स्थित है।

कथन 2 : परवलय $x^2=4ay$ के नाभिलंब के अंतर्बिंदुओं पर खींची गई स्पर्श रेखाएँ इसके अक्ष पर प्रतिच्छेद करती हैं।

- (1) कथन 1 सत्य है, कथन 2 सत्य है ; कथन 2, कथन 1 की सही व्याख्या है।
- (2) कथन 1 सत्य है, कथन 2 सत्य है ; कथन 2, कथन 1 की सही व्याख्या नहीं है।
- (3) कथन 1 सत्य है, कथन 2 असत्य है।
- (4) कथन 1 असत्य है, कथन 2 सत्य है।

2. $\tan 9^\circ - \tan 27^\circ - \tan 63^\circ + \tan 81^\circ$ का मान है :

- (1) 4
- (2) 3
- (3) 2
- (4) 0

3. यदि $f(x) = |x| + [x-1]$ है, जहाँ $[\cdot]$ महत्तम पूर्णांक फलन दर्शाता है, तो $f(x)$:

- (1) $x=0$ तथा $x=1$ दोनों पर संतत है।
- (2) $x=0$ पर संतत है परन्तु $x=1$ पर नहीं है।
- (3) $x=1$ पर संतत है परन्तु $x=0$ पर नहीं है।
- (4) न तो $x=0$ पर संतत है और न ही $x=1$ पर।

4. A class consists of 80 students, 25 of them are girls. If 10 of the students are rich and 20 of the students are fair complexioned, then the probability of selecting a fair complexioned rich girl from the class (assuming three traits as independent) is :

(1) $\frac{1}{10}$

(2) $\frac{1}{32}$

(3) $\frac{5}{512}$

(4) $\frac{7}{512}$

5. The number of 4 - digit numbers with distinct digits is :

(1) 504

(2) 4536

(3) 4634

(4) 5040

6. Each side of a square is increasing at the uniform rate of 1 m/sec. If after some time the area of the square is increasing at the rate of $8 \text{ m}^2/\text{sec}$, then the area of square at that time in sq. meters is :

(1) 4

(2) 9

(3) 16

(4) 25

4. एक कक्षा में 80 विद्यार्थी हैं जिनमें से 25 छात्राएँ हैं। यदि 10 विद्यार्थी अमीर हैं तथा 20 विद्यार्थी गौरवर्ण के हैं, तो कक्षा से एक गौरवर्ण की अमीर छात्रा चुने जाने की प्रायिकता (यह मानते हुए कि तीनों विशेषताएं स्वतंत्र हैं) है :

(1) $\frac{1}{10}$

(2) $\frac{1}{32}$

(3) $\frac{5}{512}$

(4) $\frac{7}{512}$

5. विभिन्न अंकों वाली 4 - अंकों की संख्याओं, की संख्या है :

(1) 504

(2) 4536

(3) 4634

(4) 5040

6. एक वर्ग की प्रत्येक भुजा 1 मी./से. की एक समान दर से बढ़ रही है। यदि कुछ समय के पश्चात वर्ग का क्षेत्रफल 8 वर्ग मी./से. की दर से बढ़ रहा है, तो उस समय वर्ग का क्षेत्रफल, वर्ग मीटर में, है :

(1) 4

(2) 9

(3) 16

(4) 25

7. If a chord of a circle $x^2 + y^2 = 4$ with one extremity at $(1, \sqrt{3})$ subtends a right angle at the centre of this circle, then the coordinates of the other extremity of this chord can be :

- (1) $(-1, \sqrt{3})$
- (2) $(1, -\sqrt{3})$
- (3) $(-\sqrt{3}, -1)$
- (4) $(\sqrt{3}, -1)$

8. Amongst the following functions, a function that is differentiable at $x=0$ is :

- (1) $\cos(|x|) - |x|$
- (2) $\cos(|x|) + |x|$
- (3) $\sin(|x|) + |x|$
- (4) $\sin(|x|) - |x|$

9. The tangent to ellipse $3x^2 + 16y^2 = 12$, at the point $(1, \frac{3}{4})$, intersects the curve $y^2 + x = 0$ at :

- (1) no point
- (2) exactly one point
- (3) two distinct points
- (4) more than two points

7. यदि वृत्त $x^2 + y^2 = 4$ की एक जीवा, जिसका एक अंतिम बिंदु $(1, \sqrt{3})$ है, वृत्त के केंद्र पर समकोण अंतरित करती है, तो इस जीवा के दूसरे अंतिम बिंदु के निर्देशांक हो सकते हैं :

- (1) $(-1, \sqrt{3})$
- (2) $(1, -\sqrt{3})$
- (3) $(-\sqrt{3}, -1)$
- (4) $(\sqrt{3}, -1)$

8. निम्नलिखित फलनों में से वह फलन जो $x=0$ पर अवकलनीय है, है :

- (1) $\cos(|x|) - |x|$
- (2) $\cos(|x|) + |x|$
- (3) $\sin(|x|) + |x|$
- (4) $\sin(|x|) - |x|$

9. दीर्घवृत्त $3x^2 + 16y^2 = 12$ के बिंदु $(1, \frac{3}{4})$ पर खींची गई स्पर्श रेखा वक्र $y^2 + x = 0$ को काटती है :

- (1) किसी भी बिंदु पर नहीं।
- (2) केवल एक बिंदु पर।
- (3) दो विभिन्न बिंदुओं पर।
- (4) दो से अधिक बिंदुओं पर।

10. **Statement 1 :** Consider the statements

p : Delhi is in India

q : Mumbai is not in Italy.

Then the negation of statement $p \vee q$, is 'Delhi is not in India and Mumbai is in Italy'.

Statement 2 : For any two statements p and q

$$\sim(p \vee q) = \sim p \vee \sim q$$

- (1) Statement 1 is true, Statement 2 is true, Statement 2 is a correct explanation for Statement 1.
- (2) Statement 1 is true, Statement 2 is true, Statement 2 is **not** a correct explanation for Statement 1.
- (3) Statement 1 is true, Statement 2 is false.
- (4) Statement 1 is false, Statement 2 is true.

11. If \vec{a} and \vec{b} are two vectors such that $2\vec{a} + \vec{b} = \vec{e}_1$ and $\vec{a} + 2\vec{b} = \vec{e}_2$, where $\vec{e}_1 = (1, 1, 1)$ and $\vec{e}_2 = (1, 1, -1)$, then the angle between the vectors \vec{a} and \vec{b} is :

- (1) $\cos^{-1}\left(\frac{7}{9}\right)$
- (2) $\cos^{-1}\left(\frac{7}{11}\right)$
- (3) $\cos^{-1}\left(-\frac{7}{11}\right)$
- (4) $\cos^{-1}\left(-\frac{7}{9}\right)$

10. **कथन 1 :** निम्नलिखित कथनों पर विचार कीजिए।

p : दिल्ली भारत में है।

q : मुंबई इटली में नहीं है।

तो कथन $p \vee q$ का निषेध कथन है 'दिल्ली भारत में नहीं है तथा मुंबई इटली में है'।

कथन 2 : किन्हीं दो कथनों p तथा q के लिए

$$\sim(p \vee q) = \sim p \vee \sim q$$

- (1) कथन 1 सत्य है, कथन 2 सत्य है ; कथन 2, कथन 1 की सही व्याख्या है।
- (2) कथन 1 सत्य है, कथन 2 सत्य है ; कथन 2, कथन 1 की सही व्याख्या **नहीं** है।
- (3) कथन 1 सत्य है, कथन 2 असत्य है।
- (4) कथन 1 असत्य है, कथन 2 सत्य है।

11. यदि \vec{a} तथा \vec{b} दो ऐसे सदिश हैं कि $2\vec{a} + \vec{b} = \vec{e}_1$ तथा $\vec{a} + 2\vec{b} = \vec{e}_2$ है, जहाँ $\vec{e}_1 = (1, 1, 1)$ तथा $\vec{e}_2 = (1, 1, -1)$ हैं, तो \vec{a} तथा \vec{b} के बीच का कोण है :

- (1) $\cos^{-1}\left(\frac{7}{9}\right)$
- (2) $\cos^{-1}\left(\frac{7}{11}\right)$
- (3) $\cos^{-1}\left(-\frac{7}{11}\right)$
- (4) $\cos^{-1}\left(-\frac{7}{9}\right)$

12. Using the fact that
 $0 \leq f(x) \leq g(x), c < x < d \Rightarrow$
 $\int_c^d f(x) dx \leq \int_c^d g(x) dx$, we can conclude

that $\int_1^3 \sqrt{3+x^3} dx$ lies in the interval :

(1) $\left(\frac{1}{2}, 3\right)$

(2) $(2, \sqrt{30})$

(3) $\left(\frac{3}{2}, 5\right)$

(4) $(4, 2\sqrt{30})$

13. The integral $\int \frac{dx}{(a^2 - b^2 x^2)^{3/2}}$, equals :

(1) $\frac{x}{\sqrt{a^2 - b^2 x^2}} + C$

(2) $\frac{x}{a^2 \sqrt{a^2 - b^2 x^2}} + C$

(3) $\frac{ax}{\sqrt{a^2 - b^2 x^2}} + C$

(4) $\frac{1}{a^2 \sqrt{a^2 - b^2 x^2}} + C$

12. तथ्य $0 \leq f(x) \leq g(x), c < x < d \Rightarrow$

$$\int_c^d f(x) dx \leq \int_c^d g(x) dx, \text{ के प्रयोग से हम यह}$$

निष्कर्ष निकाल सकते हैं कि $\int_1^3 \sqrt{3+x^3} dx$ जिस

अंतराल में स्थित है, वह है :

(1) $\left(\frac{1}{2}, 3\right)$

(2) $(2, \sqrt{30})$

(3) $\left(\frac{3}{2}, 5\right)$

(4) $(4, 2\sqrt{30})$

13. समाकल $\int \frac{dx}{(a^2 - b^2 x^2)^{3/2}}$, बराबर है :

(1) $\frac{x}{\sqrt{a^2 - b^2 x^2}} + C$

(2) $\frac{x}{a^2 \sqrt{a^2 - b^2 x^2}} + C$

(3) $\frac{ax}{\sqrt{a^2 - b^2 x^2}} + C$

(4) $\frac{1}{a^2 \sqrt{a^2 - b^2 x^2}} + C$

14. Let $f(x) = x^2 - 8x + 12$, $x \in [2, 6]$.

Statement 1 : $f'(c) = 0$ for some $c \in (2, 6)$

Statement 2 : f is continuous on $[2, 6]$ and differentiable on $(2, 6)$, with $f(2) = f(6)$.

- (1) Statement 1 is true, Statement 2 is true, Statement 2 is a correct explanation for Statement 1.
- (2) Statement 1 is true, Statement 2 is true, Statement 2 is **not** a correct explanation for Statement 1.
- (3) Statement 1 is true, Statement 2 is false.
- (4) Statement 1 is false, Statement 2 is true.

15. Let $a, b, c \in \mathbb{R}$, $a > 0$ and function $f: \mathbb{R} \rightarrow \mathbb{R}$ be defined by $f(x) = ax^2 + bx + c$.

Statement 1 : $b^2 < 4ac \Rightarrow f(x) > 0$, for every value of x .

Statement 2 : f is strictly decreasing in the interval $\left(-\infty, \frac{-b}{2a}\right)$ and strictly increasing in the interval $\left(\frac{-b}{2a}, \infty\right)$.

- (1) Statement 1 is true, Statement 2 is true, Statement 2 is a correct explanation for Statement 1.
- (2) Statement 1 is true, Statement 2 is true, Statement 2 is **not** a correct explanation for Statement 1.
- (3) Statement 1 is true, Statement 2 is false.
- (4) Statement 1 is false, Statement 2 is true.

14. माना $f(x) = x^2 - 8x + 12$, $x \in [2, 6]$ है।

कथन 1 : किसी $c \in (2, 6)$ के लिए $f'(c) = 0$ है।

कथन 2 : f , $[2, 6]$ पर संतत है तथा $(2, 6)$ पर अवकलनीय है तथा $f(2) = f(6)$ है।

- (1) कथन 1 सत्य है, कथन 2 सत्य है ; कथन 2, कथन 1 की सही व्याख्या है।
- (2) कथन 1 सत्य है, कथन 2 सत्य है ; कथन 2, कथन 1 की सही व्याख्या नहीं है।
- (3) कथन 1 सत्य है, कथन 2 असत्य है।
- (4) कथन 1 असत्य है, कथन 2 सत्य है।

15. माना $a, b, c \in \mathbb{R}$, $a > 0$ है तथा फलन $f: \mathbb{R} \rightarrow \mathbb{R}$, $f(x) = ax^2 + bx + c$ द्वारा परिभाषित है,

कथन 1 : $b^2 < 4ac \Rightarrow f(x) > 0$, x के सभी मानों के लिए।

कथन 2 : f अंतराल $\left(-\infty, \frac{-b}{2a}\right)$ में निरंतर ह्रासमान है तथा अंतराल $\left(\frac{-b}{2a}, \infty\right)$ में निरंतर वर्धमान है।

- (1) कथन 1 सत्य है, कथन 2 सत्य है ; कथन 2, कथन 1 की सही व्याख्या है।
- (2) कथन 1 सत्य है, कथन 2 सत्य है ; कथन 2, कथन 1 की सही व्याख्या नहीं है।
- (3) कथन 1 सत्य है, कथन 2 असत्य है।
- (4) कथन 1 असत्य है, कथन 2 सत्य है।

16. If the line joining points A(2, 0) and B(3, 1) is rotated about A in anti-clock wise direction through an angle of 15° , then the equation of line in new position is :

(1) $\sqrt{3}x - y = 2\sqrt{3}$

(2) $\sqrt{3}x + y = 2\sqrt{3}$

(3) $x + \sqrt{3}y = 2$

(4) $x - \sqrt{3}y = 2$

17. Let L be the line $x - 4 = y - 2 = \frac{z - 7}{2}$ and P be the plane $2x - 4y + z = 7$.

Statement 1 : The line L lies in the plane P.

Statement 2 : The direction ratios of the line L are $l_1 = 1, m_1 = 1, n_1 = 2$ and that of normal to the plane P are $l_2 = 2, m_2 = -4, n_2 = 1$, and $l_1l_2 + m_1m_2 + n_1n_2 = 0$ holds.

(1) Statement 1 is true, Statement 2 is true, Statement 2 is a correct explanation for Statement 1.

(2) Statement 1 is true, Statement 2 is true, Statement 2 is **not** a correct explanation for Statement 1.

(3) Statement 1 is true, Statement 2 is false.

(4) Statement 1 is false, Statement 2 is true.

16. यदि बिंदुओं A(2, 0) तथा B(3, 1) को मिलाने वाली रेखा A के गिर्द वामावर्त दिशा में 15° घुमाई जाती है, तो रेखा का नई स्थिति में समीकरण है :

(1) $\sqrt{3}x - y = 2\sqrt{3}$

(2) $\sqrt{3}x + y = 2\sqrt{3}$

(3) $x + \sqrt{3}y = 2$

(4) $x - \sqrt{3}y = 2$

17. माना L रेखा $x - 4 = y - 2 = \frac{z - 7}{2}$ है, तथा P समतल $2x - 4y + z = 7$ है।

कथन 1 : रेखा L समतल P में स्थित है।

कथन 2 : रेखा L के दिक् अनुपात $l_1 = 1, m_1 = 1, n_1 = 2$ हैं तथा समतल P के अभिलंब के दिक् अनुपात $l_2 = 2, m_2 = -4, n_2 = 1$, हैं तथा $l_1l_2 + m_1m_2 + n_1n_2 = 0$ लागू होता है।

(1) कथन 1 सत्य है, कथन 2 सत्य है ; कथन 2, कथन 1 की सही व्याख्या है।

(2) कथन 1 सत्य है, कथन 2 सत्य है ; कथन 2, कथन 1 की सही व्याख्या **नहीं** है।

(3) कथन 1 सत्य है, कथन 2 असत्य है।

(4) कथन 1 असत्य है, कथन 2 सत्य है।

18. The total number of injective mappings from a set with m elements to a set with n elements, for $m > n$, is :

(1) $\frac{m!}{n!(m-n)!}$

(2) $\frac{m!}{(m-n)!}$

(3) n^m

(4) zero

19. If $a_i (i=0, 1, 2, \dots, 16)$ be real constants such that for every real value of x , $(1+x+x^2)^8 = a_0 + a_1x + a_2x^2 + \dots + a_{16}x^{16}$, then a_5 is equal to :

(1) 502

(2) 504

(3) 506

(4) 508

20. $\lim_{n \rightarrow \infty} \frac{1}{n} \left[1 + \frac{n^2}{n^2+1^2} + \frac{n^2}{n^2+2^2} + \dots + \frac{n^2}{n^2+(n-1)^2} \right]$ is equal to :

(1) $\frac{\pi}{2}$

(2) $\frac{\pi}{3}$

(3) $\frac{\pi}{4}$

(4) $\frac{\pi}{6}$

18. एक समुच्चय, जिसमें m अवयव हैं, से एक अन्य समुच्चय, जिसमें n अवयव हैं, ($m > n$) में एकैकी प्रतिचित्रणों की संख्या है :

(1) $\frac{m!}{n!(m-n)!}$

(2) $\frac{m!}{(m-n)!}$

(3) n^m

(4) शून्य

19. यदि $a_i (i=0, 1, 2, \dots, 16)$ ऐसे वास्तविक अचर हैं कि x के प्रत्येक वास्तविक मान के लिए $(1+x+x^2)^8 = a_0 + a_1x + a_2x^2 + \dots + a_{16}x^{16}$ है, तो a_5 बराबर है :

(1) 502

(2) 504

(3) 506

(4) 508

20. $\lim_{n \rightarrow \infty} \frac{1}{n} \left[1 + \frac{n^2}{n^2+1^2} + \frac{n^2}{n^2+2^2} + \dots + \frac{n^2}{n^2+(n-1)^2} \right]$ बराबर है :

(1) $\frac{\pi}{2}$

(2) $\frac{\pi}{3}$

(3) $\frac{\pi}{4}$

(4) $\frac{\pi}{6}$

21. If the sum of first n terms of two A.P.'s are in the ratio $3n+8 : 7n+15$, then the ratio of their 12^{th} terms is
- (1) 8 : 7
 - (2) 7 : 16
 - (3) 74 : 169
 - (4) 13 : 47
22. Two circles in complex plane are
 $C_1 : |Z-i|=2$
 $C_2 : |Z-1-2i|=4$. Then
- (1) C_1 and C_2 touch each other.
 - (2) C_1 and C_2 intersect at two distinct points.
 - (3) C_1 lies within C_2 .
 - (4) C_2 lies within C_1 .
23. The differential equation $\frac{dy}{dx} = \frac{\sqrt{1-y^2}}{y}$ determines a family of circles with
- (1) variable radius and fixed centre
 - (2) variable radius and variable centre
 - (3) fixed radius and variable centre on x -axis
 - (4) fixed radius and variable centre on y -axis
24. The reflection point of the point $(0, 3, -2)$ in the line $\frac{1-x}{2} = 2-y = z+1$ is
- (1) $(1, 2, -1)$
 - (2) $(2, 1, 4)$
 - (3) $(2, 1, 0)$
 - (4) $(0, 0, 1)$
21. यदि दो समांतर श्रेढ़ियों के प्रथम n पदों के योग में $3n+8 : 7n+15$ का अनुपात है, तो उनके 12 वें पदों में अनुपात है :
- (1) 8 : 7
 - (2) 7 : 16
 - (3) 74 : 169
 - (4) 13 : 47
22. $C_1 : |Z-i|=2$ तथा
 $C_2 : |Z-1-2i|=4$, संमिश्र समतल में दो वृत्त हैं तो :
- (1) C_1 तथा C_2 परस्पर स्पर्श करते हैं।
 - (2) C_1 तथा C_2 दो विभिन्न बिंदुओं पर प्रतिच्छेद करते हैं।
 - (3) C_1, C_2 के अन्दर स्थित है।
 - (4) C_2, C_1 के अन्दर स्थित है।
23. अवकल समीकरण $\frac{dy}{dx} = \frac{\sqrt{1-y^2}}{y}$, वृत्तों के उस कुल को निर्धारित करती है, जिसमें :
- (1) त्रिज्या चर है तथा केंद्र निश्चित है।
 - (2) त्रिज्या चर है तथा केंद्र भी चर है।
 - (3) निश्चित त्रिज्या तथा चर केंद्र है जो x -अक्ष पर है।
 - (4) निश्चित त्रिज्या तथा चर केंद्र है जो y -अक्ष पर है।
24. बिन्दु $(0, 3, -2)$ का रेखा $\frac{1-x}{2} = 2-y = z+1$ में प्रतिबिम्बित बिंदु है :
- (1) $(1, 2, -1)$
 - (2) $(2, 1, 4)$
 - (3) $(2, 1, 0)$
 - (4) $(0, 0, 1)$

25. If the mean of a set of observations x_1, x_2, \dots, x_{10} is 20 then the mean of $x_1+4, x_2+8, x_3+12, \dots, x_{10}+40$ is

- (1) 34
- (2) 42
- (3) 38
- (4) 40

26. Let $A = \begin{bmatrix} a & b \\ c & d \end{bmatrix}$, be a 2×2 matrix where a, b, c, d take the values 0 or 1 only. The number of such matrices which have inverses is :

- (1) 8
- (2) 7
- (3) 6
- (4) 5

27. If \hat{u}, \hat{v} and \hat{w} are unit vectors satisfying $2\hat{u} + 2\hat{v} + 3\hat{w} = \vec{0}$, then $|\hat{u} - \hat{v}|$ equals :

- (1) $\frac{7}{4}$
- (2) $\frac{\sqrt{5}}{2}$
- (3) $\frac{\sqrt{7}}{2}$
- (4) $\frac{5}{4}$

25. यदि प्रेक्षणों x_1, x_2, \dots, x_{10} के समुच्चय का माध्य 20 है, तो $x_1+4, x_2+8, x_3+12, \dots, x_{10}+40$ का माध्य है :

- (1) 34
- (2) 42
- (3) 38
- (4) 40

26. माना $A = \begin{bmatrix} a & b \\ c & d \end{bmatrix}$ एक 2×2 आव्यूह है जहाँ a, b, c, d के मान केवल 0 अथवा 1 है। ऐसे आव्यूहों की संख्या जिनके व्युत्क्रम हैं, है :

- (1) 8
- (2) 7
- (3) 6
- (4) 5

27. यदि \hat{u}, \hat{v} तथा \hat{w} ऐसे मात्रक सदिश हैं जो $2\hat{u} + 2\hat{v} + 3\hat{w} = \vec{0}$ को संतुष्ट करते हैं, तो $|\hat{u} - \hat{v}|$ बराबर है :

- (1) $\frac{7}{4}$
- (2) $\frac{\sqrt{5}}{2}$
- (3) $\frac{\sqrt{7}}{2}$
- (4) $\frac{5}{4}$

28. The sum of n terms of the series

$$\frac{1}{2} + \frac{3}{4} + \frac{7}{8} + \frac{15}{16} + \dots \text{ is :}$$

- (1) $2^n - n - \frac{1}{2}$
- (2) $1 - 2^{-n}$
- (3) $n + 2^{-n} - 1$
- (4) $\frac{1}{2}(2^n - 1)$

29. If m_1 and m_2 are the roots of the equation $x^2 + (\sqrt{3} + 2)x + \sqrt{3} - 1 = 0$, then the area of the triangle formed by the lines $y = m_1x$, $y = -m_2x$ and $y = 1$ is :

- (1) $\frac{1}{2} \left(\frac{\sqrt{3} + 2}{\sqrt{3} - 1} \right)$
- (2) $\frac{1}{2} \left(\frac{\sqrt{3} + 2}{\sqrt{3} + 1} \right)$
- (3) $\frac{1}{2} \left(\frac{-\sqrt{3} + 2}{\sqrt{3} - 1} \right)$
- (4) $\frac{1}{2} \left(\frac{-\sqrt{3} + 2}{\sqrt{3} + 1} \right)$

30. The value of the determinant

$$\begin{vmatrix} \sqrt{13} + \sqrt{3} & 2\sqrt{5} & \sqrt{5} \\ \sqrt{15} + \sqrt{26} & 5 & \sqrt{10} \\ 3 + \sqrt{65} & \sqrt{15} & 5 \end{vmatrix} \text{ is equal to :}$$

- (1) $5\sqrt{3}(\sqrt{6} - 5)$
- (2) $5\sqrt{3}(\sqrt{6} - \sqrt{5})$
- (3) $5(\sqrt{6} - 5)$
- (4) $\sqrt{3}(\sqrt{6} - \sqrt{5})$

28. श्रेणी

$$\frac{1}{2} + \frac{3}{4} + \frac{7}{8} + \frac{15}{16} + \dots \text{ के } n \text{ पदों का योग है :}$$

- (1) $2^n - n - \frac{1}{2}$
- (2) $1 - 2^{-n}$
- (3) $n + 2^{-n} - 1$
- (4) $\frac{1}{2}(2^n - 1)$

29. यदि m_1 तथा m_2 समीकरण

$x^2 + (\sqrt{3} + 2)x + \sqrt{3} - 1 = 0$ के मूल हैं, तो रेखाओं $y = m_1x$, $y = -m_2x$ तथा $y = 1$ से बने त्रिभुज का क्षेत्रफल है :

- (1) $\frac{1}{2} \left(\frac{\sqrt{3} + 2}{\sqrt{3} - 1} \right)$
- (2) $\frac{1}{2} \left(\frac{\sqrt{3} + 2}{\sqrt{3} + 1} \right)$
- (3) $\frac{1}{2} \left(\frac{-\sqrt{3} + 2}{\sqrt{3} - 1} \right)$
- (4) $\frac{1}{2} \left(\frac{-\sqrt{3} + 2}{\sqrt{3} + 1} \right)$

30. सारणिक

$$\begin{vmatrix} \sqrt{13} + \sqrt{3} & 2\sqrt{5} & \sqrt{5} \\ \sqrt{15} + \sqrt{26} & 5 & \sqrt{10} \\ 3 + \sqrt{65} & \sqrt{15} & 5 \end{vmatrix} \text{ का मान बराबर है :}$$

- (1) $5\sqrt{3}(\sqrt{6} - 5)$
- (2) $5\sqrt{3}(\sqrt{6} - \sqrt{5})$
- (3) $5(\sqrt{6} - 5)$
- (4) $\sqrt{3}(\sqrt{6} - \sqrt{5})$

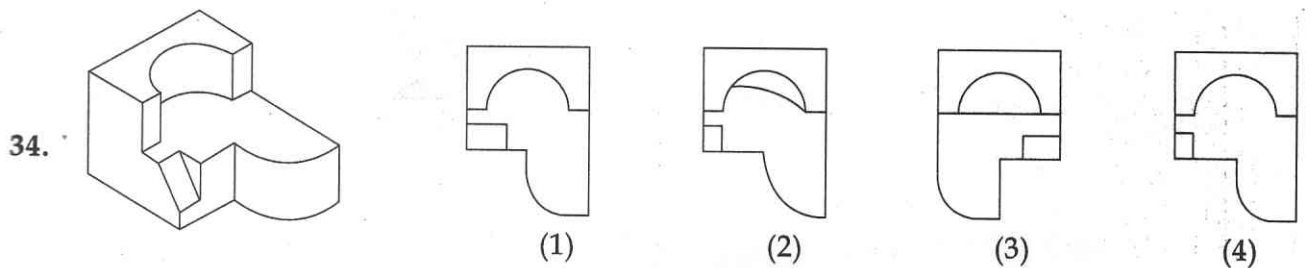
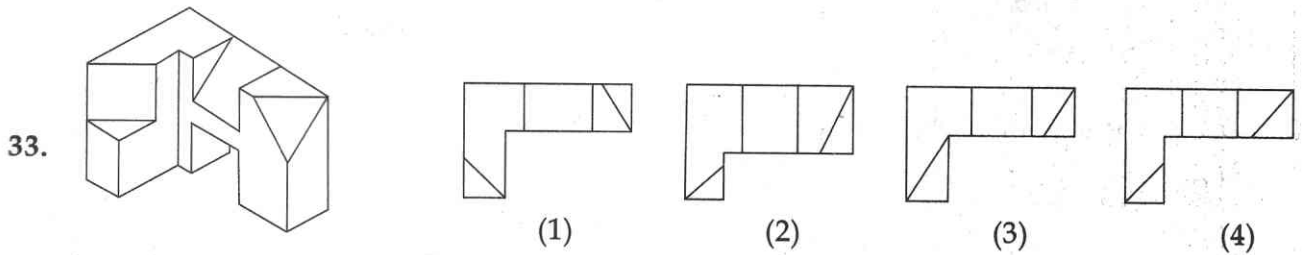
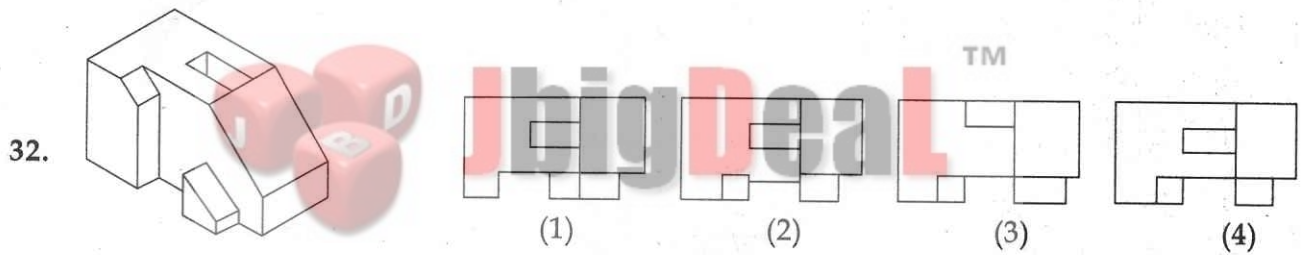
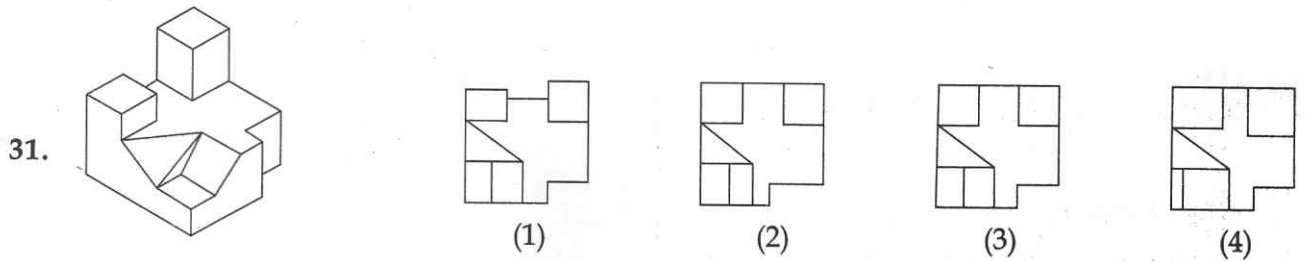
Part II / भाग II
Aptitude Test / अभिरुचि परीक्षण

Directions : (For Q. 31 to 36). The 3-D problem figure shows an object. Identify, its correct top view, from amongst the answer figures.

निर्देश : (प्र. 31 से 36 के लिए)। 3-D प्रश्न आकृति में एक वस्तु को दिखाया गया है। इसका सही ऊपरी दृश्य, उत्तर आकृतियों में से पहचानिए।

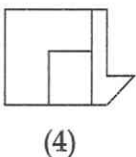
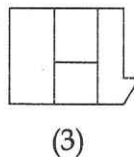
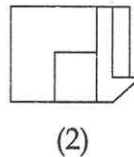
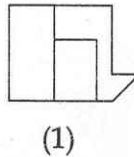
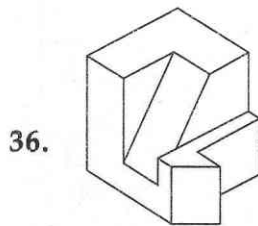
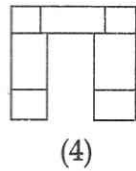
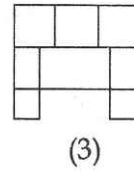
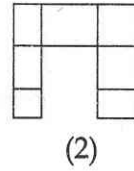
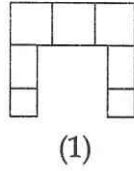
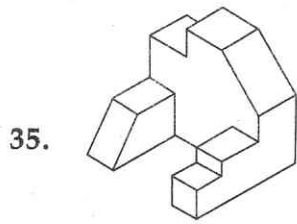
Problem Figure / प्रश्न आकृति

Answer Figures / उत्तर आकृतियाँ



Problem Figure / प्रश्न आकृति

Answer Figures / उत्तर आकृतियाँ



Directions : (For Q. 37 and 38).

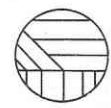
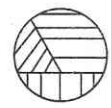
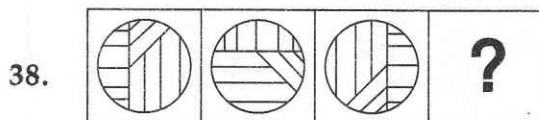
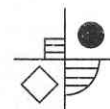
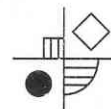
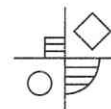
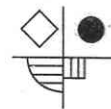
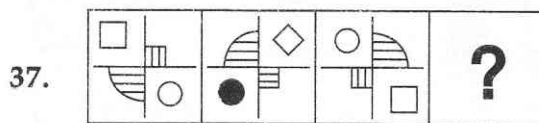
Which one of the answer figures will complete the sequence of the three problem figures ?

निर्देश : (प्र. 37 और 38 के लिए)।

उत्तर आकृतियों में से कौनसी आकृति को तीन प्रश्न आकृतियों में लगाने से अनुक्रम (sequence) पूरा हो जाएगा ?

Problem Figures / प्रश्न आकृतियाँ

Answer Figures / उत्तर आकृतियाँ

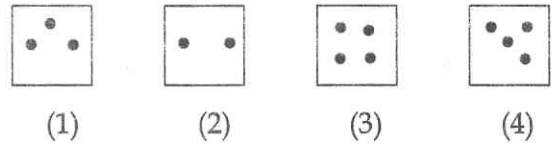
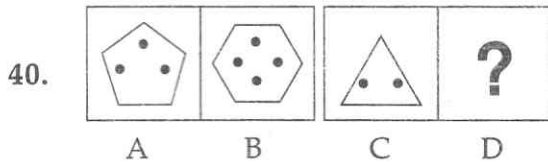
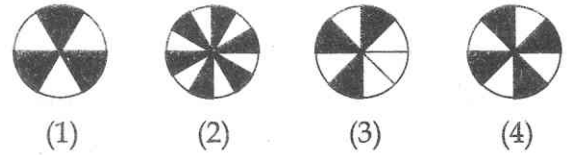
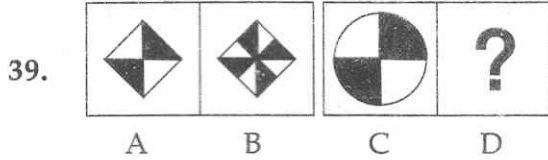


Directions : (For Q. 39 and 40). In the problem figures, A and B have certain relation. Identify, which one of the answer figures, will have similar relation between C and D ?

निर्देश : (प्र. 39 और 40 के लिए)। प्रश्न आकृतियों A और B में एक निश्चित सम्बन्ध है। ज्ञात करो कि C और D में ऐसा निश्चित सम्बन्ध, उत्तर आकृतियों में से किसमें होगा ?

Problem Figures / प्रश्न आकृतियाँ

Answer Figures / उत्तर आकृतियाँ

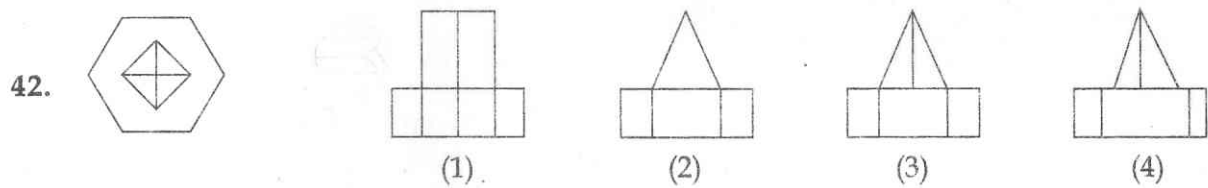
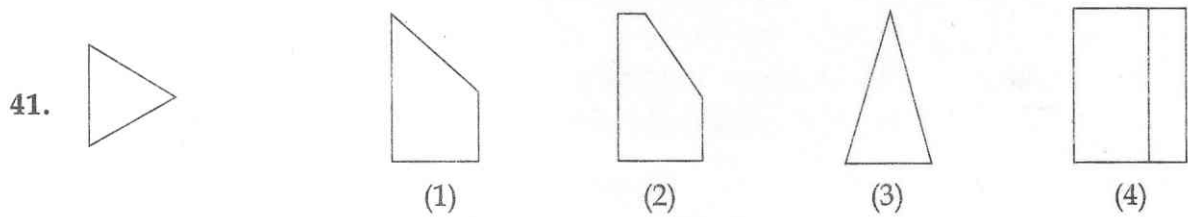


Directions : (For Q. 41 and 42). The problem figure shows the top view of an object. Identify the correct front view, from amongst the answer figures.

निर्देश : (प्र. 41 और 42 के लिए)। प्रश्न आकृति में किसी वस्तु का ऊपरी दृश्य दिखाया गया है। उत्तर आकृतियों में से इसका सही सम्मुख दृश्य पहचानिए।

Problem Figure / प्रश्न आकृति

Answer Figures / उत्तर आकृतियाँ

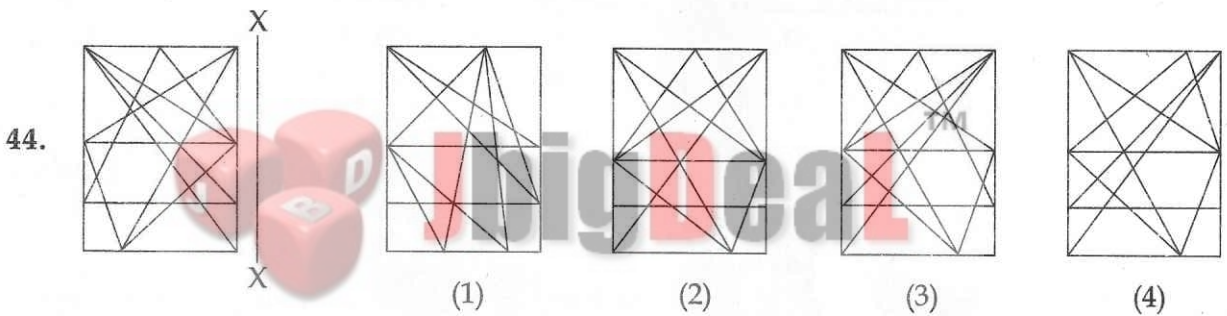
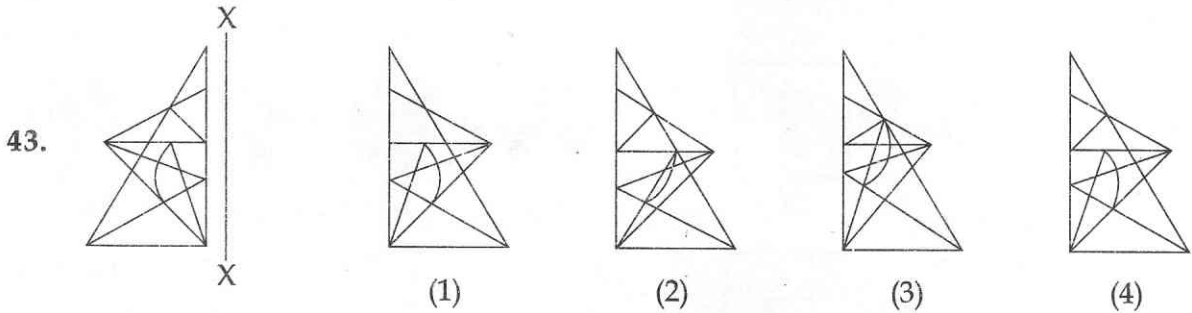


Directions : (For Q. 43 and 44). Which one of the answer figures is the correct mirror image of the problem figure with respect to X - X ?

निर्देश : (प्र. 43 और 44 के लिए)। उत्तर आकृतियों में से कौनसी आकृति दी गई प्रश्न आकृति का X - X पर सही दर्पण प्रतिबिम्ब है ?

Problem Figure / प्रश्न आकृति

Answer Figures / उत्तर आकृतियाँ

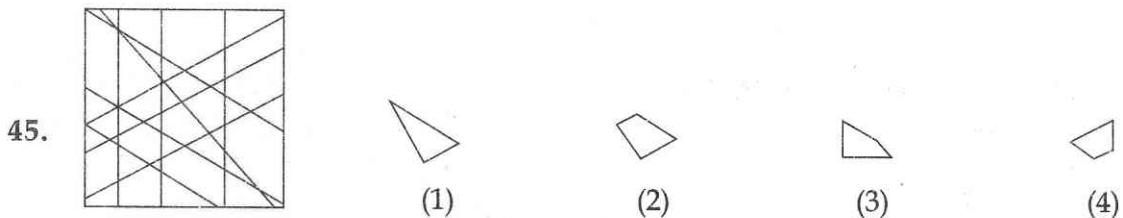


Directions : (For Q. 45). One of the following answer figures, is hidden in the problem figure, in the same size and direction. Select, which one is correct.

निर्देश : (प्र. 45 के लिए)। नीचे दी गई उत्तर आकृतियों में से एक आकृति माप और दिशा में समान रूप से प्रश्न आकृति में छिपी है। कौन सी सही है, चुनिए।

Problem Figure / प्रश्न आकृति

Answer Figures / उत्तर आकृतियाँ

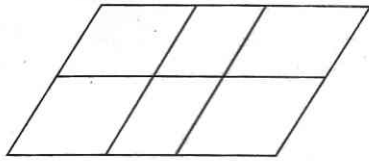


Directions : (For Q. 46 to 48). How many total number of parallelograms are there in the problem figure given below ?

निर्देश : (प्र. 46 से 48 के लिए)। नीचे दी गई प्रश्न आकृति में समांतर चतुर्भुजों की कुल संख्या कितनी है ?

Problem Figure / प्रश्न आकृति

46.



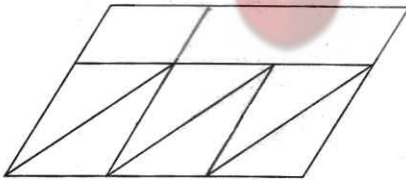
(1) 16

(2) 18

(3) 19

(4) 20

47.



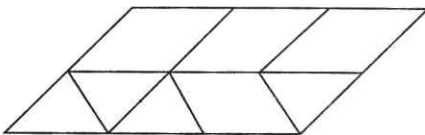
(1) 14

(2) 12

(3) 10

(4) 15

48.



(1) 16

(2) 14

(3) 15

(4) 13

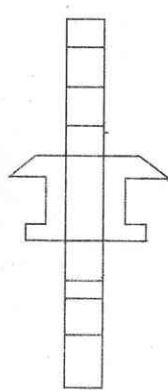
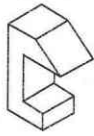
Directions : (For Q. 49). Which one of the answer figures, shows the correct view of the 3 - D problem figure, after the figure is opened up ?

निर्देश : (प्र. 49 के लिए)। 3 - D प्रश्न आकृति को खोलने पर, उत्तर आकृतियों में से, सही दृश्य कौनसा है ?

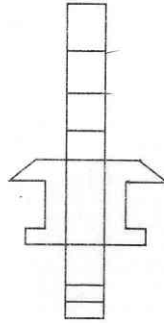
Problem Figure /
प्रश्न आकृति

Answer Figures / उत्तर आकृतियाँ

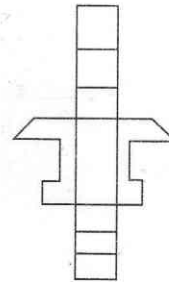
49.



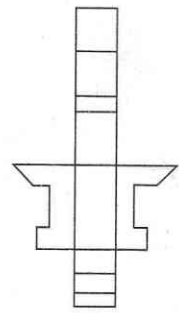
(1)




(2)



(3)



(4)




JbigDeal™


Directions : (For Q. 50 to 53). Find the odd figure out in the problem figures given below :

निर्देश : (प्र. 50 से 53 के लिए)। नीचे दी गई प्रश्न आकृतियों में से विषम आकृति बताएँ।

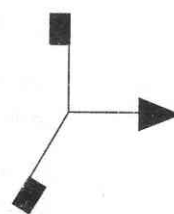
50.



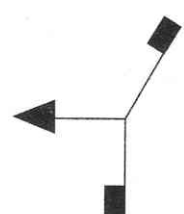
(1)



(2)

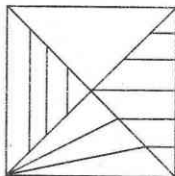


(3)

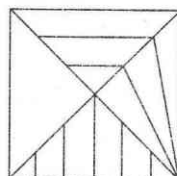


(4)

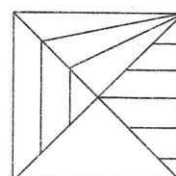
51.



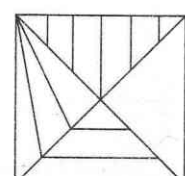
(1)



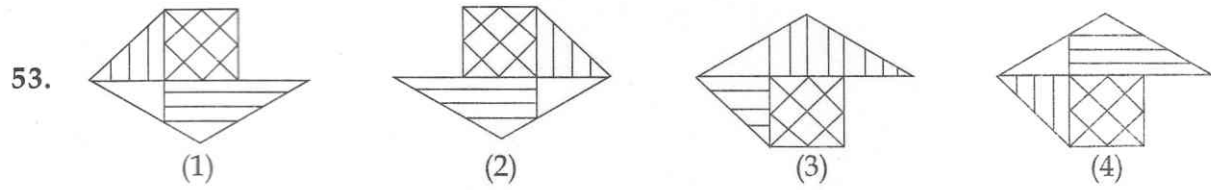
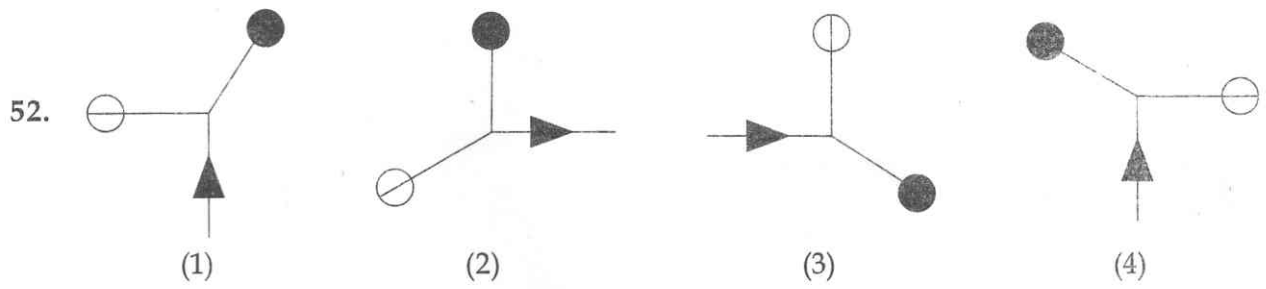
(2)



(3)



(4)





Directions : (For Q. 54 to 59). Find out the total number of surfaces of the object given below, in the problem figure.

निर्देश : (प्र. 54 से 59 के लिए)। प्रश्न आकृति में निम्नांकित वस्तु के सतहों की कुल संख्या ज्ञात कीजिए।

Problem Figure / प्रश्न आकृति



Problem Figure / प्रश्न आकृति



Directions : (For Q. 60 to 65).

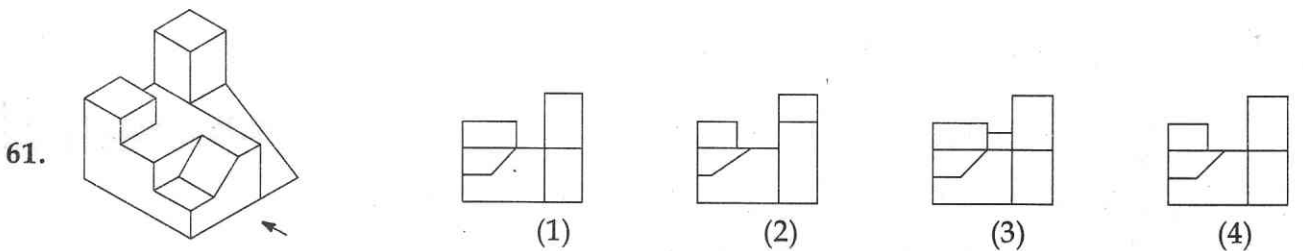
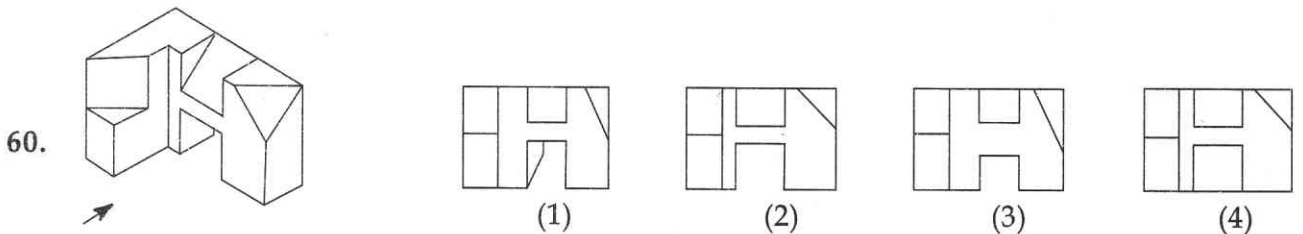
The 3-D problem figure shows an object. Identify the correct front view, from amongst the answer figures, looking in the direction of the arrow.

निर्देश : (प्र. 60 से 65 के लिए)।

3-D प्रश्न आकृति में एक वस्तु को दिखाया गया है। तीर की दिशा में देखते हुए इसके सही सम्मुख दृश्य को उत्तर आकृतियों में से पहचानिए।

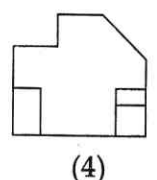
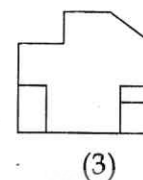
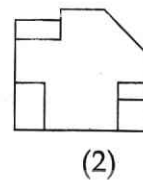
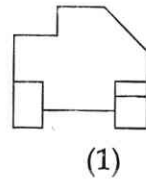
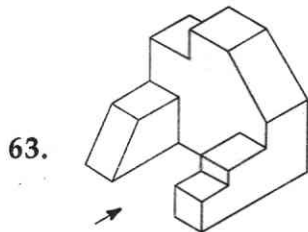
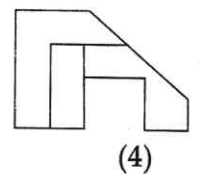
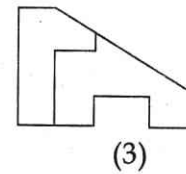
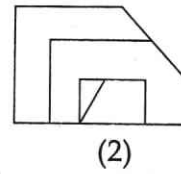
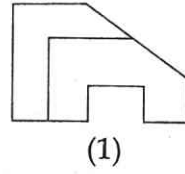
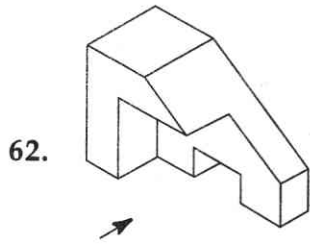
Problem Figure / प्रश्न आकृति

Answer Figures / उत्तर आकृतियाँ

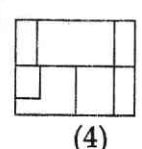
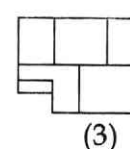
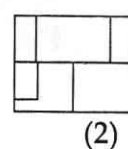
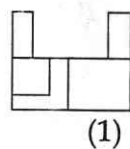
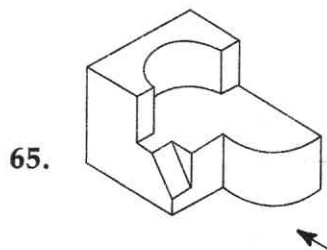
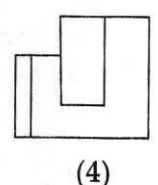
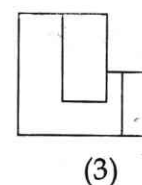
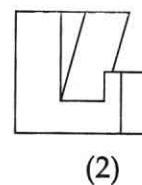
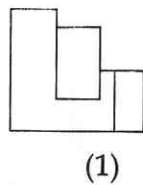
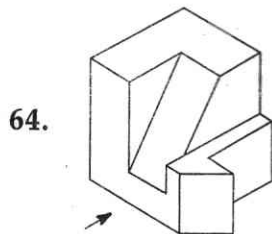


Problem Figure / प्रश्न आकृति

Answer Figures / उत्तर आकृतियाँ



JbigDeal™



66. Winter Sun in the Northern Hemisphere rises from :
- (1) East
 - (2) North of East
 - (3) South of East
 - (4) South
67. Which one of the following is not a matching set ?
- (1) Chandigarh - Corbusier
 - (2) New Delhi - Lutyens
 - (3) Stonehenge - Germany
 - (4) Brasilia - Oscar Niemeyer
68. Who amongst the following is famous but has not designed any building ?
- (1) Gustav Eiffel
 - (2) Pablo Picasso
 - (3) Buckminster Fuller
 - (4) Frank Lloyd Wright
69. Who amongst the following is a well known Architect ?
- (1) F.D. Souza
 - (2) Hafeez Contractor
 - (3) Nari Contractor
 - (4) Anjali Ela Menon
70. Texture is related to which one of the following :
- (1) Form
 - (2) Surface
 - (3) Weight
 - (4) Shape
66. उत्तरी गोलार्ध में सर्दियों में सूर्य कहाँ से उदित होता है ?
- (1) पूर्व से
 - (2) पूर्व के उत्तर से
 - (3) पूर्व के दक्षिण से
 - (4) दक्षिण से
67. निम्नलिखित में से कौनसा समुच्चय मेल नहीं खाता ?
- (1) चंडीगढ़ - कारबुजीअर
 - (2) नई दिल्ली - लुटियनस
 - (3) स्टोनहेंज - जर्मनी
 - (4) ब्राजीलिया - आस्कर निमेयर
68. इनमें से कौन प्रसिद्ध है लेकिन उसने किसी इमारत का डिजाइन नहीं किया ?
- (1) गुस्तव आइफल
 - (2) पेब्लो पिकासो
 - (3) बकमिनिस्टर फुलर
 - (4) फ्रेंक लायड राइट
69. निम्नलिखित में से कौनसा प्रसिद्ध वास्तुविद् है ?
- (1) एफ.डी. सूजा
 - (2) हफीज़ कॉन्ट्रैक्टर
 - (3) नरी कॉन्ट्रैक्टर
 - (4) अंजोली इला मेनन
70. संव्यूति निम्नलिखित में से किससे संबंधित है :
- (1) रूप
 - (2) सतह
 - (3) भार
 - (4) आकार

71. A house named 'Antilla' is recently built in Mumbai for whom ?
- (1) Ratan Tata
 - (2) Mukesh Ambani
 - (3) Anil Ambani
 - (4) Lakshmi Mittal
72. Which one of the following metal is generally used in the exterior cladding of high rise buildings ?
- (1) Cast iron
 - (2) Platinum
 - (3) Aluminium
 - (4) Zinc
73. In which state of India is Hawa Mahal located ?
- (1) Gujarat
 - (2) Rajasthan
 - (3) Maharashtra
 - (4) Jammu and Kashmir
74. The windows in the west face of the building, can be best protected from sun rays by :
- (1) Horizontal chajjas
 - (2) Vertical louvers
 - (3) Roof projection
 - (4) Projected Sill
75. The Dargah of Salim Chishti is located at :
- (1) Red Fort Delhi
 - (2) Barra Imam Bara Lucknow
 - (3) Chaar Bagh
 - (4) Fatehpur Sikri
71. मुम्बई में 'अंटिला' नामक भवन किसके लिए बनाया गया है ?
- (1) रतन टाटा
 - (2) मुकेश अंबानी
 - (3) अनिल अंबानी
 - (4) लक्ष्मी मित्तल
72. बहुमंजिले भवनों की बाहरी सतह की क्लेडिंग (cladding) के लिए, निम्नलिखित में से अधिकतर कौनसी धातु को प्रयोग में लाया जाता है ?
- (1) ढलवां लोहा
 - (2) प्लैटिनम
 - (3) ऐलुमिनियम
 - (4) जस्त (ज़िंक)
73. भारत के किस राज्य में हवा महल स्थित है ?
- (1) गुजरात
 - (2) राजस्थान
 - (3) महाराष्ट्र
 - (4) जम्मू और कश्मीर
74. पश्चिमी दीवार में बनी हुई खिड़कियों को, सूर्य की किरणों से, निम्नलिखित में से, सब से अधिक किससे बचाया जा सकता है :
- (1) क्षैतिज छज्जे
 - (2) खड़ी हुई झिलमिली
 - (3) बाहर निकली हुई (Projected) छत
 - (4) बाहर निकली हुई (Projected) सिल
75. सलीम चिश्ती की दरगाह कहाँ स्थित है ?
- (1) लाल किला दिल्ली
 - (2) बड़ा इमाम बाड़ा लखनऊ
 - (3) चार बाग
 - (4) फतेहपुर सीकरी

76. Which one of the following cladding material, is best suited for sound insulation inside an auditorium ?
- (1) Plywood
 - (2) Ceramic Tiles
 - (3) Woollen Fabric
 - (4) Timber Tiles
77. Which one of the following, is known as 'Temple City' of India ?
- (1) Ahmedabad
 - (2) Nagpur
 - (3) Madurai
 - (4) Kanpur
78. Heat gain in buildings is best resisted by :
- (1) Large Windows
 - (2) Exposed Roof
 - (3) Cavity walls
 - (4) Thin walls
79. The colour of a well baked brick is :
- (1) Yellow
 - (2) Gray
 - (3) Purple
 - (4) Terracotta
80. Escalators are used for :
- (1) Vertical movement only
 - (2) Horizontal movement only
 - (3) Horizontal cum vertical movement
 - (4) None of the above
76. निम्नलिखित में से कौनसा एक क्लेडिंग (दीवार को ढकता हुआ) पदार्थ, सभाभवन में सबसे अधिक ध्वनिरोधन के लिए उपयुक्त है ?
- (1) प्लाईवुड
 - (2) चीनी मिट्टी की टाइल
 - (3) ऊनी कपड़ा
 - (4) लकड़ी की टाइल
77. निम्नलिखित में से कौनसा 'मंदिर शहर' जाना जाता है ?
- (1) अहमदाबाद
 - (2) नागपुर
 - (3) मदुराई
 - (4) कानपुर
78. भवनों में ऊष्मा प्राप्ति को रोकने के लिए निम्नलिखित में से कौनसा, सबसे अधिक उचित हैं ?
- (1) बड़ी खिड़कियाँ
 - (2) अनावरित छत
 - (3) गुहिका भिती
 - (4) पतली दीवारें
79. अच्छी तरह पकाई हुई ईंट का रंग कैसा होता है ?
- (1) पीला
 - (2) भूरा (धूसर)
 - (3) बैंगनी
 - (4) टेराकोटा (Terracotta)
80. चलसोपान (एस्कलेटर) किसके लिए प्रयोग में आता है :
- (1) केवल उर्ध्वाधर गति के लिए
 - (2) केवल क्षैतिज गति के लिए
 - (3) क्षैतिज तथा उर्ध्वाधर गति के लिए
 - (4) ऊपर में से किसी गति के लिए नहीं

- o o o -

- o o o -

Read the following instructions carefully:	निम्नलिखित निर्देश ध्यान से पढ़ें:
<ol style="list-style-type: none"> 1. Part I has 30 objective type questions of Mathematics consisting of FOUR (4) marks each for each correct response. Part II Aptitude Test has 50 objective type questions consisting of FOUR (4) marks for each correct response. Part III consists of 2 questions carrying 70 marks which are to be attempted on a separate Drawing Sheet which is also placed inside this Test Booklet. Marks allotted to each question are written against each question. For each <i>incorrect response</i> in Part I and Part II, <i>one-fourth</i> ($\frac{1}{4}$) of the total marks allotted to the question would be deducted from the total score. <i>No deduction</i> from the total score, however, will be made <i>if no response</i> is indicated for an item in the Answer Sheet. 2. Handle the Test Booklet, Answer Sheet and Drawing Sheet with care, as under no circumstances (except for discrepancy in Test Booklet Code and Answer Sheet Code), another set will be provided. 3. The candidates are not allowed to do any rough work or writing work on the Answer Sheet. All calculations/writing work are to be done on the space provided for this purpose in the Test Booklet itself, marked 'Space for Rough Work'. This space is given at the bottom of each page and in 3 pages (pages 25 - 27) at the end of the booklet. 4. Each candidate must show on demand his/her Admit Card to the Invigilator. 5. No candidate, without special permission of the Superintendent or Invigilator, should leave his/her seat. 6. On completion of the test, the candidates should not leave the examination hall without handing over their Answer Sheet of Mathematics and Aptitude Test-Part I & II and Drawing Sheet of Aptitude Test-Part III to the Invigilator on duty and sign the Attendance Sheet at the time of handing over the same. Cases where a candidate has not signed the Attendance Sheet the second time will be deemed not have handed over these documents and dealt with as an unfair means case. The candidates are also required to put their left hand THUMB impression in the space provided in the Attendance Sheet. However, the candidates are allowed to take away with them the Test Booklet of Mathematics and Aptitude Test - Part I & II. 7. Use of Electronic/Manual Calculator or drawing instruments (such as scale, compass etc.) is not allowed. 8. The candidates are governed by all Rules and Regulations of the Board with regard to their conduct in the Examination Hall. All cases of unfair means will be dealt with as per Rules and Regulations of the Board. 9. No part of the Test Booklet, Answer Sheet and Drawing Sheet shall be detached/folded or defaced under any circumstances. 10. The candidates will write the Test Booklet Number as given in the Test Booklet, Answer Sheet and Drawing Sheet in the Attendance Sheet also. 11. Candidates are not allowed to carry any textual material, printed or written, bits of papers, pager, mobile phone, electronic device or any other material except the Admit Card inside the examination hall/room. 	<ol style="list-style-type: none"> 1. पुस्तिका के भाग I में गणित के 30 वस्तुनिष्ठ प्रश्न हैं जिसमें प्रत्येक प्रश्न के सही उत्तर के लिए चार (4) अंक निर्धारित किये गये हैं। भाग II अभिरुचि परीक्षण में 50 वस्तुनिष्ठ प्रश्न हैं जिनमें प्रत्येक सही उत्तर के लिए चार (4) अंक हैं। पुस्तिका के भाग III में 2 प्रश्न हैं जिनके लिए 70 अंक निर्धारित हैं। यह प्रश्न इसी परीक्षा पुस्तिका के अन्दर रखी ड्राइंग शीट पर करने हैं। प्रत्येक प्रश्न हेतु निर्धारित अंक प्रश्न के सम्मुख अंकित हैं। भाग I और भाग II में प्रत्येक गलत उत्तर के लिए उस प्रश्न के लिए निर्धारित कुल अंकों में से एक-चौथाई ($\frac{1}{4}$) अंक कुल योग में से काट लिए जाएँगे। यदि उत्तर पत्र में किसी प्रश्न का कोई उत्तर नहीं दिया गया है, तो कुल योग में से कोई अंक नहीं काटे जाएँगे। 2. परीक्षा पुस्तिका, उत्तर पत्र एवं ड्राइंग शीट का ध्यानपूर्वक प्रयोग करें, क्योंकि किसी भी परिस्थिति में (केवल परीक्षा पुस्तिका एवं उत्तर पत्र के कोड में भिन्नता की स्थिति को छोड़कर) दूसरी परीक्षा पुस्तिका उपलब्ध नहीं करायी जाएगी। 3. परीक्षार्थियों को उत्तर पत्र पर कोई भी रफ कार्य या लिखाई का काम करने की अनुमति नहीं है। सभी गणना एवं लिखाई का काम, परीक्षा पुस्तिका में निर्धारित जगह जो कि 'रफ कार्य के लिए जगह' द्वारा नामांकित है, पर ही किया जायेगा। यह जगह प्रत्येक पृष्ठ पर नीचे की ओर तथा पुस्तिका के अंत में 3 पृष्ठों (पृष्ठ 25 - 27) पर दी गई है। 4. पूछे जाने पर प्रत्येक परीक्षार्थी निरीक्षक को अपना प्रवेश कार्ड दिखाएँ। 5. अधीक्षक या निरीक्षक की विशेष अनुमति के बिना कोई परीक्षार्थी अपना स्थान न छोड़ें। 6. परीक्षा समाप्त होने पर, परीक्षार्थी निरीक्षकों को अपने गणित - भाग I एवं अभिरुचि परीक्षण - भाग II का उत्तर पत्र एवं अभिरुचि परीक्षण-भाग III की ड्राइंग शीट देने और उपस्थिति पत्र पर अपने हस्ताक्षर दोबारा करने के पश्चात् ही परीक्षा हाल छोड़ें। ऐसा न करने पर यह माना जायेगा कि उत्तर पत्र एवं ड्राइंग शीट नहीं लौटाए गए हैं जिसे अनुचित साधन प्रयोग की श्रेणी में माना जायगा। परीक्षार्थी अपने बायें हाथ के अंगूठे का निशान उपस्थिति पत्र में दिए गए स्थान पर अवश्य लगाएँ। तथापि, परीक्षार्थी अपनी गणित एवं अभिरुचि परीक्षण - भाग I एवं II की परीक्षा पुस्तिका को ले जा सकते हैं। 7. इलेक्ट्रॉनिक/हस्तचालित परिकलक या ड्राइंग उपकरण (जैसे कि स्केल, कंपास इत्यादि) का प्रयोग वर्जित है। 8. परीक्षा हाल में आचरण के लिए परीक्षार्थी बोर्ड के नियमों एवं विनियमों द्वारा नियमित होंगे। अनुचित साधन प्रयोग के सभी मामलों का फैसला बोर्ड के नियमों एवं विनियमों के अनुसार होगा। 9. किसी भी स्थिति में परीक्षा पुस्तिका, उत्तर पत्र एवं ड्राइंग शीट का कोई भी भाग न तो अलग किया जाएगा और न ही मोड़ा जायेगा अथवा बिगाड़ा जायेगा। 10. परीक्षा पुस्तिका, उत्तर पत्र एवं ड्राइंग शीट में दी गई परीक्षा पुस्तिका संख्या को परीक्षार्थी सही तरीके से हाजिरी पत्र में भी लिखें। 11. परीक्षार्थी द्वारा परीक्षा हॉल/कक्ष में प्रवेश कार्ड के सिवाय किसी प्रकार की पाठ्य सामग्री, मुद्रित या हस्तलिखित, कागज की पर्चियाँ, पेजर, मोबाइल फोन, इलेक्ट्रॉनिक उपकरण या किसी अन्य प्रकार की सामग्री को ले जाने या उपयोग करने की अनुमति नहीं है।