

**PART – 1 (Teaching Ability, Reasoning and General Knowledge)**

भाग - 1 (शैक्षिक अभिवृत्ति, तर्कशक्ति एवं सामान्य ज्ञान)

(Question Number 1 to 100) / (प्रश्न संख्या 1 से 100 तक)

- |  |   |
|--|---|
| <p>1. Teacher uses visual-aids to make learning—<br/>(A) Simple<br/>(B) Quicker<br/>(C) More knowledge<br/>(D) Interesting</p> <p>2. The most important cause of failure of teacher lies in the area of—<br/>(A) Interpersonal relationship<br/>(B) Verbal ability<br/>(C) Lack of command over the knowledge of the subject<br/>(D) None of these</p> <p>3. Which is the least important factor in teaching—<br/>(A) Punishing the students<br/>(B) Maintaining discipline in the class<br/>(C) Lecturing in impressive way<br/>(D) None of these</p> <p>4. For showing the model in the teaching of a topic teacher should—<br/>(A) Keep showing throughout the lecture<br/>(B) Stand in front of the model<br/>(C) Show model when need arises<br/>(D) None of these</p> <p>5. Who wrote 'Indica'—<br/>(A) Kalidasa (B) Kautilya<br/>(C) Magasthenese (D) None of them</p> <p>6. Who is appointed as the speaker of 16th Lok Sabha ?<br/>(A) Arun Jaitly<br/>(B) Sumitra Mahajan<br/>(C) Sushma Swaraj<br/>(D) Govind Singh Kunjwal</p> | <p>1. अध्यापक दृश्य साधनों का प्रयोग अध्यापन को निम्नलिखित बनाने के लिए करता है—<br/>(A) सरल<br/>(B) समय बचाने के लिए<br/>(C) अधिक ज्ञान के लिए<br/>(D) रुचिकर बनाने के लिए</p> <p>2. अध्यापक की असफलता का सबसे बड़ा कारण है—<br/>(A) अन्तर्वैयक्तिक सम्बन्ध<br/>(B) वाक् दक्षता<br/>(C) विषय के ऊपर पर्याप्त नियन्त्रण न होना<br/>(D) उपरोक्त में कोई नहीं</p> <p>3. अध्यापन में सबसे अनावश्यक कारक कौन है—<br/>(A) छात्रों को दण्ड देना<br/>(B) कक्षा में अनुशासन रखना<br/>(C) प्रभावशाली ढंग से व्याख्यान देना<br/>(D) उपरोक्त में कोई नहीं</p> <p>4. किसी पाठ के शिक्षण में मॉडल के उपयोग के समय शिक्षक को करना चाहिए—<br/>(A) उसे लैक्चर के दौरान लगातार दिखलाना चाहिए<br/>(B) मॉडल के सामने खड़े होना चाहिए<br/>(C) आवश्यकता होने पर दिखाना चाहिए<br/>(D) इनमें से कोई नहीं</p> <p>5. 'इण्डिका' का लेखक कौन था—<br/>(A) कालीदास (B) कौटिल्य<br/>(C) मेगस्थनीज (D) इनमें से कोई नहीं</p> <p>6. 16वीं लोकसभा के अध्यक्ष के रूप में किसे नियुक्त किया गया है ?<br/>(A) अरुण जेटली<br/>(B) सुमित्रा महाजन<br/>(C) सुषमा स्वराज<br/>(D) गोविन्द सिंह कुँजवाल</p> |
|--|---|

7. Annual Ratha Yatra of Lord Jagannath takes place in which of the following state ?  
 (A) Tamilnadu (B) Karnataka  
 (C) Himachal Pradesh (D) Odisha
8. Who is appointed as the arbitrator in Vodafone tax dispute case ?  
 (A) Ashok Chawala (B) R. C. Lahoti  
 (C) K. K. Malhotra (D) M. B. Shah
9. An example of audio-visual media is—  
 (A) Charts (B) Television  
 (C) Radio (D) Models
10. An example of maturation is when a child learns to—  
 (A) Walk (B) Draw  
 (C) Read (D) Ride a bicycle
11. Which of the following is not a domain of learning—  
 (A) Cognitive (B) Affective  
 (C) Conative (D) Spiritual
12. Ram returned the pencil, he took from Seeta's desk because he was afraid of punishment, if he got caught. This illustrates Kohlberg's—  
 (A) Pre-conventional level  
 (B) Conventional level  
 (C) Post-conventional level  
 (D) None of these
13. 'Konkan Rail' directly connects—  
 (A) Delhi to Chennai  
 (B) Dehradun to Tanakpur  
 (C) Jammu to Kanyakumari  
 (D) None of these
14. "Operation Black Board" was the outcome of—  
 (A) Kothari Commission  
 (B) National Curriculum Framework - 2005 (NCF - 2005)  
 (C) National Policy on Education - 1986 (NPE - 1986)  
 (D) National Curriculum Framework - 2000 (NCF - 2000)
7. भगवान जगन्नाथ की वार्षिक रथ यात्रा निम्नलिखित राज्य में से किसमें सम्पन्न होती है—  
 (A) तमिलनाडु (B) कर्नाटक  
 (C) हिमाचल प्रदेश (D) उड़ीसा
8. वोडाफोन विवाद के मामले में मध्यस्थ के रूप में वि नियुक्त किया गया है ?  
 (A) अशोक चावला (B) आर. सी. लाहोटी  
 (C) के. के. मल्होत्रा (D) एम. बी. शाह
9. दृश्य-श्रव्य माध्यम का उदाहरण है—  
 (A) चार्ट (B) टेलीविजन  
 (C) रेडियो (D) मॉडल
10. परिपक्वता का एक उदाहरण है कि जब बालक सीख है—  
 (A) चलना (B) चित्रांकन करना  
 (C) पढ़ना (D) साइकिल चलाना
11. निम्न में से कौन सा एक अधिगम का पहलू है—  
 (A) संज्ञानात्मक (B) भावात्मक  
 (C) क्रियात्मक (D) आध्यात्मिक
12. राम ने सीता की डेस्क से ली हुई पेन्सिल वापिस रख क्योंकि उसे पकड़े जाने पर सजा मिलने का डर यह कोहलबर्ग के किस स्तर को बताता है ?  
 (A) पूर्व-परम्परागत स्तर  
 (B) परम्परागत स्तर  
 (C) उत्तर-परम्परागत स्तर  
 (D) इनमें से कोई नहीं
13. 'कोकण रेल' सीधे जोड़ती है—  
 (A) दिल्ली और चेन्नई को  
 (B) देहरादून और टनकपुर को  
 (C) जम्मू और कन्याकुमारी को  
 (D) इनमें से कोई नहीं
14. "ऑपरेशन ब्लैक बोर्ड" परिणाम था—  
 (A) कोठारी आयोग का  
 (B) राष्ट्रीय पाठ्यक्रम रचना - 2005  
 (C) राष्ट्रीय शैक्षिक योजना - 1986  
 (D) राष्ट्रीय पाठ्यक्रम रचना - 2000

15. Rural Development Minister Nitin Gadkari launched the Shyama Prasad Mukherjee National Rural Mission on ..... with an allocation of 100 crore rupees.  
 (A) PPP model  
 (B) PTP model  
 (C) VTZ model  
 (D) STS model
16. Who is the Army Chief of India—  
 (A) Vikram Singh  
 (B) B. S. Chauhan  
 (C) D. K. Jain  
 (D) Dalbir Singh Suhag
17. When is Anti-Terrorism Day observed ?  
 (A) 20 May (B) 23 May  
 (C) 22 May (D) 21 May
18. The Education Minister of Uttarakhand is—  
 (A) Harish Rawat  
 (B) Dinesh Agarwal  
 (C) Mantri Prasad Naithani  
 (D) Preetam Singh
19. Project teaching method is associated with—  
 (A) Frobel (B) John Dewey  
 (C) Armstrong (D) None of these
20. When the child is ready to learn, he learns more quickly and effectively. This principle was given by—  
 (A) Thorndike (B) Skinner  
 (C) Pavlov (D) None of these
21. A teacher in a classroom should act as a—  
 (A) Progressive role (B) Boss role  
 (C) Democratic role (D) None of these
22. The objective of teaching is to—  
 (A) Create good citizens  
 (B) Create persons who are useful for the society  
 (C) Create socialistic persons  
 (D) All the above
15. ग्रामीण विकास मन्त्री नितिन गडकरी ने ..... के आधार पर 100 करोड़ रुपये के आवंटन के साथ श्यामा प्रसाद मुखर्जी राष्ट्रीय ग्रामीण मिशन का शुभारम्भ किया।  
 (A) पी.पी.पी. मॉडल  
 (B) पी.टी.पी. मॉडल  
 (C) वी.टी.जेड. मॉडल  
 (D) एस.टी.एस. मॉडल
16. भारत के सेना प्रमुख कौन हैं—  
 (A) विक्रम सिंह  
 (B) बी. एस. चौहान  
 (C) डी. के. जैन  
 (D) दलवीर सिंह सुहाग
17. आतंकवाद-विरोधी दिवस कब मनाया जाता है ?  
 (A) 20 मई (B) 23 मई  
 (C) 22 मई (D) 21 मई
18. उत्तराखण्ड के शिक्षा मन्त्री हैं—  
 (A) हरीश रावत  
 (B) दिनेश अग्रवाल  
 (C) मन्त्री प्रसाद नैथानी  
 (D) प्रीतम सिंह
19. प्रोजेक्ट शिक्षण विधि किससे सम्बन्धित है—  
 (A) फ्रोबेल (B) जॉन डीवी  
 (C) आर्मस्ट्रॉंग (D) इनमें से कोई नहीं
20. जब बालक सीखने के लिए तैयार होता है, तब वह जल्दी व प्रभावशाली तरीके से सीखता है। यह सिद्धान्त किसने प्रतिपादित किया ?  
 (A) थॉर्नडाइक द्वारा (B) स्किनर द्वारा  
 (C) पावलोव द्वारा (D) इनमें से कोई नहीं
21. एक शिक्षक को कक्षा में कार्य करना चाहिए—  
 (A) प्रगतिशील भूमिका में (B) बॉस की भूमिका में  
 (C) प्रजातांत्रिक भूमिका में (D) इनमें से कोई नहीं
22. शिक्षा का उद्देश्य है—  
 (A) अच्छा नागरिक बनाना  
 (B) ऐसे व्यक्तियों का निर्माण जो समाज के लिए उपायोगी हों  
 (C) व्यवहारिकता का निर्माण करना  
 (D) उक्त सभी

23. How many individuals were awarded the 2014 Raman Magsaysay Award ?  
 (A) Five (B) Six  
 (C) Four (D) None of these
24. World Elephant Day was observed across the world on which day ?  
 (A) 11 August (B) 19 July  
 (C) 12 August (D) 10 July
25. An effective teacher is one who can—  
 (A) Control the class  
 (B) Give more information in less time  
 (C) Motivate students to learn  
 (D) None of the above
26. The FIBA Asian cup is associated with which among the following sports ?  
 (A) Table Tennis (B) Hockey  
 (C) Football (D) Basketball
27. While teaching a theoretical topic in the class, teacher should proceed from—  
 (A) Unknown to known  
 (B) Concrete to abstract  
 (C) Reasoning to observation  
 (D) None of these
28. A teacher can minimize depression among students by—  
 (A) trying to understand its causes  
 (B) motivating the students  
 (C) A and B  
 (D) reporting to Principal
29. Microteaching is most effective for the students—  
 (A) During the practice teaching  
 (B) After the practice teaching  
 (C) Before the practice teaching  
 (D) None of the above
30. Value education makes a student—  
 (A) Doctor (B) Good citizen  
 (C) Engineer (D) None of these
23. कितने व्यक्तियों को 2014 रमन मैगसेसे पुरस्कार से सम्मानित किया गया है ?  
 (A) पाँच (B) छः  
 (C) चार (D) इनमें से कोई नहीं
24. विश्व हाथी दिवस दुनिया भर में किस दिन मनाया जाता है ?  
 (A) 11 अगस्त (B) 19 जुलाई  
 (C) 12 अगस्त (D) 10 जुलाई
25. एक प्रभावी शिक्षक वह है, जो कर सकता है—  
 (A) कक्षा पर नियन्त्रण  
 (B) कम समय में अधिक सूचना देना  
 (C) विद्यार्थियों को सीखने के लिए अभिप्रेरित करना  
 (D) इनमें से कोई नहीं
26. FIBA एशियाई कप निम्नलिखित खेलों के बीच किससे सम्बन्धित है ?  
 (A) टेबिल टेनिस (B) हॉकी  
 (C) फुटबॉल (D) बास्केटबॉल
27. कक्षा में एक सैद्धान्तिक विषय पढ़ाने के लिए शिक्षक को निम्न क्रम में पढ़ाना चाहिए—  
 (A) अज्ञात से ज्ञात  
 (B) ठोस से सारांश  
 (C) तर्क से निरीक्षण  
 (D) इनमें से कोई नहीं
28. छात्रों की उदासीनता को कम करने के लिए अध्यापक कर सकता है—  
 (A) इसके कारणों को समझने की कोशिश करना  
 (B) छात्रों को मोटिवेट करना  
 (C) A और B  
 (D) प्रधानाचार्य को सूचित करना
29. माइक्रोशिक्षण छात्र-छात्राओं के लिए किस अवधि सबसे प्रभावशाली होता है—  
 (A) शिक्षण अभ्यास के दौरान  
 (B) शिक्षण अभ्यास के बाद  
 (C) शिक्षण अभ्यास से पहले  
 (D) उपरोक्त में कोई नहीं
30. मूल्यआधारित शिक्षा छात्र को क्या बनाती है—  
 (A) डॉक्टर (B) अच्छा नागरिक  
 (C) अभियन्ता (D) इनमें से कोई नहीं

31. District Primary Education Programme (DPEP) was launched in the year—  
 (A) 1986 (B) 1984  
 (C) 2001 (D) None of these
32. How many gold medals were cinched by India in 2014 Glasgow Commonwealth Games—  
 (A) 10 (B) 12  
 (C) 14 (D) 15
33. In a lively classroom situation, there is likely to be—  
 (A) Occasional roars of laughter  
 (B) Complete silence  
 (C) Frequent teacher-student dialogue  
 (D) Loud discussion
34. In your view, teaching is—  
 (A) An Art (B) A Skill  
 (C) A & B (D) None of these
35. Area of individual differences is—  
 (A) Gender-difference (B) Body structure  
 (C) Mental abilities (D) All the above
36. A child who behaves against the social rules and regulations is called—  
 (A) Delinquent child (B) Idiot child  
 (C) Dull child (D) None of these
37. Kumar Sangakkara (Cricket player) belongs to which country ?  
 (A) India (B) Sri Lanka  
 (C) Pakistan (D) Australia
38. For the students of 3rd class, which will be the best way for teaching ?  
 (A) Lecture Method  
 (B) Creational Activities  
 (C) Group Discussion  
 (D) Laboratory Method
39. The academic performance of students can be improved if parents are encouraged to—  
 (A) Supervise the work of their wards  
 (B) Arrange for extra tuition  
 (C) Remain unconcerned about it  
 (D) None of these
31. जिला प्राथमिक शिक्षा कार्यक्रम किस वर्ष लागू किया गया था—  
 (A) 1986 (B) 1984  
 (C) 2001 (D) इनमें से कोई नहीं
32. 2014 ग्लासगो राष्ट्रमण्डल खेलों में भारत ने कितने स्वर्ण पदक जीते—  
 (A) 10 (B) 12  
 (C) 14 (D) 15
33. एक सजीव कक्षा स्थिति में निम्नलिखित में से सबसे अधिक सम्भावित है—  
 (A) कभी कभार हँसी का दौर  
 (B) पूर्ण रूप से शान्ति  
 (C) शिक्षक-छात्र वार्ता  
 (D) विद्यार्थियों के बीच खुली बहस
34. आपके अनुसार, शिक्षण है—  
 (A) एक कला (B) एक कौशल  
 (C) A और B दोनों (D) इनमें से कोई नहीं
35. व्यक्तिगत विभिन्नताओं का क्षेत्र है—  
 (A) लिंग भेद (B) शारीरिक रचना  
 (C) मानसिक योग्यताएँ (D) उक्त सभी
36. सामाजिक नियमों व कानूनों के विरुद्ध व्यवहार करने वाला बालक कहलाता है—  
 (A) बाल अपराधी (B) जड़बुद्धि बालक  
 (C) मन्दबुद्धि बालक (D) इनमें से कोई नहीं
37. कुमार संगकारा किस देश के क्रिकेट खिलाड़ी हैं—  
 (A) भारत (B) श्रीलंका  
 (C) पाकिस्तान (D) ऑस्ट्रेलिया
38. कक्षा - तीन के विद्यार्थियों के लिए निम्न में से कौन-सा शिक्षण का सबसे अच्छा तरीका होगा—  
 (A) व्याख्यान विधि  
 (B) सृजनात्मक क्रिया कलाप  
 (C) समूह वार्तालाप  
 (D) प्रयोगशाला विधि
39. विद्यार्थियों की अकादमिक निष्पादन को सुधारा जा सकता है यदि अभिभावकों को उत्साहित किया जाये—  
 (A) बच्चों के कार्य का निरीक्षण करने के लिए  
 (B) अधिक ट्यूशन का प्रबन्ध करने के लिए  
 (C) इसके बारे में चिंतित न होने के लिए  
 (D) इनमें से कोई नहीं

40. If a student often comes late in the class you would—  
 (A) Talk to his parents  
 (B) Complain to Principal about him  
 (C) Punish him severely  
 (D) Find the reason and then decide accordingly
41. A school girl developed the habit of dropping the coat on the floor. Mother asked the girl to get out of the room and hang up the coat on the peg. The girl enters house keeps coat on, approaches closet, hangs up the coat on the peg. It is an example of—  
 (A) Chain learning  
 (B) Stimulus response learning  
 (C) Concept learning  
 (D) All the above
42. A process in which an individual learns new responses by observing the behaviour of another rather than through experience is known as—  
 (A) General Learning  
 (B) Social Learning  
 (C) Experimental Learning  
 (D) None of these
43. A provision for education for the children with disabilities can be made through—  
 (A) Integration  
 (B) Main streaming  
 (C) Inclusive education  
 (D) None of these
44. For primary school children, which of the following is better ?  
 (A) Video simulation  
 (B) Hands on experiences  
 (C) Experimental  
 (D) None of these
45. 'Toy age' refers to—  
 (A) Early childhood (B) Babyhood  
 (C) A & B (D) Late childhood
46. Tobacco addiction is due to—  
 (A) Cocaine (B) Caffeine  
 (C) Nicotine (D) None of these
40. आपकी कक्षा में एक छात्र के प्रायः विलम्ब से आने पर—  
 (A) उसके अभिभावकों से बात करेंगे  
 (B) प्रधानाचार्य से उसकी शिकायत करेंगे  
 (C) उसे कठोर दण्ड देंगे  
 (D) कारण को जानकर तदनुसार निर्णय लेंगे
41. एक स्कूल जाने वाली लड़की ने फर्श पर कोट फेंकने की आदत डाल ली है। लड़की की माँ ने उससे कहा कि कमरे के बाहर जाओ और कोट को खूँटी पर टाँगो। लड़की अगली बार घर में प्रवेश करती है, कोट को हाथ पर रखकर अलमारी की तरफ जा कर कोट को खूँटी पर टाँग देती है। यह उदाहरण है—  
 (A) शृंखलागत अधिगम का  
 (B) उद्दीपन अनुक्रिया अधिगम का  
 (C) प्रव्यय अधिगम का  
 (D) उक्त सभी
42. जिस प्रक्रिया में व्यक्ति दूसरों के व्यवहार को देखकर सीखता है न कि प्रत्यक्ष अनुभव से, को कहा जाता है—  
 (A) सामान्य अधिगम  
 (B) सामाजिक अधिगम  
 (C) प्रायोगिक अधिगम  
 (D) इनमें से कोई नहीं
43. निःशक्त बालकों की शिक्षा के लिए प्रावधान किया जा सकता है—  
 (A) समाकलन द्वारा  
 (B) मुख्य धारा में डालकर  
 (C) समावेशित शिक्षा द्वारा  
 (D) इनमें से कोई नहीं
44. प्राथमिक विद्यालयों के बालकों के लिए निम्न में किसे बेहतर मानते हैं ?  
 (A) विडियो अनुरूपण  
 (B) स्वयं के द्वारा किया गया अनुभव  
 (C) प्रयोगात्मक  
 (D) इनमें से कोई नहीं
45. 'खिलौनों की आयु' कहा जाता है—  
 (A) पूर्व बाल्यावस्था (B) शैशवावस्था  
 (C) A और B दोनों (D) उत्तर बाल्यावस्था
46. तम्बाकू की आदत किससे होती है—  
 (A) कोकीन (B) कैफीन  
 (C) निकोटिन (D) इनमें से कोई नहीं

47. What is the minimum age for marriage of boys and girls in India ?  
 (A) 21 years and 18 years  
 (B) 18 years and 21 years  
 (C) 18 years and 20 years  
 (D) None of these
48. Break down in verbal communication is described as—  
 (A) Short circuit (B) Contradiction  
 (C) Unevenness (D) Entropy
49. Photographs are not easy to—  
 (A) Publish (B) Secure  
 (C) Decode (D) None of these
50. The National Disaster Management Authority functions under the Union Ministry of—  
 (A) Home affairs (B) Water Resources  
 (C) Defence (D) None of these
51. Which one of the following is the best method of teaching ?  
 (A) Lecture (B) Demonstration  
 (C) Discussion (D) Narration
52. The famous temple 'Dhari Devi' is located at—  
 (A) Near Srinagar (B) Uttarkashi  
 (C) Chamoli (D) Pithoragarh
53.  $4 : 9 :: ? : 27$   
 (A) 8 (B) 6  
 (C) 16 (D) 13
54. The sum of—  
 $1 + 2 + 3 + 4 + 5 + \dots + 100$   
 (A) 5000 (B) 4500  
 (C) 5050 (D) 4050
55.  $9\frac{3}{4} + 7\frac{2}{17} - 9\frac{1}{15} =$   
 (A)  $7\frac{817}{1020}$  (B)  $7\frac{717}{1020}$   
 (C)  $7\frac{817}{1020}$  (D)  $8\frac{717}{1020}$
47. भारत में लड़के व लड़कियों की विवाह योग्य न्यूनतम आयु क्या है ?  
 (A) 21 वर्ष व 18 वर्ष  
 (B) 18 वर्ष व 21 वर्ष  
 (C) 18 वर्ष व 20 वर्ष  
 (D) इनमें से कोई नहीं
48. मौखिक संचार में व्यवधान को कहते हैं—  
 (A) लघु परिपथ (B) अन्तर्विरोध  
 (C) असमतलता (D) एन्ट्रोपी
49. छाया-चित्रों का ..... करना आसान नहीं है।  
 (A) प्रकाशन (B) सुरक्षण  
 (C) विसंकेतन (D) इनमें से कोई नहीं
50. राष्ट्रीय आपदा प्रबन्ध प्राधिकरण केन्द्र के किस मन्त्रालय के अधीन कार्य करता है ?  
 (A) गृह मामले (B) जल संसाधन  
 (C) रक्षा (D) इनमें से कोई नहीं
51. निम्नलिखित में से शिक्षण का सर्वोत्तम ढंग कौन सा है—  
 (A) व्याख्यान (B) प्रदर्शन  
 (C) विचार विमर्श (D) वर्णन
52. प्रसिद्ध 'धारी देवी' मन्दिर स्थित है—  
 (A) श्रीनगर के नजदीक (B) उत्तरकाशी में  
 (C) चमोली में (D) पिथौरागढ़ में
53.  $4 : 9 :: ? : 27$   
 (A) 8 (B) 6  
 (C) 16 (D) 13
54.  $1 + 2 + 3 + 4 + 5 + \dots + 100$  का योग—  
 (A) 5000 (B) 4500  
 (C) 5050 (D) 4050
55.  $9\frac{3}{4} + 7\frac{2}{17} - 9\frac{1}{15} =$   
 (A)  $7\frac{817}{1020}$  (B)  $7\frac{717}{1020}$   
 (C)  $7\frac{817}{1020}$  (D)  $8\frac{717}{1020}$

56. a \_\_ bb \_\_ baa \_\_ bbb \_\_ aa \_\_  
 (A) aabba (B) bbaab  
 (C) abaaa (D) baabb
57. AZ, CX, FU, \_\_\_\_  
 (A) IR (B) IV  
 (C) JQ (D) KP
58. \_\_\_\_, PSVYB, EHKNQ, TWZCF, ILORU  
 (A) ZCFIL (B) SVYBE  
 (C) BEHKN (D) ADGJM

56. a \_\_ bb \_\_ baa \_\_ bbb \_\_ aa \_\_  
 (A) aabba (B) bbaab  
 (C) abaaa (D) baabb
57. AZ, CX, FU, \_\_\_\_  
 (A) IR (B) IV  
 (C) JQ (D) KP
58. \_\_\_\_, PSVYB, EHKNQ, TWZCF, ILORU  
 (A) ZCFIL (B) SVYBE  
 (C) BEHKN (D) ADGJM

Note : Q. No. 59 to Q. No. 62 depend upon the following coding.

Figure					
Code	1.	2.	3.	4.	5.
Figure					
Code	6.	7.	8.	9.	10.

59. Which number is presented by following figure—

(A) 16198 (B) 79168  
 (C) 79816 (D) 17968

60. Which number is depicted by the following figure—

(A) 24672 (B) 46772  
 (C) 72246 (D) 27462

61. Which number is presented by the following figure—

(A) 56714 (B) 19844  
 (C) 56744 (D) 56144

62. Which number is presented by the following figure—

(A) 47645 (B) 45754  
 (C) 54674 (D) 74654

नोट : प्रश्न सं. 59 से 62 निम्नलिखित कूट के आधार पर हैं।

चित्र					
कोड	1.	2.	3.	4.	5.
चित्र					
कोड	6.	7.	8.	9.	10.

59. निम्नांकित कौन सी संख्या को प्रदर्शित करते हैं ?

(A) 16198 (B) 79168  
 (C) 79816 (D) 17968

60. निम्नांकित द्वारा कौन सी संख्या प्रदर्शित होती है ?

(A) 24672 (B) 46772  
 (C) 72246 (D) 27462

61. निम्नांकित से कौन सी संख्या प्रदर्शित होती है ?

(A) 56714 (B) 19844  
 (C) 56744 (D) 56144

62. निम्नांकित से कौन सी संख्या प्रदर्शित होती है ?

(A) 47645 (B) 45754  
 (C) 54674 (D) 74654



63. Complete the following Number Series :

1, 3, 11, 47, ....., 1439

- (A) 239 (B) 293  
(C) 932 (D) None of these

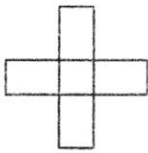
64. 15, 10, 5, 150, 16, 12, 4, 192, 20, 15, 5, .....

- (A) 700 (B) 600  
(C) 400 (D) 300

65. 2, 20, 120, ....., 3190

- (A) 220 (B) 330  
(C) 440 (D) 630

66. How many rectangles are there in the following figure—



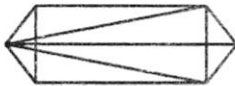
- (A) 9 (B) 10  
(C) 16 (D) None of these

67. Find the missing letter in the following table—

A	C	E
N	K	H
R	V	?

- (A) Z (B) T  
(C) L (D) I

68. In the following figure how many triangles are there—



- (A) 11 (B) 14  
(C) 16 (D) 22 or more

69. If  $A = 1$  and  $AID = 36$ , then  $BELL = ?$

- (A) 16690 (B) 2210  
(C) 1440 (D) 1210

70. Who has been appointed as the new Railway Minister—

- (A) Suresh Prabhu  
(B) Manohar Parrikar  
(C) Bipendra Singh  
(D) Jagat Prakash Nadda

63. निम्न संख्या श्रेणी को पूरा कीजिए :

1, 3, 11, 47, ....., 1439

- (A) 239 (B) 293  
(C) 932 (D) इनमें से कोई नहीं

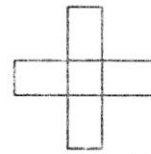
64. 15, 10, 5, 150, 16, 12, 4, 192, 20, 15, 5, .....

- (A) 700 (B) 600  
(C) 400 (D) 300

65. 2, 20, 120, ....., 3190

- (A) 220 (B) 330  
(C) 440 (D) 630

66. नीचे दिये गये चित्र में कितने आयत हैं—



- (A) 9 (B) 10  
(C) 16 (D) इनमें से कोई नहीं

67. चित्र में दी गई तालिका में छूटे हुए अक्षर की पूर्ति कीजिए—

A	C	E
N	K	H
R	V	?

- (A) Z (B) T  
(C) L (D) I

68. दी गई आकृति में त्रिभुजों की संख्या ज्ञात कीजिए—



- (A) 11 (B) 14  
(C) 16 (D) 22 या अधिक

69. यदि  $A = 1$  और  $AID = 36$ , तो  $BELL = ?$

- (A) 16690 (B) 2210  
(C) 1440 (D) 1210

70. नये रेल मन्त्री के रूप में किसे नियुक्त किया गया है—

- (A) सुरेश प्रभु  
(B) मनोहर पारिकर  
(C) बिपेन्द्र सिंह  
(D) जगत प्रकाश नाडा


71. .... has launched the new Guaranteed Minimum Pension Scheme in Dehradun.

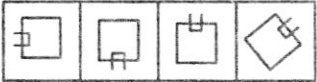
- (A) Menaka Gandhi (B) Smriti Irani  
(C) Dharmendra Pradhan (D) None of these

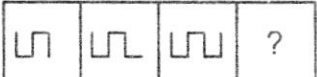
72. The state game of Uttarakhand is—


- (A) Cricket (B) Badminton  
(C) Hockey (D) None of these


Note : (Q. No. 73 to 77) Choose the correct figure from A, B, C, D in place of question mark (?) i.e. make a full series.

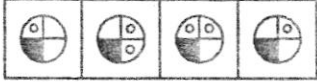
73.  Question Figures


 Answer Figures  
(A) (B) (C) (D)

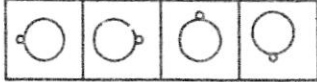
74.  Question Figures

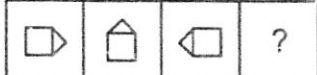
 Answer Figures  
(A) (B) (C) (D)

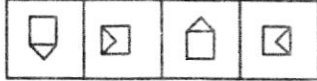
75.  Question Figures

 Answer Figures  
(A) (B) (C) (D)

76.  Question Figures

 Answer Figures  
(A) (B) (C) (D)

77.  Question Figures

 Answer Figures  
(A) (B) (C) (D)


71. .... ने देहरादून में नई गारंटीकृत न्यूनतम पेंशन योजना का शुभारम्भ किया।

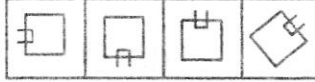
- (A) मेनका गाँधी (B) स्मृति ईरानी  
(C) धर्मेन्द्र प्रधान (D) इनमें से कोई नहीं

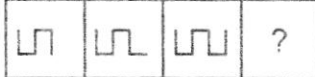
72. उत्तराखण्ड का राज्य खेल क्या है—


- (A) क्रिकेट (B) बैडमिण्टन  
(C) हॉकी (D) इनमें से कोई नहीं


निर्देश : (प्रश्न 73 से 77 तक) प्रत्येक प्रश्न में उस एव आकृति को चुनिए जो दी गई शृंखला को पूर करेगी।


73.  प्रश्न आकृतियाँ


 उत्तर आकृतियाँ  
(A) (B) (C) (D)

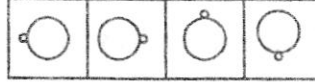
74.  प्रश्न आकृतियाँ

 उत्तर आकृतियाँ  
(A) (B) (C) (D)

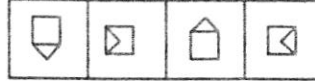
75.  प्रश्न आकृतियाँ

 उत्तर आकृतियाँ  
(A) (B) (C) (D)

76.  प्रश्न आकृतियाँ

 उत्तर आकृतियाँ  
(A) (B) (C) (D)

77.  प्रश्न आकृतियाँ

 उत्तर आकृतियाँ  
(A) (B) (C) (D)

78. Match list I to List II—

List I (Name of MLA)	List II (Constituency)
(a) Dinesh Agrawal	(1) Khatima
(b) Subodh Uniyal	(2) Dharchula
(c) Pushkar Dhama	(3) Dharmpur
(d) Harish Rawat	(4) Narendra Nagar

Code—

	(a)	(b)	(c)	(d)
(A)	3	4	1	2
(B)	1	3	4	2
(C)	4	3	1	2
(D)	4	3	2	1

79. The state animal of Uttarakhand is—

- (A) Lion  
(B) Cow  
(C) Kasturi Mrag  
(D) Elephant

80. Mil Mi-17 is a/an ..... helicopter.

- (A) Russian  
(B) Indian  
(C) American  
(D) None of these

81. The official state second language of Uttarakhand is—

- (A) Hindi  
(B) Sanskrit  
(C) English  
(D) Jaunsari

82. Who was Tapan Ray Chaudhary ?

- (A) Historian  
(B) Economist  
(C) Painter  
(D) Actor

78. सूची I का मिलान सूची II से कीजिए—

सूची I (विधायक का नाम)	सूची II (विधान सभा क्षेत्र)
(a) दिनेश अग्रवाल	(1) खटीमा
(b) सुबोध उनियाल	(2) धारचूला
(c) पुष्कर धामी	(3) धर्मपुर
(d) हरीश रावत	(4) नरेन्द्र नगर

कूट—

	(a)	(b)	(c)	(d)
(A)	3	4	1	2
(B)	1	3	4	2
(C)	4	3	1	2
(D)	4	3	2	1

79. उत्तराखण्ड का राष्ट्रीय पशु है—

- (A) शेर  
(B) गाय  
(C) कस्तूरी मृग  
(D) हाथी

80. एम.आई.एल.एम.आई.-17 एक ..... हेलीकॉप्टर है।

- (A) रूसी  
(B) भारतीय  
(C) अमेरिकी  
(D) इनमें से कोई नहीं

81. उत्तराखण्ड की अधिकारिक द्वितीय राष्ट्र भाषा है—

- (A) हिन्दी  
(B) संस्कृत  
(C) अंग्रेजी  
(D) जौनसारी

82. तपन राय चौधरी कौन थे ?

- (A) इतिहासकार  
(B) अर्थशास्त्री  
(C) चित्रकार  
(D) अभिनेता

Note : (Q. No. 83 to 87) Choose the right next figure from the answer figure which one is the next right figure for the question figure series.

83. Question figures :

Answer figures :

(A) (B) (C) (D)

84. Question figures :

Answer figures :

(A) (B) (C) (D)

85. Question figures :

Answer figures :

(A) (B) (C) (D)

86. Question figures :

Answer figures :

(A) (B) (C) (D)

87. Question figures :

Answer figures :

(A) (B) (C) (D)

नोट : (प्रश्न सं. 83 से 87 तक) निम्नलिखित हर प्रश्न यदि क्रम जारी रहा तो दाहिनी ओर दी गई आकृतियों में से कौन सी उत्तर आकृति बाईं ओर प्रश्न आकृतियों के तत्काल बाद आनी चाहिए :

83. प्रश्न आकृतियाँ

उत्तर आकृतियाँ

(A) (B) (C) (D)

84. प्रश्न आकृतियाँ

उत्तर आकृतियाँ

(A) (B) (C) (D)

85. प्रश्न आकृतियाँ

उत्तर आकृतियाँ

(A) (B) (C) (D)

86. प्रश्न आकृतियाँ

उत्तर आकृतियाँ

(A) (B) (C) (D)

87. प्रश्न आकृतियाँ

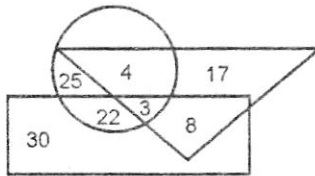
उत्तर आकृतियाँ

(A) (B) (C) (D)

88. Which is the highest peak of Uttarakhand—  
 (A) Trishul (B) Nanda Devi  
 (C) Chogori (D) Neelkanth
89. 'Operation Surya Hope' is related to which state—  
 (A) Uttarakhand (B) Uttar Pradesh  
 (C) Bihar (D) Tamil Nadu
90. Who was appointed as a Nodal Officer for Relief and Rescue operation in Uttarakhand—  
 (A) V. K. Joshi  
 (B) V. K. Sharma  
 (C) V. K. Thapliyal  
 (D) V. K. Duggal
91. Hon. Governor of Uttarakhand is appointed by—  
 (A) Chief Minister of Uttarakhand  
 (B) President of India  
 (C) Prime Minister of India  
 (D) Home Minister of India
92. Who led the Chipko Movement—  
 (A) Gaura Devi  
 (B) Chandi Prasad Bhatt  
 (C) Govind Ballabh Pant  
 (D) None of them
93. 'Ansuiya Prasad Bahuguna' is also known as—  
 (A) Gandhi of Uttarakhand  
 (B) Garh Keshari  
 (C) Vraksh Manav  
 (D) None of these
94. Kalsi Inscription is related to—  
 (A) Emperor Chandra Gupta  
 (B) Maurya Emperor  
 (C) Emperor Ashok  
 (D) None of them
88. उत्तराखण्ड की सबसे ऊँची चोटी है—  
 (A) त्रिशूल (B) नन्दा देवी  
 (C) चोगोरी (D) नीलकण्ठ
89. 'आपरेशन सूर्य होप' किस प्रदेश से सम्बन्धित है—  
 (A) उत्तराखण्ड (B) उत्तर प्रदेश  
 (C) बिहार (D) तमिलनाडु
90. उत्तराखण्ड में राहत एवं बचाव कार्य के लिए किसको नोडल अधिकारी के रूप में नियुक्त किया गया था—  
 (A) वी. के. जोशी  
 (B) वी. के. शर्मा  
 (C) वी. के. थपलियाल  
 (D) वी. के. दुग्गल
91. उत्तराखण्ड के मा. राज्यपाल को कौन नियुक्त करता है—  
 (A) उत्तराखण्ड के मुख्यमंत्री द्वारा  
 (B) राष्ट्रपति द्वारा  
 (C) प्रधानमंत्री द्वारा  
 (D) भारत के गृहमंत्री द्वारा
92. चिपको आन्दोलन का नेतृत्व किसने किया—  
 (A) गौरा देवी  
 (B) चंडी प्रसाद भट्ट  
 (C) गोविन्द बल्लभ पन्त  
 (D) इनमें से कोई नहीं
93. 'अनुसुइया प्रसाद बहुगुणा' को किस और नाम से जाना जाता है—  
 (A) उत्तराखण्ड के गाँधी के नाम से  
 (B) गढ़केसरी के नाम से  
 (C) वृक्ष मानव के नाम से  
 (D) इनमें से कोई नहीं
94. कालसी का शिलालेख किससे सम्बन्धित है—  
 (A) सम्राट चन्द्रगुप्त  
 (B) मौर्य सम्राट  
 (C) सम्राट अशोक  
 (D) इनमें से कोई नहीं

95. Name of Kumaon in Purana's—  
 (A) Kedarkhand  
 (B) Uttarakhand  
 (C) Uttranchal  
 (D) Manas Khand

Note : (Q. No. 96 to 100) Read the following figure and give suitable answer from given options.

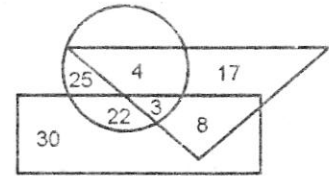


In figure triangle represents doctor, circle is represents players and rectangle is represents artist, then—

96. How many artists and players are doctors—  
 (A) 6 (B) 8  
 (C) 4 (D) 3
97. How many artists are players—  
 (A) 30 (B) 29  
 (C) 25 (D) None of these
98. How many artists are there who are neither players nor doctors—  
 (A) 29 (B) 30  
 (C) 22 (D) 8
99. How many doctors are there who are neither player nor artists ?  
 (A) 17 (B) 30  
 (C) 8 (D) 17
100. How many players are there who are neither artist nor doctor—  
 (A) 22 (B) 4  
 (C) 25 (D) 3

95. पुराणों में कुमाऊँ को किस नाम से जाना जाता था—  
 (A) केदारखण्ड  
 (B) उत्तराखण्ड  
 (C) उत्तरांचल  
 (D) मानसखण्ड

नोट : (प्रश्न सं. 96 से 100 तक) प्रत्येक प्रश्न के लिए निम्नांकित आकृति का अध्ययन करो और उचित उत्तर दो।



इसमें त्रिभुज डॉक्टरों को, वृत्त खिलाड़ियों को तथा आयत कलाकारों को प्रदर्शित करता है।

96. कितने कलाकार एवं खिलाड़ी डॉक्टर हैं ?  
 (A) 6 (B) 8  
 (C) 4 (D) 3
97. कितने कलाकार खिलाड़ी हैं—  
 (A) 30 (B) 29  
 (C) 25 (D) इनमें से कोई नहीं
98. कितने कलाकार ऐसे हैं जो न तो खिलाड़ी हैं और न डॉक्टर—  
 (A) 29 (B) 30  
 (C) 22 (D) 8
99. कितने डॉक्टर ऐसे हैं जो न तो खिलाड़ी हैं और न कलाकार ?  
 (A) 17 (B) 30  
 (C) 8 (D) 17
100. कितने खिलाड़ी ऐसे हैं जो न तो कलाकार हैं और न डॉक्टर—  
 (A) 22 (B) 4  
 (C) 25 (D) 3

**PART-2 (English) / भाग - 2 (अंग्रेजी)**  
**(Q. No. 101 to 200) / (प्रश्न संख्या 101 से 200 तक)**

**Direction : Read the following passage & answer questions from Q. No. 101 to 106 based on it.**

**PASSAGE**

The goals of our present system of primary & secondary education are to prepare students for the examination system, which will take them to the best technical & professional institutions in the country. While the teaching of Science & Mathematics has been upgraded over the years and teaching of the Humanities & Social Sciences continues to be straight jacketed in grotesque ways. Those areas of the Indian locality that ought to form the proper subject like caste, poverty & environmental degradation, if we are to create a responsible & aware body of citizens, form no part of the syllabus. The capacity to think inadequately & critically about problems that plague modern Indian society, which really ought to be a prominent part of the humanities curriculum is perceived to be intractable from the point of view of the examiner. Least the evaluation becomes subjective; every effort is made to reduce both History and Economics to a series of facts, a one-to-one correlation between facts ensures proper systems of grading.

101. According to the author the teaching of Science & Mathematics develops the capacity of the students in which of the following—  
 (I) Considering pros & cons of each decision  
 (II) Examining the problem minutely with proper analysis.  
 (A) Only I  
 (B) Only II  
 (C) Either I or II  
 (D) None of these
102. What seems to be the purpose of the author in writing this passage—  
 (A) To critically look into the methods of teaching Science & Mathematics  
 (B) To reduce importance of Science subjects  
 (C) To point out the deficiencies in the curriculum and examination system  
 (D) To put up a case for improved & upgraded system of education
103. What problems does the author see in the improvement of teaching of Humanities & Social Science ?  
 (I) The present syllabus of the subject  
 (II) The difficulties of the examiners  
 (III) The present system of evaluation  
 (A) Only I  
 (B) Only II  
 (C) Only III  
 (D) All of above

104. The author seems to believe in which of the following—

- (I) The capacity to think can be developed by a properly designed curriculum of Humanities and Social Sciences
- (II) Objective evaluation is necessary for Social Sciences
- (III) Proper education can help a person to become a responsible & responsive citizen.

- (A) Only I
- (B) Only II
- (C) Only III
- (D) Both I & III

105. According to the author, the present educational system ultimately helps the students in which of the following—

- (I) Understanding the real problems of people.
- (II) Acquiring various techniques to face the challenges of the future.
- (III) Getting admission to renowned technical institutions.

- (A) Only I
- (B) Only II
- (C) Only III
- (D) Only I & II

106. According to author which of the following is the main cause leading to the upgradation teaching of Maths & Science—

- (A) Science & Mathematics can solve our problems
- (B) It inculcates proper values for becoming an ideal citizen
- (C) The evaluation of these subjects is objective & critical
- (D) None of the above

**Direction for questions 107 to 111 : In each of the following questions a word is given in capital letters followed by four alternative words marked (A)-(D). Select from the alternatives, the word nearest in meaning to the word given in capital letters.**

107. ENDOGAMY

- (A) Similar religious practice
- (B) Similar child-rearing practice
- (C) Marriage within a group
- (D) Ceremony of marriage

108. OBLIVION

- (A) Condition of being forgotten
- (B) Condition of being angry
- (C) Condition of being trustworthy
- (D) Condition of being happy



**109. QUARRY**

- (A) Pit
- (B) Sand
- (C) Museum
- (D) Mardi grass

**110. STARK**

- (A) Severe
- (B) Tense
- (C) Obvious
- (D) Slent

**111. RUDIMENTARY**

- (A) Advanced
- (B) Supreme
- (C) Basic
- (D) Secondary

**Direction for questions from 112 to 116 : From the given options (A) - (D). Choose the one that is farthest in meaning to the word given in capital letter.**

**112. PUISSANCE**

- (A) Impotence
- (B) Approval
- (C) Denial
- (D) Bicuspid

**113. DORMANT**

- (A) Stretch
- (B) Active
- (C) Reliable
- (D) Unexciting

**114. CIRCUITOUS**

- (A) Direct
- (B) Pleasurable
- (C) Approximately
- (D) Complex

**115. INCITE**

- (A) Overlook
- (B) Eugross
- (C) Modify
- (D) Calm

**116. FUSION**

- (A) Correlation
- (B) Blending
- (C) Schism
- (D) Illogicality

**Direction for Q. 117 to 123 : For each question below some alternative words for the sentence are given. You have to find out the most appropriate alternative word.**

**117. Anything which destroys the effect of poison—**

- (A) Antiseptic
- (B) Antidote
- (C) Serum
- (D) Seramycin

118. Words used in ancient times but no longer in general use now—

- (A) Ancient
- (B) Archaic
- (C) Antiquated
- (D) Extinct

119. A soldier who fights for the sake of money—

- (A) Mercenary
- (B) Senecure
- (C) Honorary
- (D) Equestrian

120. A long boring speech—

- (A) Harangue
- (B) Filibuster
- (C) Declamation
- (D) Horology

121. Practice of borrowing ideas & words from others and using them as one's own—

- (A) Pantomime
- (B) Plagiarism
- (C) Imitation
- (D) Adaptation

122. Story told to illustrate a moral or spiritual truth—

- (A) Parable
- (B) Paradigm
- (C) Paragon
- (D) Didactic

123. A person who looks at the dark side of everything—

- (A) Blind
- (B) Sadist
- (C) Pessimist
- (D) None of these

**Direction for questions 124 to 130 :** In following questions, select the most appropriate word from the given alternatives.

124. Gasoline is a known ....., but we still use it to keep our cars in motion.

- (A) Elixir
- (B) Carcinogen
- (C) Endeavour
- (D) Calligraphy

125. He believed that poverty was ineradicable and that no social legislation could be more than .....

- (A) Palliative
- (B) Symbiotic
- (C) Ramification
- (D) Deciduous

126. He hated his father so intensely that he committed .....
- (A) Concatenation  
(B) Viscosity  
(C) Matricide  
(D) Parricide
127. Her ..... manner embarrassed others at the party.
- (A) Sapid  
(B) Tractable  
(C) Paranoid  
(D) Gauche
128. Her status in the hat shop was that of a mere .....
- (A) Minim  
(B) Menial  
(C) Mellinery  
(D) Expedition
129. My ability to inspire others is my best .....
- (A) Acumen  
(B) Attribute  
(C) Feasible  
(D) Coherence
130. Doing well in college is of the ..... concern to me, so I spend several hours studying each day.
- (A) Most  
(B) Parallel  
(C) Utmost  
(D) Magnitude
131. Which of the following dramatists does not belong to the group called "University Wits" ?
- (A) George Peele  
(B) Thomas Lodge  
(C) John Webster  
(D) Thomas Nash
132. Which of the following does not belong to the Pre-Raphaelite Brotherhood ?
- (A) Swinburne  
(B) Rossetti  
(C) Miliais  
(D) Hunt
133. The phrase "dissociation of sensibility" was used by Eliot in—
- (A) Tradition and The Individual Talent  
(B) The Metaphysical Poets  
(C) Dante  
(D) Baudelaire

134. The phrase "Art for Art's Sake" was introduced by—  
 (A) Baudelaire  
 (B) Mallarme  
 (C) Gautier  
 (D) Wilde
135. The Waste Land was published in—  
 (A) 1911  
 (B) 1917  
 (C) 1922  
 (D) 1924
136. Who wrote Troilus and Criseyde—  
 (A) Shakespeare  
 (B) Chaucer  
 (C) Homer  
 (D) Dryden
137. 'The grizzly bear is huge and wild'. This line is in—  
 (A) Dactyllic meter  
 (B) Iambic meter  
 (C) Dactyllic with iambic variation  
 (D) Iambic with dactylic variation
138. Venus and Adonis is a poem written by—  
 (A) Keats  
 (B) Jonson  
 (C) Shakespeare  
 (D) Heywood
139. Who wrote 'The Cocktail Party' ?  
 (A) Pinter  
 (B) Eliot  
 (C) Greene  
 (D) Galsworthy
140. Belinda is a character in—  
 (A) Absalom and Achitophel  
 (B) Paradise Lost  
 (C) The Rape of The Lock  
 (D) The Beggar's Opera
141. Who called Keats "a Greek" for his preoccupation with hellenism in poetry ?  
 (A) Lord Byron  
 (B) William Shakespeare  
 (C) Shelly  
 (D) None of these

142. Whom does Lamb describe as “an archangel a little damaged” ?

- (A) Scott
- (B) Hazlitt
- (C) Coleridge
- (D) Austen

143. ‘Dryden’s All for Love’ was written in imitation of Shakespeare’s—

- (A) Romeo & Juliet
- (B) Macbeth
- (C) Antony & Cleopatra
- (D) None of these

144. Find out the incorrect pair amongst the following—

- (A) Henry Fielding — The Fable of Bees
- (B) Samuel Johnson — The Variety of Human Wishes
- (C) James Boswell — The Life of Samuel Johnson
- (D) None of these

145. Which of the following is Dicken’s last work, an unfinishable, obsessive, mystery story ?

- (A) David Copperfield
- (B) A Tale of Two Cities
- (C) The Mystery of Edwin Drood
- (D) None of these

146. A novel tracing the development of the artist is—

- (A) Bildungsroman
- (B) Erziehungsroman
- (C) Kunstlerroman
- (D) Graeco Roman

147. The founder of the Oxford Movement was—

- (A) Thomas Huxley
- (B) Charles Lamb
- (C) John Newman
- (D) John Keble

148. Match the following lists using the codes given below—

List - I	List - II
(a) 1384	(1) Death of Chaucer
(b) 1400	(2) Death of Lydgate
(c) 1449	(3) Death of Surrey
(d) 1547	(4) Death of Wycliffe

Code—

	(a)	(b)	(c)	(d)
(A)	1	2	3	4
(B)	2	3	1	4
(C)	4	1	2	3
(D)	None of these			

149. Match the following lists using the codes given below—

List - I	List - II
(a) Roger Ascham	(1) Italy
(b) Dunbar	(2) Germany
(c) Martin Luther	(3) Scotland
(d) Machiavelli	(4) England

Code—

	(a)	(b)	(c)	(d)
(A)	4	3	2	1
(B)	1	2	4	3
(C)	4	2	1	3
(D)	None of these			

150. Match the following lists using the codes given below—

List - I	List - II
(a) 1660	(1) Glorious Revolution
(b) 1662	(2) Church of England restored
(c) 1688	(3) Charles II restored
(d) 1707	(4) England & Scotland Unite

Code—

	(a)	(b)	(c)	(d)
(A)	3	1	4	2
(B)	2	4	3	1
(C)	1	2	3	4
(D)	None of these			

151. Match the following lists using the given below—

List - I	List - II
(a) Ama, or the progress of mind	(1) Edward Y
(b) Preface to Shakespeare	(2) Dr. Johnsc
(c) The universal passion	(3) Matthew F

Code—

	(a)	(b)	(c)
(A)	3	2	1
(B)	2	3	1
(C)	1	2	3
(D)	None of these		

152. Who, among the following can be called first poet of Romantic Revival ?

- (A) William Collins
- (B) Thomson
- (C) William Wordsworth
- (D) Richardson

153. What is the subtitle of Dicken's Oliver T

- (A) The Old Curiosity Shop
- (B) The Parish Boy's Progress
- (C) The Posthumous Papers
- (D) None of these

154. What is Mrs. Warren's profession in G.B. Shaw's *Mrs. Warren's Profession* ?
- (A) Housekeeper  
(B) Tailor  
(C) Prostitute  
(D) None of these
155. Who among the following was not a member of the Bloomsbury circle ?
- (A) Leonard Woolf  
(B) Clive Bell  
(C) D. H. Lawrence  
(D) None of these
156. Novel "*Lady Chatterley's Lover*" is written by which author ?
- (A) Aldous Huxley  
(B) D. H. Lawrence  
(C) W. Allen  
(D) None of these
157. "*Hippopotamus*" a poem by T.S. Eliot is a satire on—
- (A) Philosophy of Hindus  
(B) The Church  
(C) The Poets of Nature  
(D) All the above
158. Name the 20th century poet who translated the "*Bhagwad Geeta*" in collaboration with Swami Prabhavanandan ?
- (A) Rudyard Kipling  
(B) Rupert Brooke  
(C) W. H. Davies  
(D) Christopher Isherwood
159. The Globe associated with Shakespeare is the name of a—
- (A) Club  
(B) Theatre  
(C) Book shop  
(D) None of these
160. The rhyming scheme of a Shakespearean is—
- (A) ab ba, ab ba, cde, cde  
(B) ab ba, ab ba, cd cd, ee  
(C) ab ab, cd cd, ef ef, gg  
(D) aa bb, bb cc, de de, ff
161. The "*Autobiography of an Unknown Indian*" is written by—
- (A) Salman Rushdie  
(B) S. Radhakrishnan  
(C) Nirad C. Chaudhary  
(D) Mulak Raj Anand

162. The "Prophet" is written by—  
(A) Robert Frost  
(B) Ved Mehta  
(C) Khushwant Singh  
(D) Khalil Gibran
163. Which among the following is the last collection of poems by Sarojini Naidu—  
(A) The Bird of Time  
(B) The Broken Wing  
(C) The Temple  
(D) None of these
164. Jayant Mahapatra, a well known Indian English Poet, is basically a man of—  
(A) Chemistry  
(B) Mechanical Engineering  
(C) Physics  
(D) English
165. Who among the following has not been awarded the nobel prize—  
(A) Joseph Brodsky  
(B) V. S. Naipaul  
(C) Salman Rushdie  
(D) William Faulkner
166. Which among the following is not a work of George Bernard Shaw—  
(A) You Never Can Tell  
(B) The Traveller  
(C) Candida  
(D) The Devil's Disciple
167. There were three important Medieval Institutions. Which of the following was not one of them ?  
(A) Slavery  
(B) Feudalism  
(C) The Church  
(D) None of these
168. Which of the following is not one of the dominant forms of poetry of fifteenth century England ?  
(A) Allegory  
(B) Ballad  
(C) Sonnet  
(D) None of these
169. Phillip Larkin belongs to a group of writers known as—  
(A) The Bloomsbury Group  
(B) The Imagist Group  
(C) The Movement  
(D) New Generation Poets



170. 'The fault, dear Brutus, is not in our stars  
But in ourselves that we are underlings'  
These lines occur in a play by—  
(A) Shakespeare  
(B) Christopher Fry  
(C) James Barrie  
(D) Congreve
171. The poet who wrote "Little Gidding" is—  
(A) W. H. Auden  
(B) Steppen Spender  
(C) T. S. Eliot  
(D) W. B. Yeats
172. All changed, changed utterly A. terrible  
beauty is born  
These lines occur in a poem by—  
(A) W. B. Yeats  
(B) Rupert Brooke  
(C) Louis MacNiece  
(D) W. H. Davies
173. A book written by Charles Dodgson, a  
Victorian mathematician and priest of the  
Church of England, which became a classic—  
(A) Treasure Island  
(B) Peter Pan  
(C) Gulliver's Travells  
(D) Alice in Wonderland
174. One of the following was Not a member of  
the Bloomsbury Group—  
(A) Sidney Webb  
(B) E. M. Forster  
(C) Virginia Woolf  
(D) Aldous Huxley
175. "A rose is a rose is a rose is a rose." This  
statement was made by—  
(A) Shakespeare's Juliet  
(B) Sylvia Plath  
(C) Robert Burns  
(D) Gertrude Stein
176. The figure of speech in the line "when my  
bosom was young" is—  
(A) Metaphor  
(B) Synecdoche  
(C) Personification  
(D) Hyperbole
177. The essence of drama lies in—  
(A) Spectacle  
(B) Dialogue  
(C) Conflict  
(D) Soliloquy

178. Bleak House is a novel by—

- (A) R. L. Stevenson
- (B) Thomas Hardy
- (C) William Thackeray
- (D) Charles Dickens

179. The most distinctive feature of lyric poetry is its—

- (A) Brevity
- (B) Subjectivity
- (C) Imagery
- (D) Sensuousness

180. Sidney's concept of the poet is as—

- (A) A teacher and moraliser
- (B) A teacher who delights
- (C) An entertainer
- (D) None of the above

181. Millamant is the name of the heroine of—

- (A) She Stoops to conquer
- (B) The Rivals
- (C) The Way of the World
- (D) The Importance of Being Ernest

182. The poet who cut down the manuscript of

The Waste Land to about one third of its original size was—

- (A) T. E. Hulme
- (B) Robert Frost
- (C) Ezra Pound
- (D) W. B. Yeats

183. "Frailty the name is woman" is spoken by

- (A) Macbeth
- (B) King Lear
- (C) Shylock
- (D) Hamlet

184.      **List - I**                      **List - II**

(a) Obsolete	(1) Faithfulness
(b) Panacea	(2) Outdated
(c) Fidelity	(3) A remedy for all e
(d) Maudlin	(4) Excessively sentim

**Code—**

	(a)	(b)	(c)	(d)
(A)	2	3	1	4
(B)	4	2	3	1
(C)	1	4	2	3
(D)	3	1	4	2

**Direction (Q. No. 185-190) : Choose the exact meaning of idiomatic expressions.**

**185.** To have cold feet—

- (A) To be reluctant
- (B) To pour water on something
- (C) To feel very cold
- (D) To pay much attention to

**186.** Blue blood—

- (A) A funny object
- (B) An aristocrat
- (C) A creature
- (D) None of these

**187.** To throw dust in one's eyes—

- (A) To point out false things
- (B) To put sand into one's eyes
- (C) To deceive
- (D) None of these

**188.** To steal a march—

- (A) To command a group
- (B) To overtake the situation
- (C) To outshine
- (D) To start early

**189.** A fool's paradise—

- (A) To have happy dreams
- (B) To live in illusions
- (C) To live in the past
- (D) None of these

**190.** Extinct & obsolete—

- (A) Behind time
- (B) Exhausted
- (C) Very old
- (D) As dead as a dodo

**191.** Who among the following wrote only tragedies—

- (A) Ben Jonson
- (B) R. K. Narayanan
- (C) Christopher Marlowe
- (D) Thomas Nash

**192.** Which of the following is not a work of Jane Austen—

- (A) Pride & Prejudice
- (B) Old Mortality
- (C) Mansfield Park
- (D) Persuasion

193. Which of the following is a work of George Orwell—
- (A) Practical Criticism
  - (B) In Parenthesis
  - (C) Animal Farm
  - (D) Battle Field
194. The first periodical that appeared in Europe was—
- (A) The Spectator
  - (B) Gazette
  - (C) The Review
  - (D) None of these
195. Which of the following is GB Shaw's first play ?
- (A) Mrs. Warren's Profession
  - (B) Murder in Cathedral
  - (C) Man & Superman
  - (D) None of these
196. W. B. Yeats belonged to—
- (A) Newzealand
  - (B) Ireland
  - (C) England
  - (D) None of these
197. Whose autobiography is entitled "My Father's Son"—
- (A) Nirad Chaudhary
  - (B) V. S. Naipaul
  - (C) Dom Moraes
  - (D) Henry Derozio
198. Which one among the following has been described by a critic as an "Outsider Inside"—
- (A) Salman Rushdie
  - (B) Mulak Raj Anand
  - (C) Romesh Chandra Dutt
  - (D) Ruth Jhabvala
199. Which of the following is one of the works of Aristotle—
- (A) Ethics
  - (B) Poetics
  - (C) Metaphysics
  - (D) All of the above
200. Which are the two major categories into which Plato divided 'Art' ?
- (A) Divine & Human
  - (B) Real & Imaginary
  - (C) Acquisitive & Productive
  - (D) None of those