

Part A: General Intelligence and Reasoning**भाग क: सामान्य बुद्धिमत्ता एवं तर्कशक्ति**

- 1) From the given alternative words, select the word which cannot be formed using the letters of the given word.
दिए गए विकल्पों में से ऐसा शब्द चुनिए जो दिए गए शब्द के अक्षरों का प्रयोग करके नहीं बनाया जा सकता हो।

ADMINISTRATION

- A) Strain B) Tradition
C) Ration D) Situation

Question Nos.2 to 5

प्रश्न संख्या 2 से 5 तक

Directions / निर्देश: Select the related word / letter / number from the given alternatives.

दिए गए विकल्पों में से सम्बंधित शब्द / अक्षर / संख्या चुनिए।

- 2) WALLET : MONEY :: ENVELOPE : ?

बटुआ : धन :: लिफाफा : ?

- A) GUM / गोंद B) LETTER / पत्र
C) SUITCASE / सूटकेस D) POSTOFFICE / डाकघर

- 3) 8 : 81 :: 64 : ?

- A) 137 B) 125
C) 825 D) 525

- 4) CARD : JOKER :: BOOK : ?

ताश : जॉकर :: पुस्तक : ?

- A) WRITER / लेखक B) WORDS / शब्द
C) COVER / आवरण D) PAGES / पृष्ठ

- 5) AK : FH :: XD : ?

- A) TE B) SJ
C) CI D) BH

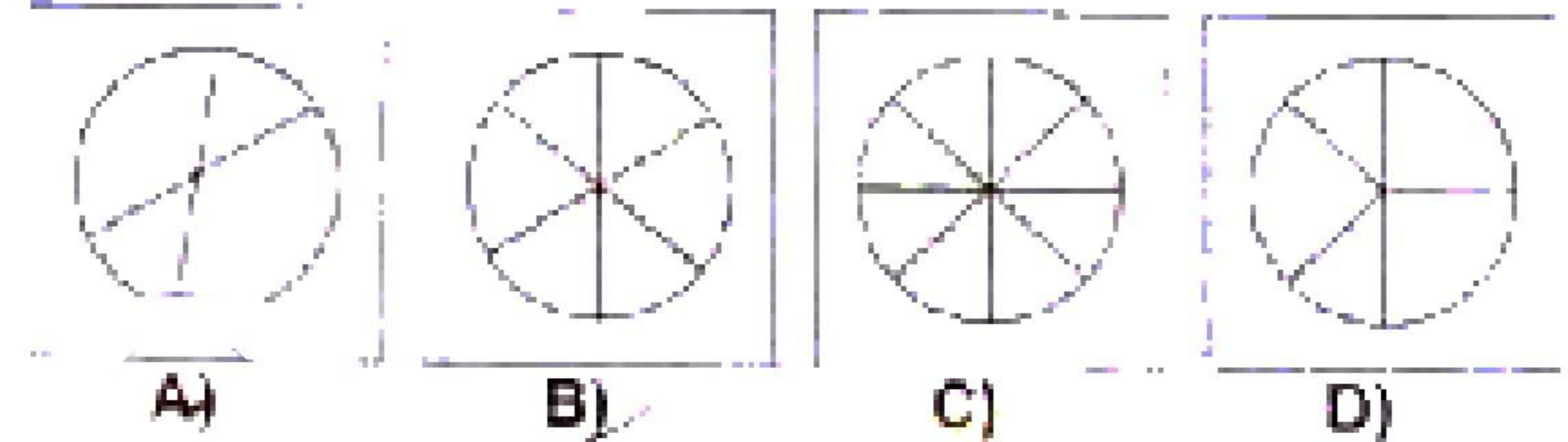

- 6) If 50 minutes ago, it was 45 minutes past four 'o clock, how many minutes is it until six 'o clock?

यदि 50 मिनट पहले 4 बजकर 45 मिनट थे तो छह बजने में कितने मिनट हैं?

- A) 35 B) 125
C) 45 D) 15

- 7) Which of the answer figures can be formed using the question figures.

प्रश्न आकृति का प्रयोग करके कौन सी उत्तर आकृति बनाई जा सकती है।



- 8) **Direction:** Two statements are given followed by two conclusions/Assumptions, I and II. You have to consider the statement to be true, even if it seems at variance from commonly known facts. You are to decide which of the given conclusions/assumptions can definitely be drawn from given statement. Indicate your answer.

निर्देश: दो वक्तव्य दिया गया है, जिनके आगे दो निष्कर्ष/मान्यताएँ, I और II निकाले गये हैं। आपको विचार करना है कि वक्तव्य सत्य है चाहे वह सामान्यतः ज्ञात तथ्यों से भिन्न प्रतीत होता हो। आपको निर्णय करना है कि दिए गए वक्तव्य में से कौन-सा निश्चित रूप से सही निष्कर्ष/मान्यता निकाला जा सकता है। अपने उत्तर को निर्दिष्ट कीजिए।

Statements / वक्तव्य:

- No teacher comes to the school on a bicycle.
कोई शिक्षक साइकिल पर विद्यालय नहीं आता है।
- Anand comes to the school on a bicycle.
आनन्द साइकिल पर विद्यालय आता है।

Conclusions / निष्कर्ष:

- Anand is not a teacher
आनन्द शिक्षक नहीं है।
- Anand is a student.
आनन्द विद्यार्थी है।

- | | |
|--|--|
| A) Conclusion II alone can be drawn. / केवल निष्कर्ष II निकलता है। | B) Both conclusions cannot be drawn. / दोनों निष्कर्ष नहीं निकलते। |
| C) Conclusion I alone can be drawn. / केवल निष्कर्ष I निकलता है। | D) Both conclusions can be drawn. / दोनों निष्कर्ष निकलते हैं। |

Question Nos.9 to 10

प्रश्न संख्या 9 से 10 तक

Directions / निर्देश: A series is given, with one/two terms missing. Choose the correct alternative from the given ones that will complete the series.

एक श्रृंखला दी गई है जिसमें एक / दो पद लुप्त हैं। दिए गए विकल्पों में से ऐसा सही विकल्प चुनिए जो श्रृंखला को पूरा करे।

- 9) 3, 8, 19, 15, 17, 22, 24, 9, ?

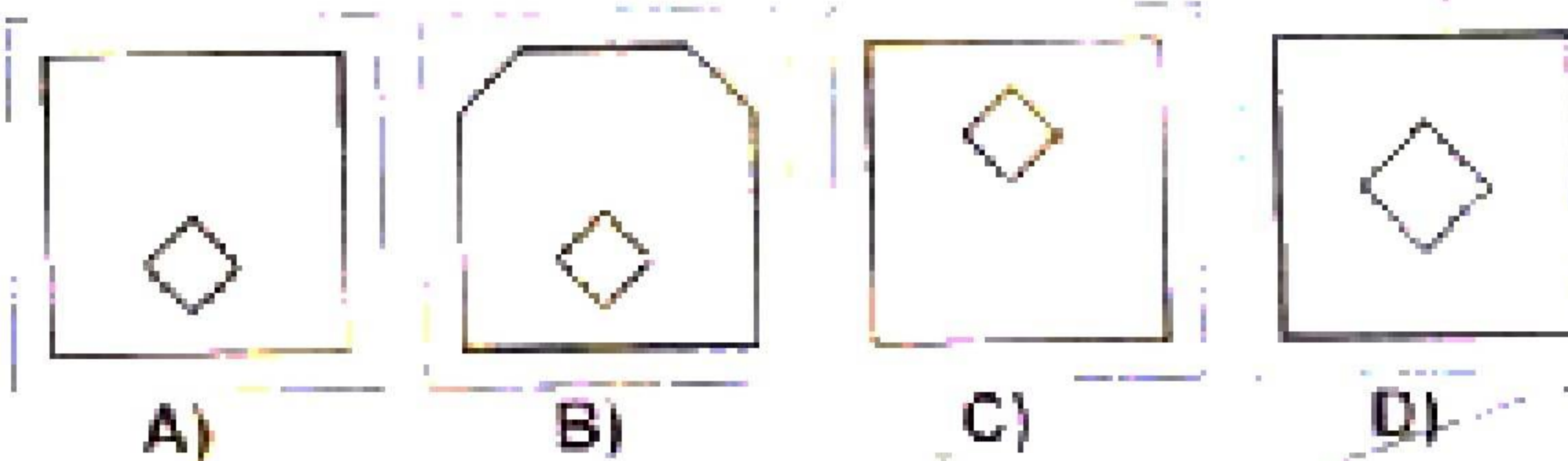
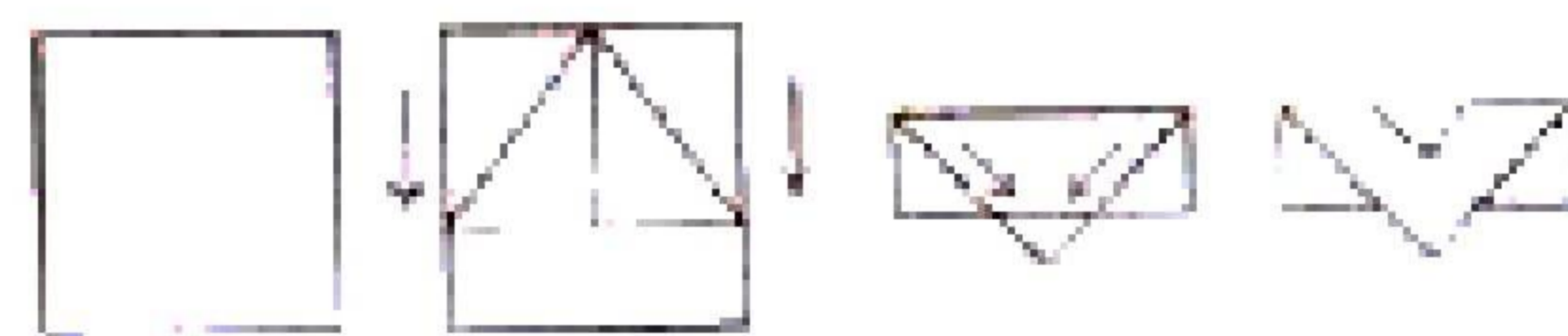
- | | |
|-----------|-----------|
| A) 29, 34 | B) 29, 32 |
| C) 29, 31 | D) 26, 28 |

- 10) A, Z, B, Y, C, X, D, W, E, V, F, U, G, ?

- | | |
|------|------|
| A) V | B) S |
| C) T | D) R |

- 11) A piece of paper is folded and cut as shown below in the question figures. From the given answer figures, indicate how it will appear when opened.

नीचे प्रश्न आकृतियों में दिखाए अनुसार कागज को मोड़कर काटने तथा खोलने के बाद वह किस उत्तर आकृति जैसा दिखाई देगा?



- 12) Raghu starts from his house in his car and travels 8 Km towards the North, then 6 Km towards East then 10 Km towards his right, 4 Km towards his left, 10 Km towards North and finally 4 Km towards his right. In which direction is he now with reference to the starting point?
रघु अपने घर से अपनी कार में चलना शुरू करता है और 8 Km उत्तर में जाता है, फिर 6 Km पूर्व में जाता है। उसके बाद 10 Km दाएं जाता है और फिर 4 Km बाएं जाता है। इसके बाद 10 Km उत्तर में और अंत में 4 Km दाएं जाता है। इस समय वह अपने प्रस्थान स्थल से किस दिशा में है?

- | | |
|------------------------------|-----------------------------|
| A) North / उत्तर | B) North East / उत्तर-पूर्व |
| C) South East / दक्षिण-पूर्व | D) South / दक्षिण |

- 13) In a certain code TEMPLE is written as METELP, How is FAITHFUL written in that code?

किसी कोड में TEMPLE को METELP लिखा जाता है, तो उसी कोड में FAITHFUL को कैसे लिखा जाएगा?

- | | |
|-------------|-------------|
| A) TAIFULFH | B) TIAFLUFH |
| C) JAFILUFH | D) TIAFFULH |

SSC Constable (GD) Exam Study Kit



- ▶ 100% Written Exam Syllabus
- ▶ 700+ Pages, Printed Books
- ▶ 1500 MCQ, 8 Books
- ▶ Practice Question Papers
- ▶ 1 Year Current Affairs

50% OFF
~~₹ 3,200/-~~
₹ 1599/-



for Exam Help Call Us at: +91 8800734161

IAS EXAM PORTAL

What you will get:

- 100% Syllabus Covered
- 8 Booklets
- 700+ Pages
- Five Practice Papers
- One Year Current Affairs
- Current Affairs for Exam
- Guidance & Support from Our Experts

Price of the Kit:

~~Rs. 3,200~~

Rs. 1,599/-
(Limited time Offer)



Net Banking

Order Online (100% Safe)

[Click here for Other Payment Options \(Cash/NEFT/etc\)](#)

[FOR MORE DETAILS CLICK HERE](#)



Question Nos.14 to 16

प्रश्न संख्या 14 से 16 तक

Directions / निर्देश: Find the odd word/letter/number from the given alternatives:

निम्नलिखित विकल्पों में से विषम शब्द/अक्षर/संख्या जात कीजिए।

14)

- A) Square / वर्ग
B) Triangle / त्रिभुज
C) Trapezium / समलम्ब
D) Cube / घन

15)

- A) QNO
B) IFH
C) EBD
D) YVX

16)

- A) 631
B) 424
C) 432
D) 460

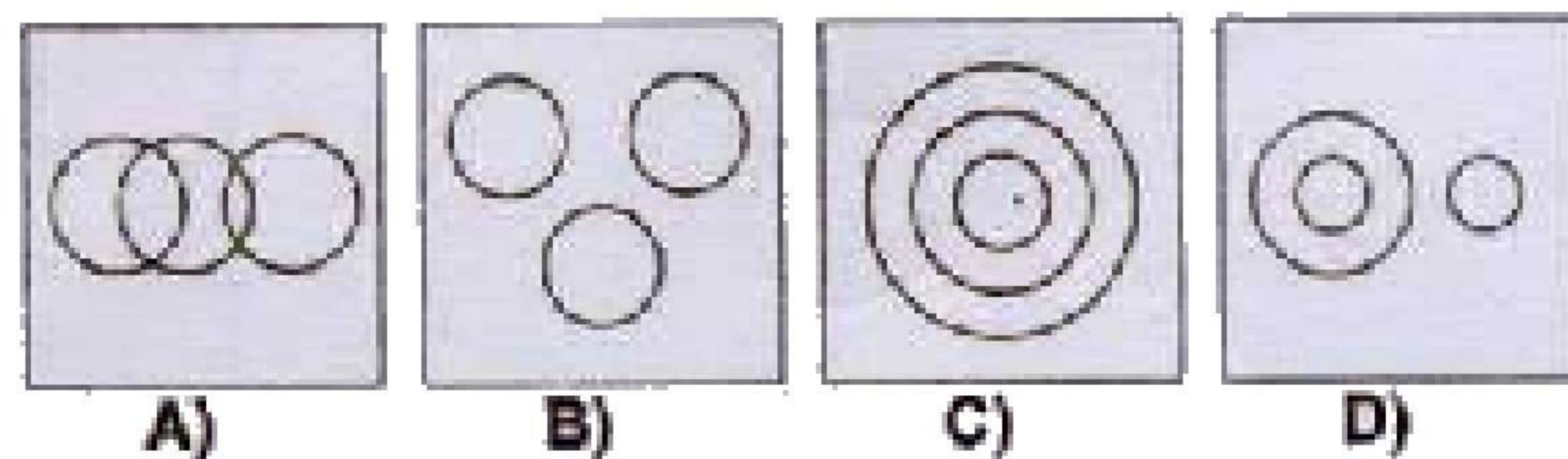
17) Which will appear 3rd in the dictionary?

शब्दकोश के क्रम में तीसरा स्थान किसका होगा?

- A) colloquy
B) collision
C) collinear
D) collegiate

18) Which figure represents the relation amongst rose, flower and leaves.

निम्नलिखित में से कौन-सी आकृति गुलाब, फूल और पत्तियों के बीच संबंध को दर्शाती है?



19) If the alphabets are numbers the sum of which 5 alphabets is 51.

यदि अक्षर संख्या हो तो कौन से 5 अक्षरों का योग 51 होगा?

- A) NIOEN
B) AIOEJ
C) AOUEH
D) AEOIT

20) The number of students in an art class is increasing month after month as follows. Find the number of students in June from the following information.

Month	Jan	Feb	March	April	May	June
No. of students	1	2	4	7	11	?

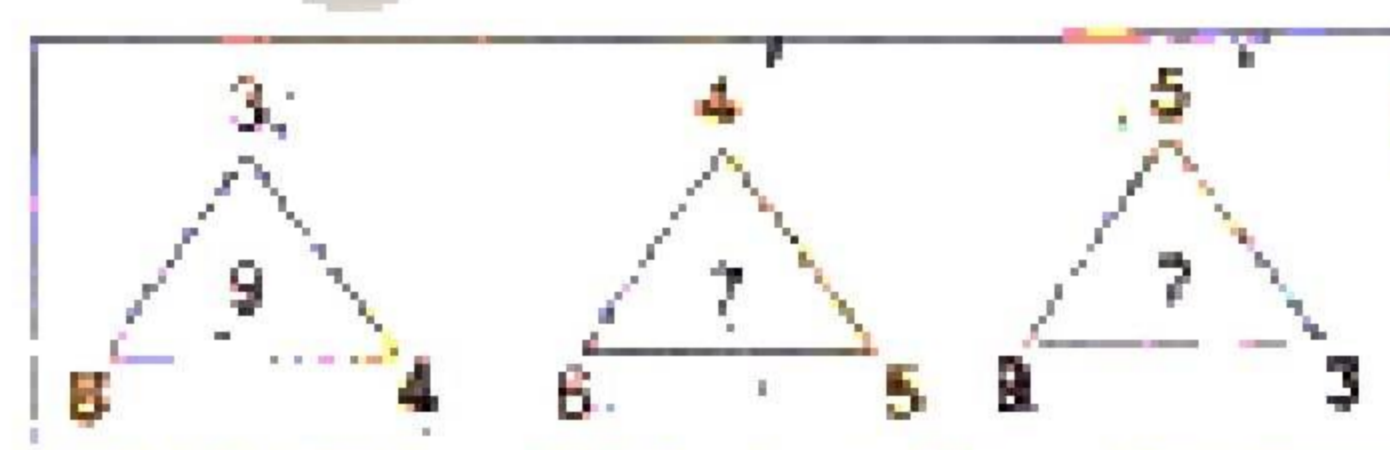
कला की एक कक्षा में छात्रों की संख्या हर महीने निम्न प्रकार से बढ़ रही है। तदनुसार, निम्न सूचना के अनुसार जून में छात्रों की संख्या जात कीजिए।

महीना	जन.	फर.	मार्च	अप्रैल	मई	जून
छात्रों की संख्या	1	2	4	7	11	?

- A) 13
B) 14
C) 15
D) 16

21) Find the missing number from the given responses.

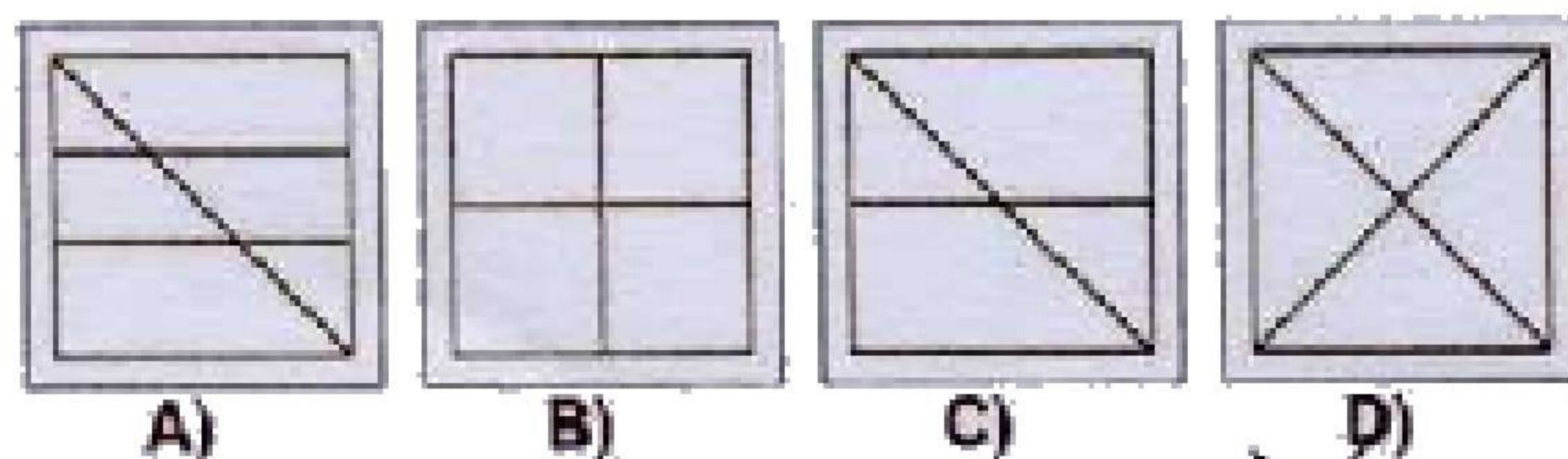
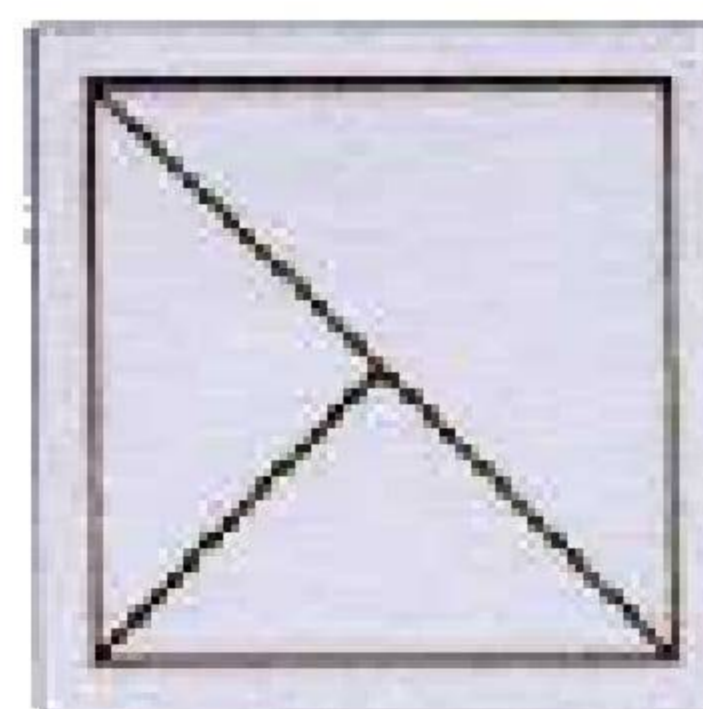
दिए गए विकल्पों में से लुप्त संख्या जात कीजिए।



- A) 7
B) 8
C) 9
D) 6

22) From the given answer figures, select the one in which the question figure is hidden/embedded.

दी गई उत्तर आकृतियों में से उस उत्तर आकृति को चुनिए जिसमें प्रश्न आकृति निहित है।



SSC CGL Tier-2 Study Kit



- 100% Syllabus Covered
- 3 Books, 750+ Pages
- 2000+ MCQs
- 5 Mock Practice Tests (PDF Copy)
- 1 year Current Affairs (PDF Copy)



₹ ~~6,000/-~~
₹ **1,999/-**

>>>>  [Click Here for More Details](#)

[CLICK HERE](#)

 SSCPORTAL.IN

What you will get:

- 100% Syllabus Covered
- 3 Booklets
- 750+ Pages
- 2,000+ MCQs
- 5 Practice Papers also provided
- One Year Current Affairs (PDF Copy)
- Guidance & Support from Our Experts

Price of the Kit:

~~Rs. 6,000~~

Rs. 1,999/-

(Limited time Offer)

 [Buy Online](#)

Net **Banking**

[CLICK HERE FOR MORE DETAILS](#)

Order Online (100% Safe)

[Click here for Other Payment Options \(Cash/NEFT/etc\)](#)

**50%
OFF**

[CLICK HERE](#)

- 23) A word is represented by only one set of numbers as given in any one of the alternatives. The sets of numbers given in the alternatives are represented by two classes of alphabets as in two Matrices given below. The columns and rows of Matrix I are numbered from 0 to 4 and that of Matrix II are numbered from 5 to 9. A letter from these matrices can be represented first by its row and next by its column, e.g., 'T' can be represented by 03, 12 etc., and 'M' can be represented by 55, 67 etc. Similarly, you have to identify the set for the word 'RUDE'.

एक शब्द केवल एक संख्या-समूह द्वारा दर्शाया गया है, जैसा कि विकल्पों में से किसी एक में दिया गया है। विकल्पों में दिए गए संख्या-समूह अक्षरों के दो वर्गों द्वारा दर्शाए गए हैं, जैसा कि नीचे दिए गए दो आव्यूहों में है। आव्यूह I के स्तम्भ और पंक्ति की संख्या 0 से 4 दी गई है और आव्यूह II की 5 से 9. इन आव्यूहों से एक अक्षर को पहले उसकी पंक्ति और बाद में स्तम्भ संख्या द्वारा दर्शाया जा सकता है। उदाहरण के लिए 'T' को 03, 12 आदि द्वारा दर्शाया जा सकता है तथा 'M' को 55, 67 आदि द्वारा दर्शाया जा सकता है। इसी तरह से आपको प्रश्न में दिए शब्द 'RUDE' के लिए समूह को पहचानना है।


MATRIX I					
	0	1	2	3	4
0	B	D	E	T	O
1	D	E	T	O	B
2	E	B	O	D	T
3	T	O	B	E	D
4	O	T	P	B	E

MATRIX II					
	5	6	7	8	9
5	M	U	I	L	R
6	U	L	M	R	I
7	I	M	R	U	L
8	L	R	U	I	M
9	R	I	L	M	U

- A) 99, 99, 34, 11
B) 77, 56, 02, 01
C) 95, 87, 42, 12
D) 56, 65, 10, 33


- 24) Which answer figure will complete the pattern in the question figure?

कौन सी उत्तर आकृति प्रश्न आकृति के प्रतिरूप को पूरा करेगी?



- 25) In the question, if a mirror is placed on the line AB then which of the answer figures is the right image of the given figure?

प्रश्न में यदि दर्पण को AB रेखा पर रखा जाता है तो कौन सी उत्तर आकृति दी गई आकृति का सही प्रतिबिम्ब होगी?



SSC CGL Tier-2 Study Kit



- 100% Syllabus Covered
- 3 Books, 750+ Pages
- 2000+ MCQs
- 5 Mock Practice Tests (PDF Copy)
- 1 year Current Affairs (PDF Copy)



₹ ~~6,000/-~~
₹ **1,999/-**

>>>>  [Click Here for More Details](#)

[CLICK HERE](#)

 SSCPORTAL.IN

What you will get:

- 100% Syllabus Covered
- 3 Booklets
- 750+ Pages
- 2,000+ MCQs
- 5 Practice Papers also provided
- One Year Current Affairs (PDF Copy)
- Guidance & Support from Our Experts

Price of the Kit:

~~Rs. 6,000~~

Rs. 1,999/-

(Limited time Offer)

 [Buy Online](#)

Net [Banking](#)

[CLICK HERE FOR MORE DETAILS](#)

Order Online (100% Safe)

[Click here for Other Payment Options \(Cash/NEFT/etc\)](#)

**50%
OFF**

[CLICK HERE](#)

Part B: General Knowledge and General Awareness

भाग ख: सामान्य ज्ञान एवं सामान्य जानकारी

26) Which among the following countries was the first to give women the right to vote?

निम्नलिखित में से किस देश ने सर्वप्रथम महिलाओं को मताधिकार दिया?

- A) Iceland / आइसलैंड
B) U.S.A. / अमेरिका
C) New Zealand / न्यूजीलैंड
D) India / भारत

27) A very hot and dry local wind blowing across North Indian plains in summer is:

गर्मियों में उत्तर-भारतीय मैदानों में बहने वाली अत्यधिक गर्म एवं शुष्क स्थानीय हवाओं को क्या कहते हैं?

- A) foehn / फीन
B) loo / लू
C) mistral / मिस्ट्रल
D) jet stream / जेट धारा

28) In India, National Youth day is celebrated on:

भारत में राष्ट्रीय युवा दिवस कब मनाया जाता है?

- A) 12th January / 12 जनवरी
B) 1st January / 1 जनवरी
C) 20th January / 20 जनवरी
D) 30th January / 30 जनवरी

29) The method that cannot be used for removing permanent hardness of water is:

पानी की स्थायी कठोरता को दूर करने के लिए कौन सी विधि का प्रयोग नहीं किया जा सकता?

- A) adding caustic soda / कॉस्टिक सोडा मिलाना
B) distillation / आसवन
C) boiling / उबालना
D) adding sodium carbonate / सोडियम कार्बोनेट मिलाना

30) Who is the woman Boxer to win Silver medal in London Olympics of 2012:

लंदन ओलंपिक 2012 में रजत पदक किस महिला मुक्केबाज ने जीता?

- A) Nicola Adams / निकोला एडम्स
B) Mary Kom / मैरी कॉम
C) Katie Taylor / का ताई टेलर
D) Natasha Jonas / नताशा जोनास

31) Who propounded the dynamic theory of profit?

लाभ के गत्यात्मक सिद्धांत का प्रतिपादन किसने किया?

- A) Knight / नाइट
B) Walker / वाकर
C) Hawley / हावले
D) Clark / क्लार्क

32) The second largest continent of the world is:

विश्व का दूसरा सबसे बड़ा महाद्वीप कौन-सा है?

- A) North America / उत्तरी अमेरिका
B) Asia / एशिया
C) Antarctica / अंटार्कटिका
D) Africa / अफ्रीका

33) Population census is taken once in:

जनगणना कितने वर्ष में एक बार की जाती है?

- A) 5 years / 5 वर्ष
B) 15 years / 15 वर्ष
C) 10 years / 10 वर्ष
D) every year / प्रतिवर्ष

34) The nuclear reaction in which the mass is converted into energy is called:

उस नाभिकीय प्रतिक्रिया को क्या कहते हैं जिसमें द्रव्यमान ऊर्जा में परिणत हो जाता है?

- A) endo-thermic / एंडो थर्मिक
B) exo-thermic / एक्सो थर्मिक
C) endo-ergic / एंडो एर्जिक
D) exo-ergic / एक्सो एर्जिक

SSC CHSL(10+2) परीक्षा अध्ययन सामग्री



- 100% CHSL Exam Syllabus Covered
- 5 Books, 900+ Pages
- 2500+ MCQs
- 1 Year Current Affairs (PDF Copy)
- Support & Guidance

50% OFF
₹ 4,000/-
₹ **1,999/-**

FREE SHIPPING

for Exam Help Call Us at: +91 8800734161

SSCPORTAL.IN

आप क्या प्राप्त करेंगे?

- माध्यम: हिन्दी
- 100 प्रतिशत पाठ्यक्रम
- 900 से अधिक पृष्ठ
- 2500 से अधिक वस्तुनिष्ठ प्रश्न
- कुल 5 पुस्तिकाएँ
- अध्यायवार M.C.Q
- गणित एवं तार्किक क्षमता को हल करने की सरल विधि
- 5 अभ्यास प्रश्न पत्र (PDF Copy)
- हमारे विशेषज्ञों द्वारा मार्गदर्शन और सहायता

Price of the Kit:

Rs. 4,200

Rs. 1,999/-

(Limited time Offer)

 Buy Online

VISA Maestro MasterCard RuPay

Net Banking

Order Online (100% Safe)

[Click here for Other Payment Options \(Cash/NEFT/etc\)](#)

FOR MORE DETAILS CLICK HERE

50% OFF

35) A person with blood group 'O' can receive blood transfusion from persons with blood groups-

रक्त समूह 'O' वाला व्यक्ति किस रक्त समूह के व्यक्तियों से रक्त ले सकता है?

- A) O only / केवल O B) A, B only / केवल A, B
C) O and AB / O और AB D) A, B and O / A, B और O

36) Which Mauryan ruler accompanied Bhadra Bahu to Shravanabelagola?

कौन से मौर्य शासक भद्र बाहु के साथ श्रवण बेल गोला गए थे?

- A) Ashoka / अशोक B) Bindusara / बिंदुसार
C) Dashratha / दशरथ D) Chandragupta / चंद्रगुप्त

37) Heavy grey coloured clouds which are responsible for rains are called:

ऐसे घने धूसरी बादलों को क्या कहते हैं जो वर्षा करते हैं?

- A) nimbo-stratus / वर्षा स्तरी मेघ B) nimbus / प्रभा मंडल
C) cumulus / कपासी मेघ D) cirrus / पक्षाभ मेघ

38) An amphoteric substance acts as:

एम्फोटेरिक पदार्थ किस रूप में क्रिया करता है?

- A) Both an acid and a base / अम्ल और क्षार दोनों
B) Base / क्षार
C) None of the options / दिए गए विकल्पों में से कोई नहीं
D) Acid / अम्ल

39) The first PM who had resigned without attending Parliament session was-

वह प्रथम प्रधानमंत्री कौन थे जिन्होंने संसद सत्र में उपस्थित हुए बिना ही त्याग पत्र दे दिया था?

- A) Smt Indira Gandhi / श्रीमती इंदिरा गांधी B) Lal Bahadur Shastri / लाल बहादुर शास्त्री
C) Charan Singh / चरण सिंह D) Morarji Desai / मोरारजी देसाई

40) The "Continent of Contrasts" is:-

"कॉन्टिनेंट ऑफ कॉन्ट्रास्ट्स" किसे कहते हैं?

- A) Africa / अफ्रीका B) Australia / ऑस्ट्रेलिया
C) Antarctica / अंटार्कटिका D) Asia / एशिया

41) Under the Constitution, public health and sanitation and hospitals and dispensaries fall in the:

संविधान में जन स्वास्थ्य एवं स्वच्छता तथा अस्पताल एवं औषधालय किस सूची में आते हैं?

- A) Concurrent list / समवर्ती सूची B) State list / राज्य सूची
C) No list / किसी सूची में नहीं D) Central list / केंद्र सूची

42) The group of countries that are usually referred to as the "Baltic countries" consist of:

जिन देशों को सामान्यतः "बाल्टिक देश" कहा जाता है, उनके समूह में कौन-कौन से देश शामिल हैं?

- A) Estonia, Latvia and Lithuania / एस्टोनिया, लातविया और लिथुआनिया B) Sweden, Finland and Estonia / स्वीडन, फिनलैंड और एस्टोनिया
C) Poland, Belarus and Lithuania / पोलैंड, बेलारूस और लिथुआनिया D) Denmark, Poland and Latvia / डेनमार्क, पोलैंड और लातविया

43) The first electronic digital computer contained the following:

प्रथम इलेक्ट्रॉनिक डिजिटल कंप्यूटर में निम्नलिखित में से क्या था?

- A) Transistor / ट्रांजिस्टर B) Electronic valves / इलेक्ट्रॉनिक वाल्व
C) Vacuum tubes / वैक्यूम ट्यूब D) Semiconductor memory / सेमी कंडक्टर मेमोरी

SSC CHSL (10+2) Printed Study Kit



- 100% CHSL Exam Syllabus Covered
- 5 Books, 1000+ Pages
- 4500+ MCQs
- Solved Papers & Mock Tests (PDF Copy)
- 1 Year Current Affairs (PDF Copy)

50% OFF
₹ 4,000/-
₹ **1,999/-**

FREE SHIPPING 

for Exam Help Call Us at: +91 8800734161

SSCPORTAL.IN

What you will get:

- 100% CHSL Exam Syllabus Covered
- 5 Booklets
- More Than 1000+ Pages
- 4500+ MCQs
- Previous Solved Papers
- Current Affairs for Exam
- Guidance & Support from Our Experts

Price of the Kit:

Rs. 4,000

Rs. 1,999/-

(Limited time Offer)



Net Banking

Order Online (100% Safe)

[Click here for Other Payment Options \(Cash/NEFT/etc\)](#)

[FOR MORE DETAILS CLICK HERE](#)



44) Who among the following was the Viceroy of India when the mutiny of 1857 took place?

1857 के विद्रोह के समय भारत का वायसरॉय निम्नलिखित में से कौन था?

- A) Lytton / लिटन
B) Minto / मिनटो
C) Dalhousie / डलहौजी
D) Canning / कनिंग

45) The Ramakrishna Mission was founded by:

रामकृष्ण मिशन की स्थापना किसने की थी?

- A) Raja Rammohan Rai / राजा राममोहन रॉय
B) Dayananda Sarasvati / दयानंद सरस्वती
C) Swami Vivekananda / स्वामी विवेकानंद
D) Iswar Chandra Vidyasagar / ईश्वर चंद्र विद्यासागर

46) Which of the following is NOT an aerosol?

निम्नलिखित में से क्या एयरोसोल नहीं है?

- A) fog / कोहरा
B) cloud / बादल
C) smoke / धुआँ
D) mud / कीचड़

47) Which revolution was started by the Government of India to increase the milk output.

दुग्ध उत्पादन बढ़ाने के लिए भारत सरकार द्वारा कौन-सी क्रांति शुरू की गई?

- A) White Revolution / श्वेत क्रांति
B) Green Revolution / हरित क्रांति
C) Blue Revolution / नीली क्रांति
D) Yellow Revolution / पीली क्रांति

48) Which is not a central problem of an economy?

अर्थव्यवस्था की केंद्रीय समस्या निम्नलिखित में से क्या नहीं है?

- A) For whom to produce? / उत्पादन किसके लिए करना है?
B) How to maximise private profit? / निजी लाभ को अधिकतम कैसे करना है?
C) What to produce? / उत्पादन क्या करना है?
D) How to produce? / उत्पादन कैसे करना है?

49) Louis Pasteur discovered:

लुई पास्चर ने किसकी खोज की?

- A) Penicillin / पेंसिलिन
B) Polio Vaccine / पोलियो टीका
C) Antirabies Vaccine / खोजरोधी टीका
D) Insulin / इंसुलिन

50) South Africa's first black president and anti-apartheid icon Nelson Mandela died on:

दक्षिण अफ्रीका के प्रथम अश्वेत राष्ट्रपति और रंगभेद विरोधी आइकॉन नेल्सन मंडेला की मृत्यु कब हुई?

- A) December 2, 2013 / 2 दिसंबर, 2013
B) December 6, 2014 / 6 दिसंबर, 2014
C) December 9, 2014 / 9 दिसंबर, 2014
D) December 5, 2013 / 5 दिसंबर, 2013

SSC CGL Tier-1 Printed Study Kit



- 100% Syllabus Covered
- 12 Books , 1300+ Pages
- 5600+ MCQs
- 08 Year Solved Papers & Mock Tests (PDF Copy)
- 1 year Current Affairs (PDF Copy)

50% OFF

~~₹ 6,000/-~~
₹ 2,999/-

FREE SHIPPING 

for Exam Help Call Us at: +91 8800734161

 **SSCPortal.in**

What you will get:

- 100% Syllabus Covered
- 12 Books
- 1300+ Pages
- 5600+ MCQs
- 8 Year Solved Papers (PDF Copy)
- Five Practice Papers (PDF Copy)
- One Year Current Affairs (PDF Copy)
- Guidance & Support from Our Experts

Price of the Kit:

~~Rs. 6,000~~

Rs. 2,999/-

(Limited time Offer)



Buy Online



Net Banking

Order Online (100% Safe)

[Click here for Other Payment Options \(Cash/NEFT/etc\)](#)

FOR MORE DETAILS CLICK HERE

50% OFF

कर्मचारी चयन आयोग (CGL) परीक्षा अध्ययन सामग्री



- 100% Syllabus Covered
- 4 Books, 900+ Pages
- 2500+ MCQs
- 08 Year Solved Papers & Mock Tests (PDF Copy)
- 1 year Current Affairs (PDF Copy)

50% OFF

~~₹ 4,200/-~~
₹ 2,100/-

FREE SHIPPING 

for Exam Help Call Us at: +91 8800734161

 SSCPOTAL.IN

आप क्या प्राप्त करेंगे?

- माध्यम: हिन्दी
- 100% पाठ्यक्रम
- कुल 4 पुस्तिकायें, 900 से अधिक पृष्ठ
- 2,500 से अधिक वस्तुनिष्ठ प्रश्न (MCQ)
- 8 Year Solved Papers (PDF Copy)
- Five Practice Papers (PDF Copy)
- हमारे विशेषज्ञों द्वारा मार्गदर्शन और सहायता

Price of the Kit:

Rs. 4,200

Rs. 2,100/-
(Limited time Offer)

 Buy Online

Net Banking

Order Online (100% Safe)

[Click here for Other Payment Options \(Cash/NEFT/etc\)](#)

[FOR MORE DETAILS CLICK HERE](#)

50% OFF



SSC EXAMS PRINTED STUDY NOTES

Study Material for SSC CGL (Tier-1) Examination	English	CLICK HERE
Study Kit for SSC CGL (Tier-2) Exam	English	CLICK HERE
Study Kit for SSC CHSL (10+2) Examination	English	CLICK HERE
Study Kit for SSC Stenographers (Grade 'C' & 'D')	English	CLICK HERE
Study Kit for Multitasking (Non-Technical) - MTS	English	CLICK HERE
Study Kit for SSC Constables (GD) Exam	English	CLICK HERE
Study Kit For SSC Sub-Inspectors in Delhi Police, CAPFs, CISF	English	CLICK HERE
Study Kit for SSC Junior Engineer Exam (Paper-1)	English	CLICK HERE
IAS EXAMS STUDY MATERIALS		
Study Kit for IAS (Pre) GENERAL STUDIES Paper-1 (GS)	English	CLICK HERE
Study Kit for IAS (Pre) CSAT Paper-2(Aptitude)	English	CLICK HERE
सामान्य अध्ययन (GS) प्रारंभिक परीक्षा (Pre) पेपर-1	हिन्दी	CLICK HERE
आई. ए. एस. (सी-सैट) प्रारंभिक परीक्षा पेपर -2	हिन्दी	CLICK HERE
Gist of NCERT Study Kit For UPSC Exams	English	CLICK HERE
यूपीएससी परीक्षा के लिए एनसीईआरटी अध्ययन सामग्री	हिन्दी	CLICK HERE