

Series SSO/2

Code No. **64/2/1**
कोड नं.

Roll No.
रोल नं.

| | | | | | | |
|--|--|--|--|--|--|--|
| | | | | | | |
|--|--|--|--|--|--|--|

Candidates must write the Code on the title page of the answer-book.
परीक्षार्थी कोड को उत्तर-पुस्तिका के मुख-पृष्ठ पर अवश्य लिखें ।

- Please check that this question paper contains **10** printed pages and **2** pages of maps.
- Code number given on the right hand side of the question paper should be written on the title page of the answer-book by the candidate.
- Please check that this question paper contains **26** questions.
- **Please write down the Serial Number of the question before attempting it.**
- 15 minutes time has been allotted to read this question paper. The question paper will be distributed at 10.15 a.m. From 10.15 a.m. to 10.30 a.m., the student will read the question paper only and will not write any answer on the answer script during this period.
- कृपया जाँच कर लें कि इस प्रश्न-पत्र में मुद्रित पृष्ठ **10** हैं तथा **2** पृष्ठ मानचित्रों के हैं ।
- प्रश्न-पत्र में दाहिने हाथ की ओर दिए गए कोड नम्बर को छात्र उत्तर-पुस्तिका के मुख-पृष्ठ पर लिखें ।
- कृपया जाँच कर लें कि इस प्रश्न-पत्र में **26** प्रश्न हैं ।
- कृपया प्रश्न का उत्तर लिखना शुरू करने से पहले, प्रश्न का क्रमांक अवश्य लिखें ।
- इस प्रश्न-पत्र को पढ़ने के लिए 15 मिनट का समय दिया गया है । प्रश्न-पत्र का वितरण पूर्वाह्न में 10.15 बजे किया जायेगा । 10.15 बजे से 10.30 बजे तक छात्र केवल प्रश्न-पत्र को पढ़ेंगे और इस अवधि के दौरान वे उत्तर-पुस्तिका पर कोई उत्तर नहीं लिखेंगे ।

GEOGRAPHY (Theory)

भूगोल (सैद्धान्तिक)

Time allowed : 3 hours

Maximum Marks : 70

निर्धारित समय : 3 घण्टे

अधिकतम अंक : 70

General Instructions :

- (i) There are **26** questions in all.
- (ii) All questions are compulsory.
- (iii) Marks of each question are indicated against it.
- (iv) Questions number **1** to **10** are very short answer questions carrying **1** mark each. Answer to each of these questions should not exceed **20** words.
- (v) Questions number **11** to **20** are short answer questions carrying **3** marks each. Answer to each of these questions should not exceed **80** words.
- (vi) Questions number **21** to **25** are long answer questions carrying **5** marks each. Answer to each of these questions should not exceed **150** words.
- (vii) Question number **26** is related to identification or locating and labelling of geographical features on maps.
- (viii) Outline maps of the **World** and **India** provided to you must be attached within your answer-book.
- (ix) Use of **templates** or **stencils** for drawing outline maps is allowed.

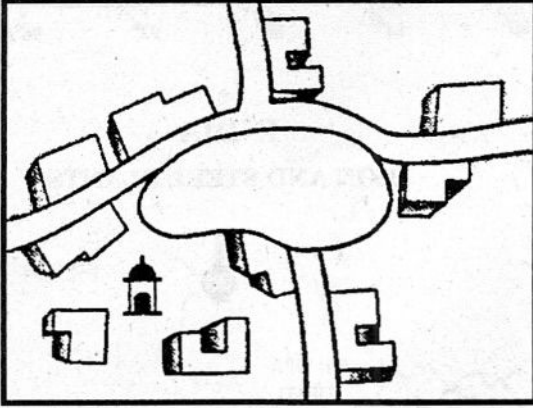
सामान्य निर्देश :

- (i) प्रश्नों की कुल संख्या **26** है।
- (ii) सभी प्रश्न अनिवार्य हैं।
- (iii) प्रत्येक प्रश्न के सामने उसके अंक दिये हैं।
- (iv) प्रश्न संख्या **1** से **10** तक अति लघु-उत्तर वाले प्रश्न हैं और प्रत्येक प्रश्न का **1** अंक है। इनमें से प्रत्येक प्रश्न का उत्तर **20** शब्दों से अधिक का नहीं होना चाहिए।
- (v) प्रश्न संख्या **11** से **20** तक लघु-उत्तर वाले प्रश्न हैं और प्रत्येक प्रश्न के **3** अंक हैं। इनमें से प्रत्येक प्रश्न का उत्तर **80** शब्दों से अधिक का नहीं होना चाहिए।
- (vi) प्रश्न संख्या **21** से **25** तक लंबे-उत्तर वाले प्रश्न हैं और प्रत्येक प्रश्न के **5** अंक हैं। इनमें से प्रत्येक प्रश्न का उत्तर **150** शब्दों से अधिक का नहीं होना चाहिए।
- (vii) प्रश्न संख्या **26** मानचित्रों पर दिए गए भौगोलिक लक्षणों को पहचानने या स्थिति दिखाने और नामांकन करने से संबंधित है।
- (viii) **संसार** और **भारत** के दिये गये रेखा-मानचित्रों को अपनी उत्तर-पुस्तिका में अवश्य नत्थी कीजिए।
- (ix) रेखा-मानचित्र बनाने के लिये **साँचों** या **स्टेंसिलों** के प्रयोग की अनुमति दी जाती है।

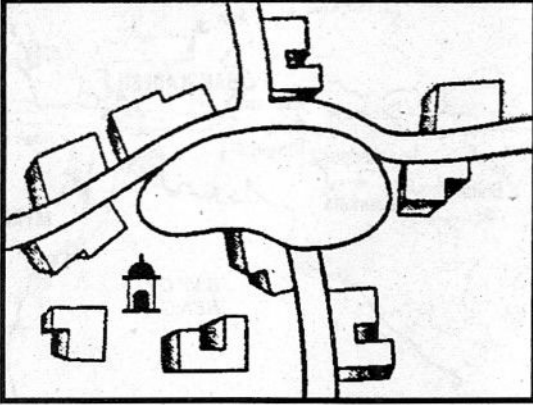
1. What is the age group of the working population in the world ? 1
संसार में कार्यशील जनसंख्या का आयु वर्ग क्या है ?
2. Define the term 'sex ratio'. 1
'लिंग अनुपात' शब्द की परिभाषा दीजिए ।
3. Give any two examples of conurbation from the world. $\frac{1}{2} + \frac{1}{2} = 1$
सन्नगर के कोई दो उदाहरण संसार से दीजिए ।
4. What is the meaning of the planned rural settlements ? 1
नियोजित ग्रामीण बस्तियों का क्या अर्थ है ?
5. Name the most developed religious and cultural centre of the ancient period in India. 1
भारत में प्राचीन युग के सबसे अधिक विकसित धार्मिक और सांस्कृतिक केन्द्र का नाम बताइए ।
6. Name the inland waterway of Europe that connects Rotterdam and Basel. 1
रोटर्डम और बेसिल को जोड़ने वाले यूरोप के आन्तरिक जलमार्ग का नाम बताइए ।
7. Why are air services limited between 10° and 35° latitudes in the Southern Hemisphere ? 1
दक्षिणी गोलार्ध में 10° और 35° अक्षांशों के मध्य वायु सेवाएँ सीमित क्यों हैं ?
8. Name the land locked sea-port of India. In which state is it located ? $\frac{1}{2} + \frac{1}{2} = 1$
भारत के स्थलरुद्ध समुद्री-पत्तन का नाम बताइए । यह किस राज्य में स्थित है ?
9. Name any two main sources of air pollution in India. $\frac{1}{2} + \frac{1}{2} = 1$
भारत में वायु प्रदूषण के किन्हीं दो प्रमुख स्रोतों के नाम बताइए ।
10. What is the main objective of protective irrigation in India ? 1
भारत में रक्षित सिंचाई का मुख्य उद्देश्य क्या है ?

11. Mention any six features of 'Trans-Siberian Railway'. 6 × $\frac{1}{2}$ =
 'पार-साइबेरियन रेलमार्ग' की किन्हीं छः विशेषताओं का उल्लेख कीजिए ।
12. State any six characteristics of road transport in India. 6 × $\frac{1}{2}$ =
 भारत में सड़क परिवहन की किन्हीं छः विशेषताओं का उल्लेख कीजिए ।
13. Describe any three sources which are responsible for water pollution in India. 3 × 1 =
 भारत में जल प्रदूषण के लिए उत्तरदाई किन्हीं तीन स्रोतों का वर्णन कीजिए ।
14. Explain the concept of 'Neo-determinism' with suitable examples.
 'नव-निश्चयवाद' विचार की व्याख्या उपयुक्त उदाहरणों सहित कीजिए ।
15. What type of rural settlements are found in Rajasthan ? Explain the main factor which is responsible for the development of such settlements. 1 + 2 =
 राजस्थान में किस प्रकार की ग्रामीण बस्तियाँ पाई जाती हैं ? इस प्रकार की बस्तियों के विकास के लिए उत्तरदाई प्रमुख कारक की व्याख्या कीजिए ।
16. Why do the maximum number of air routes converge on the three largest metropolitan cities of India ? Write also the name of any two international airports related to these cities. 2 + 1 =
 भारत के तीन सबसे बड़े महानगरों में हवाई मार्ग सर्वाधिक संख्या में क्यों अभिसरित होते हैं ? इन महानगरों से सम्बन्धित किन्हीं दो अन्तर्राष्ट्रीय वायु-पत्तनों के नाम भी बताइए ।
17. "People prefer to live in certain regions of the world and not in others." Support the statement with suitable arguments. 3 × 1 =
 "लोग संसार के कुछ निश्चित प्रदेशों में ही रहने को प्राथमिकता देते हैं और दूसरे प्रदेशों को नहीं ।" इस कथन की उपयुक्त तर्कों द्वारा पुष्टि कीजिए ।

18. Identify and name the rural settlement pattern shown in the diagram given below. Also write its any two features. 1+2=3



नीचे दिए गए आरेख में दिखाए गए ग्रामीण बस्ती प्रतिरूप को पहचानिए और उसका नाम बताइए। इस बस्ती प्रतिरूप की कोई दो विशेषताएँ भी लिखिए।



Note : The following question is for the **Blind Candidates** only in lieu of Q. No. 18.

नोट : निम्नलिखित प्रश्न केवल **दृष्टिहीन परीक्षार्थियों** के लिए प्रश्न संख्या 18 के स्थान पर है।

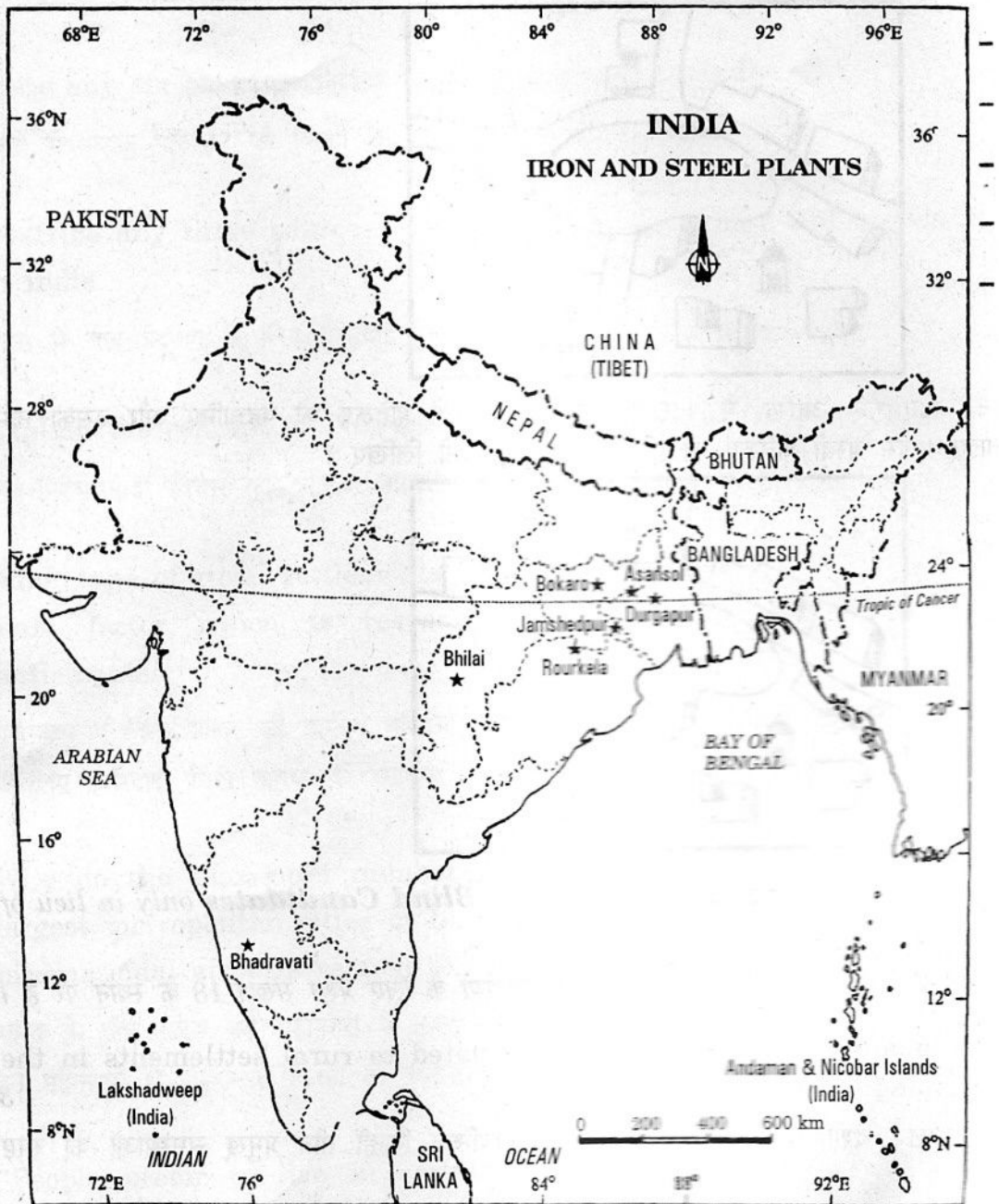
Explain any three major problems related to rural settlements in the developing countries. 3×1=3

विकासशील देशों में ग्रामीण बस्तियों से सम्बन्धित किन्हीं तीन प्रमुख समस्याओं को स्पष्ट कीजिए।

19. "The target area planning is essential to reduce regional and social disparities in India." Support the statement with suitable examples. 3×1=3

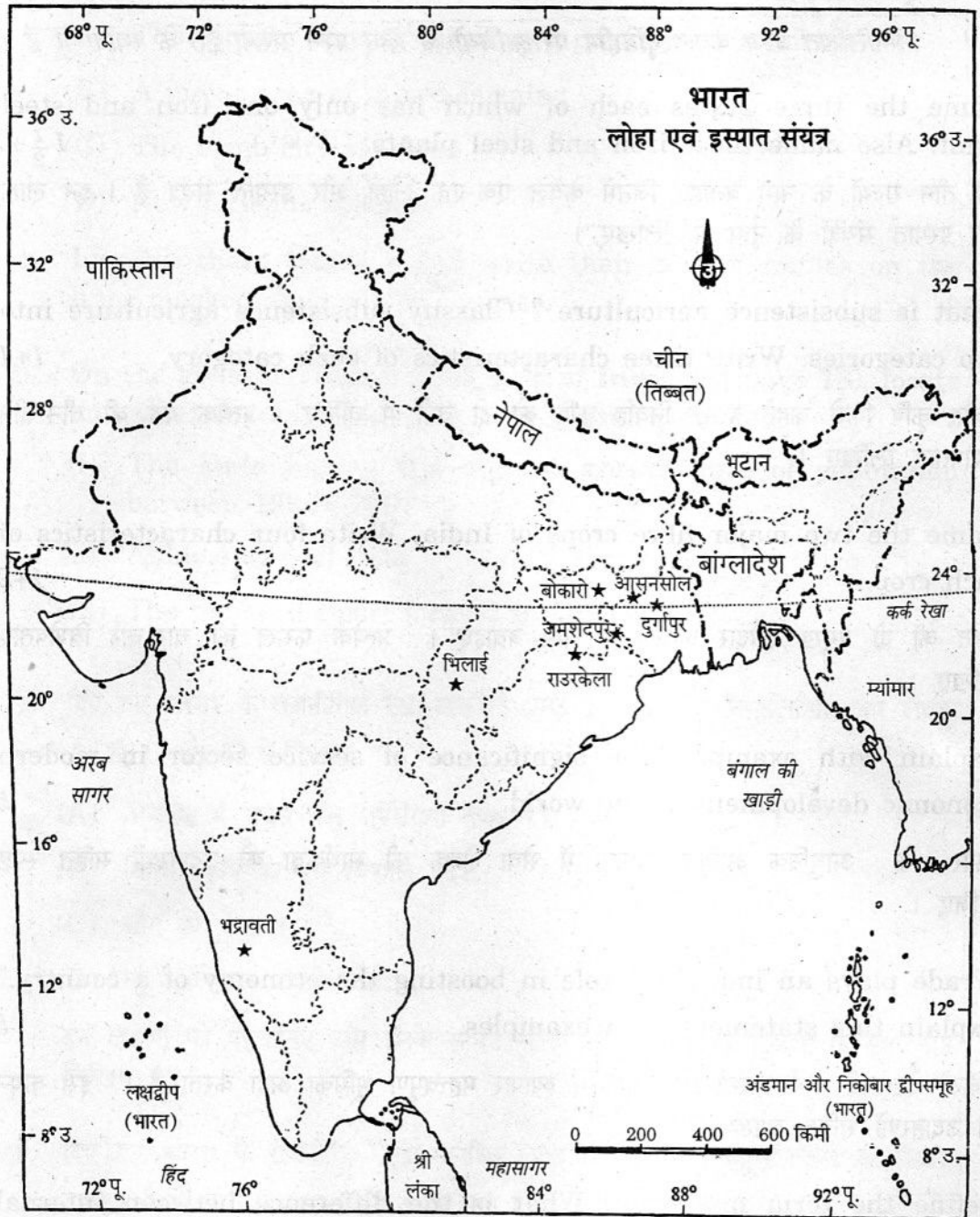
“भारत में लक्ष्य क्षेत्र नियोजन प्रादेशिक और सामाजिक विषमताओं को कम करने के लिए आवश्यक है।” इस कथन की पुष्टि उपयुक्त उदाहरणों से कीजिए।

20. Study the map given below and answer the questions that follow :



- (20.1) Name any four iron and steel plants related to the three states of Chhota-Nagpur region.
- (20.2) Explain the main reason responsible for the concentration of the iron and steel plants in this region.

नीचे दिए गए मानचित्र का अध्ययन कीजिए और उसके नीचे दिए गए प्रश्नों के उत्तर दीजिए :



- (20.1) छोटा-नागपुर क्षेत्र के तीन राज्यों से सम्बन्धित किन्हीं चार लोहा और इस्पात संयंत्रों के नाम बताइए ।
- (20.2) इस प्रदेश में लोहा और इस्पात संयंत्रों के संकेंद्रित होने का मुख्य कारण स्पष्ट कीजिए ।

Note : The following question is for the **Blind Candidates** only in lieu of Q. No. 20.

नोट : निम्नलिखित प्रश्न केवल **दृष्टिहीन परीक्षार्थियों** के लिए प्रश्न संख्या 20 के स्थान पर है ।

Name the three states each of which has only one iron and steel plant. Also name these iron and steel plants. $1\frac{1}{2}+1\frac{1}{2}$

ऐसे तीन राज्यों के नाम बताइए जिनमें केवल एक-एक लोहा और इस्पात संयंत्र हैं । इन लोहा और इस्पात संयंत्रों के नाम भी लिखिए ।

21. What is subsistence agriculture ? Classify subsistence agriculture into two categories. Write three characteristics of each category. $1+1+3=$

निर्वाह कृषि किसे कहते हैं ? निर्वाह कृषि को दो वर्गों में बाँटिए । प्रत्येक वर्ग की तीन-तीन विशेषताएँ लिखिए ।

22. Name the two major fibre crops of India. Write four characteristics of each crop. $1+2+2=$

भारत की दो प्रमुख रेशेदार फसलों के नाम बताइए । प्रत्येक फसल की चार-चार विशेषताएँ लिखिए ।

23. Explain with examples the significance of service sector in modern economic development of the world. $5\times 1=$

संसार के आधुनिक आर्थिक विकास में सेवा क्षेत्र की सार्थकता को उदाहरणों सहित स्पष्ट कीजिए ।

24. "Trade plays an important role in boosting the economy of a country." Explain this statement with examples. $5\times 1=$

"किसी देश की अर्थव्यवस्था को बढ़ाने में व्यापार महत्वपूर्ण भूमिका अदा करता है ।" इस कथन की उदाहरणों सहित व्याख्या कीजिए ।

25. Define the term migration. What is the difference between internal migration and international migration ? Mention four streams of internal migration in India. $1+2+2=$

प्रवास शब्द की परिभाषा दीजिए । आन्तरिक प्रवास और अन्तर्राष्ट्रीय प्रवास में क्या अन्तर है ? भारत में आन्तरिक प्रवास की चार धाराओं का उल्लेख कीजिए ।

(26.1) On the given political outline map of the **World** (on page 11), the following four features are shown as A, B, C and D.

- (A) The country having the lowest population in Africa
- (B) A major area of mixed farming
- (C) The mega city of China
- (D) New Orleans sea-port

Identify these features and write their correct names on the lines marked against the features.

$$4 \times \frac{1}{2} = 2$$

(26.2) On the given political outline map of **India** (on page 13), locate and label the following with appropriate symbols :

$$3 \times 1 = 3$$

- (i) The state having the highest growth rate of population between 1991 – 2001
- (ii) Ankleshwar oil field
- (iii) The major sea-port located in Orissa

(26.1) दिए गए **संसार** के राजनीतिक रेखा-मानचित्र (पृष्ठ 11 पर), में निम्नलिखित चार लक्षण A, B, C और D से दिखाए गए हैं ।

- (A) अफ्रीका में सबसे कम जनसंख्या वाला देश
- (B) मिश्रित कृषि का एक विशाल प्रदेश
- (C) चीन का मेगा नगर
- (D) न्यू-ऑर्लियन्स समुद्री-पत्तन

इन लक्षणों को पहचानिए और उनके सामने खींची गई रेखाओं पर लक्षणों के सही नाम लिखिए ।

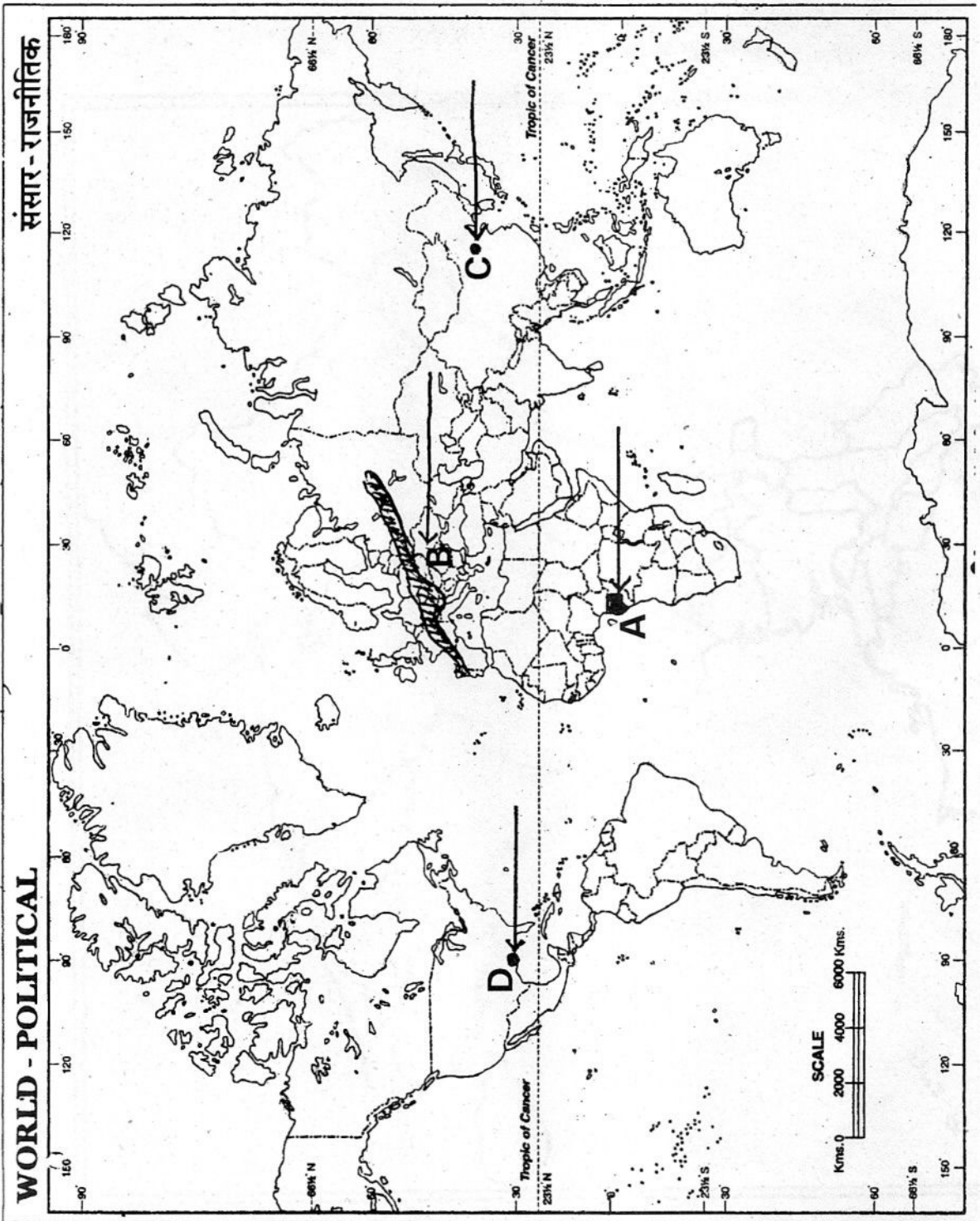
(26.2) दिए गए **भारत** के राजनीतिक रेखा-मानचित्र (पृष्ठ 13 पर), में निम्नलिखित की स्थिति उपयुक्त चिह्नों द्वारा दिखाइए और उनके नाम लिखिए :

- (i) 1991 से 2001 के बीच सर्वाधिक जनसंख्या वृद्धि दर वाला राज्य
- (ii) अंकलेश्वर तेल क्षेत्र
- (iii) उड़ीसा में स्थित प्रमुख समुद्री-पत्तन

Note : The following question is for the **Blind Candidates** only in lieu of Q. No. 26.

नोट : निम्नलिखित प्रश्न केवल **दृष्टिहीन परीक्षार्थियों** के लिए प्रश्न संख्या 26 के स्थान पर है।

- (26.1) Name the country having the lowest population in Africa.
- (26.2) Which is the largest mega city of China ?
- (26.3) Which state of India has the highest growth rate of population between 1991 – 2001 ?
- (26.4) Name any one oil field of Gujarat.
- (26.5) Name the major sea-port located in Orissa. 5
- (26.1) अफ्रीका में सबसे कम जनसंख्या वाले देश का नाम बताइए।
- (26.2) चीन का सबसे बड़ा मेगा नगर कौनसा है ?
- (26.3) भारत के किस राज्य की जनसंख्या वृद्धि दर 1991 से 2001 के बीच सबसे अधिक थी ?
- (26.4) गुजरात के किसी एक तेल क्षेत्र का नाम बताइए।
- (26.5) उड़ीसा में स्थित प्रमुख समुद्री-पत्तन का नाम बताइए।



Outline Map of India (Political)

भारत का रेखा-मानचित्र (राजनीतिक)

